




A. Bulatkan jawapan yang betul.

1. Antara berikut yang manakah benda **bukan** hidup?



2. Kucing tidak mempunyai _____.


A. ekor

B. bulu

C. tanduk

D. mata

3.



Ini adalah _____

A. tangan

B. kepala

C. kaki

D. hidung

4. Kura-kura boleh _____.


A. berlari

B. terbang

C. berenang

D. melompat

5.



Haiwan di atas hidup di _____.


A. sungai

B. laut

C. rumah

D. hutan

6.



Ini adalah _____.

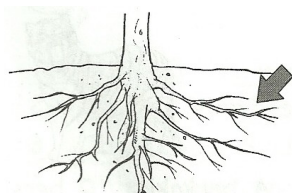
A. pokok pisang

B. pokok kelapa

C. pokok mangga

D. pokok manggis

7.



Bahagian tumbuhan yang ditunjukkan di atas ialah


A. daun

B. bunga

C. batang

D. akar

8.



Rajah di atas menunjukkan bahagian komputer. Namakan.

A. Monitor

B. Papan kekunci

C. Tetikus

D. Unit system

9. Kita menggunakan _____ untuk melihat.

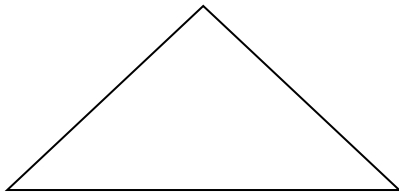
A. mulut

B. hidung

C. mata

D. tangan

10.



Bentuk di atas ialah _____.

A. bulatan

B. segi empat sama

C. segi tiga

D. segi empat tepat

11. Haiwan manakah yang paling kecil?


A. Arnab

B. Beruang

C. Cicak

D. Gajah

12.



Rajah di atas menunjukkan tomato yang sudah masak.

Ia berwarna _____.

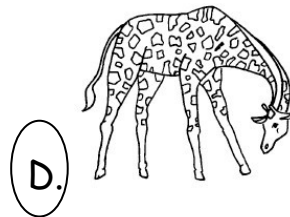


A. ungu

B. biru

C. putih

D. merah

13. Pilih haiwan yang paling tinggi.



14. Kita menggunakan _____ untuk meghidu.

A. mata

B. tangan

C. kaki

D. hidung

15.



Bunga ros _____.

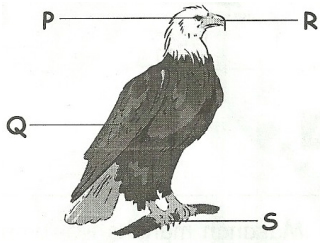
A. berbau busuk

B. berbau harum

C. sangat panas

D. sangat berat

16.



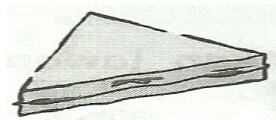
P, Q, R, dan S adalah bahagian tubuh helang.
Yang manakah menunjukkan paruh

- A. P
- B. Q
- C. R
- D. S

17. Deria bau **tidak** boleh _____.

- A. mengelakkan bahaya
- B. mengenalpasti warna objek
- C. mengenalpasti sesuatu objek
- D. membezakan bau wangi atau busuk

18.



Bentuk yang sama seperti objek di atas ialah

- A. 
- B. 
- C. 
- D. 

19.



P - Saya menggunakan telinga

Q - Saya menggunakan mata

R - Saya boleh mendengar

S - Saya boleh melihat

Pilih pernyataan yang betul berdasarkan rajah di atas.

A. **R** dan **S**

B. **P** dan **Q**

C. **Q** dan **S**

D. **P** dan **R**

20.

I -Harimau

II -Kambing

III-Ular

Haiwan manakah yang berkaki ?

A. **I** dan **II**

B. **I** dan **III**


C. **II** dan **III**

D. **I**, **II** dan **III**

(40 markah)

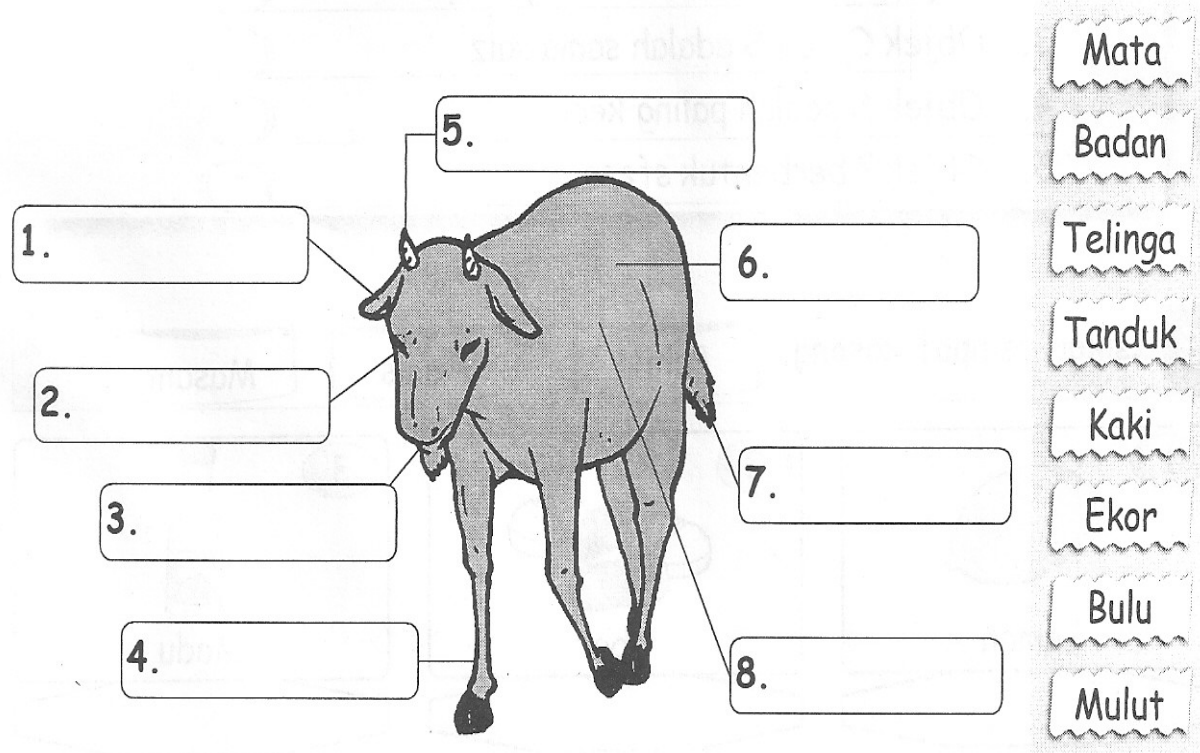
B. Namakan bahagian-bahagian tubuh manusia.

- Kaki
- Kepala
- Mulut
- Mata
- Hidung
- Tangan



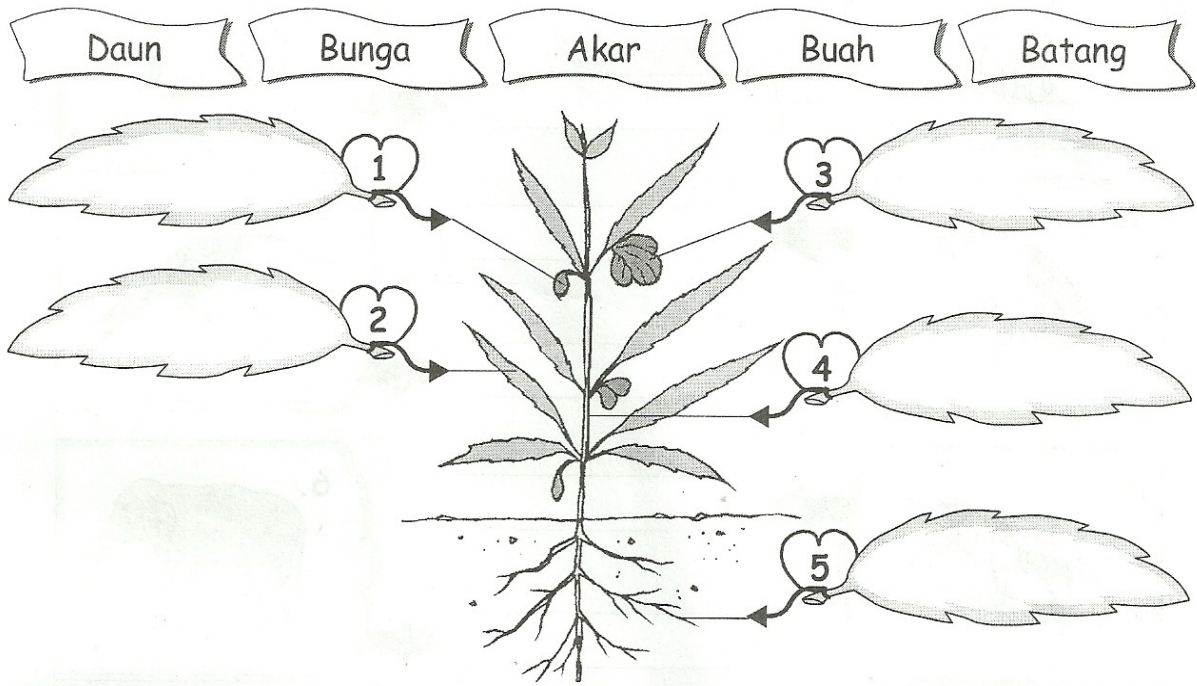
(12 markah)

C. Namakan bahagian-bahagian haiwan.



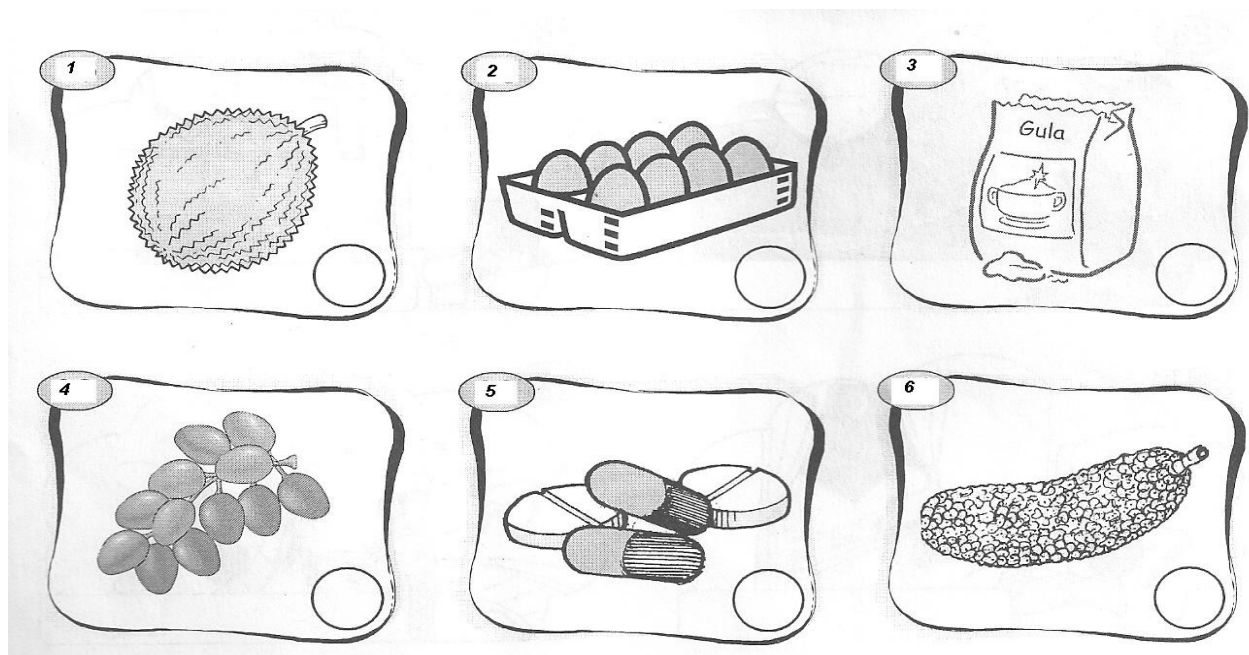
(16 markah)

D. Labelkan bahagian-bahagian tumbuhan.



(10 markah)

E. Tandakan ✓ pada makanan yang berbau harum.
Tandakan ✗ pada makanan yang tidak berbau.



(12 markah)


F. Warnakan gambar mengikut warna yang telah ditetapkan.




Merah



Kuning



Hijau



Ungu



Biru

(10 markah)

SELAMAT BERJAYA...

Disediakan oleh

(RABIAATUL AISHAH AZAHAR)

Disemak oleh

(RAIHAN BT GHAZALI)

Disahkan oleh

()