

Tiap-tiap soalan diikuti oleh empat pilihan jawapan yang berhuruf **A, B, C** dan **D**.
Pilih **satu** jawapan terbaik bagi tiap-tiap soalan dan **hitamkan** ruangan yang sepadan pada kertas jawapan objektif anda.

- 1 Apakah sistem tulisan masyarakat Mesir Purba?
 - A Piktograf
 - B Ideogram
 - C Hieroglif
 - D Cuneiform


- 2 Imhotep mempunyai jasa yang paling besar terhadap tamadun Mesir Purba. Apakah jasa tersebut?
 - A Mencipta tulisan
 - B Mencipta kertas
 - C Membina terusan
 - D Membina piramid

- 3 Apakah kesan peristiwa berikut terhadap Rom?

Pada tahun 509 S.M. masyarakat Latin di Rom di bawah pimpinan golongan patrician telah bangun memberontak

- A Pembentukan republik
 - B Pemulihan kuasa raja
 - C Pengukuhan kuasa konsul
 - D Pengurangan kuasa gereja

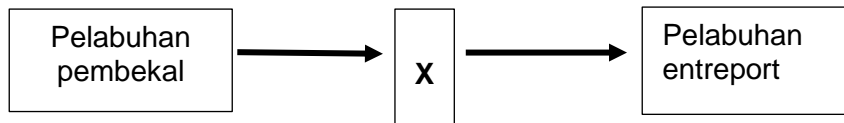
- 4 Gambar 1 berkaitan dengan simbol Yin dan Yang.



Bagaimanakah unsur tersebut memanfaatkan masyarakat Cina hari ini?

- A Mengatur strategi peperangan
- B Memulakan sistem kalendar
- C Mengimbangi alam dan manusia
- D Menjadi asas perubatan tradisional

- 5 Rajah 1 menunjukkan perkembangan pelabuhan dalam kerajaan awal Asia Tenggara.



Bagaimanakah X mendapat statusnya?

- A Kemunculan kerajaan
 B Kemajuan perdagangan
 C Kepadatan penduduk
 D Kerjasama kerajaan luar
- 6 Setiap *datu* yang dilantik dalam kerajaan Srivijaya akan mengikuti upacara angkat sumpah di Telaga Batu, Palembang. Amalan ini berhubungkait dengan nilai
- A Keadilan
 B Toleransi
 C Kepatuhan
 D Taat setia
- 7 Kewibawaan Nabi Muhammad s.a.w sebagai seorang pemimpin yang unggul terbukti sebelum dilantik menjadi rasul. Apakah peristiwa yang menunjukkan kebijaksanaan nabi menyelesaikan masalah dalam masyarakat Arab Quraisy?
- A Mengetuai peperangan Badar
 B Perletakan semula Hajar Aswad
 C Memeterai Perjanjian Hudaibiyah
 D Bertahannuth di Gua Hirak
- 8 Mengapakah masyarakat Arab Jahiliah menentang prinsip persamaan taraf sesama manusia?
- A mementingkan perbezaan darjat
 B mengutamakan paras rupa
 C mewujudkan jurang pekerjaan
 D menekankan amalan tradisi
- 9 Nabi Muhammad s.a.w telah mengadakan dua perjanjian dengan orang Madinah sebelum hijrah. Namakan tempat peristiwa itu berlaku.
- A Mina
 B Hijaz
 C Aqabah
 D Taif

- 10 Apakah faktor penting pembukaan kota Makkah oleh orang Islam pada tahun 630 M?
- A Pengislaman Abu Sufian dan Abbas
 - B Sokongan penduduk Makkah
 - C Kelemahan tentera Arab Quraisy
 - D Makkah menjadi tumpuan umat Islam
- 11 Bagdad telah menjadi pusat intelektual dan penyebaran ilmu sehingga tertubuhnya *baitulhikmah*.
Apakah kegiatan utama institusi keilmuan tersebut?
- A Melatih pemimpin negara dalam pentadbiran
 - B Penterjemahan karya falsafah dan sains
 - C Menyediakan latihan ketenteraan
 - D Penulisan karya kesusasteraan

- 12 Maklumat berikut berkaitan pertembungan tamadun Islam dengan tamadun lain di dunia.

- | |
|---|
| <ul style="list-style-type: none">• Perluasan kawasan penyebaran Islam• Perluasan kawasan pemerintahan Islam |
|---|

Apakah kesan pertembungan tersebut?

- A Penguasaan perdagangan oleh pedagang Islam
 - B Politik orang Islam dapat diperkukuhkan
 - C Sistem ketenteraan semakin mantap
 - D Kebangkitan semangat jihad
- 13 Apakah persamaan tokoh-tokoh berikut?
- | |
|---|
| <ul style="list-style-type: none">• John Crawford• Emanuel Gadinho Eredia• Snouck Hurgronje |
|---|
- A Memperkenalkan sistem birokrasi Barat
 - B Menulis buku berkaitan pengembaraan
 - C Membicara teori kedatangan Islam
 - D Menjalan perdagangan di rantau Asia

- 14 Kerajaan Islam berikut memberi pengaruh yang kuat terhadap kerajaan Islam di Asia Tenggara.

- | |
|--|
| <ul style="list-style-type: none"> • Kerajaan Bani Abbasiyah • Kerajaan Turki Uthmaniyah |
|--|

Apakah kesan pengaruh tersebut?

- A Pentadbiran tradisional terhapus
 B Perluasan empayar Islam
 C Majlis Agama Islam dibentuk
 D Institusi kesultanan diamalkan
- 15 Mengapakah konsep daulat penting dalam sistem politik Melayu tradisional?
- I Pemberian kuasa kepada pembesar
 II Mengukuh kedudukan raja
 III Mengikat rakyat dengan pemerintah
 IV Pengaruh kuasa asing disekat
- A I dan II
 B I dan IV
 C II dan III
 D III dan IV
- 16 Maklumat berikut berkaitan dengan sistem pendidikan di Tanah Melayu selepas kedatangan Islam.

- | |
|--|
| <ul style="list-style-type: none"> • Berdasarkan sukatan pelajaran • Dilaksanakan secara kelas • Diawasi oleh mudir |
|--|

Apakah sistem pendidikan tersebut?

- A Sistem pondok
 B Sistem madrasah
 C Pendidikan di masjid
 D Pengajaran di istana
- 17 Sistem feodal yang diamalkan di Eropah mempunyai persamaan dengan sistem feodal dalam masyarakat Melayu tradisional. Apakah persamaan tersebut?
- A Rakyat memilih pemerintah
 B Raja pemilik tanah secara mutlak
 C Golongan agama mengetuai pentadbiran
 D Golongan petani meningkat taraf hidup

- 18 Apakah implikasi Akta Antipenggabungan (Anti-Combination Act) yang dilaksanakan di Britain pada permulaan zaman Revolusi Perindustrian?
- A Pengambilan buruh asing
 - B Masa bekerja lebih panjang
 - C Gaji pekerja tidak meningkat
 - D Wanita dibenar bekerja

- 19 Jadual 1 menunjukkan peningkatan nilai eksport getah di Tanah Melayu pada awal abad ke-20.

Tahun	Nilai eksport (dalam pound sterling)
1932	9 077 000
1933	14 252 000
1934	32 557 000

Mengapakah berlaku peningkatan nilai eksport tersebut?

- A Peningkatan permintaan dunia
 - B Ladang-ladang baru dibuka
 - C Teknologi moden diperluaskan
 - D Penggunaan sistem torehan ibidem
- 20 Akta Tanah Simpanan Melayu telah diperkenalkan pada 25 November 1913. Apakah kesan akta tersebut terhadap orang Melayu?
- A Taraf hidup meningkat
 - B Membayar cukai yang tinggi
 - C Menceburi ekonomi dagangan
 - D Kekal dengan pertanian tradisional
- 21 Apakah implikasi daripada slogan berikut?

- | |
|--|
| <ul style="list-style-type: none"> • Beban orang putih • Tugas menyebarkan tamadun |
|--|

- A Mengatasi masalah penduduk
- B Menguasai tanah jajahan
- C Memajukan ekonomi
- D Memberi bantuan

22 Jadual 2 berkaitan dasar ekonomi penjajah di Asia Tenggara

Dasar Ekonomi Penjajah	Negara
Sistem Tanaman Paksa	Indonesia
Sistem Polo	Filipina

Apakah kesan pengenalan sistem tersebut terhadap penduduk?

- A Penindasan penduduk peribumi
 B Pengangguran semakin meningkat
 C Meningkatkan ekonomi
 D Taraf hidup meningkat
- 23 Mengapakah Penghulu Dol Said melakukan penentangan terhadap British di Naning antara tahun 1831 hingga tahun 1833?
- A Pengenalan peraturan tanah
 B Dikenakan bayaran ufti
 C Diwajibkan kerahan tenaga
 D Pelaksanaan undang-undang barat
- 24 Bagaimanakah British menghalang Gerakan Islah di Negeri-Negeri Melayu pada awal abad ke-20?
- A Mengugut pemimpin
 B Menghalang peluang belajar
 C Menyekat kegiatan dakwah
 D Melarang penubuhan madrasah
- 25 Senarai berikut merupakan peristiwa yang berlaku di Barat pada penghujung abad ke 18 dan ke 19.
- | |
|---|
| <ul style="list-style-type: none"> • Revolusi Inggeris 1688 • Revolusi Perancis 1789 • Perang Kemerdekaan Amerika 1776 |
|---|
- Apakah kesan peristiwa tersebut ke atas negara Barat?
- A Pembentukan negara bangsa moden
 B Penguatan politik negara feudal
 C Bermulanya dasar perluasan kuasa
 D Berakhirnya sistem pemerintahan beraja
- 26 Bagaimanakah Sultan Abu Bakar bertindak menghalang British daripada menguasai negeri Johor?
- A Memerangi British
 B Menyatupadukan kaum
 C Menggubal perlembagaan bertulis
 D Mendapat bantuan negara jiran

- 27 Maklumat berikut merujuk kepada reaksi penduduk Tanah Melayu terhadap pengenalan Malayan Union.

Orang Melayu membantah tindakan Sir Harold Mac Michael yang mengugut Raja-Raja Melayu

Apakah ugutan yang dimaksudkan?

- A Dibuang negeri
B Diancam bunuh
C Dihukum penjara
D Diturunkan takhta
- 28 Apakah faktor yang menyebabkan British menggantikan Malayan Union dengan Persekutuan Tanah Melayu 1948?
- A Akur tuntutan golongan radikal
B Memenuhi desakan orang dagang
C Kekuatan perpaduan orang Melayu
D Pertambahan bilangan orang dagang
- 29 British melaksanakan Sistem Ahli dari Januari 1951 hingga Jun 1955. Apakah alasan British menyokong Sistem Ahli?
- A Menjimatkan perbelanjaan
B Meningkatkan ekonomi rakyat
C Menjamin kerakyatan sama rata
D Mengurangkan tekanan pihak komunis
- 30 Apakah sumbangan tokoh-tokoh berikut?

- Tunku Abdul Rahman Putra al-Haj
- Tun H. S. Lee
- Tun V. T Sambanthan

- A Kemerdekaan negara
B Menentang Malayan Union
C Anggota Sistem Ahli
D Presiden UMNO

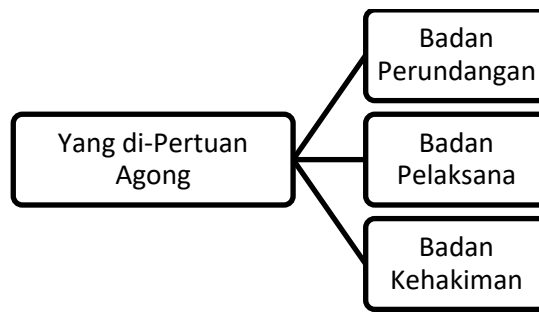
- 31 Maklumat berikut berkaitan dengan perkembangan politik di Singapura.

Lee Kuan Yew mencadangkan supaya Singapura digabungkan dengan Tanah Melayu.

Apakah tujuan Lee Kuan Yew membuat cadangan tersebut?

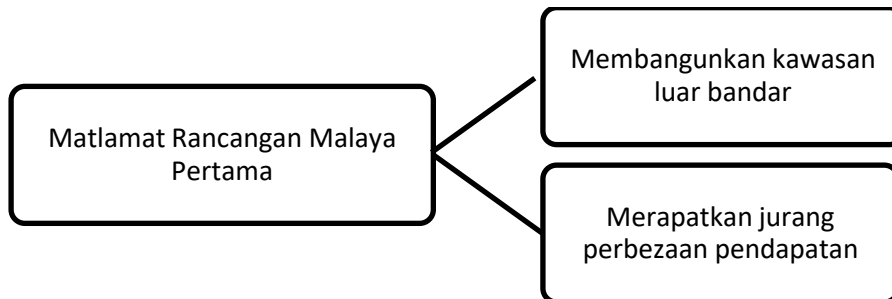
- A Mengawal kemasukan imigran
 - B Melemahkan parti berhaluan kiri
 - C Memperkukuhkan semangat setia kawan
 - D Mengamalkan konsep pengagihan kuasa
- 32 Mengapakah Indonesia membantah pembentukan Malaysia?
- A Menjejaskan perkembangan ekonomi
 - B Terpengaruh dengan Parti Komunis Indonesia
 - C Menggagalkan matlamat penubuhan Melayu Raya
 - D Mencabar kedudukan Indonesia sebagai negara besar
- 33 Apakah tugas Suruhanjaya Cobbold dalam menjayakan pembentukan Malaysia?
- A Memujuk Singapura menyertai Persekutuan
 - B Menggalakkan penubuhan Parti Perikatan
 - C Melaksanakan sistem birokrasi Barat
 - D Meninjau pandangan penduduk di Sabah dan Sarawak
- 34 Antara yang berikut, yang manakah berkaitan dengan hak Yang di-Pertuan Agong dalam Perlembagaan Malaysia?
- I Bertindak atas nasihat Perdana Menteri
 - II Boleh menggunakan kuasa budi bicara
 - III Berkuasa penuh dalam hal kewangan negara
 - IV Berhak membatalkan sesuatu undang-undang
- A I dan II
 - B I dan IV
 - C II dan III
 - D III dan IV

35 Rajah 2 berkaitan dengan sistem pemerintahan dalam Persekutuan Malaysia.



Mengapakah Malaysia mengamalkan sistem pemerintahan tersebut?

- A Pemerintahan raja berkuasa mutlak
 - B Konsep pengasingan kuasa
 - C Prinsip negara kesatuan
 - D Dasar pintu terbuka
- 36 Apakah bidang kuasa Badan Kehakiman dalam sistem pemerintahan di Malaysia?
- A Melantik Jemaah Menteri
 - B Menggubal undang-undang
 - C Menentukan kesahihan undang-undang
 - D Menentukan bidang kuasa Yang di-Pertuan Agong
- 37 Rajah 3 menerangkan matlamat Rancangan Malaya Pertama



Mengapakah rancangan tersebut gagal dicapai?

- A Bahan mentah terhad
- B Kelemahan pentadbiran
- C Ancaman komunis
- D Kekurangan kemudahan asas

38 Mengapakah kerajaan menubuhkan institusi berikut?

- Dewan Bahasa dan Pustaka
- Universiti Kebangsaan Malaysia

- A Meningkatkan kadar celik huruf
- B Menggalakkan kemasukan pelajar asing
- C Meningkatkan kemahiran pelbagai bahasa
- D Memperkasa kedudukan Bahasa Kebangsaan

39 Selepas merdeka, Malaysia telah menandatangani perjanjian dengan negara-negara berikut.

- Britain
- Australia
- New Zealand

Mengapakah perjanjian tersebut ditandatangani?

- A Memperkuatkan pertahanan
- B Menambah aset ketenteraan
- C Mengekalkan hubungan diplomatik
- D Menggalakkan kemasukan pelabur asing

40 Negara berikut telah menganggotai Kumpulan 15 (G15).

- Malaysia
- Yugoslavia
- Nigeria

Apakah hasrat negara-negara tersebut?

- A Mengawal kawasan perairan bersama
- B Mewujudkan pakatan tentera antarabangsa
- C Mewujudkan sistem mata wang yang seragam
- D Mengurangkan pergantungan terhadap negara maju

KERTAS PEPERIKSAAN TAMAT