

1225/1  
Pendidikan Moral  
2020  
2 ½ jam



MAJLIS PENGETUA-PENGETUA SEKOLAH MENENGAH  
(CAWANGAN PULAU PINANG)

MODUL SOALAN BERFOKUS SPM 2020  
PENDIDIKAN MORAL 1225/1

Dua jam tiga puluh minit

JANGAN BUKA KERTAS SOALAN INI SEHINGGA DIBERITAHU

ARAHAN:

1. Kertas soalan ini mengandungi dua bahagian: **Bahagian A dan Bahagian B**
2. Jawab **semua** soalan dalam **Bahagian A** dan **dua soalan** daripada **Bahagian B**.
3. Jawapan anda hendaklah ditulis pada ruang yang disediakan dalam kertas soalan ini.
4. Markah yang diperuntukkan bagi setiap soalan atau ceraihan soalan ditunjukkan dalam kurungan.
5. Jika anda hendak menukar jawapan, batalkan dengan kemas jawapan yang telah dibuat. Kemudian tulis jawapan yang baharu.

Untuk Kegunaan Pemeriksa			
Bahagian	Soalan	Markah Penuh	Markah Diperoleh
A	1	10	
	2	10	
	3	10	
	4	10	
	5	10	
	6	10	
	7	10	
	8	10	
B	9	10	
	10	10	
	11	10	
Jumlah		100	

Kertas soalan ini mengandungi 22 halaman bercetak

[LIHAT HALAMAN SEBELAH]  
SULIT


SULIT

SULIT

Bahagian A  
[80 markah] Jawab  
semua soalan

(d)

1 Maklumat di bawah berkaitan dengan fenomena Tik Tok .

 <p>Tik Tok</p>	<p>Tik Tok merupakan aplikasi yang popular sejak kebelakangan ini kerana kecanggihan teknologinya dan mudah untuk digunakan. Pengguna Tik Tok boleh dikatakan daripada semua peringkat umur terutama golongan remaja. Aplikasi tular ini mula meresahkan orang ramai terutamanya ibu bapa yang melihat aplikasi ini memberi pengaruh yang besar terhadap kehidupan anak-anak mereka.</p>
--	--

(a) Nyatakan **dua** nilai yang patut diamalkan oleh pengguna Tik Tok.

- (i) .....
- (ii) ..... [2 markah]

(b) Apakah keistimewaan aplikasi Tik Tok?

- (i) .....
- (ii) ..... [2 markah]

(c) Jelaskan **dua** sebab fenomena Tik Tok telah menimbulkan kebimbangan dalam kalangan masyarakat

- (i) .....
- (ii) ..... [4 markah]

(d) Cadangkan **satu** langkah yang boleh dilakukan oleh setiap pihak yang berikut dalam menangani fenomena Tik Tok dalam kalangan remaja.

(i) Ibu bapa

.....  
.....

**[1 markah]**

(ii) Masyarakat

.....  
.....

**[1 markah]**

**SULIT**

2 Situasi di bawah berkaitan dengan keadaan John yang terlalu sibuk dengan pekerjaannya.



John sudah empat tahun bekerja di Pulau Pinang. Dia tidak pernah pulang ke kampungnya di Sabah walaupun untuk meraikan perayaan Krismas. John selalu memberikan alasan bahawa dia sibuk dengan pekerjaannya. Pada tahun ini, sekali lagi dia tidak dapat pulang meraikan perayaan tersebut bersama keluarganya. Dia telah bercadang untuk meraikan perayaan tersebut bersama rakannya di Pulau Pinang.

(a) Pada pandangan anda, apakah konflik yang mungkin menyelubungi ahli keluarga John? Beri alasan anda.

.....  
.....  
..... [2 markah]

(b) Wajarkah John mementingkan pekerjaannya melebihi ahli keluarganya? Kemukakan hujah anda secara terperinci berdasarkan nilai murni yang anda pelajari selain dari nilai rasional.

.....  
.....  
..... [4 markah]

(c) Sekiranya anda adalah abang John, bagaimanakah anda memujuk John untuk pulang meraikan perayaan Krismas bersama keluarga?

.....  
..... [2 markah]

(d) Selain daripada situasi di atas, apakah punca lain yang boleh merenggangkan hubungan kekeluargaan?

(i).....  
.....  
(ii).....  
..... [2 markah]

**Maklumat 1**



Kempen Bumi Hijau merupakan satu usaha murni pihak kerajaan untuk memastikan bumi kita terselamat daripada kemusnahan.

**Maklumat 2**

Berikut adalah antara program amalan hijau yang boleh diamalkan sebagai usaha melestarikan alam sekitar.



Menjimatkan penggunaan kertas dengan menggunakan kedua-dua belah muka surat



Menanam pokok



Mengurangkan penggunaan kertas tisu dan plastik

(a) Berdasarkan maklumat 1, apakah mesej yang ingin disampaikan melalui poster tersebut?

[1 markah]

(b) Berdasarkan maklumat 1, terangkan manfaat yang diperoleh melalui kempen tersebut.

(i).....  
.....  
.....

(ii).....  
.....  
.....

[4 markah]

**SULIT**

(c) Berdasarkan maklumat 2, bagaimanakah Program Amalan Hijau di sekolah dapat memberikan kesedaran kepada pelajar tentang pentingnya pemeliharaan bahan sumber yang terhad? Jelaskan jawapan anda berdasarkan nilai mumi dalam bidang alam sekitar.

.....  
.....  
.....  
.....  
.....

[2 markah]

(d) Selain daripada aktiviti yang dinyatakan dalam maklumat 2, berikan **dua** aktiviti lain yang boleh dilaksanakan di sekolah sempena kempen bumi hijau tersebut.

(i).....  
.....  
.....  
.....  
(ii).....  
.....  
.....

[2 markah]

(e) Apakah rumusan yang dapat anda nyatakan daripada keseluruhan maklumat yang diberi?

.....  
.....  
.....  
.....

[1 markah]

**SULIT**

4.

Pesawat tanpa pemandu (UAV) atau dron semakin popular dan kerap digunakan dalam kehidupan harian. Peralatan canggih ini yang pada asalnya dicipta bagi kegunaan ketenteraan dan seterusnya berkembang kepada kegunaan orang awam sebagai hobi dan rekreasi serta komersial terutama dalam merakam panorama dari sudut tinggi (*high angle*). Di Malaysia dron bermula sebagai aktiviti sukan bagi mengisi masa lapang dan kini dron digunakan dalam kegiatan harian.

- (a) Selain dari nilai dalam bidang perkembangan diri, huraikan **satu** nilai yang perlu diamalkan oleh mereka yang menjadikan dron sebagai satu daripada aktiviti sukan dan rekreasi.

.....

.....

.....

[3 markah]

- (b) Jelaskan bagaimana dron membantu manusia membuat dan menyelesaikan kerja serta masalah yang dihadapi dalam kehidupan manusia berkaitan dengan bidang berikut.

- (i) Pertanian

.....

.....

.....

[1markah]

- (ii) Kewartawanan

.....

.....

.....

[1markah]

- (iii) Mencari dan menyelamat

.....

.....

.....

[1markah]

**SULIT**

- (c) "Penggunaan dron di kawasan pengkalan tentera dan kawasan lapangan terbang adalah dilarang kerana melibatkan faktor keselamatan. Sesiapa yang melanggar peraturan ini boleh dikenakan tindakan".  
Patutkah peraturan ini diwujudkan. Beri alasan anda secara terperinci.

.....

.....

.....

.....

.....

[2 markah]

- (d) Nora meminati seni fotografi. Pada setiap hujung minggu dia akan bersama- sama kumpulan peminat seni fotografi akan mengambil gambar- gambar yang menarik. Nora bercadang untuk menggunakan dron bagi mengambil gambar dari sudut tinggi supaya gambar yang diambil lebih menakjubkan. Nora berhasrat untuk membeli dron tetapi dibantah oleh ibunya. Sekiranya anda adalah ibu Nora, bagaimana anda menasihati Nora.

.....

.....

.....

.....

[2 marka



SULIT

5.

**AKTA GOLONGAN KURANG UPAYA 2002**

- Hak sama rata di bawah undang-undang
- Menghapuskan diskriminasi
- Menggalakkan pengiktirafan

*Sumber: Portal Jabatan Kebajikan Masyarakat*

(a) Pihak Jabatan Kebajikan Masyarakat telah mengamalkan nilai menghormati hak golongan kurang berupaya. Jelaskan maksud nilai tersebut.

.....  
.....  
.....

[2 markah]

(b) Berikan sebab masyarakat perlu menghormati hak golongan kurang upaya (OKU) yang termaktub dalam akta tersebut.

(i).....  
.....  
(ii).....  
.....

[2 markah]

(c) Kawan anda, seorang Orang Kurang Upaya (OKU) telah dieksploitasi oleh satu sindiket meminta derma di sekitar bandar tempat anda tinggal. Apakah tindakan yang boleh anda lakukan untuk menyelamatkan rakan anda dari sindiket tersebut?

.....  
.....  
.....

[2 markah]

**SULIT**

(d) Ramalkan kesan sekiranya golongan kurang upaya (OKU) diabaikan.

- (i) .....
- .....
- (ii) .....
- .....

[2 markah]

(e) Gambar-gambar berikut menunjukkan contoh pekerjaan yang diceburi oleh golongan kurang upaya



Cadangkan **dua** cara kerajaan boleh membantu golongan kurang upaya dalam menceburi dunia pekerjaan setelah mereka tamat latihan di pusat kemahiran.

- (i) .....
- .....
- .....
- (iii) .....
- .....
- .....

[2 markah]

6 Maklumat di bawah berkaitan dengan penghinaan terhadap Jalur Gemilang

- Dibakar
- Dikibarkan secara terbalik
- Dibuang dalam tong sampah
- Menggantikan nama Jalur Gemilang kepada Sang Saka Malaya

(a) Perkara tersebut boleh diatasi. Jelaskan berdasarkan nilai murni yang anda pelajari selain daripada nilai berkaitan dengan bidang patriotisme.

.....  
.....  
.....  
.....

[3 markah]

(b) Apakah tindakan yang boleh dilakukan ke atas mereka yang telah menghina Jalur Gemilang seperti di 6(a)?


(i).....  
.....  
.....  
(ii).....  
.....  
.....

[2 markah]


(c) Nyatakan **dua** kepentingan menghormati Jalur Gemilang.

(i).....  
.....  
(ii).....  
.....

[2 markah]



Kutub Selatan



Kutub Utara



Gunung Annapura



Gunung Everest

Apakah perasaan anda apabila melihat Jalur Gemilang dikibarkan di tempat-tempat berikut. *Jelaskan jawapan anda*

.....  
.....  
.....  
.....

[2 markah]

(e) Selain daripada Jalur Gemilang, namakan **satu** lagi identiti negara.

(f) .....

[1 markah]

**SULIT**

- 7 Keratan akhbar berikut berkaitan dengan kemasukan pendatang asing tanpa izin (PATI) ke negara Malaysia



- (a) Pada pandangan anda, mengapakah pendatang asing menjadikan Malaysia sebagai tumpuan mereka untuk berhijrah.

(i) .....

.....

.....

(ii) .....

.....

.....

[2 markah]



**SULIT**

8 Berikut adalah berkaitan dengan aktiviti basikal lajak.



Gambar 1



Gambar 2

(a) Namakan satu akta yang digunakan untuk menahan penunggang basikal lajak.

[1 markah]

(b) Selain dari nilai bertanggungjawab, terangkan **dua** nilai lain yang perlu diamalkan oleh penunggang basikal lajak.

(i)

(ii)

[4 markah]

**SULIT**

(c) Berdasarkan Gambar 1, aksi mereka amat membahayakan pengguna jalan raya. Mengapa mereka berani bertindak sedemikian?

- (i) .....
- .....
- .....
- (ii) .....
- .....
- .....

[2 markah]

(d) Berdasarkan Gambar 2, apakah iktibar yang boleh diambil dari tragedi tersebut?

- (i) .....
- .....
- .....
- (ii) .....
- .....
- .....
- (iii) .....
- .....
- .....

[3 markah]




**Bahagian B**

[20 markah]

*Jawab mana-mana dua soalan daripada bahagian ini*

- 9 Maklumat di bawah berkaitan dengan permainan tradisional yang semakin dilupakan oleh masyarakat



Wajarkah tindakan pihak-pihak tertentu untuk mempopularkan kembali permainan tradisional ini dalam kalangan masyarakat. Jawapan anda mesti disokong dengan nilai-nilai murni yang dipelajari. [10 markah]

.....

.....

.....

.....

.....

.....

.....

.....

.....

.....



**SULIT**

**1225/1**

11. Gambar di bawah menunjukkan beberapa logo kedai yang terlibat dalam sejenis perniagaan yang amat popular pada masa kini di Malaysia.



Namakan jenis perniagaan tersebut.  
Bagaimanakah jenis perniagaan ini mengubah gaya kita menguruskan kehidupan seharian.  
Kemukakan hujah anda secara terperinci.

[10 markah]

.....

.....

.....

.....

.....

.....

.....

.....

.....

.....

.....

.....

.....

.....

.....

.....

.....

.....

.....

.....

.....

.....

.....