

PEPERIKSAAN PERCUBAAN SPM

SIJIL PELAJARAN MALAYSIA
GEOGRAFI
Kertas 2
Oktober 2020

2280/2

2 jam

Dua jam

JANGAN BUKA KERTAS SOALAN INI SEHINGGA DIBERITAHU

1. Tulis nombor kad pengenalan dan angka giliran anda pada petak yang disediakan.
2. Kertas soalan ini mengandungi dua bahagian: **Bahagian A** dan **Bahagian B**.
3. Jawab semua soalan dalam **Bahagian A** dan **tiga** soalan daripada **Bahagian B**.
4. Jawapan bagi **Bahagian B** hendaklah ditulis pada ruang yang disediakan dalam kertas soalan.
5. Jawapan bagi **Bahagian B** hendaklah ditulis dalam buku jawapan yang dibekalkan oleh pengawas peperiksaan. Sekiranya ruang dalam buku jawapan tidak mencukupi, sila dapatkan helaian tambahan daripada pengawas peperiksaan.
6. Jawapan bagi **soalan 8(a)** hendaklah ditulis dalam kertas graf yang dibekalkan oleh pengawas peperiksaan.
7. Ceraikan **Bahagian B** daripada kertas soalan ini. Ikat buku jawapan bersama-sama kertas soalan ini dan serahkan kepada pengawas peperiksaan pada akhir peperiksaan.
8. Markah yang diperuntukkan bagi setiap soalan atau ceraian soalan ditunjukkan oleh kurungan
9. Anda dibenarkan menggunakan kalkulator saintifik dan alatan geometri

Untuk Kegunaan Pemeriksa			
Kod Pemeriksa :			
Bahagian	Soalan	Markah Penuh	Markah Diperoleh
A	1	3	
	2	2	
	3	6	
	4	4	
	5	5	
B	6	10	
	7	10	
	8	20	
	9	20	
	10	20	
	11	20	
Jumlah		100	

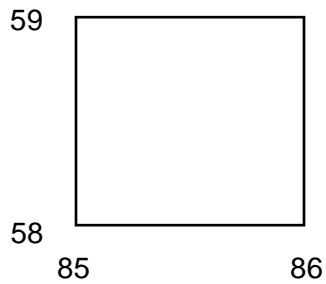
Kertas soalan ini mengandungi **10** halaman bercetak

Bahagian A

[40 markah]

Jawab **semua** soalan

Soalan 1 hingga **Soalan 5** berdasarkan peta topo siri 2280/2/2018. Kaji peta ini dengan teliti sebelum menjawab soalan berikut.



1 (a) Berapakah ketinggian titik tanda tinggi Bukit Jeram dalam segi empat grid di atas?
meter.
 [1 markah]

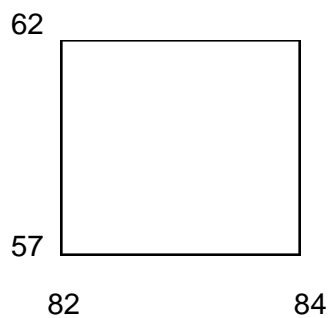
(b) Nyatakan rujukan grid enam angka titik tanda tinggi tersebut.

 [2 markah]

2 Berapakah bearing Bukit Lentik (RG858523) dari Bukit Lurus (RG876547)?

 [2 markah]

Soalan 3 berdasarkan segi empat grid berikut.



3 (a) Luas kawasan hutan di bahagian barat laut peta ialah
 [2 markah]

(b) Mengapakah petempatan tidak berkembang di bahagian barat peta. Jelaskan alasan anda.

.....
.....
.....
.....
.....
.....

[4 markah]

4 (a) Namakan bentuk muka bumi pinggir pantai di RG901555.

.....

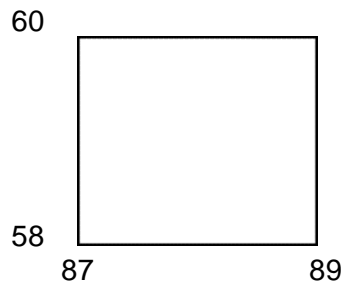
[1 markah]

(b) Jika anda salah seorang penduduk yang tinggal di Kampung Pesisir di RG9054, Mengapakah industri kecil dan sederhana boleh dimajukan di kampung anda. Kemukakan bukti yang menyokong pernyataan anda.

.....
.....
.....
.....

[3 markah]

Soalan 5 berdasarkan segi empat grid berikut.



5 (a) Apakah pola petempatan di Kg. Lama pada segi empat grid di atas?

.....
[1 markah]

(b) Terangkan faktor yang mempengaruhi peletakan pola petempatan di kawasan tersebut.

.....
.....
.....
.....
.....
.....
[4 markah]

Soalan 6 berdasarkan Foto 1 dan Foto 2



Foto 1



Foto 2

6 (a) Namakan masalah alam sekitar yang berlaku dalam Foto 1 dan Foto 2.

.....
[1 markah]

(b) Nyatakan faktor berlakunya masalah alam sekitar tersebut di Malaysia.

(i).....

(ii).....

[2 markah]

(c) Terangkan kesan masalah alam sekitar tersebut terhadap kelestarian alam sekitar dan manusia.

.....
.....
.....

[3 markah]

(d) Cadangkan langkah-langkah efektif untuk mengurangkan kesan akibat masalah alam sekitar tersebut.

.....
.....
.....
.....

[4 markah]

Soalan 7 berdasarkan Foto 3 di bawah.



Foto 3

7 (a) Namakan fenomena cuaca pada Foto 3.

.....
[1 markah]

(b) Bagaimanakah fenomena tersebut berlaku?

(i).....

(ii).....

[2 markah]

(c) Terangkan impak fenomena tersebut terhadap kehidupan penduduk bandar?

.....
.....
.....
.....

[4 markah]

(d) Sekiranya anda seorang pegawai Jabatan Alam Sekitar, bagaimanakah kesan fenomena seperti Foto 3 dapat diminimumkan?

.....
.....
.....
.....

[3 markah]

Bahagian B

[60 markah]

Jawab mana-mana tiga soalan daripada bahagian ini.

- 8 Jadual 1 menunjukkan taburan penduduk di luar bandar mengikut kumpulan etnik pada tahun 2013 di Malaysia.

Kumpulan Etnik	Peratus (%)
Bumiputera	57.3
Cina	16.3
India	10.2
Lain-lain	7.0
Bukan Warganegara	9.2
Jumlah	100

Jadual 1

- (a) Berdasarkan Jadual 1, lukiskan carta pai bagi menunjukkan taburan penduduk di luar bandar mengikut kumpulan etnik pada tahun 2013 di Malaysia. Gunakan jejari 5 cm untuk membina carta pai anda dengan menggunakan kertas graf. [8 markah]
- (b) Terangkan faktor yang mempengaruhi peletakan petempatan luar bandar. [6 markah]
- (c) Huraikan usaha bagi mengurangkan migrasi penduduk dari kawasan luar bandar ke bandar utama di Malaysia. [6 markah]
- 9 (a) Senaraikan **empat** jenis tanah yang terdapat di Malaysia. [4 markah]
- (b) Jelaskan kepentingan penggunaan sumber tanah terhadap pembangunan ekonomi di Malaysia. [4 markah]
- (c) "Penerokaan sumber tanah tanpa kawalan di Malaysia telah memberi impak yang besar terhadap alam sekitar". Setujukah anda dengan pernyataan tersebut? Kemukakan pandangan anda. [6 Markah]
- (d) Kemukakan cadangan yang boleh diambil dalam melestarikan sumber tanah di Malaysia menjelang tahun 2025. [6 markah]

- 10 (a) Di atas Peta 1, di halaman 10, namakan:
- (i) Kawasan Pelancongan Bebas Cukai bertanda **P**
 - (ii) Lokasi ekopelancongan bertanda **Q**
 - (iii) Taman Negara bertanda **R**
 - (iv) Lokasi agropelancongan bertanda **S**
- [4 markah]
- (b) Mengapakah pantai dan pulau menjadi tarikan utama kedatangan pelancong luar negara ke Malaysia?
- [4 markah]
- (c) Penularan wabak penyakit seperti Covid-19 telah menyebabkan kedatangan pelancong ke Malaysia semakin merosot. Apakah kesan kemerosotan dalam sektor pelancongan terhadap pembangunan negara Malaysia?
- [6 markah]
- (d) Wajarkah kerajaan mengehendkan kegiatan agropelancongan di kawasan tanah tinggi di Malaysia?
Berikan alasan anda.
- [6 markah]

Foto 4 menunjukkan kepelbagaian perkhidmatan dalam e-dagang.



Foto 4

- 11 (a) Nyatakan **empat** kegiatan ekonomi yang tergolong dalam sektor tertier di Malaysia. [4 markah]
- (b) Terangkan faktor yang mempengaruhi perkembangan perkhidmatan e-dagang di Malaysia? [6 markah]
- (c) Pada pendapat anda, wajarkah perkhidmatan e-dagang diperkembang bagi menjana pembangunan ekonomi negara Malaysia? [6 markah]
- (d) Nyatakan halangan-halangan dalam perkembangan sistem telekomunikasi di Malaysia. [4 markah]

KERTAS SOALAN TAMAT

No. Kad Pengenalan : Angka Giliran :

GEOGRAFI KERTAS 2
Peta Malaysia untuk Soalan No. 10 (a)
(Hendaklah diikat bersama-sama dengan buku jawapan)



P	
Q	

R	
S	