



NAMA :

TINGKATAN :

**SEKTOR PENDIDIKAN ISLAM
JABATAN PENDIDIKAN KELANTAN**

5226/1

**PEPERIKSAAN PERCUBAAN SPM 2020
TASAWWUR ISLAM**

Kertas 1

Oktober

2020

1 ¼ jam

Satu jam lima belas minit

JANGAN BUKA KERTAS SOALAN INI SEHINGGA DI BERITAHU

1. Kertas ini mengandungi **dua bahagian** : **Bahagian A** dan **Bahagian B**.
2. Jawab **semua** bahagian. **Bahagian A** mengandungi **20** soalan. Jawab setiap soalan dengan menghitamkan ruangan yang betul di halaman 9 dalam kertas soalan ini.
3. **Bahagian B** mengandungi **20** soalan. Jawab semua soalan. Jawapan anda hendaklah di tulis pada ruangan jawapan yang disediakan dalam kertas soalan ini.
4. Anda dinasihati supaya mengambil masa 30 minit untuk menjawab soalan **Bahagian A** dan 45 minit untuk **Bahagian B**.

Untuk Kegunaan Pemeriksa			
Nama Pemeriksa :			
Bahagian	Soalan	Markah Penuh	Markah Diperoleh
A	1 - 20	20	
B	21 - 40	20	
Jumlah		40	

Kertas soalan ini mengandungi 10 halaman bercetak

Bahagian A
[20 markah]
Jawab Semua Soalan

1. Antara yang berikut yang manakah **bukan** alam ghaib?
 - A. Syurga.
 - B. Neraka.
 - C. Kubur.
 - D. Hisab.

2. Antara yang berikut yang manakah konsep harta menurut Islam ?
 - A. Harta adalah ujian Allah SWT.
 - B. Harta bebas dimiliki oleh sesiapa.
 - C. Harta boleh dibelanjakan sesuka hati.
 - D. Harta yang cukup syarat mesti disedekahkan.

3.

<ul style="list-style-type: none">• Mempunyai sanad bersambung terus kepada Rasulullah SAW.• Diriwayatkan oleh perawi yang thiqah, adil lagi dhabit.

Pernyataan di atas menerangkan tentang ciri-ciri _____.

 - A. Hadis Dhaif.
 - B. Hadis Sahih.
 - C. Hadis Hasan.
 - D. Hadis Qudsi.

4. Antara yang berikut yang manakah pernyataan berkaitan dengan ciri-ciri ajaran sesat?
 - I Mempertikaikan kebenaran al-Quran.
 - II Mendewakan ketua atau pemimpin .
 - III Kepercayaan kepada rukun iman.
 - IV Menolak amalan bidaah .
 - A. I dan II
 - B. II dan III
 - C. III dan IV
 - D. I dan IV

5. Antara yang berikut yang manakah **bukan** tanggungjawab suami?
 - A. Memberi nafkah zahir dan batin kepada isteri.
 - B. Memberi didikan agama dengan sempurna.
 - C. Berlaku adil jika berpoligami.
 - D. Taat kepada isteri.

6.

Fahaman yang memisahkan nilai-nilai agama dengan kehidupan.

- Pernyataan di atas menerangkan maksud _____.
- A. Sosialisme.
B. Liberalisme.
C. Sekularisme.
D. Komunisme.
7. Antara yang berikut yang manakah hukuman dan kesalahan yang **betul** ?
- A. Sebat 40 kali bagi peminum arak.
B. Sebat 60 kali bagi kesalahan qazaf.
C. Sebat 80 kali bagi pencuri kali pertama.
D. Sebat 100 kali bagi penzina sudah berkahwin.
8. Berikut adalah antara matlamat sistem kehakiman Islam **kecuali**
- A. Menegakkan keadilan.
B. Menentang kezaliman.
C. Membela yang dizalimi.
D. Menghukum orang bersalah.
9. Antara yang berikut yang manakah **bukan** perlakuan dalam penyelesaian masalah?
- A. Tindakan.
B. Pendidikan.
C. Muhasabah.
D. Keazaman.
10. Konsep pemilikan harta dalam Islam ialah
- I Diperoleh melalui sumber pekerjaan yang halal.
II Bebas dibelanjakan untuk memenuhi kehendak diri.
III Harta hak milik negara boleh dimanfaatkan oleh setiap rakyat.
IV Cara mendapatkan harta tidak bertentangan dengan kepentingan awam.
- A. I dan II
B. II dan III
C. III dan IV
D. I dan IV

11.

Allah SWT berkuasa memberi sesuatu mengikut kehendakNya.

Pernyataan di atas merupakan konsep bagi _____

- A. Syumuliyah.
- B. Rububiyah.
- C. Waqiiyyah.
- D. Uluhiyyah.

12. Apakah maksud Rabbaniyyah ?

- A. Praktikal dan mampu diamalkan oleh semua manusia.
- B. Lengkap dan sempurna meliputi kehidupan di dunia dan akhirat.
- C. Segala hukum, konsep, nilai dan peraturan bersumberkan wahyu.
- D. Sesuai diamalkan oleh semua manusia tanpa mengira bangsa, masa dan tempat.

13

Ahli hukum Islam yang memutuskan sesuatu hukum fikah berasaskan bimbingan al-Quran, al-Hadis dan menurut pendapatnya sendiri.

Pernyataan di atas adalah maksud bagi _____

- A. Fikah.
- B. Qadha.
- C. Fatwa.
- D. Mujtahid.

14. Antara yang berikut yang manakah tanggungjawab memelihara alam

- I Mengekalkan habitat haiwan.
- II Mengawal penebangan hutan.
- III Merancang kawasan pembangunan.
- IV Menanam semula pokok yang ditebang.

- A. I,II dan III
- B. I, III dan IV
- C. II,III dan IV
- D. I,II,III dan IV

15 Antara yang berikut yang manakah pernyataan menepati maksud hukum haram?

- A. Perkara yang digalakkan untuk ditinggalkan.
- B. Larangan Allah SWT yang mesti ditinggalkan.
- C. Amalan kurang baik dan sia-sia kepada diri seseorang.
- D. Meninggalkannya boleh menghapuskan dosa-dosa kecil.

16. Manakah antara yang berikut **bukan** hak asasi manusia yang dijamin oleh Islam?
- Kebebasan bergaul.
 - Kebebasan bersuara.
 - Kebebasan beragama.
 - Kebebasan memiliki harta.
17. Antara yang berikut yang manakah faedah mengamalkan perundangan Islam kepada individu?
- Mengelak pergaduhan.
 - Memantapkan keamanan.
 - Diberkati oleh Allah SWT.
 - Melahirkan insan bertaqwa.
- I dan II
 - II dan III
 - III dan IV
 - I dan IV

18.

Mempunyai kesabaran yang tinggi dalam menghadapi banyak tentangan ketika menyampaikan dakwah.

Pernyataan di atas menerangkan tentang _____ ?

- Maksum.
 - Mukjizat.
 - Karamah.
 - Ulul Azmi.
19. Antara yang berikut yang manakah **bukan** menerangkan prinsip murunah?
- Menunaikan solat jamak ketika bermusafir.
 - Kewajipan ibadat solat walaupun ketika sakit.
 - Kelonggaran berfesyen asalkan menutup aurat.
 - Kewajipan menunaikan haji bagi yang berkemampuan sahaja.

20.

<ul style="list-style-type: none">• Menunaikan hak-hak wajib terhadap harta.• Melaksanakan tanggungjawab sosial.

Manakah antara contoh berikut yang sesuai dengan pernyataan di atas?

- Infak dan jariah.
- Wakaf dan hibah.
- Zakat dan sedekah.
- Wasiat dan hadiah.

BAHAGIAN B
(20 markah)

Soalan 21 hingga soalan 24

Tulis istilah yang bersesuaian dengan pernyataan berikut:

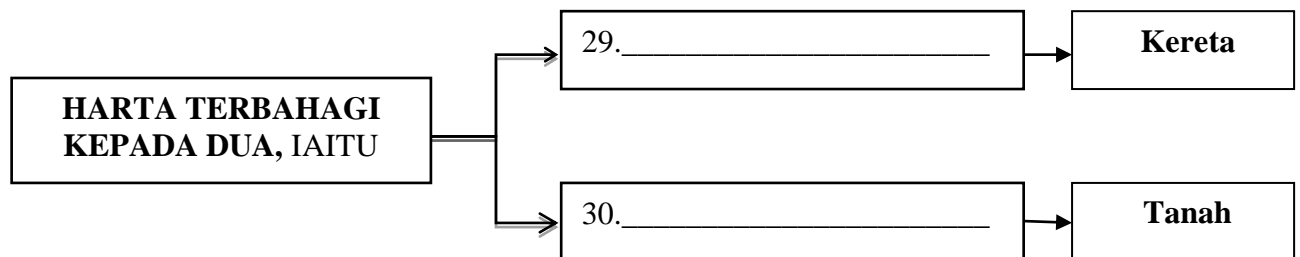
21. Penguasaan sepenuhnya terhadap sesuatu barangan dalam pasaran tertentu oleh seseorang atau sekumpulan orang.
22. Terpelihara daripada dosa kecil dan dosa besar yang boleh mencacatkan kemuliaan para nabi dan rasul sebagai utusan Allah SWT.
23. Sikap membesarkan diri seperti sombong dan angkuh dengan segala nikmat pemberian Allah SWT kepadanya..
24. Satu perjanjian yang membolehkan seseorang mengambil faedah atau manfaat daripada milik orang lain dengan bayaran tertentu.

Soalan 25 hingga soalan 28

Lengkapkan pernyataan berikut dengan jawapan yang betul dalam ruangan kosong yang disediakan.

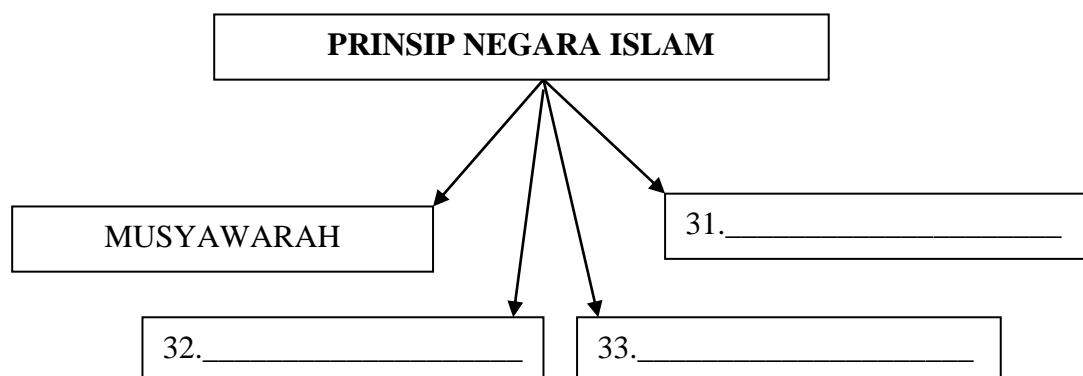
25. Rasulullah SAW telah menggubal satu piagam yang dikenali sebagai _____ untuk menyatupadukan masyarakat dan membentuk Negara berdaulat.
26. Allah SWT telah melantik manusia sebagai _____ untuk mentadbir bumi dan mengabdikan diri kepada Nya.
27. Harta benda yang wajib diberi kepada waris orang yang dibunuh sebagai ganti hukum qisas yang tidak dapat dilaksanakan dikenali sebagai _____ .
28. _____ ialah harta yang diserahkan untuk faedah orang ramai yang berkaitan dengan agama Islam.

Soalan 29 hingga soalan 30 berdasarkan rajah 1 di bawah.
Tuliskan jawapan yang betul dalam ruangan kosong yang disediakan:



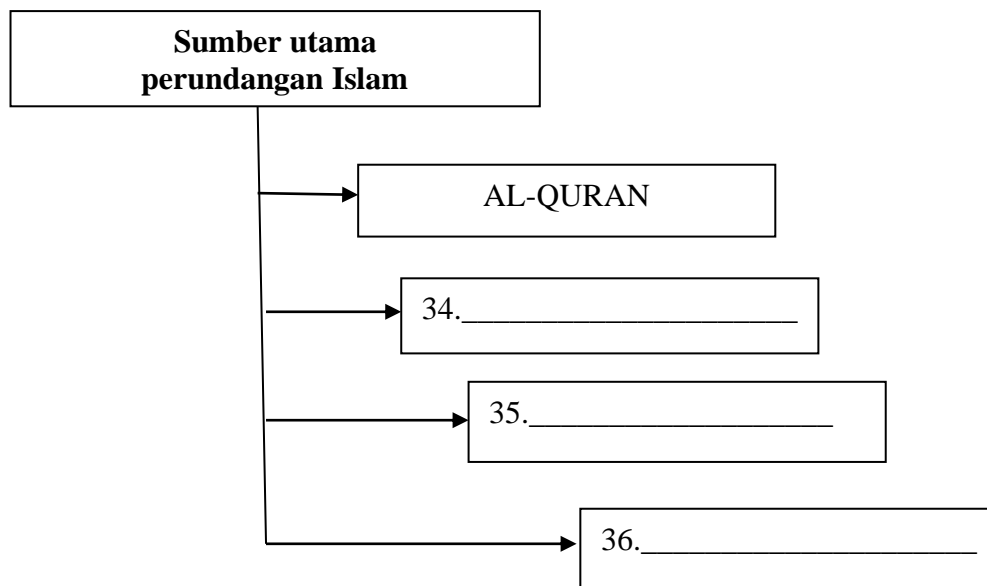
Rajah 1

Soalan 31 hingga soalan 33 berdasarkan rajah 2 di bawah:
Tulis jawapan yang betul dalam ruangan kosong yang disediakan.



Rajah 2

Soalan 34 hingga **soalan 36** berdasarkan carta 1 di bawah:
Tulis jawapan yang betul dalam ruangan kosong yang disediakan.



Carta 1

Soalan 37 hingga **soalan 40**

*Tandakan (✓) pada pernyataan yang betul.
 Tandakan (X) pada pernyataan yang salah.*

37. Allah SWT meniupkan roh ketika janin berusia 4 bulan.

38. Kitab Al-Quran mengandungi 6236 ayat, 114 surah dan 30 juzuk.

39. Hukum wajib ialah perintah Allah SWT yang mesti dilaksanakan, jika dilaksanakan diberi pahala dan jika ditinggalkan tidak berdosa.

40. Khuluk ialah pembatalan ikatan perkahwinan menurut keputusan kadi.

KERTAS SOALAN TAMAT

KERTAS JAWAPAN

Bahagian A

- 1 (A) (B) (C) (D)
- 2 (A) (B) (C) (D)
- 3 (A) (B) (C) (D)
- 4 (A) (B) (C) (D)
- 5 (A) (B) (C) (D)
- 6 (A) (B) (C) (D)
- 7 (A) (B) (C) (D)
- 8 (A) (B) (C) (D)
- 9 (A) (B) (C) (D)
- 10 (A) (B) (C) (D)

- 11 (A) (B) (C) (D)
- 12 (A) (B) (C) (D)
- 13 (A) (B) (C) (D)
- 14 (A) (B) (C) (D)
- 15 (A) (B) (C) (D)
- 16 (A) (B) (C) (D)
- 17 (A) (B) (C) (D)
- 18 (A) (B) (C) (D)
- 19 (A) (B) (C) (D)
- 20 (A) (B) (C) (D)

BAHAGIAN A