

SULIT  
1249/1  
Sejarah  
Kertas 1  
Oktober  
2020  
1 jam

1249/1



**MAKTAB RENDAH SAINS MARA**

**PEPERIKSAAN AKHIR SIJIL PENDIDIKAN MRSM 2020**

**SEJARAH**

Kertas 1

Satu jam

**STEPS - WHAT THE FUTURE HOLDS**

**JANGAN BUKA KERTAS PEPERIKSAAN INI SEHINGGA DIBERITAHU**

1. *Kertas peperiksaan ini mengandungi 40 soalan.*
2. *Jawab semua soalan.*
3. *Tiap-tiap soalan diikuti oleh empat pilihan, iaitu A, B, C dan D. Bagi setiap soalan, pilih satu jawapan sahaja. Hitamkan jawapan anda pada kertas jawapan objektif yang disediakan.*
4. *Jika anda hendak menukar jawapan, padamkan tanda yang telah dibuat. Kemudian hitamkan jawapan yang baharu.*

Kertas peperiksaan ini mengandungi 14 halaman bercetak.

1  
2  
4  
9  
1

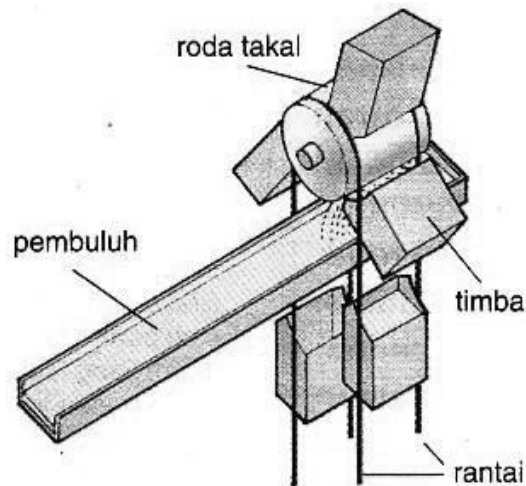
1 Perkataan berikut diambil daripada bahasa Arab berkaitan tamadun.

- Mudun
- Madain
- Madana

Apakah maksud perkataan tersebut?

- A Teknologi moden
- B Tinggi budi bahasa
- C Kepimpinan berwibawa
- D Keunggulan undang-undang

2 Gambar 1 berkaitan dengan sumbangan masyarakat tamadun Mesopotamia.



Gambar 1

Apakah kesan penciptaan peralatan tersebut?


- A Memudahkan pembuatan batu-bata
- B Menggalakkan aktiviti perlombongan
- C Meningkatkan kegiatan perdagangan
- D Memajukan sektor pertanian

3 Mengapakah aspek berikut penting dalam sistem pendidikan di Athens?

- Sukan
- Muzik
- Pidato

- A Mewujudkan rakyat yang sihat
- B Melahirkan warganegara yang setia
- C Mendisiplinkan tingkah laku manusia
- D Menghasilkan masyarakat yang seimbang

4 Gambar 2 berkaitan hasil penulisan Plato dalam tamadun Yunani.



Gambar 2

Apakah saranan beliau dalam karya tersebut?

- A Pemimpin berketurunan raja
- B Pemimpin dari kalangan pahlawan
- C Pemimpin adalah ahli falsafah
- D Pemimpin adalah bangsawan

5 Mengapakah kerajaan Angkor maju dalam bidang ekonomi?

- A Kecekapan pengurusan pelabuhan
- B Kemajuan bidang perdagangan
- C Kecanggihan sistem pengairan
- D Kemantapan sistem cukai

- 6 Maklumat berikut berkaitan upacara angkat sumpah dalam kerajaan Srivijaya pada tahun 683 Masihi.

- |  |
|--|
| <ul style="list-style-type: none"> <li>• Diketuai oleh Brahmin</li> <li>• Disertai dengan mentera</li> <li>• Diadakan di Telaga Batu, Palembang</li> </ul> |
|--|

Apakah tujuan peristiwa tersebut?

- A Mengiktiraf peranan pendeta  
 B Melahirkan taat setia pembesar  
 C Mengelakkan malapetaka  
 D Melantik pengganti raja
- 7 Mengapakah Nabi Muhammad SAW mengasingkan diri di Gua Hiraq pada tahun 610 Masihi?
- A Mengatur strategi ketenteraan  
 B Mencari tempat perlindungan baru  
 C Bersembunyi daripada orang Quraisy  
 D Berusaha mengubah nilai hidup masyarakat
- 8 Mengapakah golongan hamba mudah tertarik dengan ajaran Islam?
- A Prinsip persamaan taraf  
 B Galakan keluarga  
 C Ganjaran pangkat  
 D Jaminan keselamatan diri
- 9 Jadual 1 adalah perjanjian antara Nabi Muhammad SAW dengan penduduk Madinah

Tahun	Syarat
621 M	<ul style="list-style-type: none"> <li>• Menyediakan tempat tinggal</li> <li>• Menjanjikan keselamatan</li> <li>• Kesediaan mempertahankan Islam</li> </ul>

Jadual 1

Apakah perjanjian tersebut?

- A Perjanjian Hudaibiyah  
 B Perjanjian Aqabah  
 C Baiah al-Ridwan  
 D Sahifah Madinah

- 10 Apakah asas pembinaan negara Islam Madinah oleh Nabi Muhammad SAW?
- A Penyatuan wilayah  
B Perundingan damai  
C Pengukuhan ketenteraan  
D Penyusunan perlembagaan
- 11 Apakah peranan *Diwanul Jundi* dalam Kerajaan Bani Umayyah?
- A Sistem pertahanan  
B Institusi keilmuan  
C Pusat pentadbiran  
D Badan kehakiman
- 12 Pasangan manakah yang **betul** tentang golongan yang terdapat dalam pemerintahan kerajaan Islam

Pilihan Jawapan	Golongan	Keterangan
A	Zimmi	Orang tempatan yang beragama Kristian tetapi mengamalkan kebudayaan Islam
B	Mozarab	Orang Islam yang bukan berketurunan Arab yang didiskriminasikan
C	Mudejar	Orang Islam yang tinggal di bawah pemerintahan orang Kristian
D	Mawali	Orang bukan Islam yang rela hidup di bawah pemerintahan Islam

- 13 Apakah bukti yang mengukuhkan pendapat bahawa Islam sampai ke Asia Tenggara Melalui tanah Arab ?
- I Persamaan karya kesusasteraan  
II Pengislaman golongan raja  
III Penggunaan warna merah  
IV Penemuan batu bersurat
- A I dan II  
B I dan IV  
C II dan III  
D III dan IV

14 Apakah sumbangan tokoh-tokoh berikut di rantau Asia Tenggara pada abad ke 17?

- Abdul Rauf Singkel
- Syeikh Syamsudin al-Sumaterani
- Hamzah al-Fansuri

- A Menghasilkan karya pemikiran Islam
- B Menggubal peraturan rasmi istana
- C Menguruskan hal ehwal ekonomi
- D Memperkenalkan tulisan jawi

15 Senarai berikut merujuk kepada suku dalam Adat Perpatih di Negeri Sembilan.

- Seri Lemak
- Tiga Nenek
- Anak Acheh

Apakah ciri amalan hidup suku tersebut?

- A Nasab keturunan bapa
- B Perkahwinan sesama suku
- C Perempuan mewarisi harta
- D Hukuman berbentuk pembalasan

16 Jawatan berikut diwujudkan pada zaman Kesultanan Melayu Melaka.

- Laksamana
- Syahbandar

Apakah kesan pelantikan jawatan tersebut?

- A Kepadatan aktiviti perdagangan
- B Perluasan hubungan diplomatik
- C Pemantapan pertahanan negeri
- D Kelancaran protokol istana

- 17 Apakah kesan Zaman *Renaissance* terhadap masyarakat di Eropah?
- I Muncul semangat inkuri
  - II Tercetus perang keagamaan
  - III Kejatuhan Empayar Rom Timur
  - IV Kegiatan perdagangan berkembang
- A I dan II
  - B I dan IV
  - C II dan III
  - D III dan IV
- 18 Perjanjian Tordesillas telah ditandatangani antara Sepanyol dan Portugal pada tahun 1494. Apakah syarat yang dipersetujui dalam perjanjian tersebut?
- A Penyelesaian masalah pewarisan takhta
  - B Perkongsian ilmu pelayaran
  - C Persefahaman kerjasama ekonomi
  - D Pembahagian kawasan penjelajahan
- 19 Apakah kaedah yang digunakan oleh masyarakat Melayu dalam aktiviti perlombongan bijih timah pada abad ke 19?
- A Kapal korek
  - B Mendulang
  - C Pam kelikir
  - D Lombong dedah
- 20 Maklumat berikut berkaitan dasar British terhadap pekebun kecil di Tanah Melayu pada awal abad ke-20.

Tahun	Tindakan
1917	Memperkenalkan Enakmen Tanah Padi

Apakah kesan penguatkuasaan undang-undang tersebut terhadap orang Melayu?

- A Taraf hidup semakin meningkat
- B Kadar pengangguran bertambah
- C Tanaman berkelompok diperkenal
- D Ekonomi tradisional dikekalkan

21 Mengapakah Asia Tenggara menjadi sasaran imperialis Barat?

- A Kestabilan politik
- B Kemajuan teknologi
- C Kekayaan bahan mentah
- D Kepesatan sektor pertanian

22 Raja Chulalongkorn telah memperkenalkan jawatan berikut di Thailand.

- Juruaudit dari Britain
- Majlis Penasihat Rendah
- Kabinet Menteri

Mengapakah tindakan tersebut dilakukan?

- A Melindungi hak peribumi
- B Mengekalkan kedaulatan negara
- C Mengukuhkan perpaduan rakyat
- D Memantapkan kuasa pemimpin tempatan

23 Apakah faktor pertelingkahan pemimpin berikut di Sungai Ujong pada abad ke-19?

- Dato'Syahbandar Abdullah Tunggal
- Dato'Kelana Syed Abdul Rahman

- A Persaingan kuasa pentadbiran
- B Pencerobohan kawasan pegangan
- C Pertikaian kawasan perlombongan
- D Perebutan sempadan memungut cukai



24 Apakah yang disarankan oleh tokoh berikut kepada masyarakat Melayu pada abad ke-20?



Syed Syekh Al Hadi



Sheikh Tahir Jalaluddin

Gambar 3

- I Mengkritik penjajah
- II Memajukan ekonomi
- III Menuntut kemerdekaan
- IV Menggabungkan parti politik

- A I dan II
- B I dan IV
- C II dan III
- D III dan IV

25 Bagaimanakah sempadan sesebuah kerajaan ditentukan dalam sistem politik masyarakat Melayu tradisional?

- A Kekuatan tentera
- B Kewibawaan raja
- C Kesetiaan rakyat
- D Kesepakatan pembesar

26 Apakah kepentingan alat kebesaran diraja berikut?



Gambar 4

- A Kepatuhan agama
- B Lambang kekayaan
- C Kehebatan kerajaan
- D Simbol kedaulatan

27 Apakah gesaan Pertubuhan Bangsa-Bangsa Bersatu melalui Piagam Atlantik pada tahun 1945?

- A Amalan monarki
- B Dasar liberalisasi
- C Amalan realpolitik
- D Dasar dekolonisasi

28 Maklumat berikut berkaitan peristiwa yang berlaku di Sarawak selepas Perang Dunia Kedua.

Sir Duncan Stewart telah dibunuh oleh Rosli Dhobi ketika membuat lawatan ke Sibu pada 3 Disember 1949

Apakah faktor pembunuhan tersebut?

- A Memperjuangkan agama
- B Melindungi hak peribumi
- C Menentang penyerahan negeri
- D Mempertahankan kuasa pembesar

29 Mengapakah British memperkenalkan Sistem Ahli di Tanah Melayu pada tahun 1951?

- A Mengiktiraf hak orang dagang
- B Menanam semangat taat setia
- C Memberi latihan pentadbiran
- D Merangka perlembagaan negeri

30 Mengikut Perjanjian Persekutuan Tanah Melayu 1957, rakyat tempatan diberikan hak mutlak dalam pemerintahan negara.

Pernyataan manakah yang berkaitan dengan perjanjian tersebut?

- A Penetapan sempadan sesebuah negeri
- B Pentadbiran mengikut acuan sendiri
- C Perkenan raja berkaitan kewarganegaraan
- D Perlembagaan digubal penduduk tempatan

- 31 Mengapakah Tunku Abdul Rahman mengemukakan idea pembentukan Malaysia pada tahun 1961?
- A Mencapai kemerdekaan  
 B Mewujudkan perpaduan kaum  
 C Menyaingi pengaruh Indonesia  
 D Membanteras pengaruh komunis
- 32 Jawatankuasa berikut dibentuk pada Julai 1961 bagi menjayakan proses pembentukan Malaysia.

Jawatankuasa Perunding Perpaduan Kaum (JPPK)
<ul style="list-style-type: none"> <li>• Donald Stephens</li> <li>• Tunku Abdul Rahman</li> <li>• Lee Kuan Yew</li> </ul>


Apakah peranan jawatankuasa tersebut?

- I Menerangkan tentang gagasan Malaysia  
 II Mendapatkan pandangan penduduk  
 III Mencadangkan perlembagaan Malaysia  
 IV Melatih rakyat berkerajaan sendiri
- A I dan II  
 B I dan IV  
 C II dan III  
 D III dan IV
- 33 Apakah persamaan bentuk pentadbiran negara berikut.

Negara	Sistem Pemerintahan
Malaysia	Demokrasi Berparlimen
Indonesia	Republik

- A Perdana Menteri berkuasa membubarkan parlimen  
 B Pentadbiran dijalankan oleh golongan bangsawan  
 C Persidangan Parlimen diadakan setiap tiga bulan  
 D Pilihanraya diadakan untuk memilih pemimpin

- 34 Apakah maksud lambang bulan sabit dalam Jata Negara?



Gambar 5

- A Hak istimewa peribumi  
B Islam agama rasmi  
C Perpaduan kaum  
D Kedaulatan raja
- 35 Rancangan Malaya Pertama dilaksanakan pada tahun 1956 hingga 1960. Apakah matlamat rancangan tersebut?
- A Memajukan sektor perindustrian berat  
B Menyusun semula sistem pendidikan  
C Membangunkan kawasan luar bandar  
D Memperkukuh sistem pertahanan negara
- 36 Berikut adalah ucapan YAB Perdana Menteri Malaysia kelapan.

“Prinsip-prinsip Rukun Negara hendaklah sentiasa diamalkan dalam masyarakat kita dan diwarisi dari satu generasi ke generasi. Untuk itu saya mencadangkan supaya pendidikan Rukun Negara dijadikan agenda teras kerajaan”.

*(ucapan kata-kata Tan Sri Dato' Muhyiddin bin Mohd Yassin  
Perdana Menteri Malaysia di Majlis Pelancaran Sambutan Ulangtahun Ke-50  
Rukun Negara)*

Mengapakah kerajaan menitikberatkan perkara tersebut?

- A Menyusun semula masyarakat  
B Memperkukuh perpaduan rakyat  
C Meningkatkan kemajuan ekonomi  
D Memartabatkan bahasa kebangsaan

37 Berdasarkan kajian Aminuddin Baki, sistem persekolahan aneka jurusan telah diperkenalkan pada tahun 1965.

Apakah kepentingan sistem tersebut?

- A Melahirkan tenaga kerja mahir
- B Mengurangkan sekolah vernakular
- C Memendekkan tempoh pembelajaran
- D Menempatkan murid kelainan upaya

38 Apakah dasar Israel yang menyebabkan Malaysia tidak menjalinkan hubungan diplomatik dengan negara tersebut?

- A Memusuhi negara Arab
- B Menceroboh negara Palestin
- C Mengamalkan dasar Apartheid
- D Membangunkan senjata nuklear

39 Mengapakah Negara Dunia Ketiga bergantung kepada negara maju dalam pemasaran bahan mentah?

- A Kepakaran terhad
- B Buruh terhad
- C Sumber terhad
- D Persaingan terhad

40 Maklumat berikut berkaitan pendirian negara negara ASEAN.

Tahun	Perisytiharan
1971	Negara-negara ASEAN sebagai zon aman, bebas dan berkecuali ( ZOPFAN )
1984	ASEAN ialah Zon Bebas Senjata Nuklear

Apakah kepentingan perisytiharan tersebut?

- A Memantapkan sistem pentadbiran
- B Mengukuhkan kerjasama ekonomi
- C Menjamin kestabilan politik serantau
- D Meningkatkan kemasukan pelabur asing

KERTAS PEPERIKSAAN TAMAT

**PERATURAN PEMARKAHAN KERTAS 1**

**SEJARAH SPMRSM 2020**

<b>No Soalan</b>	<b>Kunci Jawapan</b>	<b>Muka Surat</b>	<b>Aras Kesukaran</b>	<b>No Soalan</b>	<b>Kunci Jawapan</b>	<b>Muka Surat</b>	<b>Aras Kesukaran</b>
1	B	T44	R	21	C	T505	R
2	D	16	S	22	A	13	S
3	D	53	R	23	D	39	R
4	C	46 & 56	R	24	A	49	T
5	C	76	R	25	C	65	S
6	B	86-87	S	26	D	76	R
7	D	107	R	27	D	104	R
8	A	110 & 111	S	28	C	111	R
9	B	118	R	29	D	117	S
10	D	124-125	S	30	B	130	T
11	A	151	R	31	D	137	R
12	C	144 & 147 & 165	T	32	A	149	S
13	A	175 & 176	S	33	D	161	T
14	A	176 & 180 & 183	S	34	B	188	R
15	C	198	T	35	C	198	S
16	A	209	T	36	B	210	T
17	B	219	R	37	A	214	S
18	D	224	T	38	B	236- 237	S
19	B	250	R	39	A	250	T
20	D	261	T	40	C	258	S

ARAS KESUKARAN

TINGGI

SEDERHANA

RENDAH

A = 10

B = 9

C = 9

D = 12