

Nama Tingkatan

Sekolah

MODUL PINTAS TINGKATAN 5

1249/1

SEJARAH

Kertas 1

1 jam

Satu jam

JANGAN BUKA KERTAS PEPERIKSAAN INI SEHINGGA DIBERITAHU

1. *Kertas peperiksaan ini mengandungi 40 soalan.*
2. *Jawab semua soalan.*
3. *Tiap-tiap soalan diikuti oleh empat pilihan jawapan, iaitu A, B, C dan D. Bagi setiap soalan, pilih satu jawapan sahaja. **Hitamkan** jawapan anda pada kertas jawapan objektif yang disediakan.*
4. *Jika anda hendak menukar jawapan, padamkan tanda yang telah dibuat. Kemudian hitamkan jawapan yang baharu.*

Kertas peperiksaan ini mengandungi 12 halaman bercetak.

- 1 Senarai berikut menunjukkan istilah daripada bahasa Arab berkaitan tamadun.

- Mudun
- Madain
- Madana

Apakah pengertian yang dibawa oleh istilah tersebut?

- A Pencapaian lahiriah
 B Pembukaan bandar
 C Kebudayaan yang luhur
 D Keseimbangan rohaniah
- 2 Banjir Sungai Nil berlaku sekali dalam setahun.
 Bagaimanakah masyarakat Mesir Purba berjaya mengawal banjir tersebut?
- A Menguasai ilmu matematik
 B Membina kincir air
 C Membuka petempatan baru
 D Mendirikan bandar terancang

- 3 Rajah berikut menunjukkan perubahan pentadbiran dalam tamadun Rom.

Sistem beraja

Sistem republik

Mengapakah berlaku perubahan tersebut?

- A Pembubaran Dewan Senat
 B Penyatuan wilayah-wilayah kecil
 C Pemerintahan oleh Julius Caesar
 D Pemberontakan golongan *patrician*
- 4 Bagaimanakah seseorang individu dalam masyarakat China boleh menukarkan statusnya dalam masyarakat?
- A Memiliki hartanah
 B Melalui perkahwinan
 C Menerusi pendidikan
 D Melindungi maharaja

5 Maklumat berikut berkaitan perkembangan kerajaan Angkor.

Raja Indravarman I telah membina *baray* yang mampu mengairi tanah seluas 12.5 juta hektar.

Apakah kesan daripada pembinaan *baray* tersebut?

- A Keperluan beras dipenuhi
- B Kenaikan harga barangan
- C Perdagangan bertambah maju
- D Peningkatan bilangan penduduk

6 Setiap raja dalam kerajaan awal Asia Tenggara bercita-cita menjadi raja yang terulung. Bagaimanakah cita-cita tersebut dapat direalisasikan?

- A Mendirikan *orde kosmos*
- B Menjaga kebajikan rakyat
- C Menguatkuasakan pasukan tentera
- D Menjalankan kegiatan imperialisme

7 Apakah yang menjadi pemisah antara Zaman Jahiliah dengan Zaman Islam?

- A Kelahiran Nabi Muhammad SAW
- B Runtuhnya empangan Maarib
- C Peristiwa hijrah ke Madinah
- D Turunnya surah al-Alaq

8 Bagaimanakah cara yang digunakan oleh Nabi Muhammad SAW untuk mengubah akidah masyarakat Arab Jahiliah?

- A Menjadi pemimpin di kota Makkah
- B Menanam keimanan kepada Allah
- C Mengasingkan diri untuk beribadat
- D Mengamalkan cara hidup sederhana

9 Bagaimanakah kedudukan orang Yahudi dalam Piagam Madinah?

- A Dikehendaki membayar cukai tambahan
- B Tidak dibenarkan menceburi perniagaan
- C Terjamin selagi mematuhi perlembagaan
- D Dikecualikan daripada pertahanan negara

10 Maklumat berikut berkaitan syarat dalam Perjanjian Hudaibiyah.

- Orang Islam Madinah yang memihak ke Makkah tanpa kebenaran penjaganya tidak perlu dipulangkan
- Orang Islam Makkah yang memihak ke Madinah tanpa kebenaran penjaganya perlu dipulangkan semula

Bagaimanakah syarat tersebut menguntungkan pihak Islam?

- A Ikatan kekeluargaan diperkukuh
- B Ibadat dapat dipertingkatkan
- C Islam tersebar lebih meluas
- D Iman dalam diri diperteguh

11 Naskhah al-Quran berikut diisytiharkan oleh Khalifah Uthman semasa pemerintahannya.

Mushaf Uthmani

Mengapakah naskhah tersebut diisytiharkan?

- A Mengatasi kepelbagaian bacaan al-Quran
- B Membuat pembaharuan dalam pendidikan
- C Mendapatkan penghormatan daripada rakyat
- D Menghapuskan pengaruh golongan al-Riddah

12 Apakah fungsi baitul hikmah yang diasaskan oleh Khalifah Harun al-Rasyid?

- A Ibu kota
- B Pelabuhan
- C Institusi keilmuan
- D Pusat pemerintahan

13 Apakah pendekatan yang digunakan oleh Wali Songo (Wali Sembilan) dalam usaha menyebarkan dakwah di Jawa?

- I Mengikis sifat malas
- II Mengelakkan pembaziran
- III Mengutamakan kehidupan akhirat
- IV Menitikberatkan pendidikan formal

- A I dan II
- B I dan IV
- C II dan III
- D III dan IV

14 Tokoh ulama berikut telah menghasilkan karya tentang pemikiran Islam.

- Syeikh Nurudin al-Raniri
- Abdul Rauf Singkel

Apakah saranan kepada setiap orang Islam dalam penulisan mereka?

- A Kewajipan berjihad
- B Sikap berjimat cermat
- C Kepentingan pendidikan
- D Setia kepada pemerintah

15 Hukuman diat adalah hukuman yang berbentuk denda atau ganti rugi berupa harta.

Apakah kesalahan yang akan dikenakan hukuman tersebut?

- A Mencuri harta pusaka
- B Menimbulkan pergaduhan
- C Membunuh tanpa sengaja
- D Mencemarkan nama negara

16 Bagaimanakah nilai-nilai murni dalam pendidikan tidak formal diterapkan dalam masyarakat Melayu?

- A Mengadap para guru
- B Menerusi cerita lisan
- C Melalui hukuman denda
- D Mempelajarinya di madrasah

- 17 Apakah bidang yang boleh dikaitkan dengan gerakan *Reformation* di Eropah Barat pada abad ke-16?
- A Kewangan
 - B Pendidikan
 - C Keagamaan
 - D Pemerintahan

- 18 Senarai berikut menunjukkan akta yang telah digubal semasa Revolusi Perindustrian.

- Akta Kilang
- Akta Lombong
- Akta Sepuluh Jam

Mengapakah akta tersebut diluluskan oleh parlimen Britain?

- A Menghalang pengaruh gerakan *Luddite*
 - B Mendapat desakan Kesatuan Sekerja
 - C Menjaga kepentingan majikan
 - D Membela nasib para pekerja
- 19 Syarikat perwakilan Eropah berikut ditubuhkan di Tanah Melayu pada awal abad ke-20.

- *Sime Darby*
- *Harrison and Crossfield*

Apakah tujuan penubuhan syarikat perwakilan tersebut?

- A Memajukan perlombongan
 - B Menguruskan eksport getah
 - C Menubuhkan institusi kewangan
 - D Melabur dalam sektor perikanan
- 20 Pada awal abad ke-20, Tanah Melayu sangat bergantung pada pengimportan beras dari luar negara.
- Bagaimanakah kerajaan British berusaha mengatasi masalah ini?
- A Memberikan bantuan teknikal kepada petani
 - B Memperkenalkan benih padi bermutu tinggi
 - C Menggalakkan kemasukan pelabur Eropah
 - D Menubuhkan Jabatan Parit dan Tali Air

21 Akta berikut telah diperkenalkan oleh British di Burma.

- Akta Kampung Ulu Burma 1887
- Akta Perkampungan Burma 1889

Apakah implikasi daripada pengenalan akta tersebut?

- A Mengukuhkan badan kehakiman
- B Memantapkan institusi keagamaan
- C Menghapuskan golongan nasionalis
- D Melenyapkan pentadbiran tradisional

22 Jadual berikut berkaitan dasar ekonomi penjajah di Asia Tenggara.

Negara	Dasar Ekonomi
Indonesia	Sistem Tanaman Paksa
Filipina	Sistem Polo

Bagaimanakah dasar ini mendorong ke arah kemunculan nasionalisme?

- A Menaikkan kadar cukai
- B Menindas penduduk pribumi
- C Menggalakkan pelaburan asing
- D Mendorong kemasukan imigran

23 Haji Abdul Rahman Limbong telah mengetuai penduduk kampung membersihkan tanah di Kuala Telemong, Terengganu.

Mengapakah tindakan tersebut dilakukan?

- A Pengenalan peraturan tanah
- B Penghapusan tradisi bangsa
- C Perubahan sempadan negeri
- D Perlucutan jawatan pembesar

24 Gerakan Kaum Muda hanya dapat bergerak dengan baik di Negeri-negeri Selat sahaja. Mengapakah keadaan tersebut berlaku?

- A Bilangan ahli yang ramai
- B Sokongan daripada sultan
- C Tiada sekatan undang-undang
- D Kemajuan sistem perhubungan

25 Apakah peralatan yang melambangkan kebesaran sultan dan Kesultanan Melayu Melaka?

- I Gendik Diraja
- II Cogan Agama
- III Bendera Negara
- IV Keris Taming Sari

- A I dan II
- B I dan IV
- C II dan III
- D III dan IV

26 Maklumat berikut berkait dengan Adat Perpatih yang diamalkan di Negeri Sembilan.

Alam beraja
Luak berpenghulu
Suku berlembaga
Anak buah berbuapak

Apakah sistem pemerintahan yang disampaikan melalui perbilangan tersebut?

- A Oligarki
- B Monarki
- C Aristokrasi
- D Demokrasi

27 British telah mengisytiharkan kerajaan Malayan Union pada 1 April 1946.

Apakah muslihat British di sebalik penubuhan kerajaan tersebut?

- A Memperkukuhkan institusi beraja
- B Memperoleh sokongan orang dagang
- C Mengelakkan campur tangan kuasa asing
- D Menjamin penguasaan ekonomi berterusan

28 Piagam berikut dikeluarkan oleh Persatuan Bangsa-bangsa Bersatu (PBB).

Piagam Atlantik 1945

Apakah yang disarankan melalui piagam tersebut?

- A Negara demokrasi dibentuk
- B Amalan realpolitik diperluas
- C Dasar dekolonisasi dijalankan
- D Kegiatan penjelajahan digiatkan

- 29 Sistem Ahli telah diperkenalkan di Tanah Melayu pada tahun 1951. Apakah kelebihan sistem tersebut kepada penduduk tempatan?

- I Memulakan proses perpaduan
- II Memperkukuh penguasaan politik
- III Membantu meningkatkan ekonomi
- IV Melatih pemimpin dalam pentadbiran

- A I dan II
- B I dan IV
- C II dan III
- D III dan IV

- 30 Dialog berikut mungkin berlaku pada tahun 1956 di Melaka.

Ahmad : Marilah kita bersama-sama ke Bandar Hilir.
 Ah Yao : Saya dengar ada peristiwa penting akan diumumkan di sana.
 Vellu : Ya, Tunku Abdul Rahman akan membuat pengumuman itu.

Apakah pengumuman penting yang dimaksudkan dalam dialog tersebut?

- A Pelaksanaan pilihan raya umum
- B Pengisytiharan tarikh kemerdekaan
- C Pembentukan Persekutuan Malaysia
- D Pengekalan hak istimewa orang Melayu

- 31 Mengapakah British mempersetujui idea pembentukan Malaysia?

- A Memenuhi desakan penduduk
- B Memperkasa institusi kesultanan
- C Menghadkan kemasukan imigran
- D Menghapuskan pengaruh komunis

32 Rajah berikut menunjukkan reaksi Indonesia terhadap pembentukan Malaysia.

Tarikh	Peristiwa
20 Januari 1963	Dasar Konfrontasi dilancarkan ke atas Malaysia dengan kempen 'Ganyang Malaysia'

Apakah tindakan Indonesia semasa kempen tersebut?

- A Menceroboh ruang udara
- B Memberi tekanan ekonomi
- C Menimbulkan provokasi kaum
- D Menyokong parti pembangkang

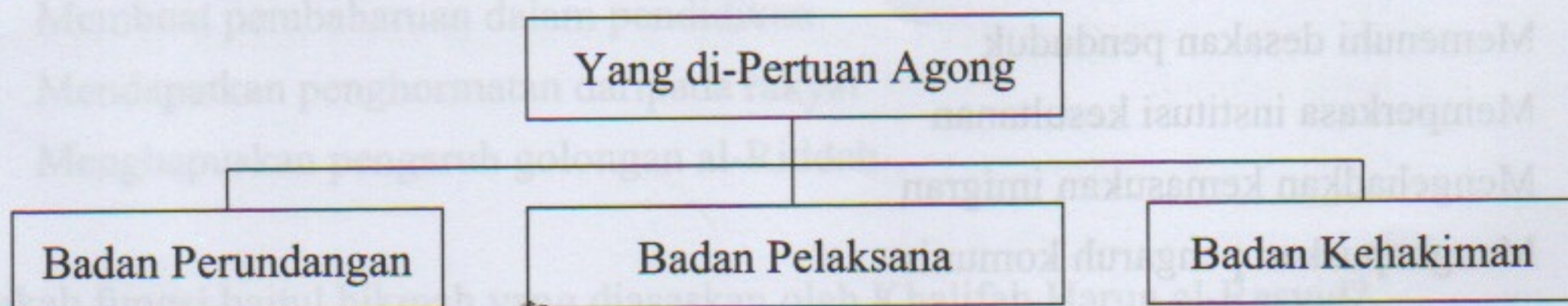
33 Sejak tahun 1957, Perlembagaan Malaysia telah dipinda beberapa kali.

Mengapakah pindaan tersebut perlu dilakukan?

- I Kuasa sultan diperkukuh
- II Relevan dengan situasi semasa
- III Dipatuhi rakyat dengan rela hati
- IV Syarat kerakyatan dilonggarkan

- A I dan II
- B I dan IV
- C II dan III
- D III dan IV

34 Rajah berikut menunjukkan sistem pentadbiran negara Malaysia.



Apakah kesimpulan yang dapat dibuat melalui rajah tersebut?

- A Pemerintahan raja berkuasa mutlak
- B Kebebasan menganggotai parti politik
- C Kebajikan rakyat sentiasa diutamakan
- D Pengamalan konsep pengasingan kuasa

35 Andaikan anda berminat menjadi ahli Dewan Negara di Malaysia.

Apakah syarat yang mesti anda penuhi?

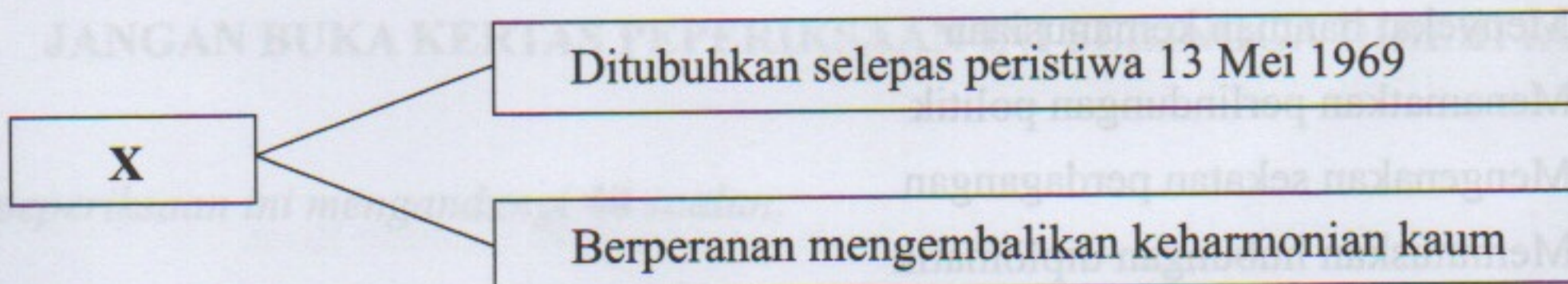
- A Berusia sekurang-kurangnya 21 tahun
- B Cemerlang dalam bidang profesional
- C Menang dalam pilihan raya umum
- D Aktif dalam pertubuhan politik

36 Rancangan Malaya Pertama bermatlamat membangunkan kawasan luar bandar.

Bagaimanakah matlamat tersebut dapat dicapai?

- A Menstabilkan harga pasaran
- B Menghapuskan cukai pertanian
- C Menyediakan kemudahan pinjaman
- D Menggalakkan pelaburan modal asing

37 Rajah berikut berkaitan pembangunan sosial di negara kita.



Apakah X?

- A Jawatankuasa Kabinet
- B Majlis Gerakan Negara
- C Majlis Angkatan Tentera
- D Jawatankuasa Antara Kerajaan

38 Semasa Perang Dingin, muncul Blok Dunia iaitu Blok Komunis dan Blok Kapitalis. Apakah ciri-ciri Blok Komunis?

- I Mengamalkan sistem satu parti
- II Memiliknegerakan perniagaan
- III Mengutamakan kebebasan individu
- IV Memilih kerajaan melalui pilihan raya


- A I dan II
- B I dan IV
- C II dan III
- D III dan IV

39 Dasar berikut diamalkan oleh Afrika Selatan.

Dasar *Apartheid*

Bagaimanakah Malaysia menentang dasar tersebut?

- A Menyekat bantuan kemanusiaan
- B Menamatkan perlindungan politik
- C Mengenakan sekatan perdagangan
- D Memutuskan hubungan diplomatik



40 Pada era globalisasi, k-ekonomi memainkan peranan penting dalam meningkatkan mutu pengeluaran dan perkhidmatan.

Apakah sumber yang diperlukan bagi menjayakan k-ekonomi ini?

- A Peningkatan komunikasi
- B Pekerja berkemahiran
- C Peralatan teknologi
- D Penyiaran digital

KERTAS PEPERIKSAAN TAMAT