

Nama : _____

Kelas : _____

PEPERIKSAAN PERCUBAAN
TAHUN 2021
TINGKATAN 4

SEJARAH
1249/1
1 jam

Kertas 1
Satu jam

JANGAN BUKA KERTAS SOALAN INI SEHINGGA DIBERITAHU

1. Kertas soalan ini mengandungi **40 soalan**.
2. **Jawab semua soalan**.
3. Tiap-tiap soalan diikuti oleh empat jawapan , iaitu **A,B,C dan D**. Bagi setiap soalan, pilih Satu jawapan sahaja. **Hitamkan jawapan** anda pada kertas jawapan objektif yang disediakan.
4. Jika anda hendak menukar jawapan, padamkan tanda yang telah dibuat. Kemudian hitamkan jawapan yang baru.

Kertas soalan ini mengandungi 15 halaman bercetak

Lihat halaman sebelah

1. Apakah yang dimaksudkan dengan wilayah pengaruh?
 - A. Kawasan tanah jajahan dan takluk raja
 - B. Kawasan yang dinaungi oleh raja dan kerabatnya
 - C. Kawasan yang rakyatnya menerima dan memperakui pemerintahan seseorang raja

D. Kawasan yang rakyatnya menganggap raja sebagai tuhan atau wakil tuhan



Ilustrasi Gajah Mada

2. Bagaimanakah Raja dalam kerajaan Alam Melayu memperkukuhkan kedudukannya?

- A. Ketaatan rakyat kepada raja
- B. Rakyat dianggap suci
- C. Rakyat menyembah raja
- D. Raja menjalankan kerahan tenaga

3. Apakah faktor perbezaan idea nasionalisme antara negara dengan zaman?

- A. Politik
- B. Darjat
- C. Keturunan
- D. Ekonomi

4. Maklumat berikut berkaitan dengan pendapat tokoh mengenai nasionalisme.

Kita hendak menzahirkan suatu bangsa yang lebih tegap dan kuat, boleh berdiri di atas tapak kaki kita sendiri dan mengambil tempat kita yang sebenar di sisi bangsa-bangsa lain.

Siapakah tokoh yang memberikan tafsiran nasionalisme tersebut?

- A. Dato' Onn Jaafar
- B. Dr. R. Suntharalingam
- C. Dr. Burhanuddin al-Helmi
- D. Profesor William R. Roff

5. Antara berikut, yang manakah faktor berlakunya Perang Dunia Pertama?

- I. Persaingan kuasa imperialis
- II. Pakatan ketenteraan
- III. Perselisihan faham
- IV. Mendapatkan barang mewah

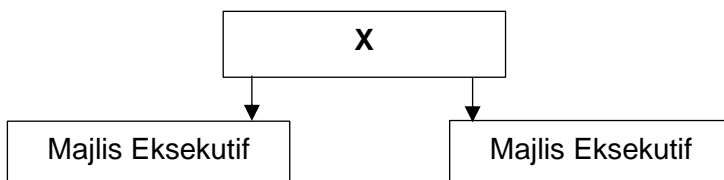
- A. I dan II
- B. I dan IV
- C. II dan III
- D. III dan IV

6. Antara berikut, yang manakah cabaran yang dihadapi oleh Liga Bangsa-Bangsa selepas Perang Dunia Pertama?

- I. Krisis Manchuria
- II. Kemuncak krisis Balkan
- III. Kesan Perjanjian Versailles
- IV. Kegagalan perjanjian pelucutan senjata

- A. I dan II
- B. I dan IV
- C. II dan III
- D. III dan IV

7. Rajah 1 merujuk kepada pentadbiran Malayan Union.



Rajah 1

Siapakah tokoh yang boleh dikaitkan dengan X?

- A. Sultan
- B. Gabenor
- C. Residen
- D. Pesuruhjaya Tinggi British

8. Apakah inti pati syarat kewarganegaraan mengikut prinsip jus soli?

- A. Seluruh rakyat yang dilahirkan di Britain diiktiraf sebagai warga Malayan Union
- B. Seluruh rakyat yang dilahirkan di mana-mana negara diiktiraf sebagai warga Malayan Union
- C. Seluruh rakyat yang dilahirkan di Tanah Melayu dan Singapura diiktiraf sebagai warga Malayan Union Seluruh rakyat yang dilahirkan di Tanah
- D. Melayu sahaja diiktiraf sebagai warga Malayan Union

9. Antara berikut, tokoh manakah merupakan wakil Raja-raja Melayu dalam Jawatankuasa Kerja?

- I. Dato Hamzah Abdullah
 - II. Haji Mohamad Sheriff Osman
 - III. Dato Abdul Rahman Mohd Yassin
 - IV. Haji Megat Yunus
- A. I dan II
 - B. I dan IV
 - C. II dan III
 - D. III dan IV

10. Jawatankuasa Kerja ditubuhkan pada 25 Julai 1946. Apakah cadangan yang disarankan oleh jawatankuasa tersebut?

- A. Menyatukan sesetengah negeri Melayu dalam satu pentadbiran
- B. Menjaga kepentingan orang Melayu sahaja

- C. Mengenakan syarat kewarganegaraan yang ketat
- D. Menubuhkan Dewan Rakyat dan Dewan Negara



11. Gambar menunjukkan kegiatan komunis di Tanah Melayu sekitar tahun 1925. Apakah yang anda faham mengenai ideologi Komunisme?
- A. Fahaman politik
 - B. Perjuangan Parti Komunis Malaya
 - C. Perjuangan menentang kuasa penjajah
 - D. Ekonomi dan barang pengguna sebagai milik negara
12. Mengapakah Parti Komunis Indonesia (PKI) berusaha membuka cawangan mereka di Tanah Melayu?
- A. Mengasaskan PKM
 - B. Menyusup kesatuan sekerja
 - C. Kegagalan menguasai Pulau Jawa
 - D. Mendapatkan sokongan orang Melayu
13. Pada pendapat anda, mengapakah pembentukan Jawatankuasa Hubungan Antara Kaum (CLC) merupakan satu tindakan yang wajar bagi negara berbilang bangsa?
- A. Mencapai kemerdekaan
 - B. Mengadakan Pilihan Raya Umum

- C. Menggalakkan penubuhan parti politik berasaskan kaum
- D. Meningkatkan kesedaran kerjasama politik dalam kalangan pemimpin kaum

14. Maklumat berikut berkaitan dengan isu kedudukan ekonomi orang Melayu.

Orang Melayu tidak memperoleh peluang yang sama seperti kaum lain dalam sektor perniagaan dan perusahaan

Bagaimanakah isu tersebut diatasi melalui Jawatankuasa Hubungan Antara Kaum (CLC)?

- A. Menubuhkan Rural Industrial Development Authority RIDA
- B. Menubuhkan FELDA
- C. Melaksanakan Sistem Ahli
- D. Mewujudkan Jawatankuasa Kebangsaan



15. Apakah tujuan pilihan raya diadakan di Tanah Melayu pada ketika itu?

- A. Membetulkan pandangan politik
- B. Melatih orang tempatan dalam pentadbiran
- C. Langkah ke arah berkerajaan sendiri
- D. Rakyat berpeluang memilih wakil dalam membentuk kerajaan

16. Maklumat berikut berkaitan dengan Jawatankuasa Pilihan Raya.

Sebelum proses Pilihan Raya Majlis Mesyuarat Persekutuan diadakan, kerajaan Persekutuan Tanah Melayu telah mewujudkan Jawatankuasa Pilihan Raya

Apakah peranan jawatankuasa tersebut?

- A. Menubuhkan kabinet pertama
- B. Mengkaji dan membuat cadangan
- C. Mengendalikan proses pilihan raya
- D. Memastikan kemenangan Parti Perikatan



17. Gambar di atas berkaitan dengan perhimpunan bersejarah yang pernah berlaku di negara kita.

Apakah tujuan perhimpunan tersebut diadakan?

- A. Menentang Malayan Union
- B. Pemasyhuran kemerdekaan
- C. Menghargai jasa pemimpin negara
- D. Mengumumkan tarikh kemerdekaan



18. Suruhanjaya Reid yang ditubuhkan pada tahun 1956 terdiri daripada beberapa tokoh.

Apakah fungsi penubuhan suruhanjaya tersebut?

- A. Membentuk Kabinet

- B. Merundingkan kemerdekaan
- C. Menetapkan tarikh kemerdekaan
- D. Merangka Perlembagaan Persekutuan

19. Apakah pengertian kemerdekaan menurut Soekarno, Presiden Indonesia?

- A. Bebas selama-lamanya
- B. Perjuangan menghadapi penjajahan
- C. Merangkumi politik, ekonomi dan moral
- D. Membebaskan diri daripada penjajahan kuasa Barat

20. Pernyataan berikut berkaitan dengan pendapat tokoh tentang kemerdekaan.

Kemerdekaan bukan sekadar bebas daripada cengkaman kuasa dan minda penjajah, tetapi merangkumi penghayatan semangat jiwa menyayangi negara dengan sepenuh hati dan sanggup berkorban untuk negara melalui apa cara sekalipun.

Siapakah tokoh yang dikaitkan dengan pernyataan di atas?

- A. Nelson Mandela
- B. Mahatma Gandhi
- C. Tunku Abdul Rahman
- D. Tun Dr. Mahathir Mohamad

21. Kedaulatan berdasarkan Rajah 2 boleh dilihat daripada beberapa sudut pandangan.

Berdasarkan takrifan dari sudut bahasa, apakah yang boleh dimaksudkan kedaulatan dari perkataan bahasa Inggeris?

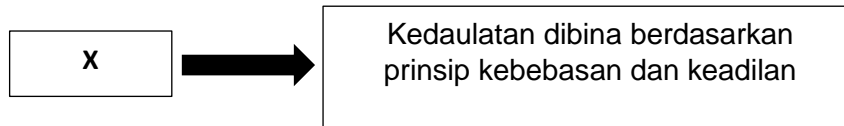
Sumber	Perkataan
Bahasa Inggeris	Sovereignty

Rajah 2

- A. Kuasa negara bebas
- B. Kuasa penuh negara

- C. Kuasa tertinggi kerajaan
- D. Kuasa mutlak pemerintah

22. Maklumat di Rajah 3 berkaitan dengan pandangan tokoh tentang kedaulatan sesebuah negara.



Rajah 3

Berdasarkan pernyataan di atas, siapakah tokoh **X** ?

- A. Aristotle
- B. Jean Bodin
- C. Ibn Khaldun
- D. Tunku Abdul Rahman

23. Sebelum kedatangan kuasa Barat ke negara kita, undang-undang dan adat Melayu memainkan peranan penting dalam kehidupan masyarakat.

Apakah kepentingan undang-undang dan adat Melayu?

- I. Panduan raja
- II. Punca kuasa raja
- III. Menjamin hak rakyat
- IV. Kawalan pembesar

A. I dan II

- B. I dan IV
- C. II dan III
- D. III dan IV

24. Undang-undang berikut diambil daripada undang-undang yang digubal di England

Charter of Justice

Mengapakah undang-undang tersebut diperkenalkan?

- A. Melindungi penduduk asal
- B. Memelihara kepentingan British
- C. Melaksanakan undang-undang British
- D. Menggantikan undang-undang tempatan

25. Maklumat berikut berkaitan dengan pemerintahan Negeri-negeri Melayu Bersekutu (NNMB) dan Negeri-negeri Melayu Tidak Bersekutu (NNMTB)

Pemerintahan negeri Melayu diterajui oleh Raja Melayu.

Apakah bukti pernyataan tersebut?

- A. Raja ketua agama Islam
- B. Undang-undang Tubuh dirujuk
- C. Pegawai British dilantik oleh Raja-raja Melayu
- D. British mentadbir melalui surat perisytiharan Raja-raja Melayu

26. Berbanding dengan raja di Negeri-negeri Melayu Bersekutu, kedudukan raja-raja di Negeri-negeri Melayu Tidak Bersekutu adalah lebih kukuh. Mengapakah hal demikian berlaku?

- A. Raja berkuasa mutlak
- B. Pentadbiran oleh pembesar Melayu
- C. Pentadbiran tidak bersifat persekutuan
- D. Undang-undang Tubuh Kerajaan dirujuk

27. Apakah kepentingan peranan Kerajaan Tempatan dalam sistem pemerintahan dan

pentadbiran kerajaan hari ini?

- A. Menggubal undang-undang tempatan
- B. Melaksanakan arahan kerajaan negeri
- C. Menjayakan program kerajaan persekutuan
- D. Menjadi perantara kerajaan negeri dengan rakyat

28. Apakah kepentingan kerja sama erat di antara Kerajaan Persekutuan dengan Kerajaan Negeri

- A. Memajukan ekonomi negara
- B. Memelihara kedaulatan negara
- C. Menjamin kesejahteraan Rakyat
- D. Memartabatkan undang-undang

29. Mengapakah Brunei yang pada peringkat awal mengala-alukan cadangan pembentukan Malaysia namun akhirnya mengubah pendirian dan menarik diri?

- I. Isu kemerdekaan
 - II. Sultan hilang kuasa
 - III. Peranan Parti Rakyat
 - IV. Kepentingan kekayaan
- A. I dan II
 - B. I dan IV
 - C. II dan III
 - D. III dan IV



30. Apakah reaksi dari negara Indonesia dan Filipina terhadap pembentukan Malaysia?

- A. Menentang gagasan
- B. Menyokong gagasan
- C. Tiada campur tangan
- D. Berpandangan positif

31. Senarai berikut berkaitan dengan hasil bumi yang terdapat di Sarawak dan Sabah.

- | |
|---|
| <ul style="list-style-type: none">• Lada hitam• Kayu balak• Petroleum |
|---|

Apakah kepentingan hasil bumi tersebut berikutan pembentukan Malaysia?

- A. Strategi perdagangan
- B. Asas pertanian moden
- C. Mempelbagaikan ekonomi
- D. Peningkatan eksport negara



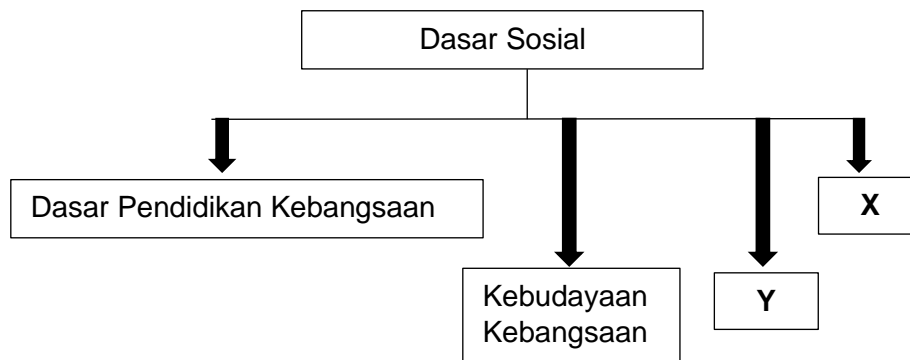
32. Sarawak dan Sabah kaya dengan hasil hutan dan sumber alam seperti ilustrasi di atas.

Mengapakah usaha mengimbangi pembangunan dan ekonomi di kedua-dua negeri tersebut menjadi satu cabaran?

- A. Rakyat tidak berpendidikan
- B. Pengamatan ekonomi sara diri
- C. Kekurangan kemudahan awam
- D. Tiada rancangan pembangunan ekonomi

33. Rajah 4 berikut boleh dikaitkan dengan pelaksanaan dasar sosial untuk mengukuhkan

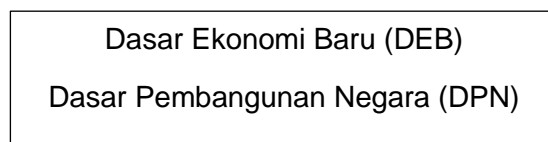
perpaduan rakyat



Merujuk kepada Rajah 4 di atas, apakah X dan Y

- I. Parti politik
 - II. Pilihan raya
 - III. Rukun Negara
 - IV. Bahasa kebangsaan
- A. I dan II
B. I dan IV
C. II dan III
D. III dan IV

34. Maklumat berikut berkaitan dengan dasar kerajaan dalam memajukan ekonomi negara.



Apakah tujuan negara kita melaksanakan dasar tersebut?

- A. Kestabilan politik
- B. Kepelbagaian eksport
- C. Kemajuan perindustrian
- D. Kemakmuran ekonomi rakyat

35. Senarai berikut berkaitan dengan rancangan pembangunan untuk penduduk luar bandar

- Kegiatan gerakan Koperasi
- Penerokaan tanah baharu

Apakah matlamat yang hendak dicapai melalui rancangan pembangunan tersebut?

- A. Keamanan negara
- B. Kestabilan ekonomi
- C. Peningkatan taraf hidup
- D. Peningkatan eksport negara



36. Rancangan Buku Hijau dilancarkan oleh Tun Abdul Razak Hussein pada 20 Disember 1974.

Apakah objektif rancangan tersebut?

- A. Menambah rakyat pendapatan
- B. Menebus guna tanah pinggir hutan
- C. Mewujudkan industri kecil dan sederhana
- D. Menjayakan program pembangunan wilayah

37. Tahun 1990-an menyaksikan Malaysia mula menjalinkan hubungan dengan negara sedang membangun di Afrika dan negara di Kepulauan Pasifik Selatan.

Apakah faktor utama yang membawa kepada perubahan tersebut?

- A. Kepimpinan
- B. Ikatan sejarah
- C. Keperluan semasa
- D. Tuntutan perdagangan

38. Dasar luar Malaysia berubah selari dengan perkembangan negara.

Apakah ciri dasar luar Malaysia berikutan perkembangan yang berlaku pada tahun 1970-an?

- A. Probarat
- B. Anti komunis
- C. Tidak berpihak
- D. Hubungan diplomatik dengan semua negara

39. Maklumat berikut berkaitan dengan isu kemanusiaan dan keamanan yang diperjuangkan oleh Malaysia tercinta.



Mengapakah tercetusnya kedua-dua isu tersebut?

- A. Peperangan
- B. Bencana alam
- C. Perang saudara
- D. Kelemahan kepimpinan

40. Mengapakah Malaysia memberikan bantuan dan sokongan kepada rakyat Syria?

- A. Mewujudkan kesedaran
- B. Mengeratkan silaturahim
- C. Menamatkan peperangan
- D. Mengurangkan keseng saraan

KERTAS SOALAN TAMAT

Jawapan

1. c	21. b
2. a	22. d
3. c	23. b
4. a	24. a
5. a	25. d
6. b	26. b
7. d	27. d
8. c	28. c
9. a	29. b
10. c	30. a
11. d	31. d
12. c	32. b
13. d	33. d
14. a	34. d
15. d	35. c
16. b	36. a
17. d	37. a
18. d	38. c
19. a	39. a
20. d	40. d