

1249/1  
SEJARAH  
KERTAS 1  
NOVEMBER  
1 JAM

NO KAD PENGENALAN

--	--	--	--	--	--	--	--	--	--	--	--	--	--	--	--	--	--	--	--

Nama Pelajar : .....

Tingkatan : .....



**MAJLIS PENGETUA SEKOLAH MALAYSIA (MPSM)  
(CAWANGAN KELANTAN)**

**PERCUBAAN SPM  
2021**

**SEJARAH  
KERTAS 1  
MASA : SATU JAM**

**ARAHAN:**

1. Kertas ini mengandungi **40** soalan.
2. Jawab **semua** soalan.
3. Tiap-tiap soalan diikuti oleh empat pilihan jawapan iaitu **A,B,C dan D**. Pilih satu jawapan yang terbaik bagi setiap soalan dan hitamkan ruangan yang sepadan pada kertas jawapan objektif anda.
4. Jika anda hendak menukar jawapan, sila padamkan lorekan yang telah dibuat. Kemudian hitamkan jawapan yang baharu.

Kertas soalan ini mengandungi **16** halaman bercetak

1 Apakah yang dimaksudkan dengan kedaulatan bagi sesebuah negara?

- A Kepatuhan undang-undang
- B Kekuasaan tertinggi
- C Ketinggian budaya
- D Kekuatan bangsa

2 Maklumat berikut menunjukkan hubungan yang terjalin antara Kesultanan Melayu Melaka dengan kerajaan Dinasti Ming

Kerajaan Dinasti Ming telah menghantar Laksamana Cheng Ho sebagai utusan bagi menjalinkan hubungan antara China dengan Melaka

Apakah kesan hubungan tersebut kepada Melaka?

- A Menggalakkan pelaburan asing
- B Memajukan pendidikan
- C Mendapat pengiktirafan
- D Meluaskan wilayah

3 Gambar berikut merupakan tokoh sejarawan negara



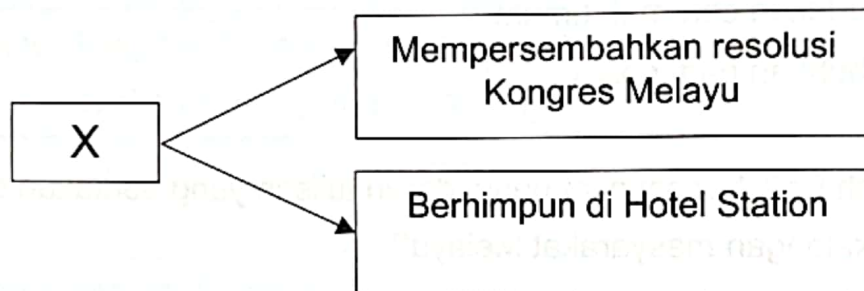
Apakah pendapat tokoh tersebut berkaitan dengan nasionalisme?

- A Gerakan meletakkan kesetiaan seseorang
- B Menzahirkan suatu bangsa yang kuat
- C Berpegang kepada faham kebangsaan
- D Mengiktiraf hak setiap bangsa

7 Mengapakah British Military Administration (BMA) mengarahkan MPAJA menyerahkan senjata kepadanya pada 1 Disember 1945?

- A Mengurangkan tekanan rakyat
- B Menolak kepercayaan rakyat
- C Memantapkan perjuangan
- D Memulihkan keamanan

8 Rajah berikut merupakan cara bantahan Raja-raja Melayu terhadap Malayan Union



Apakah X?

- A Membawa kes Malayan Union ke England
- B Memimpin gerakan penentangan
- C Memulau perlantikan Gabenor
- D Membantah hasrat rakyat

9 Apakah matlamat perjuangan nasionalis Melayu radikal semasa memperjuangkan kemerdekaan?

- A Menobatkan bahasa Melayu
- B Mengukuhkan perpaduan
- C Membebaskan tanah air
- D Menganjurkan kongres

- 4 Tokoh berikut memainkan peranan yang penting dalam membangkitkan semangat nasionalisme di Tanah Melayu pada abad ke-20

- Harun Aminurrashid
- Abdul Rahim Kajai

Bagaimanakah mereka berjaya menaikkan semangat nasionalisme di negara kita?

- A Menghasilkan penulisan kreatif
- B Menentang golongan penjajah
- C Mengadakan ceramah umum
- D Menubuhkan parti politik

- 5 Bagaimanakah British menyekat pengedaran tulisan yang berkaitan dengan agama Islam dalam kalangan masyarakat Melayu?

- A Memberi notis kepada sesiapa yang terlibat
- B Menggunakan kekerasan ketua masyarakat
- C Memberi ugutan kepada sesiapa yang ingkar
- D Memperkenalkan Enakmen Undang-undang Islam

- 6 Manakah yang berikut merupakan faktor meletusnya Perang Dunia Kedua (1939 -1945)?

- I Kemunculan ideologi baharu
- II Kegagalan Liga Bangsa-Bangsa
- III Kebangkitan kuasa besar di Eropah
- IV Ketidakpuasan hati negara anggota


- A I dan II
- B I dan IV
- C II dan III
- D III dan IV

- 10 Maklumat berikut berkaitan dengan perlembagaan yang dihasilkan oleh AMCJA –PUTERA untuk menggantikan perjanjian Persekutuan Tanah Melayu

**PERLEMBAGAAN RAKYAT 1947**

Apakah cadangan yang dikemukakan dalam perlembagaan tersebut?

- A Bahasa Melayu sebagai Bahasa Kebangsaan
  - B Penyatuan Tanah Melayu dengan Indonesia
  - C Singapura diasingkan daripada Tanah Melayu
  - D Syarat Kewarganegaraan perlu diperketatkan
- 11 Gambar berikut merupakan tindakan yang telah dilakukan oleh Parti Komunis Malaya (PKM) di Tanah Melayu



Mengapakah PKM bertindak sedemikian?

- A Menyekat kebebasan rakyat
- B Menguasai ekonomi tempatan
- C Menghalang kemasukan buruh
- D Melumpuhkan ekonomi British

- 12 Jadual berikut berkaitan dengan jumlah pasukan keselamatan yang terkorban dalam menangani ancaman komunis

Pasukan	Terkorban
Polis	513
Tentera	519

Mengapakah berlakunya keadaan sedemikian?

- A Kesiapsiagaan kerajaan  
B Ketidakupayaan kerajaan  
C Kegagalan dalam perundingan  
D Kelemahan pasukan perisikan
- 13 Apakah matlamat perjuangan Parti Kebangsaan Melayu Malaya (PKMM) yang dipimpin oleh Dr. Burhanuddin al-Helmi?
- A Kerjasama kaum membentuk perpaduan  
B Kuatkuasakan peraturan dalam negara  
C Bertanggungjawab kepada rakyat  
D Bertoleransi dengan negara luar
- 14 Mengapakah British memperkenalkan Sistem Ahli di Tanah Melayu pada April 1951?
- A Memupuk perpaduan kaum  
B Mengukuhkan lagi penguasaan politik  
C Menerapkan sistem pentadbiran Barat  
D Meningkatkan kemajuan ekonomi orang Melayu
- 15 Di Sarawak pilhan raya tempatan yang pertama diadakan pada tahun 1956. Mengapakah pilihan raya tersebut diadakan?
- A Sebagai pra peralihan kuasa Brooke  
B Memilih ketua penghuni rumah panjang  
C Persediaan awal ke arah berkerajaan sendiri  
D Menentukan calon berwibawa dalam memimpin

- 16 Gambar berikut merupakan Ahli Kabinet Kerajaan Persekutuan tahun 1955



Mengapakah kabinet pertama ini penting kepada negara kita?

- A Penggabungan parti politik
  - B Menunjukkan kompromi antara kaum
  - C Mengukuhkan kuasa Raja-raja Melayu
  - D Pertambahan Kuasa Pesuruhjaya Tinggi
- 17 Maklumat berikut berkaitan dengan pembentukan Suruhanjaya Ried di Tanah Melayu

Mendapat persetujuan daripada Raja-raja Melayu di London pada 8 Mac 1956

Apakah tugas suruhanjaya tersebut?

- A Membentuk jawatan kuasa baharu
  - B Membatalkan perundangan
  - C Merangka perlembagaan
  - D Meminda hak warganegara
- 18 Malaysian Chinese Association (MCA) telah mengemukakan tuntutan dalam pendidikan melalui memorandum kepada Suruhanjaya Perlembagaan Persekutuan Tanah Melayu. Apakah tuntutan tersebut?
- A Meneruskan sekolah vernakular
  - B Mempertahankan hak kaum Cina
  - C Membubarkan sekolah aliran Inggeris
  - D Menlonggarkan syarat kewarganegaraan

- 19 Gambar berikut berkaitan dengan detik yang bersejarah yang berlaku pada 30 Ogos 1957 di negara kita




Apakah nilai yang diperoleh daripada peristiwa tersebut?

- I      Bangsa
  - II     Toleransi
  - III    Kejujuran
  - IV    Bersyukur
- A      I dan II
- B      I dan IV
- C      II dan III
- D      III dan IV
- 20    Apakah langkah yang diambil oleh pemimpin tempatan dalam menangani kesan kemerdekaan peringkat antarabangsa?
- A      Penguatkuasaan keselamatan
  - B      Penjanaaan nilai eksport negara
  - C      Pemulihan kewangan untuk rakyat
  - D      Pengukuhan hubungan dengan luar negara



- 21 Gambar berikut menunjukkan Istana Kehakiman negara di Putrajaya



Mengapakah institusi berkenaan mesti bersifat bebas tanpa dipengaruhi oleh mana-mana pihak?

- A Memelihara kedaulatan undang-undang
  - B Memastikan keberkesanan pentadbiran
  - C Meluluskan undang-undang negara
  - D Menjamin keamanan negara
- 22 Maklumat berikut merupakan lambang negara yang diperkenalkan di Malaysia

- Jata Negara
- Lagu Kebangsaan
- Bendera Jalur Gemilang

Mengapakah lambang tersebut perlu dihormati?

- A Membina sahsiah diri
- B Menanam semangat patriotik
- C Mempertahankan kemerdekaan
- D Mengekalkan sistem demokrasi

23 Perlembagaan Persekutuan merupakan undang-undang tertinggi dalam sistem pemerintahan negara

Apakah ciri tradisional perlembagaan tersebut?

- A Agama Islam
- B Kewarganegaraan
- C Sistem demokrasi
- D Kerajaan persekutuan

24 Maklumat berikut berkaitan dengan pindaan Perlembagaan pada tahun 1965

Tun Abdul Rahman Putra al-Haj membawa usul untuk diluluskan di Parlimen

Mengapakah pindaan tersebut dilaksanakan?

- A Pelaksanaan darurat
- B Pemisahan Singapura
- C Pembentukan Malaysia
- D Pengukuhan institusi beraja

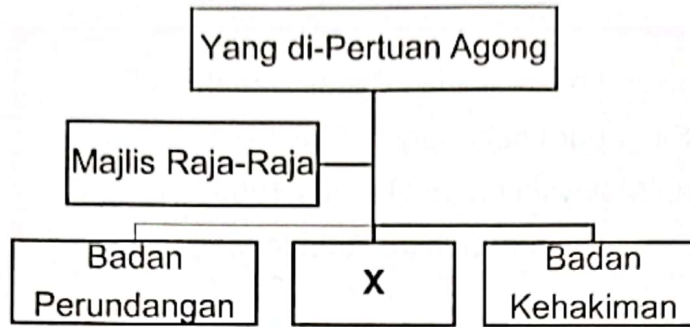
25 Maklumat berikut berkaitan dengan sistem pentadbiran British

- Sistem Residen di Negeri-negeri Melayu Bersekutu (NNMB)
- Sistem Penasihat di Negeri-negeri Melayu Tidak Bersekutu (NNMTB)

Apakah kesan pelaksanaan sistem tersebut?

- A Raja Melayu diturunkan takhta
- B Pembesar tempatan diberi pencen
- C Pembesar negeri diberi pampasan
- D British mencampuri urusan pentadbiran

- 26 Rajah berikut berkaitan dengan pengagihan kuasa dalam sistem pemerintahan negara kita



Manakah yang berikut berada di bawah bidang kuasa X?

- A Meluluskan undang-undang  
 B Mentafsir perlembagaan negara  
 C Menggubal dasar-dasar negara  
 D Menyemak dasar-dasar kerajaan
- 27 Malaysia merupakan sebuah negara yang mengamalkan sistem Persekutuan  
 Apakah maksud Persekutuan?
- A Mewujudkan Jemaah Menteri  
 B Mengutamakan institusi beraja  
 C Mengamalkan sistem demokrasi  
 D Menggabungkan beberapa buah negeri
- 28 Pada peringkat awal kemerdekaan kerajaan memberi tumpuan kepada pembukaan tanah baharu dan pembangunan In-Situ  
 Apakah maksud pembangunan In-Situ?
- A Menyelaras kemajuan wilayah  
 B Menekankan pembangunan fizikal desa  
 C Menstrukturkan semula lokasi penempatan  
 D Menyusun semula strategi pemasaran

SULIT

- 29 Perjanjian Julai 1963 juga dikenali sebagai Perjanjian Malaysia  
Manakah yang berikut merupakan inti pati perjanjian tersebut?
- I British mengiktiraf hak Filipina ke atas Sabah
  - II Brunei dan Singapura sebahagian Malaysia
  - III Pembentukan Malaysia pada 31 Ogos 1963
  - IV Kelebihan Sarawak menubuhkan kabinet negeri
- A I dan II
  - B I dan IV
  - C II dan III
  - D III dan IV
- 30 Mengapakah Dr Subandrio Menteri Luar Indonesia bertindak mengumumkan dasar konfrantasi terhadap Malaysia pada 20 Januari 1963?
- A Mendakwa Sabah miliknya
  - B Mengancam kedudukan Indonesia
  - C Mengurangkan pengaruh orang Melayu
  - D Membelakangi gagasan Melayu Raya
- 31 Selepas pembentukan Malaysia kita terpaksa menghadapi pelbagai cabaran  
Antara cabaran tersebut adalah
- A pembabitan golongan radikal
  - B pelaksanaan pilihan raya umum
  - C penyeragaman sistem pendidikan
  - D perebutan kuasa antara pemimpin

- 32 Gambar berikut berkaitan dengan peristiwa pengeboman Tugu Negara oleh Parti Komunis Malaya (PKM) pada 26 Ogos 1975



Bagaimanakah pihak keselamatan menangani peristiwa tersebut?

- A Mengisytiharkan darurat  
B Melaporkan kepada PBB  
C Menangkap anggota PKM  
D Memperkuat pasukan perisikan
- 33 Maklumat berikut berkaitan dengan dasar pentadbiran British

- Pemisahan petempatan melalui kegiatan ekonomi
- Mewujudkan sistem pendidikan vernakular dalam pendidikan

Apakah kesan kepada bangsa Malaysia pasca merdeka?


- A Kepesatan ekonomi  
B Kecekapan pentadbiran  
C Kerenggangan hubungan  
D Keberhutangan tinggi

34 Akta Bahasa Kebangsaan telah digubal di bawah Perkara 152 Perlembagaan Persekutuan Malaysia  
Bagaimanakah bahasa Melayu diperkasakan dalam sistem pendidikan?

- I Menggalakkan penglibatan swasta
- II Menubuhkan Kolej Sultan Abdul Halim
- III Pembukaan sekolah menengah kebangsaan
- IV Mewajibkan penggunaannya dalam semua urusan

- A I dan II
- B I dan IV
- C II dan III
- D III dan IV

35 Gambar berikut berkaitan dengan Rancangan Buku Hijau peringkat kebangsaan yang dilancarkan pada 20 Disember 1974



Apakah tujuan rancangan tersebut diperkenalkan?

- A Menambahkan pendapatan rakyat
- B Menyusun penempatan penduduk
- C Menyokong Dasar Ekonomi Baru
- D Mempelbagaikan tanaman komersil

- 36 Maklumat berikut berkaitan dengan pelaburan modal saham telah dilancarkan oleh Permodalan Nasional Berhad 17 Mac 1978



Mengapakah kerajaan memperkenalkannya?

- A Persaingan dengan pelabur asing
  - B Permulaan integrasi nasional
  - C Pengenalan ekonomi moden
  - D Pemilikan saham bumiputera
- 37 Gambar berikut berkaitan dengan bantahan dasar Apartheid di Afrika Selatan



Mengapakah Malaysia turut menentang amalan tersebut?

- A Menghapuskan sekatan pelaburan
- B Mempertahankan hak asasi manusia
- C Mengelakkan campur tangan asing
- D Mengurangkan konflik ketenteraan

38 Pada tahun 1963 persefahaman antara Malaysia Filipina dan Indonesia telah mewujudkan MAPHILINDO


Apakah tujuan penubuhan MAPHILINDO?

- A Menjalin kerjasama ekonomi
- B Menangani ancaman komunis
- C Mewujudkan kerjasama kebudayaan
- D Menyelesaikan isu penubuhan Malaysia

39 Pemerdagangan manusia merupakan satu strategi jenayah terancang  
Mengapakah Malaysia menjadi lokasi transit bagi jenayah tersebut?

- A Kemakmuran negara
- B Kelonggaran imigresen
- C Kemajuan pelancongan
- D Ketiadaan undang-undang

40 Gambar berikut menunjukkan inisiatif Malaysia dalam penyelidikan di Antartika



Mengapakah negara kita membangkitkan isu penerokaan secara tidak adil ke atas Antartika?

- A Pengambilan secara haram
- B Penyelidikan tanpa sekatan
- C Penguasaan sebahagian kecil negara
- D Penglibatan kuasa- besar dunia

**KERTAS PEPERIKSAAN TAMAT**