

MODUL PINTAS TINGKATAN LIMA

1 JAM

1249/1

SEJAJARAH

Kertas 1

ARAHAN :

1. Jangan Buka Kertas Soalan Ini Sehingga Diberitahu.
2. Kertas peperiksaan ini mengandungi **40** soalan.
3. Jawab **semua** soalan.
4. Tiap-tiap soalan diikuti oleh empat pilihan jawapan, iaitu **A, B, C** dan **D**. Bagi setiap soalan, pilih **satu** jawapan sahaja. **Hitamkan** jawapan anda pada kertas jawapan objektif yang disediakan.
5. Jika anda hendak menukar jawapan, padamkan tanda yang telah dibuat. Kemudian hitamkan jawapan yang baharu.

NAMA :

TINGKATAN :

Kertas peperiksaan ini mengandungi 12 halaman bercetak.

- 1 Apakah yang diwarisi oleh Kesultanan Melayu Melaka daripada kerajaan Srivijaya?
- A Ciri-ciri negara bangsa
 B Upacara pertabalan raja
 C Penggunaan gelaran sultan
 D Sistem pemerintahan demokrasi
- 2 Maklumat berikut berkaitan Undang-undang Laut Melaka.

Fasal 13.1
Nakhoda perlu diberikan keutamaan untuk berniaga selama 4 hari

Mengapakah keistimewaan tersebut diperoleh nakhoda kapal?

- A Dianggap wakil kerajaan
 B Dikhuatiri berlaku penipuan
 C Diibaratkan raja dalam pelayaran
 D Dihormati pedagang di pelabuhan
- 3 Revolusi berikut berlaku di Barat.

- | |
|--|
| <ul style="list-style-type: none"> • Revolusi Keagungan di England • Revolusi Perancis |
|--|

Apakah persamaan yang terdapat antara revolusi tersebut?

- A Pemuluan proses pilihan raya
 B Pemberontakan golongan hamba
 C Pengurangan kuasa panglima tentera
 D Penentangan terhadap pemerintahan beraja
- 4 Jadual berikut berkaitan tindakan pemerintah Thailand.

Pemerintah	Tindakan
Raja Mongkut	Memodenkan negara dan mengamalkan dasar terbuka
Raja Chulalongkorn	

Mengapakah tindakan tersebut diambil oleh baginda berdua?

- A Menyaingi kuasa besar
 B Mengekalkan kedaulatan negara
 C Memantapkan kuasa pemerintah
 D Memodenkan sistem pendidikan

5 Maklumat berikut berkaitan nombor rujukan dalam “Cerita Tekukur”.

- Tekukur nombor 1874
- Tekukur nombor 1909

Apakah yang dilambangkan dengan nombor tersebut?

- A Lokasi kawasan jajahan kuasa Barat
 - B Tarikh negeri Melayu dikuasai British
 - C Bilangan anggota pasukan keselamatan
 - D Jumlah mangsa korban dalam peperangan
- 6 Novel berikut merupakan karya Ahmad Murad Nasaruddin.

Nyawa di-hujung Pedang

Apakah mesej yang terkandung di dalam novel tersebut?

- A Ketidakadilan sistem perundangan
 - B Kemunduran rakyat tempatan
 - C Kekejaman tentera Jepun
 - D Kelemahan pihak Britain
- 7 Rajah berikut berkaitan usaha British mengubah status Tanah Melayu.



Bagaimanakah usaha tersebut berjaya dilakukan?

- A Melaksanakan dasar dekolonisasi
 - B Memperkenalkan Malayan Union
 - C Menggubal perlembagaan merdeka
 - D Membentuk Persekutuan Tanah Melayu
- 8 Pekeliling berikut dikeluarkan oleh British pada Disember 1946 di Sarawak.

Pekeliling no. 9/ 1946

Mengapakah pekeling tersebut dikeluarkan?

- A Memberi amaran kepada parti politik
- B Mengawal pelantikan kakitangan kerajaan
- C Mengingatkan tentang kebebasan bersuara
- D Melarang penyertaan gerakan antipenyERAHAN

- 9 Mengapakah Parti Kebangsaan Melayu Malaya (PKMM) tidak berpuas hati dengan British?
- A Dianggap golongan berhaluan kiri
 - B Tidak diberi peluang dalam pentadbiran
 - C Diketepikan daripada Jawatankuasa Kerja
 - D Tanah Melayu disatukan dengan Singapura
- 10 Majlis Mesyuarat Persekutuan ditubuhkan bagi membantu Pesuruhjaya Tinggi British di Tanah Melayu.
Manakah antara berikut merupakan bidang kuasa majlis tersebut?
- I Hal ehwal luar
 - II Ketenteraman awam
 - III Pelantikan pemerintah
 - IV Syarat kewarganegaraan
- A I dan II
 - B I dan IV
 - C II dan III
 - D III dan IV
- 11 Mengapakah Parti Komunis Indonesia (PKI) berusaha menyebarkan pengaruh mereka di Tanah Melayu?
- A Kegagalan menguasai Pulau Jawa
 - B Penubuhan Parti Komunis Nanyang
 - C Keinginan menguasai bahan mentah
 - D Peluasan pengaruh Parti Komunis China
- 12 Mengapakah Parti Komunis Malaya (PKM) menyasarkan pasukan keselamatan dan menyerang balai polis?
- A Merampas senjata api
 - B Menimbulkan ketakutan
 - C Melambatkan kemerdekaan
 - D Menonjolkan ketidakupayaan
- 13 Apakah idea kemerdekaan yang diperjuangkan oleh Kesatuan Melayu Muda?
- A Melayu Raya
 - B Kerjasama kaum
 - C Pemerintah sosialis
 - D Raja Berperlembagaan

14 Jawatankuasa Hubungan Antara Kaum (CLC) ditubuhkan pada Januari 1949. Apakah objektif yang hendak dicapai melalui penubuhan jawatankuasa tersebut?

- I Mengukuhkan ekonomi negara
- II Mewujudkan keadaan harmoni
- III Mengkaji hubungan kaum
- IV Menyelesaikan isu pergaduhan

A I dan II
C II dan III

B I dan IV
D III dan IV

15 Ordinan berikut telah diperkenalkan pada tahun 1950.

Ordinan Pilihan Raya Pihak Berkuasa Tempatan

Apakah kuasa yang diberikan kepada majlis tempatan mengikut ordinan tersebut?

- A Menubuhkan parti politik
- B Mengadakan pilihan raya
- C Menetapkan manifesto
- D Memilih calon

16 Rajah di bawah menunjukkan barisan kabinet pertama Persekutuan Tanah Melayu selepas Pilihan Raya Umum 1955.

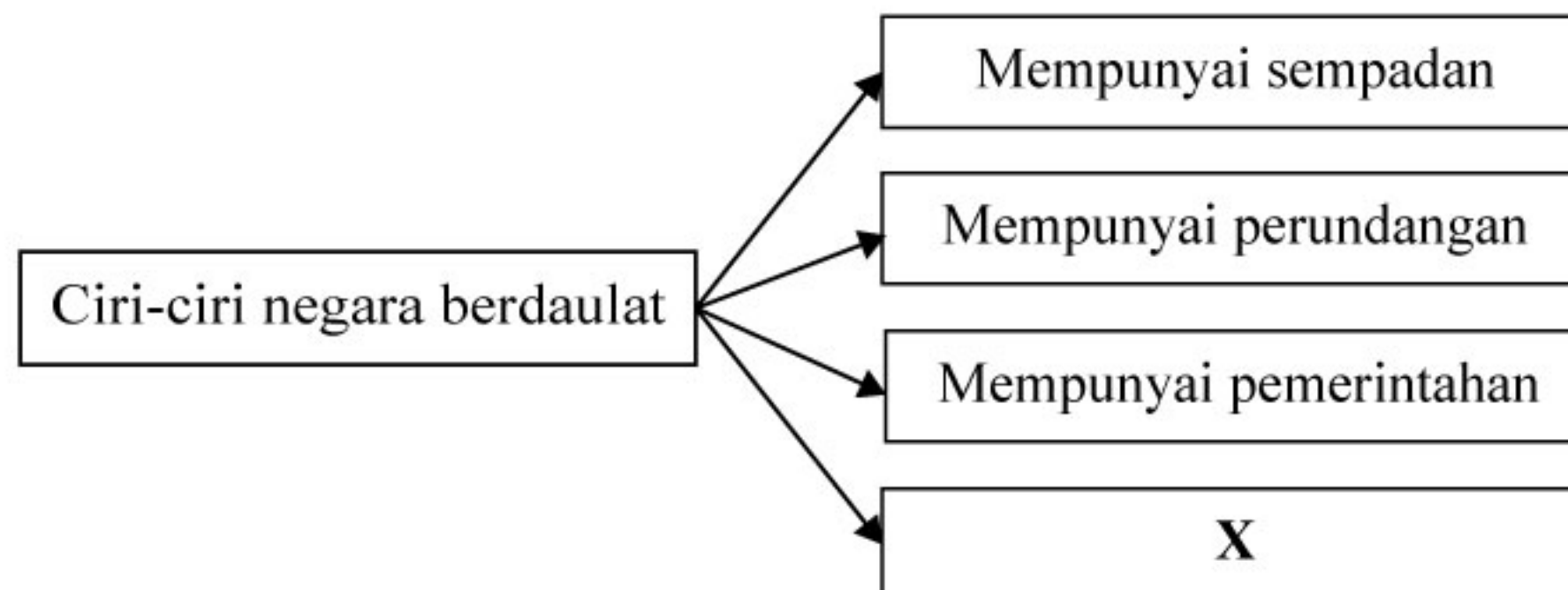


Sumber: Malaysia. Arkib Negara Malaysia, 2007, *Merintis Denai Demokrasi*, Kuala Lumpur, Arkib Negara Malaysia.

Apakah peranan kabinet tersebut?

- A Menamatkan pentadbiran British
- B Membincangkan hubungan diplomatik
- C Mengubah sistem berasaskan Westminster
- D Membincangkan isu keselamatan dalam negeri

- 17 Suruhanjaya Perlembagaan Persekutuan Tanah Melayu ditubuhkan pada 8 Mac 1956. Mengapakah suruhanjaya ini di bentuk?
- A Menyusun perlembagaan
 B Menubuhkan negara baharu
 C Membuat rundingan di London
 D Melanjutkan tarikh kemerdekaan
- 18 Apakah peranan Bahasa Melayu menurut Perjanjian Persekutuan Tanah Melayu 1957?
- I Bahasa ilmu
 II Bahasa pengantar
 III Bahasa komunikasi
 IV Bahasa tunggal
- A I dan II
 B I dan IV
 C II dan III
 D III dan IV
- 19 Pada pendapat anda, apakah kepentingan menghayati erti kemerdekaan negara?
- A Mengenali sejarah negara
 B Meningkatkan kemajuan
 C Mengukuhkan jati diri
 D Menjadi pemimpin
- 20 Apakah tujuan Rancangan Buku Merah yang dilancarkan pada 25 Januari 1961?
- A Membuka tanah secara besar-besaran
 B Memantau projek pembangunan
 C Menyediakan peluang pekerjaan
 D Menstabilkan kewangan negara
- 21 Rajah menunjukkan ciri-ciri negara yang berdaulat.



Apakah ciri X?

- A Mempunyai rakyat
 B Mempunyai agama
 C Mempunyai lambang
 D Mempunyai ketenteraan

22 Maklumat berikut berkaitan peranan rakyat dalam mempertahankan kedaulatan negara.

- Menganggotai pasukan keselamatan
- Memberikan maklumat tentang pencerobohan sempadan negara

Apakah aspek yang ditekankan dalam dasar tersebut?

- A Meningkatkan kewibawaan pemimpin B Membawa kesejahteraan hidup
 C Mengukuhkan pertahanan D Melicinkan pentadbiran

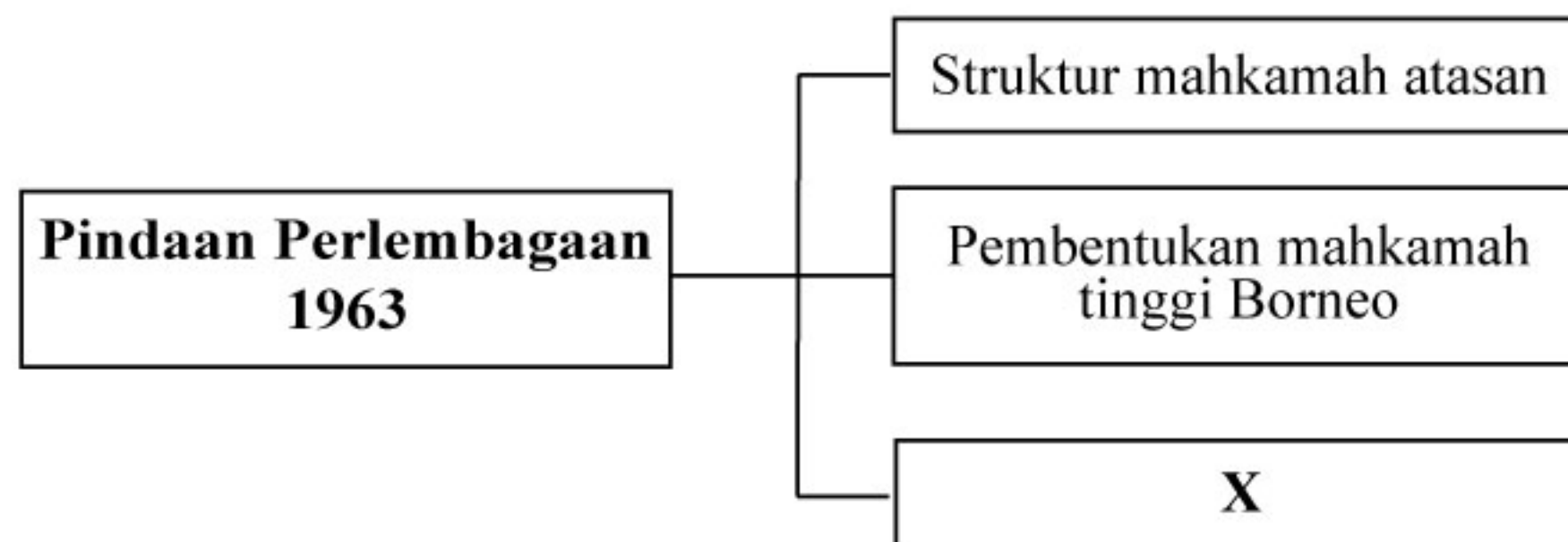
23 Gambar berikut berkaitan badan pentadbiran negara.



Apakah peranan institusi di atas?

- A Mengekalkan kedaulatan negara B Melantik Yang di-Pertuan Agong
 C Membentuk undang-undang negara D Memilih Timbalan dan Perdana Menteri

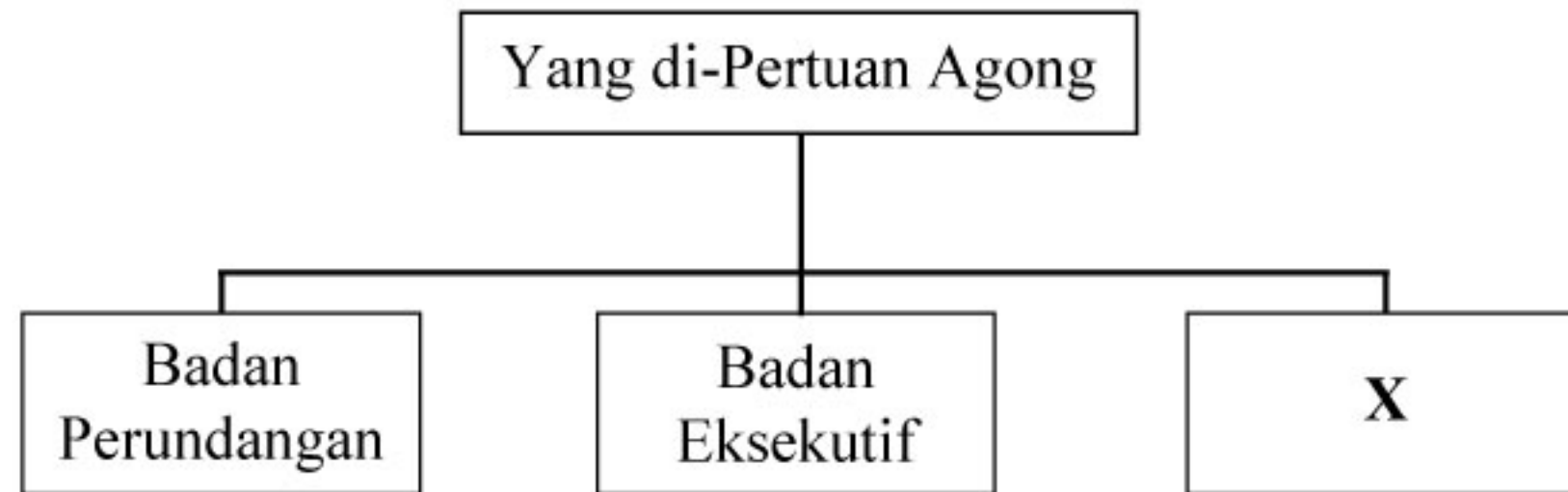
24 Rajah berikut berkaitan pindaan Perlembagaan 1963.



Apakah X?

- A Penggunaan bahasa Melayu
 B Pemansuhan kuasa imigresen
 C Pelaksanaan sistem Demokrasi Berparlimen
 D Pengenalan jawatan Yang di-Pertua Negeri

25 Rajah menunjukkan pengasingan kuasa dalam pemerintahan negara.



Apakah peranan X?

- A Membuat pindaan perlembagaan B Mentafsirkan undang-undang
 C Melaksanakan dasar-dasar D Menggubal perlembagaan

26 Perlembagaan Persekutuan memperuntukkan kuasa budi bicara pada Yang di-Pertuan Agong. Apakah tindakan yang membuktikan kuasa tersebut?

- A Melakukan pindaan perlembagaan
 B Menyelesaikan perisytiharan sempadan
 C Pengisytiharan undang-undang darurat
 D Pelantikan ketua kerajaan persekutuan

27 Senarai berikut adalah badan berkanun yang ditubuhkan bagi menjayakan sosioekonomi negara.

- Lembaga Penyatuan dan Pemulihan Tanah Persekutuan (FELCRA)
- Lembaga Kemajuan Tanah Persekutuan (FELDA)

Apakah faktor kejayaan pengurusan badan berkanun tersebut?

- A Kepelbagaian kemudahan asas di luar bandar
 B Kerjasama Kerajaan Persekutuan dan Kerajaan Negeri
 C Kemajuan teknologi moden dalam pertanian
 D Keberkesanan Dasar Pertanian Negara

28 Apakah majlis yang ditubuhkan untuk menyelaraskan pentadbiran Kerajaan Persekutuan dengan Kerajaan Negeri?

- I Majlis Persekutuan Negeri
 II Majlis Khazanah Nasional
 III Majlis Kewangan Negara
 IV Majlis Tanah Negara

- A I dan II B I dan IV
 C II dan III D III dan IV

29 Tokoh berikut adalah Pegawai Tinggi British.



Sir Gerald Templer



Sir Geofroy Tory

Apakah persamaan kedua-dua tokoh tersebut?

- A Mencadangkan penggabungan wilayah
 - B Merancang pengasingan kuasa
 - C Menganggotai Suruhanjaya Cobbold
 - D Membubarkan Dewan Parlimen British
- 30 Tarikh asal pembentukan Malaysia 31 Ogos 1963 ditangguhkan kepada 16 September 1963. Mengapa situasi ini berlaku?
- A Pembubaran parlimen Tanah Melayu
 - B Kelewatan laporan Setiausaha PBB
 - C Pemisahan Singapura dari Malaysia
 - D Tindakan ketenteraan Indonesia
- 31 Mesyuarat berikut telah diadakan atas arahan Tunku Abdul Rahman Putra al-Haj.

1 Julai 1965

Mesyuarat antara Tun Abdul Razak Hussein bersama beberapa menteri seperti Dr. Ismail Abdul Rahman, Tan Siew Sin dan V.T. Sambathan.

Apakah perkara yang dibincangkan dalam mesyuarat tersebut?

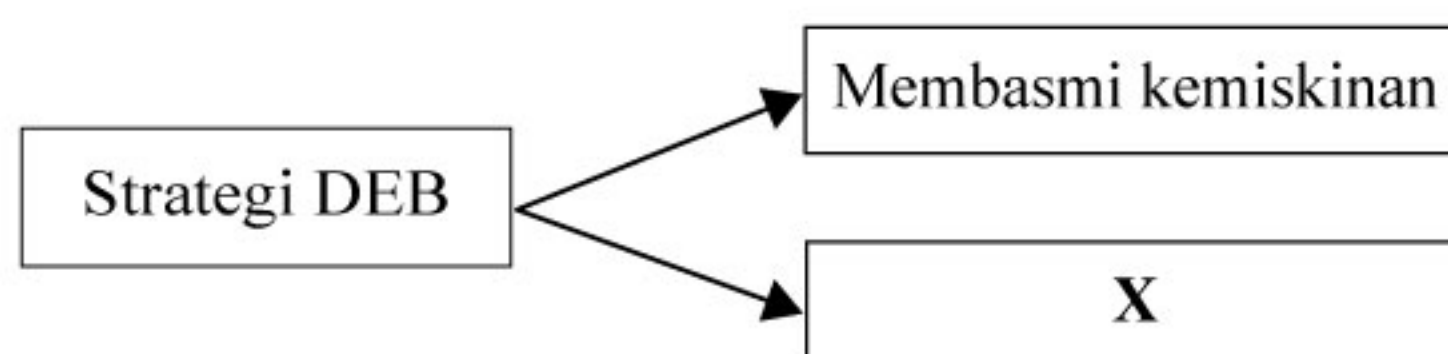
- A Pemisahan Singapura
- B Pembubaran Parlimen
- C Pembentukan Malaysia
- D Pengeboman Tugu Negara

- 32 Mengapakah kerajaan melancarkan Operasi Hammer di Sarawak?
- A Menghentikan rusuhan kaum
 B Melemahkan parti berhaluan kiri
 C Menghapuskan ancaman komunis
 D Menghalang pencerobohan pendatang
- 33 Institut Bahasa, Kesusasteraan dan Kebudayaan Melayu (IBKKM) ditubuhkan pada 1 Disember 1972 di Universiti Kebangsaan Malaysia (UKM).
 Apakah peranan institut tersebut?
- A Pusat penerbitan
 B Pusat penyelidikan
 C Pusat pengumpulan
 D Pusat penterjemahan
- 34 Senarai berikut berkaitan sukan yang dianjurkan di negara kita.

- Majlis Sukan Sekolah-Sekolah Malaysia (MSSS)
- Majlis Sukan Universiti Malaysia (MASUM)
- Sukan Malaysia (SUKMA)

Apakah tujuan sukan tersebut diadakan?

- A Mengimbangi ekonomi antara kaum
 B Memajukan industri pelancongan
 C Memantapkan ekonomi negara
 D Memperkukuh perpaduan
- 35 Rajah berikut berkaitan strategi Dasar Ekonomi Baru (DEB).



Apakah X?

- A Menggiatkan sektor swasta
 B Menggalakkan perladangan
 C Menyusun semula masyarakat
 D Memajukan perindustrian berat

- 36 Bagaimanakah kerajaan berjaya menurunkan kadar kemiskinan di Malaysia?
- I Membuka peluang pekerjaan
 - II Menyekat kemasukan imigran
 - III Menyediakan kemudahan pinjaman
 - IV Mempelbagaikan kegiatan ekonomi
- A I dan II
 - B I dan IV
 - C II dan III
 - D III dan IV
- 37 Antara yang berikut, yang manakah faktor penggubalan dasar luar Malaysia?
- A Kesaksamaan budaya
 - B Kedudukan strategik
 - C Keperluan nasional
 - D Melantik Yang di-Pertuan Agong
- 38 Jadual berikut berkaitan dengan penglibatan Malaysia dalam Pergerakan Negara-negara Tanpa Pihak (NAM).

Tahun	Perjanjian
1970	Perisytiharan Lusaka

Apakah kepentingan perjanjian tersebut?

- A Penceroohan Palestin ditamatkan
 - B Peningkatan kerjasama ekonomi
 - C Pelarian Bosnia diselamatkan
 - D Pengharaman senjata nuklear
- 39 Mengapakah Malaysia menjadi transit pemerdagangan orang ke negara lain?
- A Kedudukan yang strategik
 - B Kemudahan pelabuhan banyak
 - C Kawalan sempadan yang longgar
 - D Kelemahan penguatkuasaan undang-undang

- 40 Bagaimanakah Malaysia berjaya menangani kemelesetan ekonomi pada tahun 1997-1998?
- A Menambat kadar mata wang
 - B Membuat pinjaman Bank Dunia
 - C Meningkatkan barangan eksport
 - D Menggunakan pelan perancangan IMF

KERTAS PEPERIKSAAN TAMAT