

Ticket To Victory

Sejarah

Kertas 1



TERBITAN:

SEKTOR PEMBELAJARAN
JABATAN PENDIDIKAN NEGERI PERAK

EDISI KEDUA



PRAKATA

Jabatan Pendidikan Negeri Perak dengan kerjasama panel penggubal, guru cemerlang dan jurulatih utama mata pelajaran telah menghasilkan modul Ticket to Victory yang disediakan berdasarkan Kurikulum Standard Sekolah Menengah (KSSM) Tingkatan 4 dan 5. Penghasilan modul ini adalah hasil sumbangan tenaga guru - guru berpengalaman negeri Perak. Modul ini mengandungi contoh soalan mengikut topik dan skema jawapan bagi 21 mata pelajaran teras dan elektif terpilih berdasarkan format baharu peperiksaan Sijil Pelajaran Malaysia mulai tahun 2022.

Modul Ticket to Victory disediakan dalam format "pdf" dan boleh digunakan semasa pengajaran dan pembelajaran (PdP) atau digunakan sebagai bahan latihan pengukuhan, pengayaan dan ulangkaji di rumah. Bahan ini juga boleh dijadikan panduan kepada guru-guru untuk membina soalan mengikut format SPM. Justeru itu, diharap modul Ticket to Victory dapat dimanfaatkan sebaik mungkin demi kecemerlangan SPM di negeri Perak bertepatan dengan slogan Jabatan Pendidikan Negeri Perak iaitu "We Deliver".

Sektor Pembelajaran,
Jabatan Pendidikan Negeri Perak
Jalan Tawas Baru Utara,
Tasek Damai,
30010, Ipoh,
Perak Darul Ridzuan
Tel: 05-292 2745 / 05- 292 3603
Faks : 05 – 292 3851
2022

PRAKATA PENGARAH PENDIDIKAN



Assalamualaikum warahmatullahi wabarakatuh dan salam sejahtera.

Setinggi-tinggi syukur ke hadrat Allah SWT kerana dengan izin-Nya, Modul Ticket To Victory ini berjaya dihasilkan untuk edisi kedua.

Modul ini dihasilkan oleh Sektor Pembelajaran, Jabatan Pendidikan Negeri Perak dengan kolaboratif panel penggubal, guru cemerlang dan jurulatih utama mata pelajaran yang berpengalaman. Modul ini mengandungi 21 mata pelajaran teras dan elektif terpilih merangkumi sukatan tingkatan 4 dan 5.

Pembinaan modul ini adalah seiring dengan perubahan format peperiksaan SPM bermula tahun 2021 berasaskan Kurikulum Standard Sekolah Menengah (KSSM). Modul ini juga diharapkan dapat membantu guru-guru dan calon-calon SPM menjalankan latihan berfokus agar mereka lebih bersedia untuk menghadapi peperiksaan SPM nanti.

Bagi pihak jabatan, saya ingin merakamkan setinggi-tinggi penghargaan kepada Sektor Pembelajaran JPN dan PPD serta guru-guru yang bergabung tenaga dan idea menghasilkan modul ini. Setinggi-tinggi penghargaan juga diucapkan kepada Yayasan Perak atas sumbangan dan sokongan yang berterusan dalam menjayakan pembinaan modul ini.

Akhir kata, semoga Allah SWT sentiasa memberkati usaha yang kita lakukan ini dan pendidikan di negeri Perak akan terus cemerlang.

Sekian. Terima kasih.

AZNAN BIN ALIAS, AMP

Pengarah Pendidikan Negeri Perak



PRAKATA TIMBALAN PENGARAH PENDIDIKAN

Assalamualaikum warahmatullahi wabarakatuh kepada semua warga pendidik dan semua calon SPM negeri Perak.

Alhamdulillah, saya memanjatkan setinggi-tinggi kesyukuran ke hadrat Allah SWT dengan berkat izin dan limpah kurnia-Nya, Modul Ticket To Victory ini dapat direalisasikan untuk edisi kedua. Modul ini melibatkan 21 mata pelajaran teras dan elektif terpilih merangkumi sukatan tingkatan 4 dan 5.

Saya ingin mengucapkan terima kasih kepada semua bidang di Sektor Pembelajaran, JPN Perak dan semua panel penggubal modul yang terdiri daripada guru cemerlang, jurulatih utama mata pelajaran dan guru berpengalaman yang telah bertungkus lumus mengorbankan masa, tenaga dan buah fikiran sehingga berjaya menghasilkan modul ini mengikut masa yang ditetapkan.

Penghasilan Modul Ticket To Victory ini adalah salah satu inisiatif Jabatan Pendidikan Perak untuk menyediakan sumber pembelajaran dan latihan kepada calon-calon SPM. Pemilihan item soalan adalah merangkumi pelbagai aras kesukaran bagi setiap mata pelajaran. Soalan - soalan telah disusun berdasarkan format terkini peperiksaan SPM seiring dengan Kurikulum Standard Sekolah Menengah.

Modul pembelajaran ini akan disebarluaskan kepada guru-guru melalui blog Anjung Ilmu Guru Perak. Saya amat yakin penggunaan modul ini dan juga komitmen semua yang terlibat akan memberikan impak yang besar kepada kecemerlangan murid di negeri Perak dalam peperiksaan Sijil Pelajaran Malaysia nanti.

Sekian. Terima kasih.

HAJAH RAHIMAH BINTI MOHAMED, AMP

Timbalan Pengarah Pendidikan, Sektor Pembelajaran
Jabatan Pendidikan Negeri Perak

Isi Kandungan

TAJUK T4	MUKA SURAT
BAB 1 WARISAN NEGARA BANGSA	7
BAB 2 KEBANGKITAN NASIONALISME	11
BAB 3 PERANG DUNIA & PENDUDUKAN JEPUN DI NEGARA KITA	15
BAB 4 ERA PERALIHAN KUASA BRITISH DI NEGARA KITA	19
BAB 5 PERSEKUTUAN TANAH MELAYU 1948	23
BAB 6 ANCAMAN KOMUNIS & PENGISYTIHARAN DARURAT	27
BAB 7 USAHA KE ARAH KEMERDEKAAN	31
BAB 8 PILIHAN RAYA	35
BAB 9 PERSEKUTUAN TANAH MELAYU 1957	39
BAB 10 PEMAHSYURAN KEMERDEKAAN	43
TAJUK T5	MUKA SURAT
BAB 1 KEDAULATAN NEGARA	47
BAB 2 PERLEMBAGAAN PERSEKUTUAN	51
BAB 3 RAJA BERPERLEMBAGAAN & DEMOKRASI BERPARLIMEN	55
BAB 4 SISTEM PERSEKUTUAN	59
BAB 5 PEMBENTUKAN MALAYSIA	64
BAB 6 CABARAN SELEPAS PEMBENTUKAN MALAYSIA	68
BAB 7 MEMBINA KESEJAHTERAAN NEGARA	72
BAB 8 MEMBINA KEMAKMURAN NEGARA	76
BAB 9 DASAR LUAR MALAYSIA	80
BAB 10 KECEMERLANGAN MALAYSIA DI PERSADA DUNIA	84
SKEMA JAWAPAN	88

Penghargaan

Penasihat



EN. AZNAN BIN ALIAS, AMP
PENGARAH PENDIDIKAN PERAK

Relia Projek



HJH. RAHIMAH BINTI MOHAMED, AMP
TIMBALAN PENGARAH PENDIDIKAN
SEKTOR PEMBELAJARAN JPN PERAK

Penyelaras



TN. HJ. AHMAD LUTFI BIN ABU BAKAR, PPT
KETUA PENOLONG PENGARAH
KANAN SAINS SOSIAL



EN. AHMAD TARMIZI BIN ZAINAL ABIDIN
PENOLONG PENGARAH SAINS SOSIAL



EN. MOHAMMAD MUNIS BIN MUSA
PENOLONG PENGARAH SAINS SOSIAL



EN. MOHD DZULKIFLY BIN MUSANIF
PENOLONG PENGARAH SAINS SOSIAL



EN. YUSUFF BIN AHMAD @ HARUN
SMK SULTAN AZLAN SHAH



EN. KHOO PHAU TZEN
SEKOLAH MENENGAH SAINS
TELOK INTAN



AZMIL BIN SHARIFFUD-DIN
SMK ALANG ISKANDAR



MOHD ALIF FIRDAUS BIN ISMAIL
SMK SUNGKAI



EN. MOHD AZLIZAN BIN OMAR
SMK YUK KWAN



PN. JULIANA BINTI ALI
PEGAWAI SISC+ PPD(KU)



EN. SYAHARAWI BIN ISHAK
SMK TRONOH



EN. MOHD HUSNI BIN ARIFFIN
SEKOLAH MENENGAH KEBANGSAAN
RAPAT SETIA



EN. CHE SULAIMAN BIN YAACOB
SEKOLAH MENENGAH KEBANGSAAN
TASEK DAMAI



EN. MOHD AZRUL BIN ZAMAL ABIDIN
SMK TAMBUN

Tingkatan 4

1 Senarai berikut merupakan kerajaan Alam Melayu yang mewariskan ciri-ciri negara bangsa kepada kerajaan Alam Melayu selepasnya.

- * Funan
- * Champa
- * X

Apakah kerajaan X?

- A Srivijaya
- B Temasik
- C Selangor
- D Pahang

2 Berikut merupakan gelaran yang dikaitkan dengan Raja Champa.

- * Pemerintah yang suci
- * Dewa Siva

Apakah tujuan gelaran tersebut?

- A Meluaskan pengaruh
- B Mengukuhkan kedudukan
- C Menguatkan Kerajaan
- D Meningkatkan kerjasama

3 Undang-undang berikut digunakan oleh sebuah kerajaan Alam Melayu.

Undang - undang Kutara Munawa

Apakah kerajaan tersebut?

- A Angkor
- B Srivijaya
- C Majapahit
- D Gangga Negara

4 Bagaimanakah rakyat kerajaan Srivijaya membuktikan kesetiaan mereka kepada pemerintah?

- A Meminum air sumpah
- B Membuat perjanjian
- C Menjadi hamba
- D Membayar ufti

5 Mengapakah raja di dalam kerajaan Alam Melayu diberikan penghormatan yang tinggi oleh rakyat?

- A Menjaga kebajikan rakyat
- B Menjadi tonggak utama kerajaan
- C Merupakan lambang perpaduan rakyat
- D Mengekalkan keselamatan wilayah takluk


6 Maklumat berikut berkaitan dengan ciri negara bangsa dalam kerajaan Alam Melayu.

X	Kawasan yang rakyatnya menerima dan memperakui pemerintahan seseorang raja
---	--

Apakah ciri tersebut?

- A Rakyat
- B Wilayah pengaruh
- C Kedaulatan
- D Perlembagaan

7 Gambar berikut menunjukkan inskripsi yang dibina oleh kerajaan Srivijaya.



Telaga Batu

Apakah tujuan inskripsi tersebut dibina?

- A Mengadakan upacara perkahwinan
- B Menjadi penunjuk arah pedagang
- C Menjalankan upacara persetiaan
- D Menjadi pusat kutipan cukai

8 Senarai berikut merupakan ciri-ciri negara bangsa dalam kerajaan Alam Melayu.

Ciri - ciri Negara Bangsa Alam Melayu

- * Raja
- * Undang - Undang
- * Wilayah Pengaruh
- * X

X ialah

- A Rakyat
- B Kerajaan
- C Kedaulatan
- D Perlembagaan

9 Apakah aspek yang diberikan penekanan oleh kesultanan Johor-Riau dalam usaha melaksanakan ciri-ciri negara bangsa?

- A Kemakmuran ekonomi
- B Kemajuan perdagangan
- C Kepentingan agama Islam
- D Kedudukan Bahasa Melayu

10 Kerajaan Srivijaya yang berpusat di Palembang telah mewariskan ciri-ciri negara bangsa kepada sebuah kerajaan kesultanan Melayu.

Apakah kerajaan tersebut?


- A Kedah
- B Melaka
- C Pahang
- D Kelantan

Tingkatan 4

11 **6** Pemerintahan beraja di Melaka diperkukuhkan dengan Sistem Pembesar Empat Lipatan. Apakah kepentingan sistem tersebut?

- A Menjadi tonggak pentadbiran
- B Mengiktiraf peranan pembesar
- C Mengukuhkan kedaulatan raja
- D Menjamin keadilan pemerintahan

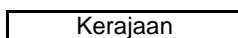
12 **6** Maklumat berikut berkaitan dengan perubahan gelaran pemerintah kerajaan Melaka



Mengapakah berlakunya perubahan gelaran tersebut?

- A Perluasan kuasa
- B Kedatangan Islam
- C Keinginan pemerintah
- D Peningkatan hubungan diplomatik

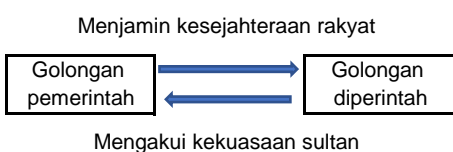
13 **6** Maklumat berikut berkaitan dengan ciri negara bangsa yang wujud dalam Kesultanan Melayu Melaka.



Apakah bukti kewujudan ciri tersebut?

- A Kewujudan raja
- B Ketaatan rakyat
- C Kewujudan pembesar
- D Kemajuan perdagangan

14 **6** Rajah berikut menunjukkan hubungan timbal balik antara golongan pemerintah dengan golongan yang diperintah.



Apakah kepentingan hubungan timbal balik tersebut?

- A Mewujudkan persefahaman
- B Mengekalkan keamanan
- C Menjamin kemakmuran
- D Menjana kemajuan

15 **6** Kerajaan China telah menghantar utusan yang diketuai oleh Laksamana Cheng Ho ke Melaka. Apakah tujuan penghantaran utusan tersebut?

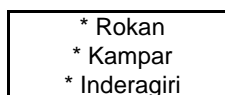
- A Mengeratkan hubungan
- B Mengikat tali persaudaraan
- C Menjalin kerjasama ekonomi
- D Mengadakan pakatan ketenteraan

16 **6** Golongan diperintah terdiri daripada golongan rakyat dan hamba. Apakah peranan golongan tersebut?

- I Membantu kesetiaan
- II Membantu pentadbiran
- III Mewujudkan keamanan
- IV Mematuhi undang - undang

- A I dan II C II dan III
- B I dan IV D III dan IV

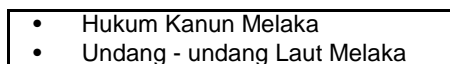
17 **6** Senarai berikut merupakan sebahagian daripada wilayah yang diperoleh oleh Kesultanan Melayu Melaka.



Bagaimanakah wilayah tersebut diperoleh?

- A Menerusi persahabatan
- B Melalui perkahwinan
- C Melalui peperangan
- D Menerusi naungan

18 **7** Senarai berikut merupakan undang-undang yang terdapat dalam Kesultanan Melayu Melaka.



Apakah persamaan undang-undang tersebut?

- A Undang - undang adat
- B Undang - undang bertulis
- C Undang - undang tidak bertulis
- D Undang - undang tubuh negeri

19 **7** Kerajaan Melayu Melaka menggubal undang-undangnya sendiri iaitu Hukum Kanun Melaka dan Undang-undang Laut Melaka.

Apakah kesan penggubalan undang-undang tersebut?

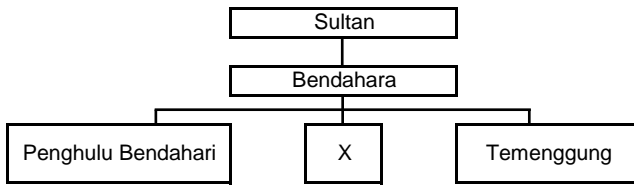
- A Mengukuhkan hubungan luar
- B Menjamin keunggulan kerajaan
- C Mengekalkan kedaulatan negeri
- D Mengelakkan campurtangan asing

20 **7** Cap mohor merupakan lambang kebesaran Kesultanan Melayu Melaka.

Apakah fungsi cap mohor tersebut?

- A Menggambarkan kewibawaan sultan
- B Menonjolkan kekuasaan sultan
- C Mengiktiraf kedudukan sultan
- D Mengesahkan arahan sultan

21 Rajah berikut menunjukkan sistem pentadbiran Kesultanan Melayu Melaka.



Jawatan X ialah

- A Bentara
- B Syahbandar
- C Hulubalang
- D Laksamana**

22 Pernyataan berikut berkaitan dengan kawasan pentadbiran yang dianugerahkan oleh Sultan Melaka

Sultan Melaka memberikan kuasa memerintah atau mentadbir sesuatu wilayah, sungai atau pulau kepada para Pembesar Berempat.

Apakah istilah yang merujuk kepada kawasan pentadbiran tersebut?

- A Kawasan taklukan
- B Kawasan pegangan**
- C Kawasan pemakanan
- D Kawasan perlindungan

23 Senarai berikut merupakan pembesar lain yang dilantik oleh Sultan Melaka

- Syahbandar
- Hulubalang
- Bentara

Apakah peranan pembesar tersebut?

- A Memastikan keselamatan wilayah
- B Membantu dalam pentadbiran**
- C Menjalankan perluasan kuasa
- D Memajukan aktiviti ekonomi

24 Wilayah taklukan dan naungan Kesultanan Melayu Melaka memberi sumbangan kepada sumber. Apakah bentuk sumbangan tersebut?

- I Pemberian ufti
- II Pembayaran cukai
- III Pembayaran royalti
- IV Penghantaran Bunga emas

- A I dan II**
- B I dan IV
- C II dan III
- D III dan IV

25 Kesultanan Melayu Melaka mewujudkan jawatan pembesar di peringkat jajahan untuk mentadbir daerah. Bagaimanakah jawatan tersebut diwujudkan?

- A Dipilih oleh rakyat
- B Dilantik oleh Sultan**
- C Dipilih oleh jawatankuasa Istana
- D Dilantik oleh Pembesar Berempat

26 Maklumat berikut berkaitan dengan bidang tugas Bendahara dalam Kesultanan Melayu Melaka.

- Bidang Tugas Bendahara
- Ketua Pentadbir Utama
 - Penasihat Sultan

Antara berikut, manakah jawatan yang mempunyai persamaan dengan bidang tugas tersebut?

- A Ketua Setiausaha Negara
- B Yang di-Pertuan Agong
- C Yang di-Pertuan Negeri
- D Perdana Menteri**

27 Tokoh berikut merupakan bendahara yang paling lama berkhidmat dalam Kesultanan Melayu Melaka

Bendahara Tun Perak

Apakah tugas beliau?

- A Ketua turus angkatan tentera**
- B Panglima angkatan laut
- C Pengurus kewangan
- D Ketua Duta

28 Pembesar-pembesar berikut telah diberi tanggungjawab yang sama oleh pemerintah Melaka.

- Pembesar daerah
- Syahbandar

Apakah tanggungjawab tersebut?

- A Mengendalikan urusan perdagangan
- B Melaksanakan kutipan cukai**
- C Menyediakan tenaga kerja
- D Menjaga kebajikan rakyat

29 Jadual berikut menunjukkan perbandingan tugas pembesar dalam Kesultanan Melayu Melaka dengan pentadbir Malaysia

Ciri Perbandingan	Kesultanan Melayu Melaka	Malaysia
Jawatan	X	Menteri Kewangan
Bidang Tugas	Menguruskan perbendaharaan	Mengurus kewangan kerajaan persekutuan

Apakah X?

- A Penghulu Bendahari**
- B Pemungut Hasil
- C Temenggung
- D Syahbandar

30 Apakah bentuk hukuman yang diterima sekiranya mengingkari arahan Sultan Melaka?

- A Denda
- B Bunuh**
- C Penjara
- D Buang Negeri

Tingkatan 4

31 **MUKA SURAH 10** Hukum Kanun Melaka dan Undang-undang Laut Melaka digubal berdasarkan dua teras. Apakah teras tersebut?

- I Syariah
- II Hukum Adat
- III Hukum Raja
- IV Pantang Larang
- A** I dan II C II dan III
- B I dan IV D III dan IV

32 **MUKA SURAH 10** Jadual berikut menjelaskan kadungan Fasal 30 Hukum Kanun Melaka

Fasal 30 Hukum Kanun Melaka
<ul style="list-style-type: none"> • Amalan riba diharamkan dalam perniagaan • Orang yang menjalankan perniagaan hendaklah akil baligh, siuman dan perlu melafazkan niat jual beli

Apakah yang dibuktikan melalui kandungan undang-undang tersebut?

- A Pemupukan nilai murni
- B** Penerapan unsur Islam
- C Pengekalan budaya timur
- D Pengamalan etika berniaga

33 **MUKA SURAH 10** Senarai berikut merupakan nakhoda-nakhoda Melaka

- | |
|--|
| <ul style="list-style-type: none"> • Nakhoda Diri • Nakhoda Jenal • Nakhoda Sahak |
|--|

Apakah sumbangan nakhoda-nakhoda tersebut?

- A Menguruskan pelabuhan
- B Menguasai ilmu pelayaran
- C Menjaga kebajikan pedagang
- D** Menghasilkan undang - undang

34 **MUKA SURAH 11** Dalam Fasal 9 Undang-undang Laut Melaka, terdapat penegasan bahawa seorang malim harus arif tentang ilmu pelayaran.

Apakah tujuan penegasan tersebut?

- A Menjamin keselesaan
- B** Memudahkan perjalanan
- C Memastikan keselamatan
- D Menunjukkan kewibawaan

35 **MUKA SURAH 12** Apakah tanggungjawab pembesar Melaka dalam sistem kerah?

- A Mengutip cukai
- B** Menyediakan tentera
- C Membekalkan makanan
- D Menjalankan gotong royong

36 **MUKA SURAH 13** Apakah tujuan konsep berikut diwujudkan dalam zaman Kesultanan Melayu Melaka?

Tulah

- A Menghapuskan pengkhianat
- B** Mengelakkan penderhakaan
- C Menghalang pencerobohan
- D Menyekat kebebasan

37 **MUKA SURAH 12** Maklumat berikut berkaitan dengan waadat antara Sang Sapurba dengan Demang Lebar Daun

Tokoh	Peranan
Sang Sapurba	Mewakili golongan pemerintah
Demang Lebar Daun	Mewakili golongan diperintah

Apakah kandungan waadat tersebut?

- A** Hubungan pemerintah dan rakyat
- B Hubungan persahabatan
- C Kerjasama pertahanan
- D Kerjasama ekonomi

38 **MUKA SURAH 13** Bagaimanakah rakyat Melaka menunaikan tanggungjawabnya kepada pemerintah?

- A Menghadiri majlis istana
- B Memelihara keamanan
- C** Menjadi tentera
- D Mengutip hasil

39 **MUKA SURAH 13** Senarai berikut merupakan jenis hamba yang terdapat dalam Kesultanan Melayu Melaka.

Jenis Hamba di Melaka
<ul style="list-style-type: none"> • Hamba raja • Hamba berhutang • X

X ialah

- A Hamba abdi
- B** Hamba biasa
- C Hamba perang
- D Hamba tawanan

40 **MUKA SURAH 13** Petikan berikut menggambarkan hubungan terjalin antara pemerintah dengan rakyat.

Rakyat itu umpama akar, raja itu umpama pohon; jikalau tiada akar, nescaya pohon tiada akan dapat berdiri demikian lagi raja itu dengan segala rakyatnya.

Apakah kepentingan hubungan tersebut kepada raja?

- A Menjamin keselamatan
- B** Mengekalkan kedaulatan
- C Memelihara kesejahteraan
- D Mendapat keberkatan

1 Pernyataan berikut merupakan maksud nasionalisme yang diberikan oleh seorang tokoh sejarah.

22

Nasionalisme merupakan satu gerakan yang meletakkan kesetiaan seseorang hanya kepada negara atau bangsanya.

Tokoh sejarah tersebut ialah

- A Hans Kohn
- B Dato' Onn Jaafar
- C Dr. Burhanuddin al-Helmi
- D Professor William R. Roff

2 Nasionalisme Melayu telah wujud sejak zaman Kesultanan Melayu Melaka. Apakah ciri nasionalisme ketika itu?

23

- A Kesetiaan kepada raja
- B Keinginan untuk merdeka
- C Mempupuk perpaduan kaum
- D Mempertahankan adat resam

3 Apakah isu yang diperjuangkan dalam gerakan nasionalisme berikut?

24

- Revolusi Keagungan
- Revolusi Perancis

- A Menghalau kuasa asing
- B Menyekat kuasa pihak gereja
- C Menentang pemerintahan beraja
- D Menghapuskan golongan bangsawan

4 Maklumat berikut berkaitan dengan karya yang dihasilkan oleh John Locke.

24

Two Treatises of Government

Apakah prinsip yang diperjuangkan dalam karya tersebut?

- A Raja berkuasa mutlak
- B Raja berperlembagaan
- C Keunggulan suara rakyat
- D Kedaulatan undang - undang

5 Senarai berikut merupakan akta-akta yang diperkenalkan oleh British di Amerika

25

- Akta Teh
- Akta Gula
- Akta Setem

Mengapakah British memperkenalkan akta tersebut?

- A Mengawal harga
- B Memungut cukai
- C Melindungi peniaga
- D Memajukan perdagangan

6 Revolusi Perancis 1789 teretus daripada idea nasionalisme yang diperjuangkan oleh ahli falsafah Perancis .

25

Apakah idea nasionalisme tersebut?

- I Persaudaraan
- II Persamaan
- III Perjuangan
- IV Perpaduan

- A I dan II C II dan III
- B I dan IV D III dan IV

7 Maklumat berikut berkaitan dengan revolusi yang berlaku di Barat pada abad ke -18

25

Tahun	Peristiwa
1789	Revolusi Perancis

Apakah kesan revolusi tersebut?

- A Permulaan sistem republik
- B Penyebaran ideologi komunis
- C Pengukuhan kuasa golongan raja
- D Pengekalan kuasa golongan bangsawan

8 Senarai berikut merupakan pertubuhan semasa gerakan nasionalisme awal di India.

26


- Brahma Samai
- Arya Samai

Apakah sumbangan pertubuhan tersebut?

- A Mempertahankan budaya tempatan
- B Memperjuangkan kemerdekaan
- C Memajukan pendidikan moden
- D Meningkatkan persaudaraan

9 Bagaimanakah tokoh berikut melakukan penentangan terhadap British di India?

26



Mahatma Ghandi

- A Menggerakkan perjuangan secara militan
- B Mengamalkan dasar tidak bekerjasama
- C Melakukan pemberontakan bersenjata
- D Menyokong ideologi komunis

10 Mengapakah masyarakat China hilang kepercayaan terhadap pemerintahan Dinasti Manchu?

26

- A Tidak mempunyai pentadbir berkelayakan
- B Gagal menghalang pengaruh Barat
- C Gagal menangani masalah rasuah
- D Tidak menjaga kebajikan rakyat

11 Maklumat berikut berkaitan dengan ideologi perjuangan Dr Sun Yat Sen.

26

Tiga Prinsip Rakyat (San-Min-Chu-i)
<ul style="list-style-type: none"> • Demokrasi • Nasionalisme • X

Apakah X?

- A Keadilan ekonomi
- B Kebajikan sosial**
- C Kebebasan individu
- D Kesejahteraan hidup

12 Pernyataan berikut berkaitan dengan Gerakan Pan Islamisme.

27

Gerakan Pan Islamisme yang berlaku di Timur Tengah mendapat sokongan umat Islam seluruh dunia termasuklah Tanah Melayu
--

Apakah bukti yang menyokong pernyataan tersebut?

- A Penentangan Dol Said di Naning
- B Kebangkitan Tok Janggut di Kelantan**
- C Kebangkitan Dato' Bahaman di Pahang
- D Penentangan Dato' Maharaja Lela di Perak

13 Apakah faktor yang mencetuskan gerakan nasionalisme berikut?

27

<ul style="list-style-type: none"> • Gerakan Islah • Gerakan Pan Islamisme
--

- A Mengukuhkan kedudukan pemerintah
- B Meningkatkan perpaduan kaum
- C Mengekalkan budaya tempatan
- D Mempertahankan agama Islam**

14 Maklumat berikut berkaitan dengan gerakan pemulihan Jepun.

27

Tahun	Peristiwa
1789	Maharaja Mikado Meiji melancarkan gerakan pemulihan Jepun

Apakah tujuan gerakan pemulihan tersebut?

- A Dikenali sebagai negara maju
- B Diiiktiraf sebagai kuasa luar
- C Dihormati oleh negara Barat**
- D Disanjung oleh rakyat

15 Akhbar Kalayan memainkan peranan penting dalam gerakan nasionalisme di Filipina.

28

Apakah peranan akhbar tersebut?

- A Memuatkan berita tempatan
- B Menyebarkan idea revolusi**
- C Menerbitkan karya sastera
- D Memartabatkan bahasa

16 Maklumat berikut menjelaskan tentang Pemberontakan Saya San.

29

Pemberontakan Saya San (1930-1932)
<ul style="list-style-type: none"> • Diketuai oleh Saya San, seorang pongyi • Mendapat sokongan daripada golongan petani

Mengapakah golongan petani menyokong pemberontakan tersebut?

- A Dikenakan kerahan tenaga
- B Dipaksa menyerahkan tanah
- C Dibebankan pelbagai jenis cukai**
- D Dihalang mengusahakan tanaman dagangan

17 Golongan berikut mempelopori gerakan nasionalisme di Vietnam

29

<ul style="list-style-type: none"> • Golongan Bangsawan • Pegawai golongan mandarin

Apakah matlamat perjuangan mereka?

- A Menggabungkan wilayah Indochina
- B Memulihkan pemerintahan beraja**
- C Mencapai kemerdekaan negara
- D Melaksanakan pilihan raya

18 Parti politik berikut terlibat dalam gerakan nasionalisme di Vietnam selepas Perang Dunia Pertama.

29

<ul style="list-style-type: none"> • Parti Nasionalis Vietnam • Parti Komunis Vietnam

Apakah persamaan parti tersebut?

- A Berteraskan demokrasi
- B Berfahaman sosialisme
- C Berjuang secara revolusi**
- D Bertindak secara diplomasi

19 Maklumat berikut pembentukan Permuafakatan Perhimpunan Politik Kebangsaan Indonesia (PPPKI)

30

Permuafakatan Perhimpunan Politik Kebangsaan Indonesia (PPPKI)
<ul style="list-style-type: none"> • Dipelopori oleh Soekarno • Menggabungkan organisasi dan parti politik Indonesia

Apakah matlamat pembentukannya?

- A Mewujudkan kerjasama kaum
- B Mempertahankan budaya bangsa
- C Memperjuangkan kemerdekaan**
- D Menghalang ancaman sekularisme

20 Mengapakah pemerintah Thailand menjalin hubungan baik dengan kuasa barat seperti Britain dan Amerika Syarikat ?

31

- A Memelihara kedaulatan negara**
- B Memenuhi kehendak rakyat
- C Meningkatkan imej negara
- D Menjadi negara maju

21 **MUKA SURAH 31** Bagaimanakah Perdana Menteri Thailand, Phibulsongkram menyekat penguasaan ekonomi golongan kapitalis Barat dan orang Cina ? oleh

- I Mengutamakan penduduk peribumi
- II Mengetatkan syarat kerakyatan
- III Memajukan pendidikan moden
- IV Meluluskan undang - undang

- A I dan II C II dan III
- B I dan IV** D III dan IV

22 **MUKA SURAH 32** Berikut merupakan tindakan yang dilakukan oleh Sultan Mahmud Shah

Tindakan Sultan Mahmud Shah
• Menyerang Portugis sebanyak tiga kali

Apakah tujuan tindakan tersebut?

- A Mengawal laluan perdagangan
- B Meluaskan jajahan takluk
- C Menguasai semula negeri**
- D Menyelamatkan kaum kerabat

23 **MUKA SURAH 33** Apakah persamaan ciri perjuangan tokoh berikut?

<ul style="list-style-type: none"> • Penghulu Dol Said • Dato' Bahaman • Tok Janggut

- A Bekerjasama dengan penjajah
- B Memperjuangkan hak asasi
- C Menuntut kemerdekaan
- D Bersifat setempat**

24 **MUKA SURAH 34** Senarai berikut merupakan akhbar yang diterbitkan pada abad ke-20

<ul style="list-style-type: none"> • Al - Imam • Neracha • Pengasuh
--

Apakah peranan akhbar tersebut?

- A Menjadi bahan bacaan di sekolah
- B Merupakan media pengiklanan
- C Memuatkan idea pembaharuan**
- D Menyiarkan berita luar negara

25 **MUKA SURAH 35** Bagaimanakah golongan intelektual berpendidikan Inggeris dan Melayu menyedarkan rakyat tentang nasionalisme?

- I Memimpin gerakan penentangan
- II Melancarkan gerakan dakwah
- III Menubuhkan persatuan
- IV Menggunakan akhbar

- A I dan II C II dan III
- B I dan IV **D III dan IV**

26 **MUKA SURAH 36** Maklumat berikut berkaitan dengan tokoh Kaum Muda

<ul style="list-style-type: none"> • Sheikh Muhammad Tahir Jalaludin • Syed Sheikh al - Hadi
--

Apakah sumbangan tokoh tersebut?

- A Menggalakkan aktiviti penulisan
- B Mengekalkan adat tradisi
- C Menterjemah karya asing
- D Menubuhkan madrasah**

27 **MUKA SURAH 37** Maktab Melayu Kuala Kangsar ditubuhkan pada tahun 1905 .

Apakah tujuan asal penubuhannya?

- A Melahirkan golongan pentadbir**
- B Melatih guru sekolah menengah
- C Menyediakan tenaga kerja mahir
- D Memajukan pendidikan moden

28 **MUKA SURAH 37** Maktab Perguruan Sultan Idris (SITC) telah mewujudkan Pejabat Karang Mengarang yang diketuai oleh Za'ba.

Apakah kejayaan yang dicapai oleh pejabat tersebut?

- A Perkembangan pelbagai bidang ilmu
- B Penghasilan buku yang berkualiti**
- C Peningkatan mutu pendidikan
- D Penyatuan rumpun Melayu

29 **MUKA SURAH 38** Apakah maksud yang terkandung dalam seruan dalam akhbar tersebut ?

<p><i>"fajar telah tersingsing, bangunlah wahai bangsaku"</i></p> <p style="text-align: right;">Fajar Sarawak</p>

- A Berusaha menghapuskan rasuah
- B Berusaha menyatukan bangsa
- C Bangkit menentang musuh
- D Bangkit menuju kejayaan**

30 **MUKA SURAH 38** Akhbar-akhbar berikut diterbitkan oleh kaum Cina dan India di Tanah Melayu.

Kaum	Nama Akhbar
Cina	Lat Pau
India	Tamil Nesan

Apakah kecenderungan dalam penulisan akhbar tersebut pada peringkat awal?

- A Meningkatkan ekonomi di Tanah Melayu
- B Melindungi kepentingan kaum sendiri**
- C Memupuk semangat kerjasama penduduk
- D Menyuburkan semangat cintakan Tanah Melayu

31 MEMORISE 38 Isu-isu berikut dibangkitkan dalam akhbar berbahasa Cina pada sekitar tahun 1930-an.

Akhbar X
<ul style="list-style-type: none"> • Memperjuangkan soal kesatuan sekerja • Memperjuangkan keadilan sosioekonomi bagi golongan kelas bawahan

Akhbar X ialah

- A Lat Pau
- B Nanyang Siang Pau**
- C Modern Daily News
- D Nanyang Tsung Hui Pao

32 MEMORISE 38 Maklumat berikut berkaitan dengan penubuhan Kesatuan Melayu Singapura.

Tahun	Peristiwa
1926	Penubuhan Kesatuan Melayu Singapura (KMS) oleh Mohamad Eunus Abdullah

Apakah tujuan penubuhan KMS?

- A Memperjuangkan pendidikan orang Melayu**
- B Membangkitkan perasaan anti-penjahaj
- C Mempertahankan tamadun bangsa
- D Mengeratkan persaudaraan

33 MEMORISE 40 Mengapakah Kesatuan Melayu Muda (KMM) melakukan tindakan berikut?

Kesatuan Melayu Muda mewujudkan gagasan yang dinamakan sebagai Melayu Raya melalui gabungan Tanah Melayu dan Indonesia.

- A Mengeratkan hubungan diplomatik
- B Mengukuhkan budaya bangsa
- C Menghapus sikap kenegerian
- D Menghalau kuasa asing**

34 MEMORISE 40 Mengapakah persatuan- persatuan negeri berikut menjalankan dasar bekerjasama dengan British?

<ul style="list-style-type: none"> • Persatuan Melayu Pahang • Persatuan Melayu Selangor • Persatuan Melayu Negeri Sembilan
--

- A Meningkatkan peluang untuk mentadbir**
- B Mendapat peluang dalam ekonomi
- C Memelihara kebajikan penduduk
- D Memperoleh pendidikan tinggi

35 MEMORISE 41 Jadual berikut menjelaskan tentang pertubuhan orang India di Tanah Melayu sebelum Perang Dunia Kedua

Tarikh Penubuhan	Latar Belakang Penubuhan
	Ditubuhkan di bawah pimpinan A.M.Soosay
Oktober 1963	Menggabungkan 12 persatuan India dan 4 dewan perniagaan

Apakah pertubuhan tersebut?

- A Persatuan India Taiping
- B Persatuan India Pulau Pinang
- C Central India Association of Malaya**
- D Malayan Indian Association

36 MEMORISE 41 Masyarakat Cina Peranakan telah menubuhkan Persatuan Orang Cina Peranakan British (SCBA) di Negeri-Negeri Selat. Apakah peranan yang dimainkan oleh persatuan tersebut?

- A Memajukan aktiviti perdagangan
- B Menggalakan pelajaran tinggi**
- C Menambah peluang pekerjaan
- D Menjalankan aktiviti kebajikan

37 MEMORISE 43 Tokoh berikut merupakan Presiden Malayan Estate Rubber Owner Association.



E.E.C. Thuraisingam

Apakah sumbangan tokoh tersebut?

- A Membimbing pekebun kecil getah
- B Menjalankan penyelidikan tanaman getah
- C Membantu meningkatkan perusahaan getah**
- D Membangunkan industri kecil berasas getah

38 MEMORISE 43 Maklumat berikut berkaitan dengan pertubuhan kebajikan untuk kepentingan orang Melayu di Singapura.

• Al-Jamiah al-Khairiah

Apakah kesan penubuhan pertubuhan tersebut?

- A Membangkitkan semangat berniaga**
- B Memupuk semangat setiakawan
- C Memajukan pendidikan wanita
- D Meningkatkan taraf hidup

39 MEMORISE 43 Apakah usaha yang dilakukan oleh guru-guru wanita Johor dalam menerapkan kesedaran tentang kepentingan pendidikan?

- A Mengadakan ceramah
- B Menerbitkan majalah**
- C Menyebarkan risalah
- D Menjalankan kempen

40 MEMORISE 43 Mengapakah British memperkenalkan dasar desentralisasi di Tanah Melayu?

- A Meningkatkan peluang pekerjaan
- B Mengembalikan kuasa sultan**
- C Mendapatkan sokongan rakyat
- D Memudahkan urusan pentadbiran

Tingkatan 4

1 Undang –undang berikut telah diperkenalkan oleh British di Tanah Melayu.

52

Enakmen Undang - Undang Islam 1904

Mengapakah undang-undang tersebut diperkenalkan?

- A Menamatkan pengajian ke luar negara
- B Menghalang pergerakan orang Melayu
- C** Membendung idea gerakan Islam
- D Menangkap pemimpin persatuan Melayu

2 Senarai berikut adalah badan penyiasat yang ditubuhkan oleh British di Negeri-negeri Melayu .

52

- Jabatan Siasatan Jenayah
- Biro Siasatan Politik

Apakah tujuan British menubuhkan badan tersebut?

- A** Mengawal perkembangan nasionalisme
- B Memantau perjuangan golongan radikal
- C Menyiasat pergerakan parti
- D Mengetatkan kawalan sempadan

3 Tok Janggut telah menentang British di Pasir Puteh, Kelantan

52

Apakah faktor yang mempengaruhi tokoh tersebut bertindak demikian?

- A Perjuangan Jose Rizal
- B Gerakan Revolusi India
- C** Gerakan Pan-Islamisme
- D Semangat bushido Jepun

4 Mengapakah orang Melayu memberi sokongan kepada Empayar Uthmaniyah semasa Perang Dunia Pertama?

52

- A Persahabatan antara benua
- B Perkembangan kuasa imperialisme
- C** Pelindung umat Islam seluruh dunia
- D Perjuangan menuntut kemerdekaan

5 Akhbar Melayu berikut, menyiarkan ‘Cerita Tekukur’ pada tahun 1920.

52

- Utusan Melayu
- Lembaga Melayu
- Lidah Teruna

Apakah isu yang dipaparkan dalam akhbar tersebut?

- A Perjuangan persatuan
- B** Politik kemerdekaan
- C Budaya masyarakat
- D Kebajikan rakyat

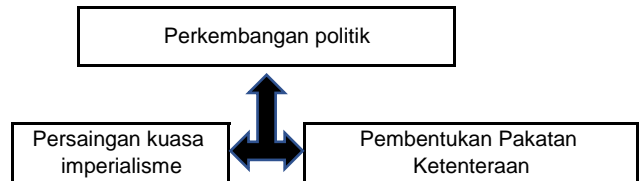
6 Krisis Rantau Balkan menjadi penyebab Eropah terjerumus dalam Perang Dunia Pertama. Pilih pasangan yang **tepat** yang terlibat dalam krisis tersebut.

54

- A Serbia dan Itali
- B Britain dan Rusia
- C Jerman dan Perancis
- D** Austria-Hungary dan Serbia

7 Situasi berikut berlaku di Eropah.

54



Apakah kesan daripada situasi berikut?

- A Perang Dingin
- B** Perang Dunia Pertama
- C Penubuhan Liga Bangsa
- D Pembentukan Blok Dunia

8 Perang Dunia Pertama telah tercetus pada tahun 1914. Apakah faktor pemangkin perang tersebut?

54

- A Perluasan pengaruh Itali di Habsyah
- B Perbezaan ideologi politik dan ekonomi
- C Penubuhan negara blok baharu di Barat
- D** Pembunuhan pewaris takhta Austria-Hungary

9 Maklumat berikut menunjukkan pakatan yang terlibat dalam Perang Dunia Pertama

54

- Kuasa Tengah
- Pakatan Bertiga

Apakah matlamat pakatan tersebut?

- I Menentang dasar apartheid
- II Menghapus keganasan
- III Memperluas pengaruh
- IV Menguasai pasaran

- A I dan II
- B I dan IV
- C II dan III
- D** III dan IV

10 Peristiwa berikut berkaitan dengan Perang Dunia Pertama

56

Tahun	Bulan Jun 1919
Peristiwa	Persidangan Damai melahirkan Deklarasi 14 Perkara Woodrow Wilson

Apakah kesan peristiwa tersebut terhadap Eropah?

- A Pertambahan negara-negara baharu
- B Pengagihan wilayah berdasarkan etnik
- C Pembahagian Eropah berasaskan ideologi
- D** Pembentukan sempadan berasaskan bangsa

Tingkatan 4

11 Maklumat berikut adalah kuasa besar yang terlibat dalam Perang Dunia Pertama

55

Tarikh	Peristiwa
Bulan April 1917	Amerika Syarikat menyertai peperangan dengan memihak kepada Pakatan Bertiga

Apakah kesan penyertaan tersebut kepada Amerika Syarikat?

- A Kuasa rakyat di dengari
- B Kehilangan tanah jajahan
- C** Diiktiraf sebagai kuasa besar
- D Di kehendaki membayar pampasan

12 Empayar Uthmaniyah mengalami perpecahan selepas Perang Dunia Pertama.

57

Apakah kesan perpecahan tersebut?

- A Kerjasama rakyat terjalin
- B** Kerajaan republik dibentuk
- C Kemunculan negara baharu
- D Kemerostan pengaruh komunis

13 Maklumat berikut berkaitan dengan syarat dan terma Perjanjian Versailles terhadap Jerman.

56

- Membayar pampasan kepada Pakatan Bertiga
- Mengehendkan saiz angkatan tentera
- Menyerahkan wilayah dan tanah jajahan kepada Pakatan Bertiga

Mengapakah Jerman dikenakan syarat dan terma tersebut?

- A Dianggap kuasa yang kuat
- B Melakukan penghapusan etnik
- C Menyebarkan fahaman komunis
- D** Dituduh memulakan peperangan

14 Apakah kesan peperangan berikut terhadap Eropah?

58

Tahun	1914-1918
Peperangan	Perang Dunia Pertama

- A Pakatan tentera dibentuk
- B Kerjasama ekonomi dipersetujui
- C Keperluan bahan mentah meningkat
- D** Pemerintahan beraja tamat

15 Bagaimanakah pemerintahan berikut di bawah empayar Austria-Hungary berakhir?

57

Dinasti Habsburg

- A Penamatan sistem raja berkuasa mutlak
- B Pengenalan sistem raja berpelembagaan
- C Perjanjian genjatan senjata ditandatangani
- D** Pemberontakan tercetus di wilayah jajahannya

16 Apakah masalah yang dihadapi oleh negara kita selepas Perang Dunia Kedua?

57

- I Kemakmuran ekonomi dimanipulasi
- II Keselamatan negara dipertingkatkan
- III Pemulihan kuasa pemimpin tempatan
- IV Pengenalan pelbagai undang-undang

- A I dan II
- B** I dan IV
- C II dan III
- D III dan IV

17 Perang Dunia Pertama memberi inspirasi kepada kebangkitan nasionalisme orang Melayu. Bagaimanakah British menyekat kebangkitan tersebut?

57

- A Meningkatkan taraf hidup rakyat
- B Mengukuhkan institusi pendidikan
- C** Meluluskan undang-undang baharu
- D Membawa masuk tentera luar

18 Perang Dunia Kedua tercetus pada tahun 1939. Apakah faktor yang mencetuskan perang tersebut?

58

- I Kegagalan Liga Bangsa-Bangsa
- II Perkembangan kuasa imperialis baru
- III Penyekatan ekonomi terhadap kuasa Jerman
- IV Ketidakpuasan hati terhadap Perjanjian Versailles

- A I dan II
- B** I dan IV
- C II dan III
- D III dan IV

19 Gerakan fasisme di bawah pimpinan Benito Mussolini memberi penekanan kepada nasionalisme melampau.

58

Mengapakah gerakan tersebut bertindak sedemikian?

- A** Meningkatkan imej negara
- B Mengadakan sekatan ekonomi
- C Memperkukuhkan sistem pertahanan
- D Memajukan perdagangan antarabangsa

20 Apakah persamaan kedua-dua gerakan politik berikut?

58

Gerakan Politik	Pemimpin
Fasisme	Benito Mussolini
Nazisme	Adolf Hitler

- A Bersifat sederhana
- B Bersikap diskriminasi
- C Bencikan peperangan
- D** Berfahaman melampau

Tingkatan 4

21 **MUKA SURAH 58** Bagaimanakah tokoh berikut mengembalikan semula maruah bangsa dan negaranya selepas Perang Dunia Pertama?

Negara	Pemimpin
Jerman	Adolf Hitler

- A Mengadakan referendum
- B Memulihkan sistem monarki
- C Memperbesar angkatan tentera**
- D Membangunkan industri baharu

22 **MUKA SURAH 59** Liga Bangsa-Bangsa gagal memastikan keamanan dunia.

Apakah bukti kegagalan tersebut?

- A Termeterai Perjanjian Versailles
- B Berlaku krisis Manchuria**
- C Tercetus krisi Albania
- D Kejadian Pemberontakan Paris

23 **MUKA SURAH 60** Senarai berikut merujuk kawasan yang ditakluki oleh Jerman semasa Perang Dunia Kedua

- | |
|---|
| <ul style="list-style-type: none"> • Poland • Denmark • Norway |
|---|

Bagaimanakah Jerman berjaya menguasai negara tersebut?

- A Serangan kilat**
- B Perjanjian damai
- C Pertukaran wilayah
- D Serangan berani mati

24 **MUKA SURAH 58** Mengapakah Itali mengangap Perjanjian Versailles adalah tidak adil?

- A Tidak diberikan tanah jajahan baharu**
- B Dikehendaki membayar pampasan perang
- C Kejadian Pemberontakan Paris
- D Termeterai Perjanjian Versailles

25 **MUKA SURAH 60** Jerman menggunakan serangan Blitzkrieg bagi menakluki negara di Eropah Barat. Bagaimanakah serangan tersebut dilakukan?

- A Serangan gerila
- B Serangan berani mati
- C Serangan secara kilat**
- D Serangan terancang

26 **MUKA SURAH 63** Bagaimanakah tentera Bersekutu berjaya memperdayakan tentera Jerman pada tahun 1944?

- A Mengelirukan tempat pendaratan**
- B Memasang poster propaganda
- C Menyerang dari pelbagai penjuru
- D Mengadakan kempen pengampunan

27 **MUKA SURAH 64** Gambar di berikut adalah pemimpin Jepun yang melancarkan Pembaharuan Meiji



Maharaja Meiji

Apakah kesan pembaharuan tersebut kepada Jepun?

- A Keruntuhan sistem pemerintahan feodal
- B Kemasukan imigran beramai-ramai
- C Kebangkitan penduduk tempatan
- D Kekuatan tentera diiktiraf dunia**

28 **MUKA SURAH 64** Senarai berikut adalah kawasan ditakluki oleh Jepun yang mengamalkan dasar peluasan kuasa pada abad ke-20.

- | |
|---|
| <ul style="list-style-type: none"> • Korea • Manchuria • China |
|---|

Apakah tindak balas pihak Bersekutu terhadap tindakan Jepun tersebut?

- A Mengenakan sekatan ekonomi**
- B Mengawal kegiatan perisikan
- C Mengadakan propaganda
- D Menghapuskan institusi beraja

29 **MUKA SURAH 64** Dalam peluasan kuasa di Asia Pasifik, pemerintah Jepun telah mewujudkan orde baharu Asia. Apakah matlamat orde tersebut?

- I Mengembangkan kuasa tentera
- II Mewujudkan kebebasan ekonomi
- III Menyekat dagangan negara luar
- IV Memperkenalkan sistem birokrasi

- A I dan II** C II dan III
- B I dan IV D III dan IV

30 **MUKA SURAH 64** Maklumat berikut berkaitan dengan tindakan kuasa Eropah terhadap Jepun

British dan Belanda menghalang Jepun daripada memperoleh bahan mentah yang diperlukan untuk industri dan operasi perang.
--

Bagaimanakah halangan tersebut dilakukan?

- A Menaikkan kadar cukai
- B Menyekat laluan perairan
- C Mengenakan sekatan ekonomi**
- D Menamatkan kontrak perdagangan

Tingkatan 4

31 Soalan 31 berdasarkan maklumat berikut

64

Rundingan di Amerika Syarikat untuk menamatkan sekatan ekonomi terhadap Jepun telah menemui jalan buntu.

Apakah kesan kegagalan rundingan tersebut terhadap Asia Pasifik?

- A Mengalami kemelesetan ekonomi
- B Menghadapi penguasaan Jepun**
- C Menyekat aktiviti perdagangan
- D Menghadapi ancaman Barat

32 Mengapakah Jepun ingin menguasai Tanah Melayu?

65

- I Memenuhi keperluan ekonomi
- II Kepentingan strategik ketenteraan
- III Menghapuskan sekatan perdagangan
- IV Kewujudan perang saudara

- A I dan II** C II dan III
- B I dan IV D III dan IV

33 Senarai berikut menunjukkan slogan yang digunakan oleh pihak Jepun

65

- Semangat Asia
- Asia untuk orang Asia
- Lingkungan Sekemakmuran Asia Timur Raya

Apakah kepentingan slogan tersebut?

- A Menamatkan pengajian
- B Menyebarkan ideologi
- C Menyatukan wilayah
- D Meluaskan kuasa**

34 Tanah Melayu mengalami kemerosotan ekonomi semasa pentadbiran tentera Jepun. Bagaimanakah pentadbiran Jepun mengatasi masalah tersebut?

65

- A Melahirkan sekatan ekonomi
- B Melaksanakan ekonomi dagangan
- C Membuka tanah secara besar-besaran
- D Memperkenalkan sistem ekonomi kawalan**

35 Kapal selam berikut digunakan untuk membawa anggota Force 136 dari India dan Sri Lanka ke Tanah Melayu

82

Apakah tujuan anggota Force 136 dibawa ke Tanah Melayu?

- A Memberi bantuan bencana alam
- B Mengatasi kekurangan tenaga buruh
- C Mendapatkan sokongan orang Melayu**
- D Mengatasi masalah pembentukan Malaysia

36 Nama samaran "Lion Of Malaya" digunakan sebagai propaganda menentang Jepun. Siapakah tokoh yang menggunakan nama samaran tersebut?

78

- A Alberk Kwok
- B Sybil Kathigasu
- C Gurchan Singh**
- D Dr. Abdon Clement

37 Jadual di bawah merupakan pemimpin tempatan Sarawak yang dilantik oleh Jepun.

82

Pegawai Daerah	Kawasan
Abang Haji Openg	Kuching
Empenit Adam	Simanggang
Satem	Lawas

Mengapakah pemimpin tersebut dilantik?

- A Menumpukan taat setia
- B Mengisi kekosongan jawatan**
- C Memenuhi desakan penduduk
- D Mengiktiraf kewibawaan pemimpin

38 Jepun menyerang tanah jajahan kuasa Barat di Asia dalam Perang Dunia Kedua.

82

Apakah tindakan kuasa Barat untuk menghalang kemaraan Jepun?

- A Menaja kegiatan subversif
- B Melakukan serangan bom atom**
- C Membentuk pertubuhan serantau
- D Mengisytiharkan dasar bumi hangus


39 Apakah tindakan maharaja Jepun setelah peristiwa pengeboman bandar Hiroshima dan Nagasaki oleh Amerika Syarikat dalam Perang Dunia Kedua?

82

- A Menamatkan pentadbiran tentera
- B Mengumumkan penyerahan kalah**
- C Menandatangani surat serah kuasa
- D Meletak jawatan sebagai pemerintah

40 Gambar berikut merupakan Pegawai Daerah Batu Pahat yang dilantik oleh Sultan Ibrahim semasa penguasaan Bintang Tiga.

82



Apakah sumbangan beliau?

- A Menghalang kemasukan orang asing
- B Menguatkan pentadbiran tempatan
- C Mengembalikan keamanan negeri**
- D Menghapuskan penindasan

Tingkatan 4

1 Apakah bentuk pentadbiran yang diisytiharkan di Tanah Melayu selepas Perang Dunia Kedua?

94

- A Westminster
- B Malayan Union
- C Persekutuan Tanah Melayu
- D British Military Administration**

2 Apakah tugas British Military Administration (BMA) di Tanah Melayu?

94

- I Mewujudkan keamanan
- II Menjimatkan perbelanjaan
- III Memulihkan kepercayaan rakyat
- IV Mengembalikan kestabilan negara

- A I dan II C II dan III
- B I dan IV D III dan IV**

3 Apakah usaha British Military Administration untuk menarik kepercayaan rakyat kepada mereka?

94

- A Memberi latihan kepimpinan
- B Menarik pelabur asing
- C Membaiki infrastruktur**
- D Menghapuskan cukai

4 Mengapakah perkhidmatan BMA ditamatkan oleh British ?

96

- A Ketegangan hubungan antara pelbagai kaum
- B Kemasukan pengaruh komunis ke Tanah Melayu
- C Kekurangan sokongan daripada penduduk peribumi**
- D Ketidakupayaan menangani masalah di Tanah Melayu

5 Maklumat berikut berkaitan dengan pentadbiran British di Tanah Melayu.

96

Tempoh	Selepas Perang Dunia Kedua
Tujuan Perancangan	<ul style="list-style-type: none"> ● Meningkatkan pelaburan ekonomi ● Mengukuhkan pertahanan ● Mengekalkan orang asing sebagai sumber

Apakah rancangan pentadbiran tersebut?

- A Persekutuan Tanah Melayu
- B Rancangan Briggs
- C Suruhanjaya Reid
- D Malayan Union**

6 Apakah unit pentadbiran yang ditubuhkan untuk membentuk pentadbiran baru selepas kegagalan BMA?

96

- A Unit Pentadbiran Tanah Melayu
- B Unit Perancang Tanah Melayu**
- C Unit Penyelamat Negara
- D Unit Operasi Negara

7 Bagaimanakah tindakan British menguasai semula Tanah Melayu melalui Malayan Union?

96

- A Memantapkan sistem pentadbiran
- B Memisahkan Negeri-negeri Melayu
- C Menubuhkan pentadbiran berpusat**
- D Memperkenalkan sistem perundangan

8 Berikut merupakan rancangan Malayan Union yang telah diisytiharkan dalam warta kerajaan

96

Kertas Putih 6274

Nyatakan per.kara yang terkandung dalam kertas tersebut

- I Mengambil alih pemerintahan Tanah Melayu
- II Menyeragamkan pentadbiran di Tanah Melayu
- III Menyatupadukan seluruh rakyat di Tanah Melayu
- IV Menubuhkan pentadbiran berpusat di Tanah Melayu

- A I dan II C II dan III
- B I dan IV D III dan IV**

9 Maklumat berikut berkaitan dengan pelaksanaan gagasan Malayan Union.

96

Tarikh	Peristiwa
25 April 1945	Persatuan Pelajar Melayu Britain menghantar memorandum kepada Parlimen Britain.

Apakah isi kandungan memorandum tersebut?

- A Menentang Malayan Union
- B Menentang prinsip Jus Soli**
- C Memberi latihan kepimpinan
- D Menuntut kedaulatan negara

10 Asas kewarganegaraan Malayan Union adalah berasaskan prinsip Jus Soli. Apakah maksud Jus Soli?

96

- A Kewarganegaraan mengikut warna kulit
- B Kewarganegaraan kepada penduduk asal**
- C Kewarganegaraan berdasarkan keturunan
- D Kewarganegaraan berdasarkan tempat lahir

11 Apakah majlis yang dibentuk dalam rancangan Malayan Union?

97

- I Majlis Eksekutif
- II Majlis Kehakiman
- III Majlis Keselamatan Negara
- IV Majlis Perundangan

- A I dan II C II dan III
- B I dan IV D III dan IV**

Tingkatan 4

12 MURAH SUKSES 97 Jadual berikut berkaitan dengan ciri-ciri pentadbiran Malayan Union.

Pentadbiran Malayan Union	
Ketua Pentadbiran	Gabenor British
Majlis Eksekutif	Persuruhjaya Tinggi British
Majlis Perundangan	Persuruhjaya Tinggi British

Apakah kesimpulan yang dapat dibuat berdasarkan maklumat tersebut?

- A Penjajahan secara mutlak
- B Pengaruh komunis berjaya dibendung
- C Persekutuan Tanah Melayu ditolak
- D Pembentukan negara republik

13 MURAH SUKSES 97 Siapakah yang dilantik menjadi ketua pentadbir dalam Malaya Union?

- A Gabenor British
- B Residen Jeneral
- C Penasihat British
- D Pesuruhjaya Tinggi British

14 MURAH SUKSES 97 Pernyataan berikut berkaitan dengan ciri kewarganegaraan Malayan Union yang diperkenalkan oleh British di Tanah Melayu pada tahun 1946

Mereka yang berumur 18 tahun dan ke atas serta bermastautin selama 10 tahun hingga 15 tahun akan diberikan kewarganegaraan.

Apakah kesan pernyataan tersebut?

- A Pengaruh golongan radikal berkurangan
- B Kedudukan kaum peribumi terancam
- C Penghapusan ekonomi tradisional
- D Komposisi penduduk seimbang

15 MURAH SUKSES 108 H.C. Willan telah menghantar laporan setelah penemuan dengan Raja-raja Melayu. Apakah kandungan laporan tersebut?

- A Sultan tidak menerima Malayan Union
- B Sultan akan menyokong Malayan Union
- C Sultan akan berunding dengan pemimpin
- D Sultan akan bersidang dalam Majlis Raja

16 MURAH SUKSES 98 Sir Harold MacMichael hanya mengambil masa dua bulan untuk mendapatkan persetujuan Raja-raja Melayu terhadap Malayan Union.

Apakah taktik yang dilaksanakan oleh tokoh tersebut?

- I Menaikkan elaun
 - II Mengekalkan gelaran
 - III Menggunakan ugutan
 - IV Membuat desakan
- A I dan II C II dan III
B I dan IV D III dan IV

17 MURAH SUKSES 100 Antara berikut yang manakah merupakan kesan pengenalan Malayan Union terhadap Raja-raja Melayu?

- A Pengukuhan kuasa Raja-raja Melayu
- B Meningkatkan hasil pendapatan raja
- C Kehilangan kuasa dan kedaulatan politik
- D Berunding secara terus dengan kerajaan British

18 MURAH SUKSES 100 Bagaimanakah tindakan raja berikut membantah Malayan Union?

TuanKu Syed Putra Jamalullail (Raja Perlis)

- A Menyokong kongres
- B Mengirimkan telegram
- C Mengadap Ratu England
- D Mengutus surat bantahan

19 MURAH SUKSES 101 Kongres Melayu pertama telah dianjurkan untuk menolak Malayan Union. Apakah persatuan yang menjadi tuan rumah kongres tersebut?

- A Persatuan Melayu Johor
- B Persatuan Melayu Kedah
- C Persatuan Melayu Pahang
- D Persatuan Melayu Selangor

20 MURAH SUKSES 101 Gambar berikut merupakan seorang tokoh yang memainkan peranan dalam penentangan terhadap Malayan Union.



Bagaimanakah tokoh tersebut melibatkan Raja-raja Melayu dalam penentangan gagasan Malayan Union?

- A Menubuhkan Majlis Raja-raja Melayu
- B Menghidupkan semula persatuan Melayu
- C Mempersembahkan resolusi Kongres Melayu
- D Menghalang kehadiran Sir Harold MacMichael

21 MURAH SUKSES 102 Ketiga-tiga akhbar di atas memainkan peranan yang besar dalam menyuarakan bantahan terhadap penubuhan Malayan Union.

Utusan Melayu (Singapura)
Majlis (Kuala Lumpur)
Warta Negara (Pulau Pinang)

Apakah yang disarankan oleh ketiga-tiga akhbar tersebut?

- A Menganjurkan penubuhan parti politik
- B Menyeru orang-orang Melayu bersatu
- C Menyebarkan ideologi demokrasi
- D Memulaukan upacara pelantikan Gabenor Malayan Union

Tingkatan 4

22 Apakah sumbangan sultan berikut terhadap penubuhan kongres melayu?

101

Sultan	Negeri
Sultan Hishamuddin Alam Shah	Selangor

- I Memberi bantuan kewangan
- II Meluluskan penubuhan kongres
- III Mendapatkan sokongan pembesar
- IV Merasmikan pembukaan kongres

- A I dan II
- B I dan IV
- C II dan III
- D III dan IV

23 Apakah persamaan peranan tokoh wanita berikut?

102

<ul style="list-style-type: none"> • Cikgu Zaharah Abdullah • Halimahton Abd Majid • Datin Puteh Mariah • Saleha Mohd Ali

- A Menentang Malayan Union
- B Menubuhkan persatuan Melayu
- C Memberi bantuan kewangan
- D Menyokong perjuangan nasionalis

24 Terdapat segelintir persatuan Melayu yang berjaya menghimpunkan orang Melayu untuk membantah Malayan Union.

103

Apakah persatuan Melayu tersebut?

- A Persatuan Melayu Kelantan
- B Hizbul Muslimin
- C Kesatuan Melayu Muda
- D Persatuan Melayu Johor

25 Apakah gelaran orang Melayu terhadap hari lahirnya Malayan Union?

105

- A Hari Kematian
- B Hari Kesedihan
- C Hari Penjajahan
- D Hari Perpaduan

26 L.D Gammans Dan David Rees Williams telah membuat laporan kepada Pejabat Tanah Jajahan semasa membuat tinjauan terhadap penentangan Malayan Union oleh orang Melayu.

106

Apakah kesan daripada laporan tersebut?

- A Malayan Union ditubuhkan
- B Raja-Raja Melayu kehilangan kuasa
- C Tertubuhnya Persekutuan Tanah Melayu
- D Tanah Melayu diterima menjadi tanah jajahan British

27 Apakah kesan peristiwa berikut terhadap orang Melayu?

106

Tahun	1946
Peristiwa	Pengenalan Malayan Union

- A Kuasa sultan bertambah
- B Budaya berkembang
- C Ekonomi meningkat
- D Perpaduan kukuh

28 Desakan kerajaan British terhadap Vyner Brooke telah membawa kepada penyerahan Sarawak kepada British.

107

Mengapakah British begitu berminat untuk menguasai Sarawak?

- A Memulihkan keamanan
- B Kepentingan pelaburan
- C Melancarkan pentadbiran
- D Mengukuhkan pertahanan

29 Dialog berikut berkaitan dengan situasi di Sarawak selepas Perang Dunia Kedua.

107

<p>Pegawai British A : Saya sokong penyerahan Sarawak kepada kerajaan British</p> <p>Pegawai British B : Betul. Anthony Brooke yang tidak layak menjadi seorang pemimpin</p>
--

Apakah kesan daripada situasi tersebut?

- A Serangan komunis di setiap balai polis
- B Serangan kuasa Jepun terhadap Sarawak
- C Ancaman lanun terhadap tentera British
- D Penyerahan Sarawak kepada kerajaan British

30 Mengapakah Vyner Brooke mengalami masalah kewangan untuk memulihkan Sarawak selepas Perang Dunia Kedua?

107

- I Lombong minyak musnah
- II Ekonomi Sarawak terjejas
- III Ketegangan antara kaum
- IV Ancaman penyakit berjangkit

- A I dan II
- B I dan IV
- C II dan III
- D III dan IV

31 Pada 2 Mei 1946, Gammans dan Rees William telah dihantar untuk meninjau reaksi penyerahan Sarawak kepada Kerajaan British

108

Apakah hasil tinjauan tersebut?

- I Kakitangan kerajaan menyokong
- II Ketua Adat menyokong
- III Orang Cina menyokong
- IV Sebahagian besar peribumi menentang

- A I dan II
- B I dan IV
- C II dan III
- D III dan IV

Tingkatan 4

32 Mengapakah penyerahan Sarawak tidak dipersetujui oleh penduduk Sarawak ?

109

- A Sistem beraja tergugat
- B** Mencangahi Perlembagaan 1941
- C Mendapat tentangan ahli Majlis Negeri
- D Menjejaskan sistem pentadbiran tempatan

33 Bagaimanakah tokoh berikut membantah penyerahan Sarawak kepada British?

109

- Johari Anang
- Sharkawi Osman

- A Menubuhkan Kongres Melayu
- B** Menganjurkan persidangan
- C Melaksanakan pemuluan
- D Melakukan perang gerila

34 Maklumat berikut berkaitan dengan persatuan yang melancarkan antipenyerahan Sarawak.

111

- Menghantar referendum
- Menghantar surat kepada kerajaan British

- A Kesetiaan Muda Matu
- B** Barisan Pemuda Sarawak
- C Barisan Rakyat Jati Sarawak
- D Sarawak Chinese Association

35 Pada tahun 1949, Gabenor Sarawak, Duncan Stewart telah dibunuh. Apakah kesan peristiwa pembunuhan tersebut?

112

- A Pengaruh golongan radikal meningkat
- B Vyner Brooke meletak jawatan
- C** Rosli Dhobi dihukum gantung
- D Pentadbiran kerajaan menjadi lemah

36 British Military Administration (BMA) telah diperkenalkan di Sabah selepas Jepun menyerah kalah.

112

Apakah matlamat BMA di Sabah?

- A Mengatasi masalah pasar gelap
- B Memajukan sistem perdagangan
- C** Mengembalikan ketenteraman negeri
- D Menyatukan sistem pentadbiran negeri

37 Maklumat berikut berkaitan dengan penyerahan Sabah

109

Tarikh	26 June, 1946
Peristiwa	SBUB menyerahkan Sarawak kepada kerajaan British sebagai tanah jajahan

Mengapakah Sabah diserahkan kepada kerajaan British?

- I Kedudukan yang strategik
- II Kekayaan bahan mentah
- III Kawasan pasaran utama
- IV Kemajuan sistem prasarana

- A I dan II **C** II dan III
- B I dan IV D III dan IV

38 Sabah merupakan negeri yang berpotensi untuk menggantikan jajahan British yang telah dimerdekan.

114

Apakah jajahan tersebut?

- I Burma
- II Brunei
- III Australia
- IV Sri Lanka

- A I dan II C II dan III
- B** I dan IV D III dan IV

39 SBUB mengalami masalah kekurangan dana untuk memulihkan kerosakan kawasan berikut.

115

- Kudat
- Sandakan
- Jesselton

Mengapakah kawasan tersebut mengalami kerosakan?

- A Dirosakkan oleh bencana alam
- B Diserang oleh tentera Indonesia
- C Dilakukan oleh anggota komunis
- D** Dimusnahkan oleh tentera Jepun

40 Apakah tujuan persatuan berikut ditubuhkan?

116

- Barisan Pemuda Sabah (BARIP)
- Persaudaraan Sahabat Pena Sabah (PASPAS)

- A** Membaiki ekonomi kaum bumiputera
- B Memberi kesedaran pendidikan agama
- C Menjaga kebajikan penduduk tempatan
- D Melibatkan diri dalam pentadbiran

Tingkatan 4

1 Perkembangan berikut berlaku selepas penduduk tempatan menolak Malayan Union.

MURAH SUDAH
126

Tahun	1946
Penubuhan	Sebuah jawatankuasa untuk merangka perjanjian Persekutuan Tanah Melayu

Apakah jawatankuasa tersebut?

- A Jawatankuasa Kerja
- B Jawatankuasa Kaum
- C Jawatankuasa Umum
- D Jawatankuasa Rakyat

2 Mengapakah British menubuhkan Jawatankuasa Kerja pada 25 Julai 1946?

MURAH SUDAH
126

- A Menggubal perlembagaan Persekutuan Tanah Melayu
- B Mengkaji isu perlembagaan Persekutuan Tanah Melayu
- C Membincangkan asas Perjanjian Persekutuan Tanah Melayu
- D Menerima memorandum Perjanjian Persekutuan Tanah Melayu

3 Apakah kesan penubuhan Jawatankuasa Kerja 1946?

MURAH SUDAH
126

- A Pembentukan persekutuan
- B Pembinaan negara bangsa
- C Pemuafakatan antara kaum
- D Penggubalan perlembagaan

4 Apakah persamaan tugas pemimpin UMNO berikut?

MURAH SUDAH
128

- Dato' Onn Jaafar
- Haji Megat Yunus
- Dato' Abdul Rahman Mohd

- A Menubuhkan Majlis Perundangan Persekutuan
- B Membentuk gabungan persatuan Melayu
- C Menghalang sistem pentadbiran British
- D Menjadi anggota Jawatankuasa Kerja

5 Pilih jawapan yang TEPAT berkaitan dengan cadangan Jawatankuasa Kerja 1946.

MURAH SUDAH
127

- I Menjaga keistimewaan orang Melayu
- II Menerima kewarganegaraan jus soli
- III Menubuhkan Majlis Keselamatan Negara
- IV Memulihkan kedudukan Raja-raja Melayu

- A I dan II
- B I dan IV
- C II dan III
- D III dan IV

6 Apakah tugas pegawai berikut dalam Jawatankuasa Kerja 1946?

MURAH SUDAH
127

Ralph Hone

- A Residen
- B Pemerhati
- C Ketua Setiasaha
- D Penasihat Undang-undang

7 Mengapakah golongan berikut menentang British menubuhkan Jawatankuasa Kerja?

MURAH SUDAH
128

Golongan nasionalis melayu radikal

- I Bertindak mengetepikan PKMM
- II Perundingan hanya dengan UMNO
- III Penindasan terhadap orang Melayu
- IV Bergabung dengan semua kaum

- A I dan II
- B I dan IV
- C II dan III
- D III dan IV

8 Bagaimanakah golongan nasionalis Melayu radikal menentang penubuhan Jawatankuasa Kerja?

MURAH SUDAH
128

- A Menyerang British
- B Menubuhkan kongres
- C Membentuk PUTERA
- D Melakukan demonstrasi

9 Pilih pasangan yang TEPAT berkaitan gabungan Pusat Tenaga Rakyat (PUTERA).

MURAH SUDAH
128

	Pertubuhan	Ketua
A	Angkatan Pemuda Insaf (API)	Musa Ahmad
B	Barisan Tani Malaya (BATAS)	Abu Bakar al-Baqir
C	Gerakan Angkatan Muda (GERAM)	Ahmad Boestamam
D	Parti Kebangsaan Melayu Melaka	Dr. Burhanuddin al-Helmi

10 Mengapakah tokoh berikut menolak perjanjian pembentukan persekutuan?

MURAH SUDAH
128



John Thivy



Tan Cheng Lok

- A Mematuhi pembahagian kuasa
- B Menuntut konsep sebuah republik
- C Memajukan ekonomi orang Melayu
- D Mengukuhkan British dan perkauman

Tingkatan 4

11 **129** Bagaimanakah golongan nasionalis Melayu radikal membuka minda rakyat ke arah proses kemerdekaan?

- A Menerbitkan akhbar
- B Menawarkan hadiah
- C Mengadakan lawatan
- D Menubuhkan persatuan

12 **129** Apakah matlamat perjuangan golongan nasionalis Melayu radikal?

- I Berkompromi dengan British
- II Penubuhan kesatuan Melayu
- III Kebebasan daripada penjajahan
- IV Penyatuan seluruh Tanah Melayu

- A I dan II
- B I dan IV
- C II dan III
- D III dan IV

13 **129** Mengapakah Parti Kebangsaan Melayu Malaya (PKMM) berjaya menubuhkan cawangannya di seluruh negeri berikut?

- Perak
- Temerloh Pahang
- Hulu Langat, Selangor

- A Membanteras ancaman komunis
- B Melaksanakan dasar dekolonisasi
- C Mengukuhkan institusi kesultanan
- D Memperjuangkan fahaman kebangsaan

14 **130** Apakah cadangan PUTERA-AMCJA sebagai alternatif menggantikan Perjanjian Persekutuan 1948?

- A Perlembagaan Rakyat
- B Perlembagaan Malaysia
- C Perlembagaan Bersama
- D Perlembagaan Gabungan

15 **130** Antara berikut, yang manakah kandungan Perlembagaan Rakyat?

- I Perhatian khas pada kaum imigran
- II Raja-raja Melayu sebagai ketua negara
- III Tanah Melayu disatukan dengan Singapura
- IV Bahasa Melayu sebagai bahasa kebangsaan

- A I dan II
- B I dan IV
- C II dan III
- D III dan IV

16 **130** Terdapat cadangan warna latar belakang bendera kebangsaan Tanah Melayu dalam Perlembagaan Rakyat.

Apakah cadangan warna tersebut?

- A Putih dan hijau
- B Biru dan kuning
- C Merah dan putih
- D Kuning dan hijau

17 **130** Orang Melayu diberi kuasa mengetuai hal ehwal agama Islam dan adat istiadat dalam Perlembagaan Rakyat. Bagaimanakah orang Melayu menguruskan kuasa tersebut?

- A Diselia oleh Majlis Khas
- B Dipimpin oleh Pejabat Agama
- C Dikawal oleh Raja-raja Melayu
- D Dipantau oleh pembesar Melayu

18 **131** Maklumat berikut berkaitan dengan perjuangan rakyat.

Tarikh	20 September 1947
Peristiwa	Semua peniaga menutup kedai sebagai tanda bantahan kerana anjuran hartal.

Mengapakah berlaku peristiwa tersebut?

- A Pergolakan daripada Bintang Tiga
- B Perlantikan Gabenor Jeneral British
- C Perbalahan masyarakat pelbagai kaum
- D Penolakan terhadap Perlembagaan Rakyat

19 **132** Maklumat berikut berkaitan dengan peristiwa yang berlaku di Tanah Melayu.

British bersetuju membubarkan Malayan Union dan menggantikannya dengan Persekutuan Tanah Melayu pada 1 Februari 1948.

Mengapakah British bersetuju melakukan perubahan tersebut?

- A Permintaan orang dagang
- B Peperangan dengan Jepun
- C Penentangan orang Melayu
- D Pelancaran revolusi bersenjata

20 **132** Mengapakah pertemuan dan rundingan berikut dilaksanakan?

Tarikh	20 September 1947
Tempat	Kuala Kangsar
Pihak Terlibat	<ul style="list-style-type: none"> • Malcolm MacDonald • Sir Edward Gent • Raja-raja Melayu

- A Membentuk sistem politik yang stabil
- B Menggubal perlembagaan Tanah Melayu
- C Melaksanakan penubuhan kerajaan pusat
- D Mengatasi konflik terhadap Malayan Union

Tingkatan 4

21 Tokoh berikut telah menyaksikan bantahan orang Melayu terhadap Malayan Union.

132

- Rees Williams
- L.D. Gammans

Apakah laporan mereka kepada Dewan Parlimen British sekiranya Malayan Union dilaksanakan?

- A Perpaduan akan terjalin
- B** Hura-hara akan berlaku
- C Gabungan semua negeri
- D Peperangan akan meletus

22 Raja-raja Melayu telah memberi cadangan terhadap kerajaan British semasa Pertemuan pada 27 Mei 1946. Apakah cadangan Raja-raja Melayu tersebut?

132

- I Raja berkuasa dalam perundangan
- II Pengenalan jawatan Residen Jeneral
- III Pengenalan sistem Raja Berperlembagaan
- IV Penubuhan persekutuan bertaraf naungan

- A I dan II C II dan III
- B** I dan IV D III dan IV

23 Mengapakah pentadbir British berikut menyokong konsep persekutuan di Tanah Melayu?

132

- A.T. Newbould
- Sir Ralph Hone
- Roland Braddell
- Sir Edward Gent

- A** Menjamin kemajuan ekonomi
- B Mengatasi ancaman komunis
- C Mengurangkan beban kewangan
- D Mengurangkan kuasa Raja-raja Melayu

24 Sir Edward Gent telah memberi peluang kepada pihak Tanah Melayu untuk mengemukakan cadangan balas berkaitan pembentukan persekutuan. Siapakah yang diberi peluang bertindak demikian?

132

- I Parti Perikatan
- II Dato' Onn Jaafar
- III Raja-raja Melayu
- IV Penduduk peribumi

- A I dan II **C** II dan III
- B I dan IV D III dan IV

25 British menyokong pembentukan Persekutuan Tanah Melayu kerana dasar dekolonisasi. Apakah kebaikan dasar tersebut terhadap negara?

132

- A Pembentukan masyarakat berbilang kaum
- B** Bepeluang menubuhkan kerajaan sendiri
- C Menyeragamkan sistem pentadbiran
- D Meningkatkan kerjasama ekonomi

26 Apakah ciri-ciri Perjanjian Persekutuan Tanah Melayu yang dibentangkan pada 20 November 1946?

134

- A Ekonomi
- B Perundangan
- C** Kebudayaan
- D Kuasa tempatan

27 Mengapakah British menubuhkan majlis berikut dalam Persekutuan Tanah Melayu 1948?

134

- Majlis Mesyuarat Persekutuan
- Majlis Perundangan Persekutuan

- A** Membantu Pesuruhjaya Tinggi British
- B Mentadbir pemerintahan peringkat pusat
- C Mengembalikan kuasa Raja-raja Melayu
- D Mengasaskan sistem pembahagian kuasa

28 Pilih jawapan yang **tepat** berkaitan dengan Majlis Perundangan Persekutuan.

134

- A Wakil UMNO
- B** Pelbagai kaum
- C Raja-raja Melayu
- D Pegawai kerajaan

29 Senarai berikut berkaitan bidang pentadbiran Persekutuan Tanah Melayu 1948.

134

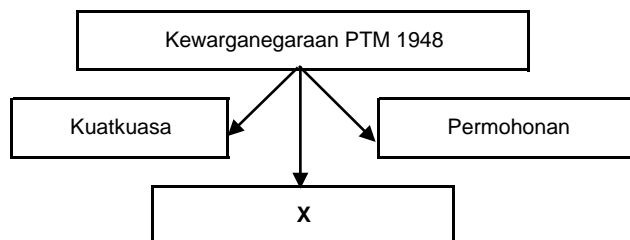
- Percukain
- Kehakiman
- Hal Ehwal Luar
- Ketenteraman Awam

Apakah pihak yang berkuasa mentadbir bidang tersebut?

- A Majlis Raja-raja Melayu
- B Dewan Perundangan Negeri
- C Majlis Mesyuarat Persekutuan
- D** Majlis Perundangan Persekutuan

30 Rajah berikut berkaitan dengan cara memperoleh kewarganegaraan Persekutuan Tanah Melayu 1948.

132

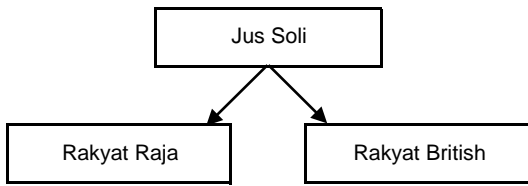


Apakah X?

- A Kehakiman
- B** Pendaftaran
- C Perkahwinan
- D Perkenan sultan

Tingkatan 4

31 Rajah berikut menunjukkan kewarganegaraan yang ditetapkan dalam Perjanjian Persekutuan Tanah Melayu



Apakah ciri-ciri Rakyat Raja?

- A Golongan Raja-raja Melayu
- B Waris Kesultanan Melayu Melaka
- C Sesiapa yang mendapat perkenan raja
- D** Orang Melayu yang lahir di negeri Melayu

32 Rakyat Raja diperoleh secara kuat kuasa undang-undang.

Apakah syarat untuk menjadi Rakyat Raja

- I Tingkah laku yang baik
- II Memahami adat resam
- III Bertutur bahasa setempat
- IV Keluarganya rakyat tempatan

- A I dan II
- B I dan IV
- C** II dan III
- D III dan IV

33 Maklumat berikut berkaitan dengan kerakyatan Persekutuan Tanah Melayu 1948.

Mereka yang lahir di Melaka, Pulau Pinang, dan mana-mana tanah jajahan British yang lain.

Apakah status kerakyatan tersebut?

- A** Rakyat British
- B Rakyat Raja Melayu
- C Rakyat Negeri-Negeri Selat
- D Rakyat Negeri Naungan British

34 Apakah kebaikan penubuhan Persekutuan Tanah Melayu 1948 terhadap sistem pemerintahan beraja?

- A Pemansuhan sistem pewarisan takhta
- B** Pengukuhan kedudukan Raja-raja Melayu
- C Pengenalan Sistem Raja Berperlembagaan
- D Pentadbiran diketuai oleh Yang di-Pertuan Agong

35 Apakah kesan penubuhan Persekutuan Tanah Melayu 1948 terhadap orang Melayu?

- A Pelbagai kumpulan etnik digabungkan
- B Dilantik sebagai rakyat peribumi
- C** Diiktiraf sebagai penduduk asal
- D Status quo mereka terancam

36 Mengapakah orang bukan Melayu menyokong Persekutuan Tanah Melayu 1948?

- A** Diterima sebagai rakyat asal
- B Dianggap sebagai kaum bumiputera
- C Diberi peluang menjadi warganegara
- D Dikecualikan membayar cukai tahunan

37 Penubuhan Persekutuan Tanah Melayu 1948 telah mewujudkan perpaduan antara kaum. Apakah sumbangan Persekutuan Tanah Melayu ke arah perpaduan tersebut?

- A** Penubuhan CLC
- B Pembentukan jus soli
- C Penggabungan persatuan
- D Pengenalan Majlis Negeri

38 Jawatankuasa berikut telah ditubuhkan di negara kita selepas Perang Dunia Kedua.

Jawatankuasa Hubungan Antara Kaum

Apakah kesan penubuhan CLC terhadap negara?

- A Menyusun semula masyarakat pelbagai kaum
- B Membantu perkembangan sosioekonomi negara
- C Membangunkan peluang pekerjaan di luar bandar
- D** Memupuk persefahaman pemimpin pelbagai kaum

39 Gambar berikut menunjukkan Persidangan Majlis Raja-Raja pada 15 Februari setelah Malayan Union dibubarkan dan digantikan dengan Persekutuan Tanah Melayu.



Apakah peranan utama Raja-raja Melayu tersebut?

- A Menjadi tonggak utama kerajaan
- B** Mendukung perjuangan maruah bangsa
- C Menuntut kemerdekaan daripada British
- D Memupuk perpaduan antara kaum

40 Persekutuan Tanah Melayu telah berjaya ditubuhkan pada tahun 1948. Apakah faktor utama Persekutuan Tanah Melayu berjaya ditubuhkan?

- A Persefahaman antara orang Melayu
- B Kerjasama antara pemimpin UMNO
- C Tindakan agresif Raja-raja Melayu
- D** Berlaku tolak ansur antara kaum

Tingkatan 4

1 Ideologi komunis dibawa masuk ke negara kita pada tahun 1920-an melalui China. Apakah pertubuhan yang membawa masuk ideologi tersebut?

146

- A Parti Kuomintang
- B Parti Komunis Nanyang
- C The Communist International
- D Persatuan Orang Cina Peranakan

2 Senarai berikut merupakan tokoh Parti Komunis Indonesia (PKI) yang berusaha menyebarkan pengaruh komunis di negara kita.

146

- Alimin
- Tan Malaka
- Sultan Perpatih

Mengapakah mereka melakukan usaha tersebut?

- A Kekejaman tentera Jepun
- B Keinginan meluaskan pengaruh
- C Kegagalan menguasai Pulau Jawa
- D Kekosongan politik di Tanah Melayu

3 The Communist International telah menubuhkan parti baharu di Tanah Melayu selepas Kegagalan Parti berikut.

146

Parti Komunis Nanyang (PKN)

Apakah parti baharu tersebut?

- A Bintang Tiga
- B Parti Komunis Malaya
- C Parti Bolshevik Nasional
- D Barisan Rakyat

4 Ancaman PKM di Tanah Melayu bermula sejak zaman pendudukan Jepun. Bagaimanakah tindakan PKM pada zaman tersebut?

147

- I Membentuk Bintang Tiga
- II Bekerjasama dengan British
- III Bergabung dengan PUTERA
- IV Menerima bantuan Komanwel

- A I dan II
- B I dan IV
- C II dan III
- D III dan IV

5 Mengapakah PKM berjaya meluaskan pengaruh selepas BMA mengambil alih pentadbiran di Tanah Melayu?

147

- A Diluluskan membuka cawangan baharu
- B Dibenarkan menyumbang artikel akhbar
- C Disokong oleh Pejabat Tanah Jajahan
- D Diiktiraf sebagai pertubuhan yang sah

6 Undang-undang berikut telah diluluskan oleh British di Tanah Melayu.

147

Trade Union Ordinance No. 9 of 1948

Apakah kepentingan undang-undang tersebut?

- A Menangkap golongan radikal
- B Menyekat pengaruh komunis
- C Menyekat kebebasan bersuara
- D Menghalang pencerobohan Jepun

7 Bagaimanakah Jawatankuasa Eksekutif Pusat PKM menubuhkan Republik Komunis di Tanah Melayu?

148

- A Mendapat tandatangan Raja-raja Melayu
- B Mengajukan persidangan kebangsaan
- C Memperoleh kelulusan kerajaan British
- D Melancarkan perjuangan bersenjata

8 Apakah kesan daripada peristiwa berikut?

148

Tahun	Peristiwa
16 Jun 1948	Pembunuhan tiga orang pengurus ladang British di Sungai Siput, Perak.

- A Rancangan Briggs diperkenalkan
- B Parti Komunis Malaya diharamkan
- C Pasukan keselamatan diperkukuhkan
- D Undang-undang Darurat dilaksanakan

9 Undang-undang Darurat telah dikuatkuasakan ke seluruh Tanah Melayu pada 1948.

148

Mengapakah undang-undang tersebut dikuatkuasakan?

- A Melakukan penjajahan baharu
- B Menghapuskan pengaruh Jepun
- C Membanteras ancaman komunis
- D Menangkap kumpulan Anti-British

10 PKM telah mencetuskan huru-hara walaupun Undang-undang Darurat dikuatkuasakan.

149

Apakah tujuan PKM bertindak sedemikian?

- A Penduduk hilang keyakinan terhadap British
- B Bertindak untuk menunjukkan kekuatan PKM
- C Peroleh sokongan daripada pembesar Melayu
- D Bergabung dengan pertubuhan politik tempatan

Tingkatan 4

11 **149** Gambar berikut berkaitan dengan kerosakan yang dilakukan oleh komunis Tanah Melayu.



Mengapakah mereka bertindak demikian?

- I Menamatkan Malayan Union
- II Menentang pentadbiran Jepun
- III Menubuhkan kerajaan Republik
- IV Melumpuhkan ekonomi negara

- A I dan II C II dan III
- B I dan IV **D III dan IV**

12 **151** Jadual berikut berkaitan dengan serangan komunis terhadap pasukan keselamatan negara.

Tahun	Serangan Komunis
17 Jun 1948	Balai Polis Kg. Jeram, Johor
27 Jun 1948	Balai Polis Kuala Krau, Pahang
17 Julai 1948	Balai Polis Gua Musang, Kelantan
22 Februari 1950	Balai Polis Muar, Johor

Apakah kesan serangan tersebut terhadap negara

- A** Mengancam keamanan negara
- B Menerima sokongan masyarakat
- C Menggugat keselamatan masyarakat
- D Menawan hati rakyat menyertai PKM

13 **150** Parti Komunis Malaya (PKM) menyasarkan pasukan keselamatan dan menyerang balai polis. Mengapakah PKM melakukan tindakan tersebut?

- I Menamatkan penjajahan Barat
- II Menuntut kemerdekaan negara
- III Mencetuskan keadaan huru-hara
- IV Menunjukkan ketidakupayaan kerajaan

- A I dan II C II dan III
- B I dan IV **D III dan IV**

14 **150** Apakah hukuman yang dikenakan terhadap pesalah berikut penguatkuasaan Undang-undang Darurat?

- Membawa senjata api
- Membawa bahan letupan

- A Hukuman buang negeri
- B Hukuman penjara
- C Hukuman denda
- D Hukuman mati**

15 **152** Pilih jawapan yang tepat berkaitan dengan Undang-Undang Darurat.

	Kesalahan	Hukuman
A	Membantu komunis	Dijatuhkan hukuman mati
B	Membawa senjata	Dijatuhkan hukuman berat
C	Memberi bantuan makanan kepada komunis	Dikenakan perintah berkurung
D	Disyaki terlibat dalam pergerakan	Ditahan tanpa sebarang percikaraan

16 **152** Mengapakah tokoh-tokoh berikut ditangkap semasa Zaman Darurat?

- Khatijah Sidek
- Ahmad Boestaman
- Ishak Haji Muhammad

- A** Menjadi pemimpin gerakan radikal
- B Menyertai gerakan menentang Jepun
- C Melindungi tokoh nasionalis tempatan
- D Mensabotaj kempen menyokong British

17 **152** Antara berikut yang manakah pasukan polis yang membanteras ancaman komunis?

- I Senoi Praaq
- II Cawangan Khas
- III Home Guard
- IV Force 136

- A** I dan II C II dan III
- B I dan IV D III dan IV

18 **153** Bagaimanakah pasukan Cawangan Khas mendapat maklumat tentang PKM?

- A Menyerang kubu komunis
- B** Menyamar sebagai komunis
- C Menguasai selok belok hutan
- D Membuat rondaan di kampung

19 **153** Apakah tugas Pasukan Polis Hutan?

- A Melatih anggota polis baharu
- B Menjadi badan perisik komunis
- C Melindungi pekerja di ladang teh
- D** Membuat rondaan di pinggir hutan

20 **154** Bagaimanakah pasukan Auxiliary Police menentang ancaman komunis?

- A** Mempertahankan bandar dan kampung
- B Menjaga kawasan lombong dan ladang
- C Mengawal kawasan sempadan negara
- D Melakukan serangan gerila di hutan

Tingkatan 4

21 Maklumat berikut berkaitan dengan pasukan keselamatan negara.

154

- Ditubuhkan pada tahun 1933
- Diperbesarkan daripada tiga rejimen kepada tujuh rejimen
- Bertugas untuk membanteras gerila komunis di dalam hutan

Apakah pasukan keselamatan tersebut?

- A Pasukan Perisikan Pertahanan
- B Pasukan Tentera Sukarela
- C Tentera Darat Malaysia
- D Pasukan Askar Melayu**

22 Jadual berikut menyenaraikan pasukan askar Komanwel di Tanah Melayu.

155

Tahun	Jumlah
1954	<ul style="list-style-type: none"> • 25 ribu orang askar Britain • 10 ribu orang askar Gurkha • Satu batalion askar Afrika

Mengapakah pasukan keselamatan tersebut berada di negara kita?

- A Membanteras kegiatan lanun
- B Memerangi ancaman komunis**
- C Menentang penyerahan Sarawak
- D Membantu mencapai kemerdekaan

23 Gambar berikut berkaitan dengan pasukan Sarawak Rangers atau Iban Tracker.

155



Apakah kejayaan pasukan tersebut ?

- A Menghapuskan kumpulan Min Yuen
- B Mengatasi tindakan sabotaj komunis**
- C Mendapat maklumat tentang PKM
- D Memusnahkan kem dan markas komunis

24 Bagaimanakah kerajaan mengawal pergerakan penduduk di bawah Undang-Undang Darurat?

155

- I Penggunaan kad pengenalan
- II Sistem pendaftaran kebangsaan
- III Penubuhan pasukan keselamatan
- IV Penempatan kampung baru

- A I dan II**
- B I dan IV
- C II dan III
- D III dan IV

25 Petempatan baharu berikut dilancarkan oleh Sir Henry Gurney di Tanah Melayu pada tahun 1950.

154

Kampung Baru

Apakah rancangan tersebut?

- A Rancangan Briggs**
- B Rancangan Templer
- C Pelan penyusunan rakyat
- D Dasar penempatan British

26 Bagaimanakah anggota Min Yuen menjalankan kegiatan propaganda dan perisikan?

157

- A Mengedarkan risalah kepada rakyat
- B Menyusup masuk ke kesatuan sekerja
- C Bergerak bersama rakyat tanpa senjata**
- D Mengadakan demontrasi di bandar utama

27 Pada 6 September 1949, Sir Henry Gurney mengisytiharkan pengampunan kepada komunis

158

Bagaimanakah pengisytiharan tersebut dilaksanakan?

- I Poster
- II Kempen
- III Media Cetak
- IV Radio Malaya

- A I dan II
- B I dan IV**
- C II dan III
- D III dan IV

28 Apakah tindakan penduduk pelbagai kaum terhadap Kempen Bulan Rakyat Melawan Penjahat?

155

- A Mengurung diri di dalam rumah
- B Mendaftar diri secara sukarela
- C Mengadakan rundangan antara kaum
- D Menyertai perarakan kempen di bandar**

29 Apakah larangan yang dikenakan terhadap penduduk semasa perintah berkurung?

155

- A Keluar rumah**
- B Mendapat rawatan
- C Mengerjakan ibadat
- D Aktiviti harian

30 Apakah peristiwa yang menyebabkan perintah berkurung berikut dijalankan?

158

Tahun	Mac 1952
Peristiwa	Penduduk Tanjung Malim dikenakan perintah berkurung selama 22 jam

- A Bencana banjir melanda di bahagian utara
- B Penyebaran penyakit berjangkit di seluruh negeri
- C Serangan komunis terhadap sekumpulan pekerja**
- D Penentangan pemimpin setempat terhadap British

Tingkatan 4

31 Tokoh berikut telah melancarkan kempen "Memenangkan Hati dan Fikiran Rakyat".

159



Sir Gerald Templer

Apakah kejayaan kempen tersebut?

- A Memujuk rakyat untuk menentang komunis
- B Meningkatkan taraf hidup rakyat luar bandar
- C Memujuk kerjasama rakyat melalui parti politik
- D Mewujudkan sistem pendidikan yang seragam

32 Bagaimanakah Sir Gerald Templer menjalinkan hubungan baik dengan penduduk tempatan?

159

- I Mengadakan pilihan raya
- II Membendung rusuhan kaum
- III Membangunkan kemudahan awam
- IV Melonggarkan syarat kewarganegaraan

- A I dan II
- B I dan IV
- C II dan III
- D III dan IV

33 Jadual berikut menyenaraikan jumlah yang menjadi warganegara di Tanah Melayu.

159

Tarikh	Orang Cina	Orang India
14 September 1952	1.2 juta	180 ribu

Mengapakah keadaan sedemikian berlaku?

- A Pelaksanaan kad pengenalan
- B Pengenalan kad pengenalan
- C Kelonggaran syarat kewarganegaraan
- D Kemasukan buruh secara beramai-ramai

34 Kerajaan telah mengadakan Pilihan Raya Majlis Perbandaran Kuala Lumpur pada tahun 1952. Apakah matlamat pilihan raya tersebut?

159

- A Menjadi asas kemerdekaan negara
- B Membendung masalah rusuhan kaum
- C Memberi latihan pemimpin dalam pentadbiran
- D Menggalakkan penyertaan orang bukan Melayu

35 Perkhidmatan Radio Malaya dijadikan medium untuk membanteras komunis. Mengapakah perkhidmatan tersebut digunakan?

158

- I Menyedarkan rakyat menyokong kerajaan
- II Mempercepatkan proses kemerdekaan
- III Memudahkan kubu komunis dikesan
- IV Menyiarkan syarat tawaran pengampunan

- A I dan II
- B I dan IV
- C II dan III
- D III dan IV

36 Gambar berikut berkaitan dengan Kawasan Putih yang diisytiharkan di Tanah Melayu.

160



Apakah maksud Kawasan Putih?

- A Kawasan yang masih terancam
- B Kawasan yang diisytiharkan bebas
- C Kawasan larangan penduduk keluar
- D Kawasan pusat pentadbiran British

37 Mengapakah Chin Peng menolak tawaran pengampunan yang ditawarkan dalam Rundingan

160

- A Kerajaan tidak membayar ganti rugi
- B Kerajaan meneruskan Perang Saraf
- C Ketidaksamaan kaum dalam rundingan
- D Keengganan kerajaan mengiktiraf PKM

38 Pada tahun 1952, kerajaan telah melonggarkan syarat kewarganegaraan untuk membanteras ancaman. Apakah rumusan berkaitan dengan rumusan tersebut?

161

- A Kerjasama masyarakat pelbagai kaum
- B Perundingan antara kaum dilaksanakan
- C Kesepakatan antara rakyat dan kerajaan
- D Pengorbanan dan tolak ansur orang Melayu

39 Mengapakah rakyat bergantung pada makanan berikut semasa Zaman Darurat?

162

- Jagung
- Keledek
- Ubi Kayu

- A Catuan bekalan makanan
- B Kemusnahan lading getah
- C Sekatan perintah berkurang
- D Kerosakan peralatan pertanian

40 Dialog berikut mungkin berlaku pada Zaman Darurat.

163

Penduduk A : Darurat telah ditamatkan selepas 12 tahun
Penduduk B : Betul, Rakyat hidup menderita Sepanjang tempoh tersebut

Bagaimanakah kehidupan rakyat pada tempoh tersebut?

- A Pergaduhan antara kaum
- B Pencerobohan kuasa luar
- C Kekejaman tentera Jepun
- D Kemusnahan harta benda

1 Maklumat berikut merujuk kepada pertubuhan yang muncul di Tanah Melayu pada tahun 1930-an.

172

Pertubuhan	Kesatuan Melayu Muda
Pemimpin	Ibrahim Hj Yaakob

Apakah konsep kemerdekaan yang diperjuangkan oleh pertubuhan tersebut?

- A Melayu Raya
- B Merdeka penuh
- C Hidup Melayu-Merdeka
- D Merdeka dengan Darah

2 Senarai berikut merupakan parti politik yang terawal muncul di Tanah Melayu.

172

- Kesatuan Melayu Muda
- Parti Kebangsaan Melayu Malaya
- Angkatan Pemuda Insaf

Apakah persamaan perjuangan parti tersebut?

- A Menentang anggota komunis
- B Mengekalkan sistem monarki
- C Menyokong sistem demokrasi
- D Menggunakan pendekatan radikal

3 Gambar berikut merupakan pemimpin Persatuan Kebangsaan Melayu Sarawak.

172



Gambar 1 : Datu Patinggi Abang Haji Abdillah

Mengapakah pemimpin tersebut menentang penyerahan Sarawak kepada British pada tahun 1946?

- A Menginginkan taraf berkerajaan sendiri
- B Mengekalkan amalan tradisi masyarakat
- C Mempertahankan keputusan Majlis Negeri
- D Mendapatkan kemerdekaan penuh Sarawak

4 Parti Malayan Indian Congress (MIC) diasaskan oleh John Thivy pada bulan Ogos 1946.

173

Apakah matlamat penubuhan parti tersebut?

- A Memperjuangkan kemerdekaan melalui rundingan
- B Mencapai kemerdekaan melalui pendekatan radikal
- C Menjalinkan kerjasama untuk mencapai kemerdekaan
- D Meningkatkan kemajuan dalam bidang sosioekonomi

5 Maklumat berikut merujuk kepada slogan yang digunakan oleh parti United Malays National Organisation (UMNO) pada tahun 1946.

173

"Hidup Melayu"

Apakah yang diperjuangkan oleh UMNO melalui slogan tersebut?

- I Menyokong konsep kesamarataan
- II Menjaga kedaulatan Raja-raja Melayu
- III Memelihara status quo orang Melayu
- IV Menuntut kemerdekaan Tanah Melayu

- A I dan II
- B I dan IV
- C II dan III
- D III dan IV

6 Apakah syarat yang diberikankan oleh British kepada penduduk Tanah Melayu untuk mencapai kemerdekaan?

174

- A Mengadakan pilihan raya
- B Mengamalkan demokrasi
- C Mewujudkan kerjasama kaum
- D Melantik pemimpin parti politik

7 Tokoh berikut merupakan antara anggota Jawatankuasa Hubungan Antara Kaum yang ditubuhkan pada Januari 1949.

174



Pengerusi



Wakil Melayu



Wakil Cina

Mengapakah Jawatankuasa tersebut dibentuk?

- I Merundingkan kemerdekaan negara
- II Melatih pemimpin pelbagai kaum mentadbir
- III Mengkaji hubungan kaum secara mendalam
- IV Mewujudkan keadaan harmoni antara rakyat

- A I dan II
- B I dan IV
- C II dan III
- D III dan IV

8 Senarai berikut berkaitan isu yang melibatkan pertikaian antara kaum yang diselesaikan oleh Jawatankuasa Hubungan Antara Kaum.

176

- Kedudukan istimewa orang Melayu
- Kedudukan ekonomi orang Melayu
- X

Apakah X ?

- A Pilihanraya umum
- B Ketuanan orang Melayu
- C Jawatan dalam pentadbiran
- D Kewarganegaraan Bukan Melayu**

9 Maklumat berikut berkaitan kesanrundingan dalam Jawatankuasa Hubungan Antara Kaum .

176

Pilihan raya diadakan pada peringkat majlis bandaran, majlis negeri dan juga Majlis Perundangan Persekutuan.

Mengapakah Jawatankuasa Hubungan Antara Kaum mencadangkan pilihan raya diadakan secara berperingkat kepada penduduk Tanah Melayu?

- A** Persediaan ke arah berkerajaan sendiri
- B Mengelakkan pemusatan kuasa pemimpin
- C Mengurangkan pengaruh golongan radikal
- D Menjalankan sistem pemerintahan demokrasi

10 Senarai berikut berkaitan dengan sistem pendidikan negara sebelum merdeka.

177

- Sistem persekolah berbeza mengikut kaum
- Penggunaan bahasa pengantar yang berbeza
- Penggunaan buku teks yang berbeza
- Penggunaan sukatan pelajaran yang berbeza

Bagaimanakah Jawatankuasa Hubungan Antara Kaum berperanan mengatasi Perbezaan tersebut?

- A Memperbanyak sekolah vernakular
- B Mengetatkan syarat kewarganegaraan
- C Mewajibkan pendidikan anak-anak tempatan
- D** Mencadangkan sistem pendidikan yang seragam

11 Lembaga Pembangunan Industri Desa (RIDA) telah ditubuhkan pada tahun 1950 hasil tuntutan daripada Dato' Onn Jaafar.

177

Apakah tujuan penubuhan RIDA?

- A Memajukan perindustrian dan perdagangan
- B Memasarkan hasil perantanian penduduk luar bandar
- C** Memberi bantuan ekonomi dan kemajuan luar bandar
- D Membantu petani melibatkan diri dalam kegiatan koperasi

12 Maklumat berikut merujuk kepada dasar yang dijalankan oleh British selepas Perang Dunia Kedua.

178

Dasar Dekolonisasi

Bagaimanakah British merealisasikan dasar tersebut di Tanah Melayu?

- I Pembentukan Sistem Ahli
- II Penubuhan Malayan Union
- III Pengenalan sistem demokrasi
- IV Pelaksanaan pilihanraya umum

- A** I dan II C II dan III
- B I dan IV D III dan IV

13 Mengapakah British memperkenalkan sistem berikut di Tanah Melayu pada tahun 1951?

178

Sistem Ahli

- A Merangka perlembagaan yang baharu
- B Melaksanakan proses pilihan raya umum
- C Merancang pembangunan ekonomi tempatan
- D** Melatih penduduk tempatan dalam pentadbiran

14 Maklumat di bawah berkaitan portfolio yang terus kekal di bawah pentadbiran British dalam Sistem Ahli.

178

- Hal Ehwal Ekonomi
- Perumahan Dan Kerja Raya
- X

Apakah X?

- A Kesihatan
- B Pelajaran
- C Pertanian dan Perhutanan
- D** Perindustrian dan Perhubungan Sosial

15 Apakah tanggungjawab Ahli dalam Sistem Ahli?

179

- I Menjaga portfolio
- II Mencadangkan undang-undang
- III Mengetuai pentadbiran negara
- IV Melantik Ahli yang berkeelayakan

- A** I dan II C II dan III
- B I dan IV D III dan IV

16 Sistem Ahli diperkenalkan di Tanah Melayu pada tahun 1951.

179

Bagaimanakah sistem tersebut dapat mengukuhkan perpaduan kaum?

- A** Pelantikan ahli dalam kalangan pelbagai kaum
- B Pemantauan oleh sebuah suruhanjaya bebas
- C Penggubalan undang-undang antiperkauman
- D Penggunaan bahasa kebangsaan diwajibkan

17 Pilih pasangan yang **BETUL** tentang perbezaan dalam Sistem Ahli sebelum merdeka dengan sistem kabinet Malaysia selepas merdeka.

179

	Sistem Ahli Persekutuan Tanah Melayu 1951	Sistem Kabinet Malaysia 2019
I	Ahli dikenali sebagai Ahli	Ahli dikenali sebagai Menteri
II	Dilantik oleh Pesuruhjaya Tinggi British	Dipilih melalui pilihan raya
III	Diletakkan di bawah kuasa Majlis Raja-Raja	Diletakkan di bawah kuasa Yang di-Pertuan Agong
IV	Mengandungi 10 orang anggota	Mengandungi 32 orang anggota

- A I dan II C II dan III
B I dan IV D III dan IV

18 Senarai berikut berkaitan dengan perkembangan sistem pendidikan negara sebelum merdeka.

180

- Sekolah vernakular Melayu
- Sekolah vernakular Cina
- Sekolah vernakular Tamil
- Sekolah Inggeris

Apakah kesan perkembangan sistem pendidikan tersebut terhadap negara?

- A Perpaduan kaum sukar dicapai
B Pengurusan tenaga pengajar mudah
C Pembangunan sosioekonomi seimbang
D Peningkatan bilangan Pengawai tempatan

19 Rajah berikut berkaitan usaha ke arah pembentukan Sistem Pendidikan Kebangsaan di Tanah Melayu.

180

Laporan Barnes	Laporan Fenn Wu	X
----------------	-----------------	---

Apakah X?

- A Penyata Razak
B Ordinan Pelajaran
C Laporan Woodhead
D Laporan Rahman Talib

20 Mengapakah Laporan Fenn-Wu diterbitkan selepas Laporan Barnes dikeluarkan?

180

- A Bantahan daripada masyarakat Cina
B Sokongan daripada pegawai British
C Kajian terhadap pendidikan kebangsaan
D Perkembangan pendidikan vernakular

21 Maklumat berikut berkaitan perkara yang terdapat dalam Ordinan Pelajaran 1952.

181

Mempunyai dua jenis sekolah rendah iaitu sekolah yang menggunakan bahasa Melayu dan bahasa Inggeris sebagai bahasa pengantar.

Bahasa Cina dan Tamil diajar sebagai bahasa ketiga di sekolah rendah sekiranya terdapat 15 orang murid dalam kumpulan yang sama.

Sekolah menengah menggunakan bahasa Inggeris sebagai bahasa pengantar.

Mengapakah undang-undang tersebut mendapat tentangan daripada semua kaum?

- A Masalah sumber kewangan
B Kenaikan darjah secara automatik
C Kekurangan kemudahan prasarana
D Belum memenuhi aspirasi semua kaum

22 Antara berikut, yang manakah berkaitan cadangan pembentukan sistem Pendidikan Kebangsaan di Sarawak berdasarkan Laporan Woodhead?

182

- A Mempelbagaikan sukatan pelajaran dan peperiksaan
B Memperkenalkan buku teks yang berteraskan dunia
C Memperkasakan pendidikan peringkat rendah sahaja
D Memastikan pendidikan sivik diajar secara formal di sekolah

23 Bagaimanakah Penyata Jawatankuasa Pelajaran 1956 menjadi asas kepada pembentukan sistem pendidikan kebangsaan?

183

- I Memperbanyak sekolah vernakular
II Melalui sukatan pelajaran yang seragam
III Penggunaan bahasa pengantar yang sama
IV Pelajaran percuma kepada semua pelajar

- A I dan II C II dan III
B I dan IV D III dan IV

24 Penyata Jawatankuasa Pelajaran 1956 merupakan asas kepada pembentukan sistem pendidikan kebangsaan. Apakah hasrat jawatankuasa tersebut terhadap masyarakat di negara kita?

183

- A Memupuk semangat perpaduan
B Membasmi kemiskinan penduduk
C Mengukuh keamanan negara
D Memajukan ekonomi masyarakat

25 Jadual berikut berkaitan dengan penubuhan parti politik pada tahun 1940-an.

183

Tahun Penubuhan	1946
Pengasas	Dato' Onn Bin Jaafar
Parti	United Malays National Organization (UMNO)

Apakah matlamat perjuangan parti tersebut?

- A Menubuh Melayu Raya
- B Menentang Malayan Union**
- C Mengukuh perpaduan kaum
- D Menuntut kemerdekaan negara

26 Maklumat berikut berkaitan parti politik yang ditubuhkan di Tanah Melayu pada Februari 1949.

185

Parti	Malayan Chinese Association (MCA)
Pengasas	Tun Tan Cheng Lock Yong Shook Lin H. S. Lee

Mengapakah parti tersebut ditubuhkan?

- A Menentang pembentukan Malayan Union
- B Menjalinkan kerjasama menentang komunis
- C Mencapai kemerdekaan melalui Melayu Raya
- D Memperjuangkan hak yang sama bagi semua kaum**

27 Selepas Perang Dunia Kedua pelbagai parti politik ditubuhkan kerana perkembangan nasionalisme. Apakah kesan penubuhan pelbagai parti tersebut?

184

- A Perpaduan sukar dibentuk
- B Semangat perkauman menebal
- C Ancaman komunis berkurangan
- D Perjuangan menuntut kemerdekaan kukuh**

28 Gambar berikut berkaitan tokoh yang mengetuai Persidangan Kebangsaan pada Februari 1954.

186



Gambar 2: Dato' Panglima Bukit Gantang


Apakah hasil perbincangan dalam persidangan tersebut ?

- I Menuntut diadakan pilihan raya Persekutuan
- II Mencadangkan penerimaan satu kewarganegaraan
- III Memartabatkan Bahasa Melayu sebagai bahasa kebangsaan
- IV Membicangkan langkah membentuk gabungan parti politik kebangsaan

- A I dan II C II dan III
- B I dan IV D III dan IV**

29 Gambar berikut menunjukkan logo yang digunakan oleh Parti Perikatan pada tahun 1954.

187



Gambar 3 : Logo Parti Perikatan

Mengapakah Parti Perikatan memilih logo tersebut?

- A Kesediaan menempuh cabaran untuk kemerdekaan**
- B Kebebasan menentukan matlamat perjuangan
- C Kekayaan negara dinikmati bersama
- D Kejayaan perpaduan kaum

30 Apakah nilai yang diperolehi daripada usaha semua kaum ke arah kemerdekaan negara kita?

187

- I Gigih
- II Jujur
- III Prihatin
- IV Kerjasama

- A I dan II C II dan III
- B I dan IV D III dan IV**

1 Apakah sistem pentadbiran yang wujud hasil daripada pelaksanaan pilihan raya di negara kita?

194

- A Tirani
- B Birokrasi**
- C Demokrasi
- D Aristokrasi

2 Mengapakah pilihan raya diadakan di negara kita pada tahun 1950-an?

196

- A Memilih wakil rakyat**
- B Melantik pemimpin parti politik
- C Menentukan ahli Dewan Negara
- D Memilih Yang di-Pertuan Agong

3 Kerajaan Persekutuan telah mewujudkan sebuah Jawatankuasa Pilihan Raya bagi Majlis Mesyuarat Persekutuan.

196

Mengapakah jawatankuasa tersebut ditubuhkan?

- A Memilih calon dalam pilihan raya
- B Menentukan parti yang bertanding
- C Membuat kajian tentang pilihan raya**
- D Meninjau pandangan rakyat tempatan

4 Pilihan raya majlis pempandaran pertama telah diadakan pada tahun 1951.

197

Apakah kawasan pilihan raya majlis pempandaran tersebut?

- A Alor Setar
- B Kuala Lumpur
- C George Town**
- D Johor Bahru

5 Rajah berikut berkaitan dengan peringkat pilihan raya yang diadakan di negara sebelum merdeka.

197



Apakah X?

- A Zon
- B Daerah
- C Negeri**
- D Wilayah

6 Jadual berikut menunjukkan Perikatan UMNO dan MCA telah menang dalam Pilihan Raya Majlis Perbandaran Kuala Lumpur.

197

Parti	Jumlah kerusi yang dimenangi
IMP	2
Parti Buruh Selangor	--
Persatuan Penyewa- Penyewa Rumah	--
Bebas	1
Perikatan (UMNO Kuala Lumpur dan MCA Selangor)	9

Sumber: www.arkib.gov.my

Apakah faktor kejayaan perikatan tersebut?

- I Parti berkuasa
- II Pemimpin terkenal
- III Sifat bekerjasama
- IV Masyarakat bertoleransi

- A I dan II
- B I dan IV
- C II dan III
- D III dan IV**

7 Maklumat berikut merujuk kepada keputusan pilihan raya peringkat negeri pada tahun 1954.

197

Perikatan UMNO-MCA memenangi 226 daripada 268 kerusi.

Apakah yang dapat dibuktikan daripada keputusan pilihan raya tersebut?

- A Kejayaan kerjasama pelbagai kaum**
- B Kesetiaan rakyat kepada raja
- C Kebebasan bersuara diiktiraf
- D Keperluan rakyat dipenuhi

8 Mengapakah pilihan raya berikut diadakan ?

198

Pilihan Raya Majlis Perundangan Persekutuan 1955

- A Memillih Ahli Dewan Negara
- B Melantik Yang di-Pertuan Agong
- C Memajukan ekonomi penduduk tempatan
- D Merintis jalan ke arah berkerajaan sendiri**

- 9 **MURAH SUKSES 198** Gambar berikut merujuk kepada Pesuruhjaya Tinggi British yang pernah mentadbir Tanah Melayu.



Gambar 1 : Sir Donald MacGillivray

Apakah peranan beliau dalam Pilihan Raya Majlis Perundangan Persekutuan (MPP) 1955?

- A Memilih calon pilihan raya
 B Membuat pengisytiharan pilihan raya
C Menentukan sempadan pilihanraya
 D Menjalankan pendaftaran pilihan raya
- 10 **MURAH SUKSES 198** Jawatankuasa Pilihan Raya yang diwujudkan telah mengeluarkan dua bentuk penyata susunan dalam Majlis Perundangan Persekutuan (MPP).

Apakah persamaan dua bentuk susunan MPP tersebut?

- I Mempunyai seorang speaker
 II Melantik tiga orang ahli
 III Menetapkan tempoh pilihan raya
 IV Memilih lima puluh wakil rakyat

- A I dan II** C II dan III
 B I dan IV D III dan IV

- 11 **MURAH SUKSES 199** Mengapakah pemimpin parti berikut berangkat ke London pada 21 April 1954?

- A Menentukan bilangan anggota MPP**
 B Mempercepatkan tarikh pilihan raya
 C Mendapatkan mandat daripada British
 D Mencadangkan undang-undang pilihan raya

- 12 **MURAH SUKSES 199** Rombongan Tunku Abdul Rahman bersama pemimpin Parti Perikatan ke London berhasrat menentukan tiga perlima bilangan anggota dalam Majlis Perundangan Persekutuan (MPP).

Bagaimanakah keanggotaan MPP tersebut ingin ditentukan?

- A Melalui pilihan raya umum**
 B Pelantikan oleh kerajaan British
 C Persetujuan Majlis Raja-Raja Melayu
 D Menggunakan pungutan suara

- 13 **MURAH SUKSES 199** Gambar berikut merujuk kepada peranan seorang wanita yang memberi sumbangan dalam usaha memerdekakan negara.



Gambar 2 : Datuk Siti Rahimah Kassim

Apakah nilai yang boleh dikaitkan dengan sumbangan beliau?

- A Jujur
 B Amanah
 C Keadilan
D Pengorbanan

- 14 **MURAH SUKSES 200** Rajah adalah garis masa sebahagian proses Pilihan Raya Majlis Perundangan Persekutuan (MPP) 1955.



Apakah X?

- A Kempen pilihan raya**
 B Penetapan sempadan kawasan
 C Pembentukan suruhanjaya pemantau
 D Pengumuman keputusan pilihan raya

- 15 **MURAH SUKSES 201** Berapakah tempoh masa kempen pilihan raya Majlis Perundangan Persekutuan 1955?

- A 45 hari**
 B 50 hari
 C 55 hari
 D 60 hari

- 16 **MURAH SUKSES 200** Apakah syarat yang melayakkan warganegara Persekutuan Tanah Melayu untuk mengundi dalam Pilihan Raya Majlis Perundangan Persekutuan 1955?

- A Berusia 20 tahun ke atas
B Berdaftar sebagai pemilih
 C Berjawatan dalam kerajaan
 D Bebas daripada kes mahkamah

17 Jadual berikut berkaitan keputusan Pilihan Raya Majlis Perundangan Persekutuan 1955.

202

Nama Parti	Bilangan Calon	Kerusi yang dimenangi	Undi yang diperolehi
Perikatan	52	51	818013
Parti Negara	30	0	78909
Parti Islam Se-Tanah Melayu	11	1	40667
Parti Kebangsaan Perak	9	0	20997
Parti Progresif Perak	2	0	1081
Perikatan	4	0	4786
Parti Negara	18	0	31642

(sumber : K.J. Ratnam, 1969. Universiti Malaya Press)

Apakah faktor kemenangan Parti Perikatan dalam pilihan raya tersebut?

- A Rasa perkauman
- B Kerjasama Kaum**
- C Tokoh terkenal
- D Pengaruh parti

18 Mengapakah pilihan raya tempatan pertama diadakan di Sarawak pada tahun 1956?

203

- A** Persediaan ke arah berkerajaan sendiri
- B Penyertaan dalam pengabungan Malaysia
- C Penolakan terhadap pentadbiran British
- D Penyatuan hubungan pelbagai kaum

19 Antara berikut, manakah kawasan yang terlibat dengan pilihan raya tempatan pertama di Sarawak?

203

- I Miri Municipal Council
 - II Sibu Urban District Council
 - III Kuching Municipal Council
 - IV Rajang Urban District Council
- A I dan II **C** II dan III
 B I dan IV D III dan IV

20 Pilhan raya kerajaan tempatan pertama di Sabah diadakan pada 16 Disember 1962. Siapakah yang dilantik menjadi penguasa pilihan raya tersebut?

203

- A Pegawai Dearah
- B Ketua Resideni
- C Ketua Anak Negeri
- D Setiausaha Kolonel**

21 Apakah peranan Majlis Perundangan Persekutuan (MPP)?

204

- A Mengisytihar pilihan raya
- B Melantik pegawai tempatan
- C** Menggubal undang-undang
- D Mengurus pentadbiran negara

22 Maklumat berikut berkaitan keanggotaan Majlis Perundangan Persekutuan (MPP) 1948.

204

3 orang menjadi ahli MPP

Siapakah *ex-officio* tersebut?

- A Hakim Besar Persekutuan
- B** Ketua Setiausaha Kerajaan
- C Pesuruhjaya Tinggi Britsh
- D Residen Negeri-Negeri Selat

23 Pilih pasangan yang **betul** tentang perbezaan keahlian Majlis Perundangan Persekutuan 1948 dengan Majlis Perundangan Persekutuan 1955.

204

	Majlis Perundangan Persekutuan 1948	Majlis Perundangan Persekutuan 1955
I	52 Ahli tidak rasmi dilantik	52 Ahli dipilih melalui pilihan raya
II	2 orang wakil Negeri-Negeri Selat	3 orang wakil Negeri-Negeri Selat
III	80 orang jumlah keahlian majlis	100 orang jumlah keahlian
IV	11 orang ahli rasmi dalam kalangan pegawai kerajaan	11 orang Menteri Besar mewakili negeri

- A I dan II C II dan III
- B** I dan IV D III dan IV

24 Apakah kesan penubuhan Majlis Perundangan Persekutuan (MPP) ke atas Tanah Melayu?

204

- A Pelaksanaan Sistem Ahli diteruskan
- B Pertukaran kepimpinan dalam tempoh yang singkat
- C Penyerahan kuasa sepenuhnya oleh pegawai British
- D** Pemimpin tempatan mengambil alih tugas pentabiran

25 Keanggotaan Majlis Perundangan Persekutuan (MPP) membuktikan amalan sistem demokrasi diamalkan di negara kita. Apakah bukti pengamalan sistem demokrasi tersebut?

204

- A** Pemimpin dipilih oleh rakyat
- B Pengurangan kuasa sultan
- C Pemansuhan pentadbiran barat
- D Pembentukan kabinet pertama

Tingkatan 4

26 **MURAH SUKSES** 204
Gambar berikut merujuk kepada wanita pertama yang dipilih dalam Majlis Perundangan Persekutuan (MPP) sedang mengangkat sumpah sebagai ahli majlis tersebut.



Gambar 3 : Halimaton Abd Majid

Apakah nilai yang diperolehi daripada keahlian dalam MPP?

- A** Keadilan
- B Kejujuran
- C Kasih sayang
- D Berhemah Tinggi

27 **MURAH SUKSES** 206
Gambar berikut berkaitan dengan tokoh negara yang menganggotai kabinet pertama Persekutuan Tanah Melayu.



Gambar 4: Dato, Abdul Razak Hussein

Apakah jawatan tokoh tersebut?

- A Menteri Buruh
- B** Menteri Pelajaran
- C Menteri Kesihatan
- D Menteri Pengangkutan

28 **MURAH SUKSES** 206
Apakah peranan kabinet pertama Persekutuan Tanah Melayu?

- A** Mengurangkan kuasa pentadbiran British
- B Membincangkan soal perundangan negara
- C Mengekalkan Kuasa Veto Pesuruhjaya Tinggi
- D Menghapuskan sistem demokrasi barat

29 **MURAH SUKSES** 207
Bagaimanakah V.T. Sambanthan selaku Menteri Buruh melaksanakan tugasnya untuk menjadikan perkhidmatan awam bercorak tempatan?

- A** Mengurangkan pegawai Eropah
- B Mengambah bilangan pelajar ke Britain
- C Menyekat kemasukan buruh asing
- D Menubuhkan pusat latihan kemahiran

30 **MURAH SUKSES** 207
Apakah sumbangan kabinet pertama Persekutuan Tanah Melayu terhadap negara?

- A Menamatkan zaman darurat
- B** Menuntut kemerdekaan negara
- C Menggagotai Suruhanjaya Reid
- D Merangka Perlembagaan Persekutuan

Tingkatan 4

1 Apakah asas pembentukan perlembagaan ke arah berkerajaan sendiri?

216

- A Penubuhan Sistem Ahli
- B Pilihan Raya Umum 1955**
- C Pembentukan Jawatankuasa Kerja
- D Pelaksanaan Majlis Perundangan Persekutuan

2 Di antara peristiwa berikut, yang manakah mempengaruhi usaha ke arah kemerdekaan Tanah Melayu.

216

- I British memberi jaminan Persekutuan Tanah Melayu akan berkerajaan sendiri segera
- II Perang Dunia Kedua telah menamatkan penjajahan British di Asia Tenggara
- III Rakyat Tanah Melayu mempunyai kesedaran tentang semangat nasionalisme.
- IV British memberi jaminan Persekutuan Tanah Melayu akan berkerajaan sendiri

- A I dan II
- B I dan IV
- C II dan III
- D III dan IV**

3 Pernyataan berikut berkaitan dengan rundingan kemerdekaan.

216

Tunku Abdul Rahman dan wakil Raja-raja Melayu menjelaskan perlunya misi rundingan di London bagi membincangkan beberapa perkara.

Apakah perkara yang ingin dirundingkan?

- I Pentadbiran
- II Keselamatan
- III Perlembagaan
- IV Kewarganegaraan

- A I dan II
- B I dan IV
- C II dan III**
- D III dan IV

4 Tokoh dalam gambar berikut terlibat dalam rombongan rundingan ke London pada tahun 1955.

216



Rombongan degelasi kemerdekaan ke London

Apakah tujuan rombongan tersebut?

- A Memohon khidmat nasihat pentadbiran
- B Membincangkan pilihan raya akan datang
- C Mendapatkan kemerdekaan untuk Tanah Melayu**
- D Memperoleh mandat untuk mentadbir negara

5 Tunku Abdul Rahman terlibat dalam rombongan rundingan kemerdekaan ke London. Apakah peranan beliau dalam rombongan tersebut?

217

- A Menjadi juru bahasa
- B Pemerhati rundingan
- C Mengetuai rombongan**
- D Pegawai perundangan

6 Peristiwa berikut berkaitan dengan perjalanan rombongan rundingan kemerdekaan.

217

Tunku Abdul Rahman merancang perjalanan rombongan ke Karachi dengan menaiki kapal laut.

Mengapakah Tunku bertindak demikian?

- A Menjimatkan kos dan masa perjalanan
- B Membincangkan isu misi rundingan di London
- C Merapatkan hubungan dengan setiap anggota
- D Memanfaatkan masa untuk menyusun strategi**

7 Apakah yang disepakati oleh British dalam rundingan London 1956?

218

- A British akan memberi ganti rugi kepada kerajaan PTM
- B Bantuan kewangan akan diberi untuk memajukan ekonomi
- C Mengadakan Perjanjian Pertahanan dan Bantuan Bersama**
- D Majlis Raja-raja Melayu akan mengetuai sektor pertanian

8 Apakah bukti misi rombongan kemerdekaan Tanah Melayu Berjaya dicapai?

218

- A Termeterai Perjanjian Kemerdekaan Tanah Melayu
- B Kemerdekaan Tanah Melayu dalam tempoh 3 tahun**
- C Kerajaan British membiayai kos rombongan
- D Pasukan keselamatan British dihantar ke Tanah Melayu

9 Apakah nama perjanjian yang dimeterai untuk memberikan kemerdekaan kepada Tanah Melayu?

218

- A Perjanjian Merdeka
- B Perjanjian Kemerdekaan**
- C Perjanjian Rombongan Merdeka
- D Perjanjian Kemerdekaan Tanah Melayu

Tingkatan 4

10 Pihak berikut terlibat dalam rundingan kemerdekaan di London.

218

- Wakil Raja - Raja Melayu
- Wakil Parti Perikatan
- Wakil British

Apakah tempat rundingan kemerdekaan tersebut?

- A** Lancaster House
- B Gloucester House
- C Sunderland House
- D Westminster Abbey

11 Rajah berikut berkaitan dengan permohonan daripada perwakilan Tanah Melayu dalam rundingan kemerdekaan.

218



Apakah jawatan X yang dipohon?

- A** Menteri Pertahanan
- B Menteri Luar Negara
- C Menteri Keselamatan
- D Menteri Pengangkutan

12 Mengapakah perjanjian berikut dipersetujui antara British dengan perwakilan Persekutuan Tanah Melayu di London?

218

Perjanjian Pertahanan dan Bantuan Bersama

- A Menamatkan ancaman komunis
- B** Mendapatkan bantuan pertahanan
- C Mengukuhkan kuasa pentadbiran
- D Menganjurkan Latihan ketenteraan

13 Apakah yang dirundingkan oleh perwakilan Tanah Melayu berkaitan dengan Menteri Hal Ehwal Ekonomi di London?

218

- A Ditadbir oleh pegawai British
- B** Diserahkan kepada rakyat Persekutuan Tanah Melayu
- C Ditukar kepada Menteri Ekonomi
- D Dinaiktaraf menjadi kementerian

14 Suruhanjaya Reid memulakan tugasnya pada akhir Jun 1956.

220

Apakah tanggungjawab suruhanjaya tersebut?

- A Membincangkan garis panduan pilihan raya
- B** Merangka perlembagaan negara yang merdeka
- C Mengkaji kelemahan sistem perkhidmatan awam
- D Merancang strategi menghadapi ancaman Jepun

15 Soalan 8 berdasarkan gambar di bawah.

218



Gambar di atas menunjukkan wakil Tanah Melayu dan wakil British telah menandatangani sebuah perjanjian selepas rundingan di London pada 18 Januari sehingga 6 Februari 1956.

Apakah perjanjian tersebut?

- A Perjanjian Persekutuan Malaysia
- B Perjanjian Persekutuan Tanah Melayu
- C** Perjanjian Kemerdekaan Tanah Melayu
- D Perjanjian Semenanjung Malaysia

16 Perjanjian berikut termeterai antara kerajaan British dengan wakil rombongan merdeka.

218

Tarikh	8 Februari 1956
Peristiwa	Perjanjian Kemerdekaan Tanah Melayu

Apakah kesan daripada perjanjian tersebut?

- A Pelantikan Yang di-Pertuan Agong
- B Pemansuhan jawatan Ketua Menteri
- C Pembentukan Malaysia diisytiharkan
- D** Penubuhan Suruhanjaya Perlembagaan

17 Suruhanjaya Perlembagaan Persekutuan Tanah Melayu dibentuk pada 8 Mac 1956.

218

Apakah peranan suruhanjaya tersebut?

- A** Merangka sebuah perlembagaan
- B Mencadangkan tarikh pilihan raya
- C Melantik pegawai pentadbiran baru
- D Menganjurkan kongres kebangsaan

18 Gambar berikut berkaitan dengan Tunku Abdul Rahman semasa melaungkan "Merdeka" di Padang Banda Hilir, Melaka.

219



Apakah maksud genggaman tangan tersebut?

- A British mengaku kalah kepada Tanah Melayu
- B** Tanah Melayu akan memperoleh kemerdekaan
- C Berjanji akan mentadbir negara dengan berkesan
- D Parti Perikatan berjaya dalam Pilihan Raya Umum

19 Apakah isu yang diberikan perhatian oleh Suruhanjaya Perlembagaan Persekutuan Tanah Melayu?

220

- A** Kerakyatan
- B Penetapan sempadan
- C Hal ehwal imigresen
- D Kewangan

Tingkatan 4

20 Suruhanjaya Reid mencadangkan satu jawatan bagi ketua negara. Apakah jawatan tersebut?

- A Yamtuan Besar
- B Yang di-Pertua
- C Yang di-Pertuan Agong**
- D Yang di-Pertuan Negeri

21 Bagaimanakah kedudukan kerajaan negeri mengikut Terma Suruhanjaya Perlembagaan?

- A Mengehendkan kuasa tertentu
- B Membatalkan kuasa pentadbiran
- C Menyerahkan kepada daerah kecil**
- D Mempunyai kuasa autonomi tertentu

22 Manakah gerak kerja Suruhanjaya Perlembagaan Persekutuan?

- A Membuat lawatan ke Negeri-negeri Selat
- B Mengadakan perbincangan dengan sultan**
- C Menerima nasihat perundangan dari Britain
- D Mengkaji pentadbiran Negeri-negeri Melayu

23 Siapakah yang mempengerusikan Suruhanjaya Perlembagaan Persekutuan?

- A Lord Reid
- B Sir William Mckell**
- C Hakim Abdul Hamid
- D Sir Ivoning Jennings

24 Maklumat berikut berkaitan dengan peranan Suruhanjaya Perlembagaan Persekutuan Tanah Melayu.

Menerima sebanyak 131 memorandum bertulis daripada beberapa pihak.

Pihak manakah yang menulis memorandum tersebut?

- I Parti Politik
 - II Badan berkanun
 - III Tokoh nasionalis
 - IV Orang perseorangan
- A I dan II C II dan III
 - B I dan IV **D III dan IV**

25 Parti Perikatan telah menyuarakan cadangan isu kewarganegaraan melalui memorandum. Apakah memorandum tersebut?

- A Kertas Putih 6274**
- B Portfolio Kemerdekaan
- C Sistem Perundingan Bersama
- D Testament Amanah Politik Perikatan

26 Pihak raja-raja Melayu telah menghantar memorandum. Apakah yang dicadangkan oleh Majlis Raja-raja Melayu?

- A Pengiktirafan keluarga diraja
- B Penubuhan jawankuasa diraja
- C Pelantikan seorang ketua negara**
- D Pemansuhkan gelaran rakyat British

27 Dialog berikut adalah reaksi terhadap Draf Perlembagaan Persekutuan Tanah Melayu.

Qutsum : Saya tidak setuju dengan pemberian kerakyatan Jus Soli kepada semua yang lahir di Tanah Melayu.

Zamizam : Ya, sepatutnya kerakyatan itu hanya milik kita, orang Melayu.

Mengapakah mereka tidak bersetuju dengan isu kerakyatan tersebut?

- A Menghadkan bidang kuasa raja
- B Melambatkan proses kemerdekaan
- C Melemahkan kedudukan orang Melayu**
- D Menghapuskan warisan Kesultanan Melaka

28 Apakah cadangan yang disuarakan oleh parti MCA berkaitan pendidikan kepada Suruhanjaya Persekutuan Tanah Melayu?

- A Sekolah percuma
- B Sukatan yang seragam
- C Sukatan kurikulum dari China diiktiraf**
- D Sekolah vernakular Inggeris diteruskan

29 Apakah reaksi pemimpin Melayu terhadap draf Perlembagaan Persekutuan Tanah Melayu?

- A Menyokong sekolah vernakular diteruskan
- B Menentang syarat kewarganegaraan**
- C Membantah pelantikan Yang di-Pertuan Agong sebagai ketua negara
- D Menerima cadangan mempelajari semua bahasa di sekolah kebangsaan

30 Soalan 30 berdasarkan situasi di bawah.

Daniel warganegara Singapura ingin memohon menjadi rakyat Malaysia.

Bagaimanakah cara Daniel untuk memohon menjadi warganegara Malaysia?

- A Naturalisasi
- B Permohonan pendaftaran
- C Penguatkuasaan undang-undang**
- D Kebenaran Majlis Tertinggi Kabinet

Tingkatan 4

- 31 **224** Apakah kepentingan Perjanjian Persekutuan Tanah Melayu 1957 terhadap negara?
- A Asas Perlembagaan Malaysia 1963
 - B** Asas Perlembagaan Persekutuan Tanah Melayu 1957
 - C Asas Pembentukan Persekutuan Tanah Melayu 1957
 - D Asas Pembentukan Malaysia 1963

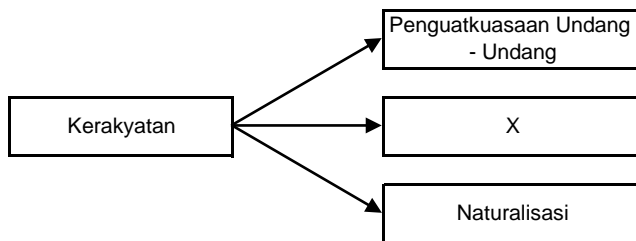
- 32 **225** Antara berikut, yang manakah kandungan Perjanjian Persekutuan Tanah Melayu 1957?
- I Warna bendera kebangsaan
 - II Adat istiadat orang Melayu
 - III Kedudukan Bahasa Melayu
 - IV Sistem Demokrasi Berparlimen

- A I dan II
- C** II dan III
- B I dan IV
- D III dan IV

- 33 **224** Yang di-Pertuan Agong dilantik daripada kalangan Raja Melayu mengikut tempoh yang ditetapkan dalam Perlembagaan Persekutuan. Berapa tahunkah tempoh tersebut?

- A Tiga tahun sekali
- B Empat tahun sekali
- C** Lima tahun sekali
- D Enam tahun sekali

- 34 **224** Rajah berikut menunjukkan jenis kerakyatan yang dipersetujui dalam Perjanjian Persekutuan Tanah Melayu 1957.



Apakah X?

- A Pengampunan
- B** Permohonan
- C Pemandahan
- D Perkahwinan

- 35 **225** Melalui Perjanjian Persekutuan Tanah Melayu 1957, apakah sikap yang ditunjukkan oleh pelbagai pihak?

- A** Permuafakatan
- B Patriotisme
- C Kebijaksanaan
- D Keberanian

- 36 **225** Pada 5 Ogos 1957, sebuah perjanjian kemerdekaan telah ditandatangani antara Raja-raja Melayu dengan Sir Donald Mac Gillivray di King's House, Kuala Lumpur.

Apakah peranan perjanjian tersebut?

- A Perkembangan imperialisme Barat
- B Pentadbiran tentera British diperkenalkan
- C British mengambil alih pemerintahan negara
- D** Asas pembentukan Perlembagaan Persekutuan Tanah Melayu 1957

- 37 **225** Perjanjian Persekutuan menjaga kedudukan istimewa orang Melayu dengan mengambil kira status mereka sebagai rakyat asal Tanah Melayu.

Siapakah yang bertanggungjawab menjaga kedudukan istimewa orang Melayu?

- A Pembesar Melayu
- B Perdana Menteri
- C** Yang di Pertuan Agong
- D Gabenor Persekutuan Tanah Melayu

- 38 **225** Perjanjian Persekutuan Tanah Melayu : Rakyat keturunan Melayu diberikan beberapa keutamaan dengan mengambil kira status mereka.

Apakah yang dapat dikaitkan dengan perkataan status tersebut?

- A Orang Melayu adalah orang asli
- B Orang Melayu penduduk paling ramai
- C Orang Melayu perlu sokongan kerajaan
- D** Orang Melayu penduduk asal Tanah Melayu

- 39 **225** Permuafakatan antara wakil Raja-Raja Melayu dengan pemimpin Negara dalam usaha memperoleh kemerdekaan telah menampakkan hasil. Di manakah tarikh kemerdekaan Tanah Melayu diumumkan?

- A Stadium Merdeka
- B Stadium Bukit Jalil
- C** Padang Hilir, Melaka
- D Bangunan Sultan Abdul Samad

- 40 **225** Pernyataan berikut berkaitan dengan kedudukan agama Islam.

Agama Islam ialah agama rasmi Persekutuan

Apakah bukti pernyataan tersebut?

- A Tanah Melayu mempunyai ramai orang Islam
- B Agama Islam telah disebar oleh pedagang
- C** Termaktub dalam Perlembagaan Persekutuan
- D Melaka menjadi pusat penyebaran agama Islam

1 Apakah takrif kemerdekaan menurut Kamus Dewan?

234

- A Bangga terhadap negara
- B Bebas daripada penjajahan
- C Berintegriti terhadap tugas**
- D Bersatu membangunkan negara

2 Apakah pengertian kemerdekaan mengikut tokoh berikut?

234

Sayyid Jamal al-Din al-Afghani

- I Jinsiyyah
- II Rohaniah
- III Madaniah
- IV Wataniyyah

- A I dan II
- B I dan IV**
- C II dan III
- D III dan IV

3 Apakah perjuangan tokoh berikut terhadap pembebasan rakyat India?

234



Mahatma Gandhi

- A Perbezaan kerja
- B Persamaan kaum
- C Penindasan kasta**
- D Penindasan kerajaan

4 Apakah kebebasan yang diperjuang oleh Nelson Mandela ?

234

- I Keselamatan
- II Penjajahan
- III Kemiskinan
- IV Perhambaan

- A I dan II
- B I dan IV
- C II dan III
- D III dan IV**

5 Apakah lokasi tumpuan upacara sambutan kemerdekaan kali pertama?

236

- I Padang Kelab Selangor
- II Stadium Merdeka
- III Istana Negara
- IV Padang Banda Hilir, Melaka

- A I dan II**
- B I dan IV
- C II dan III
- D III dan IV

6 Tokoh berikut telah menyeru rakyat Malaysia yang merdeka perlu memupuk semangat patriotisme.

235



Tun Dr. Mahathir Mohamad

Apakah nilai patriotisme tersebut?

- I Bersedia menerima perubahan
- II Sanggup berkorban untuk negara
- III Menyayangi negara sepenuh hati
- IV Mempunyai jati diri yang kukuh

- A I dan II
- B I dan IV
- C II dan III**
- D III dan IV

7 Jawatankuasa Persediaan Fizikal ditubuhkan sebagai persediaan menyambut kemasyhuran kemerdekaan negara.

236

Mengapakah kerajaan menubuhkan jawatankuasa tersebut?

- A Menyebarkan risalah kepada penduduk
- B Menyediakan pelbagai kemudahan asas**
- C Menerima cadangan atur cara sambutan
- D Mewujudkan identiti negara yang merdeka

8 Apakah lambang negara yang dicipta untuk meraikan Hari Kemerdekaan pertama?

236

- I Jata Negara
- II Masjid Negara
- III Bangunan Parlimen
- IV Bendera Kebangsaan

- A I dan II
- B I dan IV**
- C II dan III
- D III dan IV

9 Terdapat cadangan sebuah lagu rasmi kebangsaan dicipta bagi diperdengarkan semasa upacara Perisytiharan Kemerdekaan pada 31 Ogos 1957. Siapakah yang memberi cadangan tersebut?

236

- A H.S. Lee
- B V.T. Sambanthan
- C Tunku Abdul Rahman**
- D Dato' Abdul Razak Hussein

10 Lirik lagu Negaraku adalah berasal dari lagu Terang Bulan. Dari manakah asal usul negari lagu tersebut?

236

- A Perak**
- B Kedah
- C Pahang
- D Kelantan

Tingkatan 4

- 11 Gambar berikut berkaitan dengan reka bentuk bendera kebangsaan negara kita.

MUKA SURAH
236



Siapakah yang mereka bentuk bendera tersebut?

- A Syed Mohd Amin
B Mohamed Hamzah
 C Yaacob Abdul Latif
 D Tunku Abdul Rahman

- 12 Bendera kebangsaan telah dikibarkan secara rasminya pada 26 Mei 1950.

MUKA SURAH
236

Di manakah lokasi pertama bendera tersebut dikibarkan?

- A Stadium Merdeka
 B Bangunan Parlimen
C Istana Sultan Selangor
 D Jabatan Perdana Menteri

- 13 Siapakah yang membuat pemilihan bunga kebangsaan negara kita?

MUKA SURAH
236

- A Menteri Pertanian
B Tunku Abdul Rahman
 C Yang di-Pertuan Agong
 D Dato' Abdul Razak Hussein

- 14 Mengapakah lambang negara berikut dicipta oleh kerajaan Persekutuan?

MUKA SURAH
236

- Negaraku
- Jata Negara
- Bendera Kebangsaan

- A** Sebagai identiti negara
 B Simbol kejayaan rakyat
 C Simbol keunggulan kerajaan
 D Sokongan sambutan kemerdekaan

- 15 Sebuah jawatankuasa ditubuhkan untuk memeriahkan sambutan pada peringkat ibu kota dan negeri.

MUKA SURAH
237

- A** Jawatankuasa Sambutan
 B Jawatankuasa Persediaan Fizikal
 C Jawatankuasa Perayaan Ibu Kota
 D Jawatankuasa Pusat Perayaan Merdeka

- 16 Maklumat berikut berkaitan dengan pakaian seragam khas untuk menteri sempena sambutan pemahsyuran kemerdekaan negara.

MUKA SURAH
237

- Sejenis pakaian dari negeri Kedah
- Dilengkapi dengan seluar satin hitam, bersongket, bersamping dan tengkolok

Apakah pakaian seragam khas tersebut?

- A Lounge Suit
B Baju muskat
 C Baju Mess Kit
 D Baju kebangsaan hitam

- 17 Pernyataan berikut berkaitan dengan rancangan Hari Kemerdekaan pada 31 Ogos 1957.

MUKA SURAH
237

- Seramai 300 orang pegawai kerajaan diberi kursus khas berkaitan dengan protokol.

Apakah tugas pegawai kerajaan tersebut?

- I Pegawai pengiring
 II Pegawai perunding
 III Pegawai perancang
 IV Pegawai penerangan

- A I dan II C II dan III
B I dan IV D III dan IV

- 18 Detik sambutan pemahsyuran kemerdekaan negara mula diraikan pada malam 30 Ogos 1957.

MUKA SURAH
238

Apakah lokasi sambutan tersebut?

- A Istana Negara
 B Stadium Merdeka
 C Banda Hilir, Melaka
D Padang Kelab Selangor

- 19 Maklumat berikut berkaitan dengan penurunan bendera Union Jack.

MUKA SURAH
238

- Bendera Union Jack telah diturunkan dengan diiringi lagu God Save The Queen pada malam 30 Ogos 1957.

Apakah kepentingan peristiwa tersebut?

- A Mengesahkan kedaulatan Raja-raja Melayu
B Menandakan penamatan penjajahan British
 C Memberi penghormatan kepada kerajaan British
 D Mengukuhkan kedudukan istimewa orang Melayu

- 20 Apakah gelaran yang diterima oleh Tunku Abdul Rahman?

MUKA SURAH
239

- A Bapa Perpaduan Negara
 B Bapa Transformasi Negara
 C Bapa Pembangunan Negara
D Bapa Kemerdekaan Tanah Air

Tingkatan 4

21 Di manakah lokasi upacara sambutan kemerdekaan pada 31 Ogos 1957?
MUKA SURAH 239

- A Istana Negara
- B Dataran Merdeka
- C Stadium Merdeka**
- D Makam Pahlawan

22 Gambar berikut ialah Pemahsyuran Kemerdekaan yang dibaca oleh Tunku Abdul Rahman.
MUKA SURAH 240



Apakah kepentingan Pemahsyuran Kemerdekaan tersebut?

- A Penyerahan kuasa oleh Jepun
- B Pengesahan pembentukan Malaysia
- C Pengisytiharan kemerdekaan negara**
- D Penggubalan Perlembagaan Persekutuan

23 Apakah yang telah diserahkan oleh Duke of Gloucester kepada Tunku Abdul Rahman pada 31 Ogos 1957?
MUKA SURAH 240

- A Surat Pengisytiharan Kemerdekaan
- B Surat Perlembagaan Serahan Kuasa**
- C Perutusan Pemahsyuran Kemerdekaan
- D Perlembagaan Persekutuan Tanah Melayu

24 Apakah yang dibina sempena sambutan kemerdekaan negara?
MUKA SURAH 241

- A Dataran Merdeka
- B Stesen Keretapi Kuala Lumpur
- C Bangunan Sultan Abdul Samad
- D Pentas terapung berbentuk kerang**

25 Apakah sistem politik Persekutuan Tanah Melayu selepas merdeka?
MUKA SURAH 242

- I Sistem Kerajaan Persekutuan
 - II Sistem Raja Berperlembagaan
 - III Sistem Demokrasi Berparlimen
 - IV Sistem Pemerintahan Republik
- A I dan II **C II dan III**
B I dan IV D III dan IV

26 Rakyat mempunyai kuasa memilih kerajaan dan pemerintahan. Bagaimanakah pemilihan tersebut dilaksanakan?
MUKA SURAH 242

- A Pilihan Raya**
- B Musyawarah
- C Majlis Raja-Raja
- D Dewan Perundangan

27 Apakah persamaan peranan kedua-dua institusi berikut?
MUKA SURAH 242

- Parlimen
- Dewan Undangan Negeri

- A Menentukan dasar kerajaan
- B Menggubal perundangan**
- C Menjalankan pentadbiran
- D Menentukan hala tuju negara

28 Jawatan Menteri Luar telah diperkenalkan selepas negara memperoleh kemerdekaan. Apakah kepentingan jawatan tersebut?
MUKA SURAH 242

- A Mempertingkatkan imej negara
- B Menjalankan dasar luar negara**
- C Mendapatkan pengiktirafan negara luar
- D Menggalakkan kemasukan pelabur luar

29 Apakah pertubuhan antarabangsa yang disertai Persekutuan Tanah Melayu selepas merdeka?
MUKA SURAH 243

- I Komanwel
- II Negara-Negara Selatan
- III Pertubuhan Persidangan Islam
- IV Pertubuhan Bangsa-Bangsa Bersatu

- A I dan II C II dan III
B I dan IV D III dan IV

30 Apakah sumbangan tokoh berikut terhadap negara?
MUKA SURAH 243

- Dr Ismail Bin Abdul Rahman
- Tan Sri Muhammad Ghazali Shafie

- A Menentukan dasar luar negara**
- B Menyertai rundingan kemerdekaan
- C Menjadi Timbalan Perdana Menteri
- D Menstruktur pembangunan luar bandar

31 Mengapakah Persekutuan Tanah Melayu memeterai perjanjian berikut?

243

Tahun	1957
Perjanjian	Anglo Malayan Defence Agreement (AMDA)

- A Mengeratkan dengan negara luar
- B Mendapat latihan pertahanan dari luar
- C** Memerlukan bantuan pertahanan British
- D Melakukan pertukaran idea dan teknologi

32 Tunku Abdul Rahman telah mengekalkan hubungan baik dengan Britain dan negara Komanwel selepas merdeka. Mengapakah Tunku bertindak demikian?

243

- A Negara masih mengalami ancaman komunis
- B** Negara belum mempunyai kekuatan pertahanan
- C Negara mengalami kekurangan punca kewangan
- D Negara memerlukan pertukaran idea dan kepakaran

33 Pernyataan berikut berkaitan dengan pertubuhan antarabangsa yang disertai oleh PTM.

243

Tarikh	17 September 1957
Pertubuhan	Pertubuhan Bangsa - Bangsa Bersatu (PBB)

Apakah matlamat pertubuhan tersebut?

- A Memberi bantuan kewangan
- B** Melindungi hak asasi manusia
- C Membuat pertukaran teknologi
- D Meningkatkan kerjasama ekonomi

34 Mengapakah agensi kerajaan berikut ditubuhkan pada tahun 1956?

244

Lembaga Kemajuan Tanah Persekutuan (FELDA)
--

- A Memodenkan sistem pertanian negara
- B** Memajukan tanah secara besar-besaran
- C Membantu penyelidikan penanaman getah
- D Menggalakkan kemajuan sektor perindustrian

35 Apakah sumbangan rancangan berikut kepada negara?

244

Tahun	Rancangan Pembangunan Negara
1956 - 1960	Rancangan Malaya Pertama

- I Persidangan dengan negara maju
- II Penyusunan semula masyarakat
- III Pengurangan kadar kemiskinan
- IV Penambahan peluang pekerjaan

- A I dan II
- B I dan IV
- C II dan III
- D** III dan IV

36 Agensi kerajaan berikut ditubuhkan pada tahun 1956.

245

Dewan Bahasa dan Pustaka

- A Memodenkan sektor perkhidmatan awam
- B Menggalakkan masyarakat minat membaca
- C** Memartabatkan kedudukan Bahasa Melayu
- D Membangunkan dasar pendidikan kebangsaan

37 Apakah kepentingan Rancangan Buku Merah kepada negara?

244



- A Mempelbagaikan keluaran pertanian
- B Menggalakkan kestabilan kewangan
- C** Menyelaraskan projek pembangunan
- D Mengandungi program pembangunan

38 Prinsip kedaulatan diperoleh Persekutuan Tanah Melayu melalui perjuangan yang berliku-liku. Apakah maksud kedaulatan tersebut?

246

- A** Kuasa tertinggi
- B Kekuatan kerajaan
- C Kebebasan bersuara
- D Keunggulan undang-undang

39 Kerajaan terdiri daripada tiga komponen utama. Apakah komponen tersebut?

246

- I Badan Eksekutif
- II Badan Kehakiman
- III Badan Persekutuan
- IV Badan Pentadbiran

- A** I dan II
- B I dan IV
- C II dan III
- D III dan IV

40 Gambar berikut ialah Jata Negara.

247



Apakah kepentingan lambang negara tersebut?

- A** Simbol perpaduan
- B Simbol keberanian
- C Simbol pemerintahan
- D Simbol kemegahan

1 Maklumat berikut berkaitan dengan pembentukan negara bangsa negara kita.

4

- Kemerdekaan Tanah Melayu 31 Ogos 1957
- Pembentukan Malaysia 1963

Apakah konsep yang boleh dikaitkan dengan pembentukan tersebut?

- A Kedaulatan C Kesungguhan
B Kewibawaan D Kesamarataan

2 Apakah asas yang menunjukkan Malaysia sebuah negara yang berdaulat?

4

- A Mempunyai hak mentadbir negara
B Mengiktiraf kedudukan orang Melayu
C Mengekalkan kerjasama antara kaum
D Memajukan dasar pendidikan kebangsaan

3 Apakah takrif kedaulatan dalam bahasa Melayu?

4

- A Kebebasan negara
B Kuasa kerajaan
C Keagungan pemimpin
D Kuasa tertinggi negara

4 Tokoh berikut mentafsirkan kedaulatan sesebuah negara berasaskan kekuatan semangat.

5



Ibnu Khaldun

Apakah kekuatan semangat tersebut?

- I Semangat berpolitik
II Semangat perpaduan
III Semangat beragama
IV Semangat kekitaan

- A I dan II C II dan III
B I dan IV D III dan IV

5 Bagaimanakah jenis kedaulatan sesebuah negara ditentukan?

6

- A Rumpun bahasa
B Etnik kerakyatan
C Sempadan negeri
D Bentuk pemerintahan

6 Bagaimanakah kedudukan raja ditentukan mengikut kedaulatan tradisional?

6

- A Kesetiaan rakyat
B Kestabilan politik
C Kekuatan ketenteraan
D Keunggulan perlembagaan

7 Kedaulatan negara kita adalah berlandaskan jenis kedaulatan tradisional.

6

Apakah bukti untuk menyokong pernyataan tersebut?

- A Kerjasama
B Kekuasaan Raja-raja Melayu
C Kecemerlangan sosioekonomi
D Keupayaan menentang penjajahan

8 Apakah tunjang utama kedaulatan moden?

6

- I Hak rakyat
II Ketua pemerintahan
III Pembangunan lahiriah
IV Kerajaan berperlembagaan

- A I dan II C II dan III
B I dan IV D III dan IV

9 Pernyataan berikut merujuk kepada jenis kedaulatan bagi sesebuah negara.

7

- Menjamin keadilan bermasyarakat
- Mengukuhkan kestabilan dan kemakmuran negara

Apakah jenis kedaulatan tersebut?

- A Kedaulatan moden
B Kedaulatan tradisional
C Kedaulatan antarabangsa
D Kedaulatan undang-undang

10 Negara berdaulat perlu mendapat pengiktirafan supaya tidak dicabuli oleh negara lain.

7

Apakah pertubuhan yang memberi pengiktirafan tersebut?

- A OIC
B PBB
C NAM
D Komanwel

Tingkatan 5

11 Rajah berikut berkaitan dengan ciri-ciri kedaulatan antarabangsa.

7

Pengesahan prinsip persamaan kedaulatan dari segi undang-undang antarabangsa.

Apakah badan yang mengesahkan prinsip tersebut?

- A Persidangan Damai Paris
- B Persidangan Kemuncak ASEAN
- C Deklarasi 14 Perkara Woodrow Wilson
- D Deklarasi hubungan Persahabatan PBB**

12 Apakah bukti yang menunjukkan negara kita memperoleh kedaulatan antarabangsa?

7

- A Didatangi oleh pelabur luar
- B Diterima menganggotai PBB**
- C Penglibatan dalam isu Palestin
- D Perlembagaan negara dihormati

13 Malaysia telah mengamalkan bentuk kedaulatan antarabangsa. Apakah kepentingan kedaulatan tersebut terhadap negara?

7

- A Menjamin keamanan negara**
- B Mengukuhkan pemerintahan negara
- C Mengukuhkan kemakmuran ekonomi
- D Menjaga hal ehwal alam sekitar

14 Kedaulatan sesebuah negara dikaitkan dengan kebebasan dan kemerdekaan. Apakah ciri-ciri yang menentukan kedaulatan tersebut?

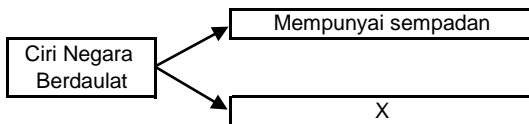
8

- I Mempunyai ideologi
- II Mempunyai teknologi
- III Mempunyai sempadan
- IV Mempunyai pemerintahan

- A I dan II
- B I dan IV
- C II dan III
- D III dan IV**

15 Maklumat berikut berkaitan dengan ciri negara yang berdaulat.

8



Apakah X?

- A Mempunyai rakyat**
- B Mempunyai ketua negara
- C Mempunyai lambang negara
- D Mempunyai kerajaan

16 Gambar berikut berkaitan dengan pemerintahan yang menjadi amalan negara kita.

7



Sistem Raja Berperlembagaan

Bagaimanakah pemerintahan tersebut diperkenalkan?

- A Pemantapan sistem pentadbiran negara
- B Penggubalan sistem perundangan negara
- C Pembentukan sebuah negara persekutuan**
- D Penubuhan kerajaan negeri yang berdaulat

17 Malaysia merupakan sebuah negara yang mengamalkan sistem Demokrasi Berparlimen. Bagaimanakah sistem tersebut dilaksanakan?

8

- A Pemerintahan secara mutlak
- B Pemerintahan secara warisan
- C Pemerintahan secara realpolitik
- D Pemerintahan melalui perwakilan**

18 Apakah peranan utama Yang di-Pertuan Agong dalam pentadbiran negara?

8

- A Ketua Kerajaan
- B Ketua Institusi Beraja
- C Ketua Utama Negara**
- D Ketua Pentadbir Negara

19 Setiap negara berdaulat berusaha mewujudkan pemerintahan yang mantap. Apakah kesan usaha tersebut terhadap negara?

8

- I Memudahkan perluasan kuasa
- II Membentuk sistem monarki
- III Menjamin kestabilan politik
- IV Memajukan ekonomi negara

- A I dan II
- B I dan IV
- C II dan III
- D III dan IV**

20 Apakah kepentingan kedaulatan undang-undang terhadap negara?

9

- A Membentuk pengkhususan kerja
- B Mengukuhkan pemerintahan beraja
- C Mendapat pengiktirafan antarabangsa**
- D Menjamin keamanan negara

Tingkatan 5

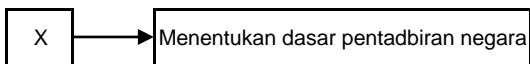
21 **MURAH SUDAH 9** Bagaimanakah rakyat negara kita yang terdiri daripada pelbagai kaum disatukan?

- I Adat resam
 - II Anutan agama
 - III Rukun Negara
 - IV Bahasa kebangsaan
- A I dan II C II dan III
B I dan IV **D III dan IV**

22 **MURAH SUDAH 10** Kedaulatan negara penting bagi setiap negara. Apakah kepentingan tersebut?

- A Menjadi kuasa yang unggul
- B Memperoleh petempatan khas
- C Menjamin kemakmuran ekonomi**
- D Menakluki kawasan berhampiran

23 **MURAH SUDAH 10** Rajah berikut berkaitan dengan sistem pemerintahan Malaysia.



Apakah X?

- A Jemaah Menteri**
- B Perbadanan Awam
- C Badan perundangan
- D Yang di-Pertuan Agong

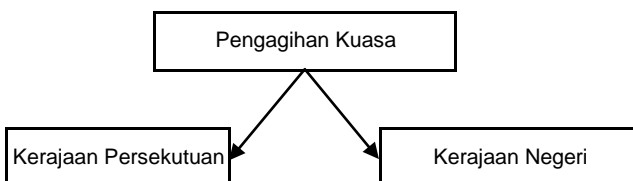
24 **MURAH SUDAH 10** Gambar berikut merujuk kepada Parlimen Malaysia.



Apakah peranan utama Parlimen?

- A Menentukan dasar kerajaan
- B Memeterai pelbagai perjanjian
- C Menggubal sistem perundangan**
- D Menguruskan pembangunan negara

25 **MURAH SUDAH 10** Rajah berikut menunjukkan peruntukkan kuasa dalam Perlembagaan Malaysia.



Apakah kesan daripada pengagihan kuasa tersebut?

- A Mengekalkan warisan tradisi
- B Melancarkan pentadbiran negara**
- C Mengukuhkan sistem percukaian
- D Mengelakkan rusuhan kaum

26 **MURAH SUDAH 10** Kerajaan berperanan melaksanakan dasar kemakmuran ekonomi negara. Bagaimanakah peranan tersebut dapat dilaksanakan?

- A Selepas perantikan Perdana Menteri
- B Selepas penubuhan kabinet kerajaan
- C Selepas pilihan raya umum dijalankan
- D Selepas negara peroleh kemerdekaan**

27 **MURAH SUDAH 9** Gambar berikut merujuk kepada keunikan rakyat Malaysia yang terdiri daripada pelbagai kaum.



Bagaimanakah kerajaan mengekalkan perpaduan kaum tersebut?

- A Pembinaan petempatan kekal
- B Penubuhan pelbagai parti politik
- C Penguatkuasaan undang-undang**
- D Pelaksanaan sistem demokrasi

28 **MURAH SUDAH 11** Senarai berikut berkaitan dengan usaha kerajaan selepas memperoleh kedaulatan negara.

- . Rukun Negara
- . Bahasa Kebangsaan
- . Dasar Kebudayaan Kebangsaan

Apakah matlamat usaha tersebut?

- A Memajukan bidang ekonomi
- B Menghalang pemusatan kuasa
- C Menyekat kedatangan imigran
- D Memupuk perpaduan rakyat**

29 **MURAH SUDAH 11** Kedaulatan penting bagi memberikan hak kepada negara untuk menjalinkan hubungan dengan negara lain. Bagaimanakah jalinan hubungan tersebut terbentuk?

- A Penggubalan dasar luar**
- B Pengamalan undang-undang
- C Pembentukan kerajaan pusat
- D Pemilihan pemimpin berwibawa

30 **MURAH SUDAH 11** Rajah berikut menunjukkan hubungan luar yang disertai Malaysia selepas mencapai kemerdekaan.

- | Hubungan Luar Malaysia |
|---|
| <ul style="list-style-type: none"> • Komanwel • Pertubuhan Kerajaan Islam (OIC) • Pertubuhan Bangsa - Bangsa Bersatu (PBB) |

Apakah kesan hubungan luar terhadap negara?

- A Mengukuhkan kedudukan kerajaan
- B Memperkuatkan bidang ketenteraan
- C Melahirkan rakyat yang bekerjasama
- D Mempertahankan kedaulatan negara**

31 Mengapakah kerajaan berusaha memperjuangkan kedaulatan negara?

12

- I Menjamin kestabilan politik
- II Memperkenalkan sistem beraja
- III Mempertahankan warisan tradisi
- IV Mewujudkan kesejahteraan negara

- A I dan II
- B I dan IV
- C II dan III
- D III dan IV

32 Pernyataan berikut berkaitan dengan matlamat pentadbiran negara kita.

12

- Mewujudkan kestabilan politik
- Mewujudkan kemakmuran ekonomi

Apakah usaha pemerintah bagi mencapai matlamat tersebut?

- A Pembangunan bandar secara terancang
- B Mewujudkan masyarakat yang celik huruf
- C Pengagihan sumber kekayaan secara adil
- D Melahirkan pegawai kerajaan yang berilmu

33 Bagaimanakah tindakan rakyat mengekalkan kestabilan politik negara?

12

- A Melaksanakan dasar kerajaan
- B Memberi kesetiaan kepada raja
- C Menggubal undang-undang negara
- D Mewujudkan pentadbiran yang cekap

34 Gambar berikut merujuk sampul surat hari pertama Pos Malaysia berkaitan dengan kepelbagaian budaya dan adat resam kaum di Malaysia.

12



Apakah mesej yang diperoleh daripada sampul surat tersebut?

- A Menunjukkan keunikan negara
- B Mengadakan kunjung-mengunjung
- C Mematuhi undang-undang negara
- D Mengekalkan perpaduan kaum

35 Apakah peranan rakyat mengekalkan perpaduan kaum di negara kita?

13

- I Mengamalkan semangat perkongsian
- II Menggunakan bahasa kebangsaan
- III Memantapkan kuasa pemerintahan
- IV Mengukuhkan hubungan perdagangan

- A I dan II
- B I dan IV
- C II dan III
- D III dan IV

36 Mengapakah kerajaan menganjurkan program berikut setiap tahun?

14

- Hari Pahlawan
- Hari Kebangsaan

- A Mengelakkan amalan rasuah
- B Menjalin hubungan diplomatik
- C Mematuhi perundangan negara
- D Meningkatkan semangat patriotisme

37 Maklumat berikut merupakan lambang-lambang negara.

14

- Jata Negara
- Bendera Malaysia
- Lagu Kebangsaan

Mengapakah rakyat perlu menghormati lambang-lambang berikut?

- A Membina sahsiah diri yang berdisiplin
- B Menanam perasaan cinta akan negara
- C Mempertahankan kemakmuran negara
- D Mengekalkan sistem demokrasi berparlimen

38 Mengapakah rakyat Malaysia perlu menghargai tokoh nasionalis negara?

14

- A Memelihara maruah bangsa
- B Menyusun semula masyarakat
- C Mendapat pengiktirafan negara
- D Memupuk semangat patriotisme

39 Pernyataan berikut merujuk kepada usaha kerajaan terhadap pertahanan negara.

14

Memodenkan aset ketenteraan

Mengadakan perjanjian pertahanan

Mengadakan latihan ketenteraan

Apakah kepentingan usaha kerajaan tersebut ?

- A Mendapat pengiktirafan dunia
- B Membaiki sistem pemerintahan
- C Mengekalkan kedaulatan negara
- D Mengukuhkan semangat perkauman

40 Apakah peranan rakyat untuk mengukuhkan kedaulatan negara?

14

- A Mewujudkan kolaborasi dengan pihak yang mengancam negara
- B Menyimpan maklumat apabila berlaku pencerobohan luar
- C Menggagotai pasukan keselamatan negara
- D Tidak perlu cakna perkara yang berlaku dalam negara

1 Pernyataan berikut merujuk kepada ciri-ciri demokrasi berparlimen.

21

- . Dijadikan dokumen rasmi
- . Terkandung segala peraturan dan prinsip
- . Menjadi asas kepada pemerintahan negara

Apakah ciri-ciri demokrasi berparlimen tersebut?

- A Rakyat
- B Pemerintahan
- C Perlembagaan**
- D Kerajaan

2 Apakah asas pembentukan Perlembagaan Persekutuan negara kita?

22

- I Tradisi Kesultanan Melayu
- II Berlandaskan ajaran agama
- III Berteraskan idea ahli falsafah
- IV Prinsip undang-undang Inggeris

- A I dan II
- B I dan IV**
- C II dan III
- D III dan IV

3 Apakah pihak yang menentukan undang-undang di negeri-negeri Melayu?

22

- A Raja**
- B Rakyat
- C Pembesar
- D Majlis Negeri

4 Senarai berikut merujuk kepada undang-undang bertulis di negeri-negeri Melayu.

22

- . Undang-Undang Kedah
- . Undang-Undang Pahang

Bagaimanakah kandungan undang-undang bertulis tersebut?

- A Dicontohi daripada perlembagaan Barat
- B Diwarisi daripada Kesultanan Melayu Melaka**
- C Diubahsuai daripada perlembagaan kerajaan Islam
- D Diiktiraf sebagai undang-undang bertulis yang terawal

5 Apakah undang-undang yang diperkenalkan oleh British di Negeri-negeri Selat (NNS)?

23

- A Charter Arts of 1813
- B Charter Art of 1793
- C Criminal Tribes Act
- D Charter of Justice**

6 Mengapakah British memperkenalkan Charter of Justice di Negeri-negeri Selat?

24

Charter of Justice

- A Melindungi penduduk daripada penindasan**
- B Memperkukuhkan kedudukan Raja-raja Melayu
- C Mengawal kegiatan politik masyarakat Melayu tempatan
- D Meningkatkan kerjasama dengan pembesar

7 Bagaimanakah British menyatukan mahkamah di Negeri-negeri Selat berikut?

24

- . Melaka
- . Singapura
- . Pulau Pinang

- A Pelantikan Ketua Hakim
- B Penubuhan Majlis Tertinggi
- C Pelaksanaan birokrasi Barat
- D Pengenalan undang-undang**

8 Siapakah yang menganggotai Majlis Tertinggi di Sarawak?

24

- I Residen British
- II Peguam Negara
- III Ketua Setiausaha
- IV Yang di-Pertua Negeri

- A I dan II
- C II dan III**
- B I dan IV
- D III dan IV

9 Apakah peranan Gabenor dalam Majlis Undangan Sabah?

24

- A Menetapkan dasar negeri
- B Menggubal undang-undang**
- C Memajukan ekonomi negara
- D Menubuhkan jabatan-jabatan

10 Apakah sistem pemerintahan yang diperkenalkan oleh Perlembagaan Persekutuan Tanah Melayu 1957?

24

- I Sistem Monarki
- II Demokrasi Berparlimen
- III Raja Berperlembagaan
- IV Sistem Republik

- A I dan II
- C II dan III**
- B I dan IV
- D III dan IV

11 Apakah Majlis Negeri terawal yang menggubal undang-undang di Negeri Melayu?

MUKA SURAH
25

- A Majlis Negeri Perak
- B Majlis Negeri Pahang
- C Majlis Negeri Selangor
- D Majlis Negeri Sembilan

12 Mesyuarat pertama Majlis Negeri Perak telah dilaksanakan pada tahun 1877. Apakah kepentingan mesyuarat tersebut?

MUKA SURAH
25

- A Menentukan bidang kuasa pemerintah negeri
- B Memajukan pembangunan ekonomi tempatan
- C Merintis pembentukan undang-undang negara
- D Membentuk corak pemerintahan kerajaan pusat

13 Berikut merupakan Akta dan Ordinan Negeri-negeri Selat 1886.

MUKA SURAH
24



Apakah kuasa yang terlibat dalam penggubalan undang-undang tersebut?

- A Parlimen
- B Majlis Negeri
- C Majlis Undangan
- D Majlis Undangan Negeri

14 Apakah persamaan peranan pentadbiran tempatan berikut?

MUKA SURAH
26

- . Majlis Negeri
- . Majlis Tertinggi
- . Council Negri

- A Pemungut cukai negeri
- B Pembuat undang-undang
- C Penggubal dasar kerajaan
- D Penasihat ketua negeri

15 Apakah kandungan Perjanjian Persekutuan Tanah Melayu 1948?

MUKA SURAH
26

- I Pilihan raya
- II Kewarganegaraan
- III Kuasa raja Melayu
- IV Penetapan sempadan

- A I dan II
- B I dan IV
- C II dan III
- D III dan IV

16 Pilih pasangan yang tepat berkaitan penggubalan undang-undang di negeri-negeri Melayu sebelum merdeka.

MUKA SURAH
24

	Negeri	Badan Terlibat
A	NNMB	Council Negri
B	NNMTB	Majlis Negeri
C	Sabah	Majlis Tertinggi
D	Sarawak	Majlis Perundangan

17 Apakah kandungan Perjanjian Persekutuan Tanah Melayu 1948?

MUKA SURAH
26

- I Pilihan raya
- II Kewarganegaraan
- III Kuasa raja Melayu
- IV Penetapan sempadan

- A I dan II
- B I dan IV
- C II dan III
- D III dan IV

18 Sebuah suruhanjaya ditubuhkan untuk menyusun Perlembagaan Persekutuan Tanah Melayu yang merdeka. Apakah suruhanjaya tersebut?

MUKA SURAH
27

- A Suruhanjaya Reid
- B Suruhanjaya Cobbold
- C Suruhanjaya Kehakiman
- D Suruhanjaya Pilihan Raya

19 Gambar berikut berkaitan dengan laporan Perlembagaan Persekutuan Tanah Melayu 1957.

MUKA SURAH
27



Apakah Suruhanjaya yang menghasilkan laporan tersebut?

- A Suruhanjaya Tinggi British
- B Suruhanjaya Pilihan Raya
- C Suruhanjaya Cobbold
- D Suruhanjaya Reid

20 Apakah terma rujukan utama dalam Perjanjian Persekutuan 1957?

MUKA SURAH
27

- A Kedudukan Bahasa Melayu
- B Keistimewaan sah kaum lain
- C Kerajaan Negeri yang kukuh
- D Kewarganegaraan yang sama

21 Senarai berikut merupakan ciri utama Perlembagaan Persekutuan.

28

- . Agama Islam
- . Bahasa Melayu
- . Kesultanan atau pemerintahan beraja
- . Kedudukan orang Melayu atau bumiputera

Apakah kepentingan ciri-ciri utama perlembagaan tersebut?

- I Membentuk kerajaan
- II Melicinkan pentadbiran negara
- III Menjamin kestabilan negara
- IV Memajukan negara

- A I dan II
- B I dan IV
- C II dan III
- D III dan IV

22 Apakah peranan sultan di negeri-negeri Melayu?

28

- A Perancang bandar
- B Penentu bencana alam
- C Pemerintah berdaulat
- D Pengasas agama

23 Yang di-Pertuan Agong merupakan pemerintah tertinggi negara. Apakah bidang kuasa baginda mengikut peruntukan Perlembagaan Malaysia?

28

- A Menggubal dasar-dasar kerajaan
- B Membatalkan sesuatu undang-undang
- C Menentukan sempadan sesebuah negeri
- D Melantik jawatan umum negara

24 Bagaimanakah kewarganegaraan Persekutuan diperkenalkan pada tahun 1948?

28

- A Penubuhan gagasan Malayan Union
- B Pengenalan Sistem Raja Berperlembagaan
- C Penubuhan Negeri-negeri Melayu Bersekutu
- D Pemeteraian Perjanjian Persekutuan Tanah Melayu

25 Mengapakah seseorang itu layak menerima kerakyatan British mengikut Perjanjian Persekutuan Tanah Melayu 1948?

28

- A Mendapat perkenan raja
- B Berumur 20 tahun ke atas
- C Dilahirkan di Pulau Pinang
- D Fasih dalam Bahasa Inggeris

26 Bagaimanakah taraf kewarganegaraan yang sama diberi kepada rakyat di Tanah Melayu?

28

- I Kemerdekaan Tanah Melayu
- II Pembentukan Malaysia
- III Pembatalan Malayan Union
- IV Penubuhan Badan Kehakiman

- A I dan II
- B I dan IV
- C II dan III
- D III dan IV

27 Selepas merdeka, Yang di-Pertuan Agong mempunyai kuasa dalam bidang agama Islam di negeri-negeri tertentu. Apakah negeri-negeri tersebut?

29

- I Selangor
- II Terengganu
- III Pulau Pinang
- IV Wilayah Persekutuan

- A I dan II
- B I dan IV
- C II dan III
- D III dan IV

28 Apakah bukti Malaysia mengamalkan sistem demokrasi?

29

- A Menggubal perlembagaan Persekutuan
- B Menubuhkan pelbagai kementerian
- C Mengadakan pilihan raya umum
- D Melakukan pengagihan kuasa

29 Mengapakah pilihan raya diadakan di setiap negara yang berdaulat?

29

- A Menyertai parti politik
- B Memilih wakil pemimpin
- C Mengadakan undang-undang
- D Menentukan belanjawan negara

30 Pelaksanaan pilihan raya adalah untuk membentuk kerajaan. Apakah kerajaan tersebut?

29

- I Kerajaan Negeri
- II Kerajaan Nasional
- III Kerajaan Tempatan
- IV Kerajaan Persekutuan

- A I dan II
- B I dan IV
- C II dan III
- D III dan IV

Tingkatan 5

31 Mengapakah perlembagaan negara mengalami pindaan pada tahun 1963 dan 1965?

30

- A Menyesuaikan peruntukan negeri baharu
- B Mengikut perubahan ekonomi semasa
- C Memenuhi permintaan dari rakyat
- D Mengelakkan ancaman komunis

32 Antara berikut, manakah peranan Mahkamah Tinggi Borneo?

30

- A Mendengar pertikaian antara Kerajaan Persekutuan dan Kerajaan Negeri
- B Menguruskan soal kehakiman di Sarawak dan Sabah
- C Memansuhkan usul dan pindaan
- D Meminda Perlembagaan

33 Terdapat tiga perkara utama yang berlaku dalam pindaan Perlembagaan 1965. Antara perkara tersebut ialah

30

- I Struktur Mahkamah Atasan
- II Pembentukan Mahkamah Tinggi Borneo
- III Pembahagian kerusi dalam Parlimen
- IV Hal ehwal dalam negeri

- A I dan II
- B I dan IV
- C II dan III
- D III dan IV

34 Maklumat berikut berkaitan dengan bidang kuasa mahkamah.

30

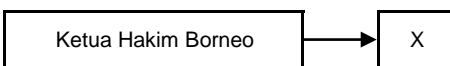
Mendengar mana-mana persoalan perlembagaan dan pertikaian antara Kerajaan Persekutuan dengan Kerajaan Negeri.

Apakah mahkamah tersebut?

- A Mahkamah Atasan
- B Mahkamah Rayuan
- C Mahkamah Persekutuan
- D Mahkamah Tinggi Borneo

35 Rajah berikut berkaitan dengan perubahan nama jawatan di Mahkamah Tinggi Borneo.

30



Apakah X?

- A Majistret
- B Ketua Hakim
- C Hakim Besar
- D Hakim Borneo

36 Gambar berikut menunjukkan sidang akhbar yang diadakan di bangunan Parlimen, Kuala Lumpur pada 9 Ogos 1956.

31



Mengapakah berlaku persidangan akhbar tersebut?

- A Pemisahan Singapura daripada Malaysia
- B Penubuhan Majlis Mesyuarat Persekutuan
- C Penentangan terhadap pendudukan Jepun
- D Pengisytiharan penubuhan gagasan Malaysia

37 Maklumat berikut berkaitan dengan pindaan Perlembagaan 1965.

31

Tunku Abdul Rahman Putra al-Haj membawa usul pindaan perlembagaan yang dinamakan pindaan Singapura pada 7 Ogos 1965.

Apakah badan yang berkuasa meluluskan pindaan perlembagaan tersebut?

- A Parlimen
- B Jemaah Menteri
- C Majlis Raja-raja
- D Dewan Undangan Negeri

38 Mengapakah pindaan dilakukan pada tahun 1963 iaitu selepas Malaysia dibentuk?

31

- A Membolehkan Singapura keluar dari Malaysia
- B Menyesuaikan kemasukan Sarawak dan Sabah
- C Menarik penyertaan Brunei menyertai Malaysia
- D Membolehkan pilihanraya dilaksanakan

39 Bagaimana proses pelantikan jawatan Yang di-Pertuan Negeri dilaksanakan?

31

- A Persetuan Kabinet negeri Sabah dan Sarawak
- B Pelantikan oleh Perdana Menteri
- C Dilantik oleh Yang di-Pertuan Agong
- D Pilihan raya

40 Bagaimana sikap tidak peka akan sejarah menjadi cabaran Malaysia bagi mengekalkan keluhuran perlembagaan negara?

31

- A Mempertikaikan kandungan perlembagaan
- B Mendaulatkan undang-undang
- C Menjunjung tinggi undang-undang
- D Akur kepada perlembagaan negara

Tingkatan 5

1 Apakah pengaruh luar yang memberi cabaran terhadap pemerintahan beraja di negara kita?

38

- A Penjajahan British
- B Ancaman komunis
- C Penubuhan Asean
- D Konfrontasi Indonesia

2 Berikut adalah dua jaawatan yang diperkenalkan dalam sruktur pemerintahan negeri-negeri Melayu selepas kedatangan British.

39

* Residen
* Penasihat

Mengapakah British berbuat demikian?

- A Menstabilkan kerajaan
- B Memodenkan pentadbiran
- C Memudahkan penjajahan
- D Mengugat kedaulatan

3 Maklumat berikut menunjukkan sistem perundangan di negeri Melayu.

39

Undang – undang Tubuh Kerajaan Johor 1895
Undang – undang Bagi Diri Kerajaan Terengganu 1911

Apakah kesan penggubalan perlembagaan tersebut?

- A Taraf kehidupan meningkat
- B Ekonomi meningkat maju
- C Rakyat hidup Bersatu padu
- D Kedaulatan negeri dikekalkan

40

Tahun	Peristiwa
Januari	Persidangan Raja – raja Tanah Melayu dan Sumatera dengan tentera Jepun di Singapura.

Peristiwa berikut berlaku semasa pendudukan Jepun di Tanah Melayu.

Apakah pengiktirafan yang diperoleh oleh Raja – raja Melayu dalam persidangan tersebut?

- A Ketua dalam adat istiadat Melayu
- B Ketua Persekutuan Tanah Melayu
- C Ketua pemutus perundangan negeri
- D Ketua dalam hal ehwal agama Islam

5 Raja – raja Melayu kebingan kuasa sebagai pemerintah begeri semasa endudukan British pada tahun 1946. Bagaimanakah British melakukan tindakan tersebut?

40

- A Pengenalan Malayan Union
- B Pembubaran Majlis Raja – raja
- C Pelantikan Pesuruhjaya Tinggi British
- D Penubuhan Persekutuan Tanah Melayu

6 Sistem pemerintahan berikut diamalkan di Malaysia sejak tahun 1957.

41

- Sistem Raja Berperlembagaan
- Sistem Demokrasi Berparlimen

Bagaimanakah kedudukan raja dalam sistem pemerintahan berikut?

- I Raja sebagai pemerintah tertinggi
- II Majlis Undangan Negeri ditubuhkan
- III Menteri dilantik sebagai pentadbiran
- IV Rakyat diberi hak memilih kerajaan

- A I dan II
- B I dan IV
- C II dan III
- D III dan IV

7 Bagaimanakah institusi pemerintahan beraja diperkukuhkan selepas kemerdekaan negara?

41

- A Dibentuk Majlis Raja – raja Melayu
- B Mendapat hak mutlak dalam pemerintahan
- C Diiktiraf dalam perlembagaan persekutuan
- D Menasihati Perdana Menteri dalam urusan negara

8 Berikut adalah majlis yang dibentuk selepas penubuhan Negeri – negeri Melayu Bersekutu.

41

Durbar

Apakah fungsi majlis tersebut?

- A Membincangkan hal agama dan adat
- B Membincang hal ehwal pentadbiran
- C Menggubal undang – undang persekutuan
- D Melantik ahli Jemaah Menteri persekutuan

43

Nama Institusi	Majlis Sultan – sultan
Pengerusi	Gabenor
Ahli	Sembilan orang Raja Melayu

Maklumat berikut berkaitan institusi Raja – raja Melayu Pentadbiran manakah memperkenalkan institusi tersebut?

- A Malayan Union 1946
- B Persekutuan Tanah Melayu 1948
- C Negeri – negeri Melayu Bersekutu 1896
- D Negeri – negeri Melayu Tidak Bersekutu 1909

10 Mengapakah Majlis Sultan – sultan ditubuhkan?

43

- A Mengelakkan campur tangan kuasa Barat
- B Mengukuhkan pembangunan sosioekonomi
- C Membincangkan perundangan agama Islam
- D Mengekalkan kedudukan pembesar tempatan

11
MUKA SURAH
43



Raja – raja Melayu bergambar semasa majlis menandatangani Perjanjian Persekutuan Tanah Melayu 1948.
Apakah kesan pemeterian perjanjian tersebut?

- A Pembinaan petempatan khas
- B** Penubuhan Majlis Raja – raja
- C Pembatalan prinsip jus soli
- D Pembentukan Sistem Ahli

12
MUKA SURAH
43

Persidangan Majlis Raja – raja perlu disertai oleh Penyimpan Mohor Besar Raja – Raja.
Apakah peranan Penyimpanan Mohor Besar Raja- Raja tersebut?

- A Menggunakan sekretariat Majlis
- B Memeterai keputusan persidangan
- C Meluluskan rang undang – undang
- D** Mengukuhkan kedaulatan raja

13
MUKA SURAH
43

Seorang pengerusi mesyuarat Majlis Raja – Raja Melayu dilantik dari kalangan Sembilan Raja Melayu.
Apakah kuasa yang menentukan lantikan pengerusi tersebut?

- A Raja England
- B Majlis Undangan
- C Residen British
- D** Raja – raja Melayu

14
MUKA SURAH
44

Maklumat berikut berkaitan peranan Yang di-Pertua Negeri.

Yang di-Pertua Negeri tidak turut serta dalam mesyuarat khas Majlis Raja – Raja yang melibatkan institusi beraja.

Apakah perkara institusi beraja tersebut?

- A Perubahan sempadan negeri
- B** Pemilihan Yang di-Pertuan Agong
- C Pengisytiharan perundangan darurat
- D Penetapan tarikh pilihan raya

15
MUKA SURAH
45

Apakah badan yang berperanan sebagai pengimbang dalam sistem demokrasi di negara kita?

- A** Majlis Raja – Raja
- B Perdana Menteri
- C Ketua Setiausaha
- D Ketua Hakim Negara

16
MUKA SURAH
43



Al-Sultan Abdullah Ri'ayatuddin Al-Mustafa Billah Shah dipilih sebagai Yang di-Pertuan Agong ke-16 mulai 31 Januari 2019.

Bagaimanakah Yang di-Pertuan Agong dipilih?

- I Secara bergilir – gilir
- II Melalui pilihan raya
- III Kaedah sistem warisan
- IV Peruntukan Perlembagaan Malaysia

- A I dan II
- B** I dan IV
- C II dan III
- D III dan IV

17
MUKA SURAH
47

Apakah kedudukan Yang di-Pertuan Agong mengikut Perkara 32 Perlembagaan Persekutuan?

- A Ketua Audit Negara
- B** Ketua Utama Negara
- C Ketua Jemaah Menteri
- D Ketua Angkatan Tentera

18
MUKA SURAH
47

Apakah kedudukan Yang di-Pertuan Agong mengikut Perkara 32 Perlembagaan?

- I Boleh membuat pengisytiharaan darurat
- II Melindungi kedudukan istimewa orang Melayu
- III Menjatuhkan hukuman ke atas hakim
- IV Mencadangkan rang undang – undang persekutuan

- A** I dan II
- B I dan IV
- C II dan III
- D III dan IV

19
MUKA SURAH
48

Yang di-Pertuan Agong berkuasa melantik Perdana Menteri.

Bagaimanakah lantikan tersebut dijalankan?

- A Melaksanakan pilihan raya umum
- B** Mendengar pandangan Jemaah Menteri
- C Melantik kalangan golongan profesional
- D Memilih seorang Ahli Dewan Rakyat

20
MUKA SURAH
48

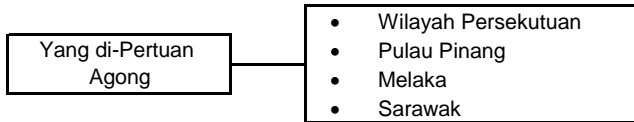
Seramai berikut menunjukkan bidang kuasa dan peranan Yang di-Pertuan Agong.

Kuasa Eksekutif
X
Kuasa Kehakiman

Apakah X?

- A Kuasa politik
- B Kuasa ekonomi
- C** Kuasa perundangan
- D Kuasa perbendaharaan

21
MUKA SURAH 49



Rajah menunjukkan bidang kuasa Yang di-Pertuan Agong.

Apakah kedudukan baginda di negeri – negeri tersebut?

- A Ketua Agama Islam
- B Ketua Angkatan Tentera
- C Melantik Menteri Besar
- D Menubuhkan Majlis Tertinggi

22
MUKA SURAH 49

Yang di-Pertuan Agong berkuasa untuk mengisytiharkan darurat di negara kita. Apakah rasionalnya pengisytiharkan tersebut?

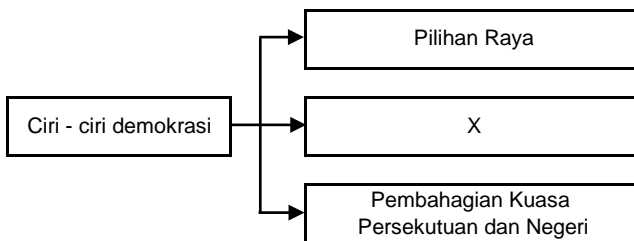
- A Meningkatkan taraf hidup
- B Memelihara maruah negara
- C Menjamin keselamatan negara
- D Mengadakan pakatan ketenteraan

23
MUKA SURAH 49

Yang di-Pertuan Agong berkuasa untuk melantik hakim Mahkamah Atasan. Apakah pihak lain yang terlibat dalam urusan pelantikan hakim tersebut?

- A Perdana Menteri
- B Majlis Raja – Raja
- C Menteri Keselamatan
- D Suruhanjaya Perkhidmatan Awam

24
MUKA SURAH 58



Rajah berikut merujuk kepada ciri – ciri demokrasi yang menjadi amalan pentadbiran negara kita. Apakah X?

- A Kebebasan asasi
- B Keunikan pendidikan
- C Kewangan negara
- D Kuasa imigrisen

25
MUKA SURAH 51

Pernyataan berikut terkandung dalam kebebasan asasi perlembagaan persekutuan.

Tiada seorang pun boleh diambil nyawanya atau dilucutkan kebebasan dirinya kecuali mengikut undang – undang.

Apakah bentuk kebebasan tersebut?

- A Kebebasan diri
- B Kebebasan bersuara
- C Kebebasan beragama
- D Kebebasan undang – undang

26
MUKA SURAH 51

Gambar menunjukkan logo Suruhanjaya SUHAKAM.

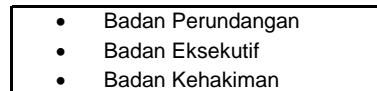


Apakah suruhanjaya tersebut?

- A Melindungi hak asasi manusia
- B Menjamin keadilan ekonomi
- C Memantau pilihan raya negara
- D Memastikan kebebasan berhimpun

27
MUKA SURAH 51

Jadual berikut berkaitan dengan sistem pemerintahan Kerajaan Persekutuan



Apakah amalan yang digunakan dalam sistem pemerintahan tersebut?

- A Pengukuhan kuasa
- B Pengasingan kuasa
- C Keseimbangan kuasa
- D Pentadbiran tradisional

28
MUKA SURAH 53

Apakah badan perundangan pada peringkat Kerajaan Negeri?

- A Dewan Senat
- B Dewan Rakyat
- C Dewan Perhimpunan
- D Dewan Undangan Negeri

29
MUKA SURAH 53

Parlimen merupakan badan perundangan tertinggi di Malaysia.

Apakah komponen utama dalam Parlimen?

- I Dewan Rakyat
- II Yang di-Pertuan Agong
- III Mahkamah Persekutuan
- IV Perdana Menteri

- A I dan II
- B I dan IV
- C II dan III
- D III dan IV

30
MUKA SURAH 53

Bagaimanakah keahlian Dewan Rakyat dipilih?

- A Dilantik oleh Majlis Raja – Raja
- B Dipilih rakyat melalui pilihan raya
- C Diluluskan oleh Perlembagaan Persekutuan
- D Diperkenalkan oleh Yang di-Pertuan Agong

31 Maklumat berikut berkaitan dengan badan perundangan.

53

- * Dewan tertinggi dalam sistem perundangan negara
- * Membahaskan undang – undang dengan lebih teliti

Apakah dewan tersebut?

- A Dewan Rakyat
- B Dewan Negara
- C Dewan Perwakilan
- D Dewan Undangan Negeri

32 Mengetuai Kementerian untuk melaksanakan dasar kerajaan yang diputuskan oleh Jemaah Menteri.

54

Siapakah yang bertanggungjawab dalam melaksanakan peranan tersebut?

- A Menteri
- B Suruhanjaya
- C Badan Kehakiman
- D Ketua Setiausaha

33 Apakah tanggungjawab Badan Kehakiman di Malaysia?

48

- I Mentafsir undang – undang
- II Meminda undang – undang
- III Mengukuhkan kesetiaan
- IV Mempercepatkan kedaulatan

- A I dan II
- B I dan IV
- C II dan III
- D III dan IV

34 Mengapakah hakim tidak dibenarkan terlibat dalam politik?

55

- A Menjaga keselamatan diri
- B Menjamin keadilan undang – undang
- C Mengutamakan kes mahkamah
- D Mengelakkan pertindihan tugas

35 Bagaimanakah pemerintahan beraja berjaya mengimbangi pemerintahan demokrasi?

56

- A Raja berkuasa mutlak
- B Raja memberi kerjasama politik
- C Raja bersifat berkecuali
- D Raja menjadi penasihat kerajaan

36 Sistem demokrasi berparlimen yang menjadi amalan negara kita mempunyai keunikan. Apakah keunikan tersebut?

56

- I Pilihan raya yang adil dan telus
- II Penubuhan sebuah Kerajaan Persekutuan
- III Gabungan unsur tradisional moden
- IV Mekanisme semak dan imbang

- A I dan II
- B I dan IV
- C II dan III
- D III dan IV

37 Sistem Raja Berperlembagaan mewujudkan mekanisme semak dan imbang dalam pemerintahan negara. Apakah kesan daripada mekanisme semak dan imbang tersebut?

56

- A Meredakan pertikaian parti politik
- B Mengekalkan status quo orang Melayu
- C Memudahkan dasar kerajaan diluluskan
- D Mengatasi kemasukan pengaruh luar

38 Pernyataan berikut merujuk kepada kombinasi sistem pemerintahan di Malaysia.

MS

- ❖ Raja Berperlembagaan
- ❖ Demokrasi Berparlimen

Apakah kesan kombinasi sistem pemerintahan tersebut ?

- A Mendapat pengiktirafan negara luar
- B Mengimbangi persekitaran sosiopolitik
- C Mengukuhkan kerjasama politik peringkat antarabangsa
- D Mewujudkan perkongsian kuasa

39 Pernyataan berikut berkaitan perubahan pucuk pentadbiran negara.

57

Barisan Nasional yang memenangi 13 kali pilihan raya umum telah digantikan dengan Pakatan Harapan pada tahun 2018.

Apakah perkara yang membawa perubahan tersebut?

- A Perubahan sikap mengundi
- B Amalan demokrasi yang telus
- C Kerjasama pelbagai parti politik
- D Peranan media sosial berkempen

40 Parti – parti politik beraya membentuk kerajaan di Malaysia.

57

- ❖ Barisan Nasional
- ❖ Pakatan Harapan
- ❖ Perikatan Nasional

Apakah faktor kejayaan parti – parti tersebut?

- A Dasar parti politik
- B Strategi berkempen
- C Permuafakatan politik
- D Sokongan rakyat

1 Malaysia adalah sebuah negara Persekutuan. Apakah maksud Persekutuan?

66

- A Pemerintahan secara demokrasi
- B** Penyatuan beberapa buah negeri
- C Pembentukan sistem Jemaah Menteri
- D Pentadbiran oleh Yang di-Pertuan Agong

2 Bagaimanakah keputusan pentadbiran Persekutuan 1896 dilaksanakan?

66

- A** Dibuat oleh Residen Jeneral
- B Diputuskan oleh Majlis Raja-raja
- C Dibincangkan dalam Majlis Tertinggi
- D Diluluskan dalam Perjanjian Persekutuan

3 Luak, Tampin, Rembau dan Seri Menanti disatukan sebagai Konfederasi Seri Menanti pada 1889. Apakah kesan daripada peristiwa tersebut?

66

- A Pengukuhan kuasa pembesar tempatan
- B Penubuhan Kerajaan Persekutuan
- C Penggubalan perlembagaan bertulis
- D** Penerimaan seorang Residen British

4 Bagaimanakah British menyatukan pentadbiran negeri-negeri berikut pada tahun 1946? Ms67

67

- Melaka
- Pulau Pinang
- Semua negeri Melayu

- A** Penubuhan Kesatuan Melayu
- B Pembinaan konsep negara bangsa
- C Penetapan sempadan antara negeri
- D Pembentukan Persekutuan Malaysia

Maklumat berikut merujuk kepada pentadbiran Persekutuan.

5 Satu gabungan sembilan buah negeri Melayu dan dua Negeri-negeri Selat.

67

Bagaimanakah perubahan tersebut berlaku?

- A Penubuhan Malayan Union 1946
- B** Persekutuan Tanah Melayu 1948
- C Persekutuan Tanah Melayu 1957
- D Pembentukan Malaysia 1963

6 Apakah ciri persamaan kerajaan Persekutuan berikut?

67

- Persekutuan Tanah Melayu 1957
- Persekutuan Malaysia 1963

- A Jumlah keanggotaan
- B** Dibentuk melalui perjanjian
- C Pengamalan sistem Republik
- D Diketuai Yang di-Pertuan Negeri

7 Perlembagaan Persekutuan memperuntukkan kuasa yang khusus antara kerajaan. Apakah kuasa tersebut?

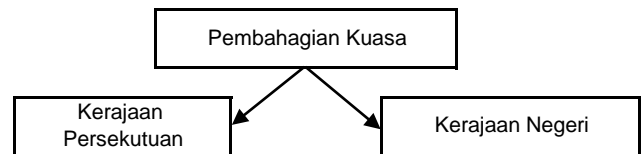
68

- I Pendidikan
- II Kebudayaan
- III Perundangan
- IV Pemerintahan

- A I dan II
- B I dan IV
- C II dan III
- D** III dan IV

8 Rajah berikut berkaitan peruntukan dalam Perlembagaan Persekutuan.

68



Mengapakah pembahagian kuasa dilakukan?

- A Menjaga hak asasi rakyat
- B Mengukuhkan institusi beraja
- C** Melicinkan sistem pemerintahan
- D Memantapkan pertahanan negara

9 Pusat pentadbiran Kerajaan Persekutuan telah berpindah ke lokasi baharu pada 1999. Apakah lokasi tersebut?

68

- A** Putrajaya
- B Cyberjaya
- C Shah Alam
- D Kuala Lumpur

10 Kuasa pemerintahan Kerajaan Persekutuan meliputi perkara yang termaktub dalam Pelembagaan Persekutuan.

69

Apakah kuasa pemerintahan tersebut?

- A Kuasa majoriti
- B Pemusatan Kuasa
- C Simbol keteguhan
- D** Senarai Persekutuan

11

69

- Kewarganegaraan
- Pentadbiran keadilan
- Perubatan dan kesihatan
- Keselamatan dalam negeri

Senarai berikut berkaitan dengan kandungan dalam pemerintahan negara. Apakah kerajaan yang mempunyai kuasa tersebut?

- A Kerajaan Negeri
- B Kerajaan Tempatan
- C Kerajaan Bersatu
- D** Kerajaan Persekutuan

Tingkatan 5

12 Mengapakah Kerajaan Negeri Sarawak dan Sabah diberi kuasa tambahan dalam pentadbiran?

70

- A Berjaya mengatasi ancaman komunis
- B Kemajuan dalam bidang sosioekonomi
- C Bergabung dalam pembentukan Malaysia**
- D Keselamatan negeri dapat dipertingkatkan

13 Apakah pihak yang berkuasa menggubal undang-undang dalam Senarai Bersama?

70

- I Parlimen
- II Jemaah Menteri
- III Majlis Raja-Raja
- IV Dewan Undangan Negeri

- A I dan II C II dan III
- B I dan IV D III dan IV**

14 Bagaimanakah tindakan untuk mengatasi perkara yang bercanggah dalam Senarai Bersama?

70

- A Menukar anggota Jemaah Menteri yang baharu
- B Mendapatkan nasihat daripada Yang di-Pertuan Agong
- C Mematuhi undang-undang yang dluluskan Parlimen**
- D Melakukan pembatalan terhadap perkara yang ditolak

15 Akta imigresen 1963 diperkenalkan untuk memberi kuasa kepada Kerajaan Negeri Sarawak dan Sabah. Apakah kuasa tersebut?

70

- A Mengekalkan kuasa kawalan**
- B Menyediakan pusat perlindungan
- C Mengehendkan jumlah kemasukan
- D Memperkenalkan permit kemasukan

16 Apakah pihak yang mengawal Pihak Berkuasa Tempatan (PBT)?

71

- A Kerajaan Negeri**
- B Kerajaan Persekutuan
- C Pejabat Tanah Daerah
- D Jabatan Perdana Menteri

17 Fungsi Kerajaan Tempatan digariskan oleh Akta Kerajaan tempatan 1976 [Akta 171]. Apakah tanggungjawab kerajaan tersebut?

71

- A Meningkatkan taraf hidup masyarakat luar bandar
- B Memacukan pertumbuhan sektor perindustrian
- C Mengurangkan pergantungan terhadap negara maju
- D Memberikan perkhidmatan kepada penduduk setempat**

18

71

- Majlis Daerah
- Majlis Perbandaraan
- Majlis Bandaraya

Apakah persamaan sumbanagan majlis berikut?

- A Memajukan sektor pelancongan
- B Menyediakan kemudahan awam**
- C Mengukuhkan kemajuan ekonomi
- D Menyediakan perkhidmatan Pendidikan

19

71

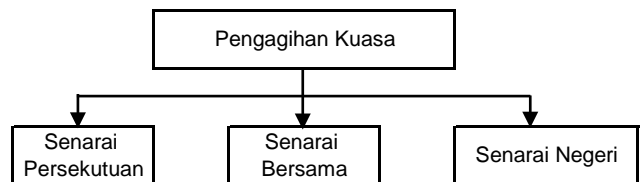


Gambar berikut berkaitan dengan penyediaan kemudahan awam di negara kita. Apakah pihak yang bertanggungjawab menyediakan kemudahan tersebut?

- A Kerajaan Negeri
- B Kerajaan Persekutuan
- C Kerajaan Tempatan**
- D Syarikat swasta

20

71



Rajah berikut menunjukkan peruntukan kuasa dalam pelebagaan Malaysia. Apakah kesan pengagihan kuasa tersebut ?

- A Menjamin kekayaan negeri
- B Megelakkan pergaduhan kaum
- C Mengukuhkan sistem pertahanan
- D Melancarkan pertadbiran negara**

21
MUKA SURAH
72

- Kewangan
- Kepakaran

Maklumat berikut berkaitan dengan bantuan Kerajaan Persekutuan terhadap Kerajaan Negeri dalam pembangunan ekonomi. Bagaimanakah bantuan tersebut dilaksanakan?

- A Membuka pusat kemahiran
- B** Menubuhkan agensi kerejaan
- C Meningkatkan sistem Pendidikan
- D Melahirkan golongan cendekiawan

22
MUKA SURAH
72

Pada peringkat awal kemerdekaan, kerajaan telah melancarkan program In-Situ. Apakah maksud pembangunan In-Situ?

- A** Membangunkan fizikal desa
- B Memajukan kawasan bandar
- C Menyusun semula masyarakat
- D Meningkatkan ekonomi negara

23
MUKA SURAH
72

Menyatakan, memulihkan dan membagunkan tanah Kerajaan Negeri yang terbiar di seluruh negara.

Penyataan berikut berkaitan dengan agensi yang ditubuhkan oleh Kerajaan Persekutuan. Apakah agensi kerajaan tersebut?

- A MARA
- B RISDA
- C FELDA
- D** FELCRA

24
MUKA SURAH
73

- PERDA
- KEJORA
- KESEDAR
- KETENGAH

Maklumat berikut berkaitan dengan agensi kerajaan yang menjayakan pembangunan sosioekonomi negara. Apakah pembangunan sosiekonomi tersebut?

- A Pembangunan tanah
- B** Pembangunan wilayah
- C Pembangunan kawasan
- D Pembangunan koridor wilayah

25
MUKA SURAH
73

Sebuah perancangan strategik jangka panjang yang memberi tumpuan kepada pembangunan di negeri dan wilayah yang kurang pesat.

Maklumat berikut merujuk kepada Pembangunan Koridor Wilayah. Mengapakah pembangunan tersebut diperkenalkan?

- A Menggalakkan kemasukan pelabur asing
- B** Mewujudkan keseimbangan pembangunan
- C Memperhebatkan pembukaan tanah terbiar
- D Memulihkan kawasan berproduktif rendah

26
MUKA SURAH
74

Apakah pihak yang bertanggungjawab dalam pengurusan hidupan liar dan tanam negara?

- I Kerajaan Negeri
- II Kerajaan Persekutuan
- III Kerajaan Tempatan
- IV Pertubuhan NGO

- A** I dan II C II dan III
- B I dan IV D III dan IV

27
MUKA SURAH
74

Bagaimanakah Kerjasama diwujudkan antara kerajaan dalam pemuliharaan khazanah negara?

- A Memperluaskan pasaran
- B Meluluskan perundangan
- C Membangunkan koparasi
- D** Mewujudkan kawasan perlindungan

28
74

Nama Lama	Nama Baharu
Jabatan Mergastua Negeri	X

Jadual berikut dengan perubahan pertadbiran Kerajaan Persekutuan terhadap pengurusan hidupan liar dan tanam negara.
Apakah nama baharu tersebut ?

- A NADMA
- B MAKSAK
- C PUSPANITA
- D PERHILITAN**

29
75

Bagaimanakah kerajaan melaksanakan pemuliharaan khazanah laut di kepulauan negara kita?

- A Memajukan sektor perikanan
- B Memperbaiki sistem perhubungan
- C Mewartakan sebagai tanah laut**
- D Menyediakan panduan lalu kapal

30
77

Peringkat	Langkah Kerajaan
Pada awal kemerdekaan	Menyediakan rumah kos rendah
Selepah tahun 1970	Menyelesaikan masalah kekurangan rumah
Pada tahun 2014	X

Maklumat berikut merupakan langkah kerajaan untuk memastikan rakyat dapat memiliki rumah sendiri.
Apakah x?

- A Mempelbagaikan jenis perumahan
- B Membina perumahan di luar bandar
- C Mengatasi masalah harga perumahan
- D Menyediakan perumahan mampu milik**

31
76

Kementerian Kerajaan Tempatan dan Perumahan

Kementerian berikut telah ditubuhkan oleh Kerajaan Persekutuan pada tahun 1964.
Apakah sumbangan kementerian tersebut pada awal kemerdekaan?

- A Menyediakan perumahan kos rendah**
- B Membuka kawasan perusahaan baharu
- C Memulihkan kawasan produktiviti rendah
- D Menyelaraskan program pembangunan bandar

32
77

Program Perumahan Rakyat (PPR) telah dilaksanakan pada tahun 1997.
Apakah kebaikan pelaksanaan program tersebut?

- I Membagunkan kawasan luar bandar
- II Membuka kawasan baharu untuk perumahan
- III Meyelesaikan masalah kekurangan rumah
- IV Menghapuskan masalah kemiskinan

- A I dan II C II dan III
- B I dan IV **D III dan IV**

33
77

Apakah agensi pembangunan negeri yang ditubuhkan untuk membina rumah bagi rakyat berpendapatan rendah memiliki rumah sendiri?

- A Jabatan Perumahan Negara
- B Syarikat Perbadanan Nasional Berhad
- C Perbadanan Kemajuan Ekonomi Negeri**
- D Kementerian Perumahan dan Kerajaan Tempatan

34
77

Apakah Kementerian yang diselaraskan di bawah Majlis Keselamatan Negara (MKN)?

- I Kementerian Alam Sekitar
- II Kementerian Kesihatan
- III Kementerian Pertahanan
- IV Kementerian Dalam Negeri

- A I dan II C II dan III
- B I dan IV **D III dan IV**

35
78

Kerajaan berusaha mewujudkan penyelarasan fungsi dan aktiviti pasukan keselamatan dengan pejabat awam dalam RASCOM.

Apakah jawatan yang diperkenalkan untuk melaksanakan penyelarasan tersebut?

- A Ketua Eksekutif Negeri
- B Pengarah Operasi Negeri**
- C Ketua Perancangan Operasi
- D Pengarah Perancangan Gerakan

36
MURAH SUKSES
79

Tahun	12 Februari 2013
Kawasan Keselamatan	Penubuhan Eastern Sabah Security Command (ESSCOM) di Kampung Tanduo, Lahad Datu

Maklumat berikut berkaitan dengan kawasan keselamatan di Sabah.

Mengapakah kawasan keselamatan tersebut diperkenalkan?

- A Pencerobohan pengganas
- B Serangan tentera Indonesia
- C Pendudukan tentera Jepun
- D Ancaman serangan komunis

37
MURAH SUKSES
80

Apakah konsep yang merujuk kekukuhan sistem Persekutuan negara kita?

- A Keluhuran Pelembagaan
- B Kesopanan dan kesusilaan
- C Kedaulatan undang-undang
- D Kesetiaan pada raja dan negara

38
MURAH SUKSES
80

Pekara 75 Pelembagaan Persekutuan menyebutkan bahawa jika mana-mana undang-undang Negeri tidak selaras dengan sesuatu undang-undang Persekutuan hendaklah mengatasi undang-undang tersebut.

Pernyataan berikut berkaitan dengan prinsip keluhuran Pelembagaan Persekutuan?

Apakah kepentingan prinsip tersebut?

- A Mengelakkan perbalahan rakyat
- B Mengukuhkan kedaulatan negara
- C Meningkatkan kerjasama kerajaan
- D Mengukuhkan sistem Persekutuan

39
MURAH SUKSES
80

Mengapakah Mesyuarat Khas Menteri Besar dan Ketua Menteri dilaksanakan?

- A Menjamin keselarasan pentadbiran negeri
- B Mengukuhkan keselamatan dalam negeri
- C Memutuskan pembangunan sosioekonomi
- D Membincangkan pelaksanaan sesuatu dasar

40
MURAH SUKSES
80

Apakah majlis yang dibentuk untuk menghubungkan Kerajaan Persekutuan dengan Kerajaan Negeri?

- I Majlis Gerakan Negara
- II Majlis Perundingan Negara
- III Majlis Perumahan Negara
- IV Majlis Air Negara

- A I dan II
- B I dan IV
- C II dan III
- D III dan IV

1 **MURAH SUDAH 90** Idea bagi menggabungkan beberapa bekas tanah jajahan British di Asia Tenggara pernah diusulkan Persekutuan Tanah Melayu. Apakah idea penggabungan tersebut?

- A Malayan Union
- B Indonesia Raya
- C Gagasan Malaysia**
- D Kerajaan Persekutuan

2 **MURAH SUDAH 90** Negeri-negeri berikut pernah dicadangkan untuk membentuk gagasan Malaysia.

- Pesekutuan Tanah Melayu
- Singapura
- Sarawak
- Sabah
- Brunei

Siapakah tokoh yang mencadangkan penggabungan tersebut?

- A Ibrahim Haji Yaakob
- B Dr. Burhanuddin al-Helmi
- C Tun Dr Mahathir Mohamad
- D Tunku Abdul Rahman Putra al-Haj**

3 **MURAH SUDAH 90** Maklumat berikut merujuk kepada idea gagasan Malaysia.

- Penyatuan wilayah penguasaan British
- Membentuk satu sistem pentadbiran dan ekonomi

Mengapakah langkah tersebut diambil?

- A Menamatkan perang dunia
- B Meneruskan imperialisme Barat
- C Memudahkan pentadbiran British**
- D Melaksanakan proses dekolonisasi

4 **MURAH SUDAH 91** Idea pembentukan Malaysia dikemukakan pada akhir abad ke-19 antara pihak British dan wakil tempatan. Siapakah tokoh yang terlibat dalam idea pembentukan Malaysia?

- I Dato' Onn Jaafar
- II Tun Abdul Razak
- III Ibrahim Haji Yaakob
- IV Sir Malcom MacDonald

- A I dan II C II dan III
- B I dan IV D III dan IV**

5 **MURAH SUDAH 91** Mengapakah Lord Brassey mencadangkan pembentukan Malaysia pada tahun 1887?

- A Melicinkan pentadbiran
- B Mengukuhkan perpaduan
- C Mengawal ancaman komunis
- D Menjadi tanah jajahan yang besar**

6 **MURAH SUDAH 92** Majalah berikut telah menggesa penyatuan raja dan orang Melayu dalam beberapa bidang sejak tahun 1906.



Apakah bidang tersebut? ms 92

- I Politik
- II Bahasa
- III Ekonomi
- IV Pendidikan

- A I dan II C II dan III
- B I dan IV **D III dan IV**

7 **MURAH SUDAH 92** Maklumat berikut berkaitan dengan perjuangan nasionalis Tanah Melayu pada tahun 1938?

Penggabungan Tanah Melayu dengan Indonesia

Apakah konsep perjuangan tersebut?

- A Melayu Raya**
- B Merdeka Raya
- C Indonesia Raya
- D Persekutuan Raya

8 **MURAH SUDAH 92** Mengapakah idea Melayu Raya yang dicadangkan tidak berjaya dilaksanakan?

- A Pendudukan tentera Jepun
- B Kurangnya kerjasama pemimpin
- C Keganasan Parti Komunis Malaya
- D Pengisytiharan kemerdekaan Indonesia**

9 **MURAH SUDAH 92** Pemimpin Sabah juga menyatakan minat untuk bergabung dengan Persekutuan Tanah Melayu.

Siapakah pemimpin Sabah yang dimaksudkan tersebut?

- A G.S. Sundang
- B Khoo Siak Chew
- C Donald Stephens
- D Datu Mustapha Datu Harun**

10 **MURAH SUDAH 93** Mengapakah Tunku Abdul Rahman menggalakkan penggabungan Persekutuan Tanah Melayu dengan Singapura?

- A Meningkatkan ekonomi negara
- B Mengukuhkan perpaduan rakyat
- C Membendung ancaman komunis**
- D Mengukuhkan penguasaan politik

11 Jadual berikut merupakan faktor-faktor pembentukan Malaysia.

93

- X
- Pembangunan Wilayah
- Mempercepat Kemerdekaan
- Keseimbangan Komposisi Penduduk

Apakah X?

- A Keselamatan
- B Kedaulatan
- C Keamanan
- D Kestabilan

12 Parti politik berikut menunjukkan reaksi terhadap cadangan pembentukan Malaysia.

95

- BARJASA
- PANAS

Apakah reaksi yang ditunjukkan oleh parti-parti tersebut?

- A Menentang pembentukan Malaysia
- B Menyokong pembentukan Malaysia
- C Menyokong dengan syarat merdeka
- D Menentang kemudiannya menyokong

13 Parti berikut merupakan parti yang menentang idea pembentukan gagasan Malaysia di Sarawak.

95

- Sarawak United People's Party (SUPP)
- X

Apakah parti X? ms 95

- A Sarawak National Party (SNAP)
- B Sarawak Chinese Association (SCA)
- C Parti Pesaka Anak Sarawak (PESAKA)
- D Barisan Rakyat Jati Sarawak (BARJASA)

14 Maklumat berikut berkaitan dengan reaksi penduduk Sabah terhadap rancangan pembentukan Malaysia.

95

Pemimpin dan rakyat Sabah merasa curiga dengan idea pembentukan Malaysia dan berpendapat tiada keperluan untuk bergabung.

Mengapakah pemimpin dan rakyat Sabah menunjukkan reaksi sedemikian?

- A Bimbang ancaman komunis
- B Ketidakeimbangan jumlah kaum
- C Jaminan keselamatan oleh British
- D Dipengaruhi oleh pemimpin Indonesia

15 Pemimpin Borneo telah menubuhkan sebuah pertubuhan bagi mencabar rancangan pembentukan Malaysia.

96

Apakah pertubuhan tersebut?

- A Parti Demokratik
- B Barisan Bersatu
- C Sabah Alliance
- D United Party

16 Rajah berikut menunjukkan reaksi golongan pedagang dan pengusaha terhadap idea pembentukan Malaysia.

93



Pedagang: Saya bersetuju pembentukan Malaysia
Pengusaha: Saya pun menyokong

Mengapakah mereka menyokong?

- A Meluaskan pasaran
- B Menjamin kedudukan
- C Mengukuhkan perpaduan
- D Memudahkan pertukaran barang

17 Mengapakah Barisan Sosialis Singapura menentang cadangan pembentukan Malaysia.

97

- A Sebagai penjajahan bentuk baharu
- B Perlu berkongsi kuasa antara negeri
- C Pakatan meluaskan pengaruh politik
- D Bimbang eksploitasi sumber ekonomi

18 Idea Parti Rakyat Brunei pimpinan A.M. Azahari telah menentang cadangan gagasan Malaysia.

97

Mengapakah cadangan tersebut ditentang?

- I British akan menguasai sumber ekonomi
- II Komunis akan meluaskan pengaruh mereka
- III Kedudukan Kuala Lumpur yang agak jauh
- IV Brunei akan kehilangan sumber kekayaan

- A I dan II
- B I dan IV
- C II dan III
- D III dan IV

19 Tunku Abdul Rahman Putra al-Haj telah mengadakan siri lawatan ke Sarawak dan Brunei pada Julai 1961.

98

Apakah matlamat lawatan tersebut?

- A Merintis kerjasama pelbagai parti politik
- B Meninjau pendapat penduduk tempatan
- C Menerangkan rancangan pembentukan Malaysia
- D Meraikan penubuhan Kerajaan Kalimantan Utara

20 Jawatankuasa Setia Kawan telah ditubuhkan pada 23 Julai 1961 sebagai salah satu langkah kearah pembentukan Malaysia.

99

Mengapakah jawatankuasa tersebut ditubuhkan?

- A Menyebarkan maklumat
- B Menjaga keselamatan penduduk
- C Menyediakan kemudahan awam
- D Merapatkan hubungan antara negeri

21 Maklumat berikut berkaitan dengan langkah yang dilakukan bagi merealisasikan pembentukan Malaysia.

100

Referendum Singapura telah diadakan pada bulan Ogos hingga bulan September 1962.

Apakah tujuan referendum tersebut?

- A Menyatakan bentuk pilihan menyertai Malaysia
- B Memberi kefahaman kepada penduduk tempatan
- C Mengetahui reaksi penduduk terhadap penyatuan
- D Menerima pelbagai memorandum daripada rakyat

22 Pada November 1961, rundingan London telah diadakan antara kerajaan Persekutuan Tanah Melayu dengan kerajaan British bagi membincangkan pembentukan Malaysia.

100

Apakah keputusan rundingan?

- A Menyediakan kemudahan sosial
- B Menyediakan peluang pekerjaan
- C Menubuhkan sebuah suruhanjaya
- D Menubuhkan pasukan keselamatan

23 Suruhanjaya Cobbold dibentuk secara rasmi pada bulan Januari 1962.

100

Apakah tugas suruhanjaya tersebut?

- I Mengadakan lawatan
- II Membentuk struktur pentadbiran
- III Merangka perlembagaan Malaysia
- IV Mengemukakan laporan kepada British

- A I dan II
- B I dan IV
- C II dan III
- D III dan IV

24 Senarai berikut berkaitan dengan langkah-langkah pembentukan Persekutuan Malaysia.

100

Tahun	Langkah-langkah
1961	Rundingan London
Januari 1962	Suruhanjaya Cobbold
Ogos 1962	x

Apakah X?

- A Referendum Singapura
- B Jawatankuasa Antara Kerajaan
- C Jawatankuasa Setia Kawan Malaysia
- D Jawatankuasa Perundingan Antara Kaum

25 Maklumat berikut berkaitan dengan usul Jawatankuasa Antara Kerajaan yang dimasukkan ke dalam Perlembagaan Persekutuan.

100

- 18 Perkara bagi Sarawak
- 20 Perkara bagi Sabah

Apakah usul utama yang telah dimasukkan ke dalam Perlembagaan Persekutuan?

- A Pembatalan kewarganegaraan Jus Soli
- B Akta Tanah Simpanan Melayu dikuatkuasa
- C Kuasa autonomi bagi mengawal hal ehwal imigresen
- D Bahasa Inggeris sebagai bahasa rasmi Persekutuan

26 Kerajaan British, Persekutuan Tanah Melayu, Sarawak, Sabah dan Singapura telah menandatangani satu perjanjian pada 9 Julai 1963.

103

Apakah perjanjian tersebut?

- A Perjanjian Malaysia
- B Perjanjian Persekutuan
- C Perjanjian Melayu Raya
- D Perjanjian Kemerdekaan

27 Perjanjian Malaysia telah ditandatangani pada Julai 1963

103

Apakah inti pati utama dalam Perjanjian Malaysia?

- I Pentadbiran Malaysia diketuai oleh Sultan
- II Islam menjadi agama rasmi Persekutuan Malaysia
- III British mengiktiraf kedaulatan Sarawak dan Sabah
- IV Tarikh pembentukan Malaysia adalah 31 Ogos 1963

- A I dan II
- B I dan IV
- C II dan III
- D III dan IV

28 Indonesia telah menghantar bantahan rasmi terhadap pembentukan Malaysia.

103

Apakah bentuk bantahan yang telah dilakukan?

- A Menyekat kerjasama ekonomi
- B Menghantar bantahan ke PBB
- C Memutuskan hubungan diplomatik
- D Meminta bantuan ketenteraan serantau

29 Mengapakah United Nation Malaysia Mission (UNMM) ditubuhkan?

104

- A Menilai dan membuat laporan
- B Menggubal undang-undang
- C Menerima memorandum
- D Menerima isu tuntutan

30 Rajah berikut menunjukkan berlaku perubahan pada tarikh pengisytiharan pembentukan Malaysia

104

31 Ogos 1963

 → 16 September 1963

Mengapakah perubahan ini berlaku?

- A Ancaman komunis
- B Bantahan daripada Indonesia
- C Laporan PBB tidak dapat disiapkan
- D Kabinet Menteri lambat bermesyuarat

31 Pengisytiharan Malaysia di Sabah telah diumumkan di Kota Kinabalu.

105

Siapakah tokoh yang terlibat dalam upacara tersebut?

- A Khir Johari
- B Tunku Abdul Rahman
- C Datu Mustapha Datu Harun
- D Datu Abang Haji Openg Abang Sapiee

32 **MURAH SUKSES** 105 Pembentukan Malaysia menunjukkan penglibatan penduduk yang diberi peluang untuk menyuarakan pandangan bagi menjaga kepentingan bersama.

Apakah nilai utama yang wajar dicontohi dalam memastikan kestabilan negara terpelihara?

- A Kejujuran
- B Kegigihan
- C Keberanian
- D Kesepakatan**

33 **MURAH SUKSES** 106 Apakah faktor Parti Komunis Indonesia (PKI) menentang gagasan Malaysia? ms 106

- A Semangat nasionalisme yang tinggi
- B Sumber ekonomi akan dieksploitasi
- C Bimbang kedudukan mereka tergugat
- D Menganggap sebagai nekolonialisme**

34 **MURAH SUKSES** 106 Keratan akhbar menunjukkan peristiwa konfrontasi Indonesia terhadap pembentukan Malaysia?



Apakah alasan yang digunakan oleh Indonesia untuk melancarkan konfrontasi tersebut?

- A Bimbang ekonomi dikuasai
- B Mengancam kedudukan mereka**
- C Cemburu dengan gabungan negeri
- D Kegagalan membentuk Melayu Raya

35 **MURAH SUKSES** 106 Indonesia telah melancarkan konsep "Ganyang Malaysia" dalam usaha melancarkan dasar konfrontasi terhadap gagasan Malaysia.

Apakah bentuk penentangan yang telah dilakukan?

- I Meminta bantuan tentera Komanwel
- II Melakukan pendaratan tentera di Johor
- III Melancarkan serangan gerila di Sarawak
- IV Membuat bantahan bertulis kepada PBB

- A I dan II
- B I dan IV
- C II dan III**
- D III dan IV

36 **MURAH SUKSES** 106 Senarai berikut merupakan dasar konfrontasi yang telah dilakukan Indonesia ke atas gagasan Malaysia.

- Pendaratan tentera Indonesia di Tebedu, Sarawak
- Peristiwa berbalas tembakan tentera Malaysia dan Indonesia

Bagaimanakah tindakan Malaysia menangani isu serangan tersebut?

- A Mengadakan rundingan
- B Membuat aduan kepada PBB**
- C Melaksanakan sekatan ekonomi
- D Menuntut campur tangan Brunei

37 **MURAH SUKSES** 108 Bagaimanakah Kementerian Luar Negeri menamatkan konfrontasi Indonesia?

- I Mematahkan kempen propaganda
- II Mendapatkan sokongan negara luar
- III Membatalkan perjanjian persahabatan
- IV Meminta bantuan ketenteraan dari ASEAN

- A I dan II**
- B I dan IV
- C II dan III
- D III dan IV

38 **MURAH SUKSES** 108 Tunku Abdul Rahman Putra al-Haj menerima undangan Presiden Soekarno untuk bertemu di Tokyo.

Apakah tindakan Tunku Abdul Rahman ketika pertemuan tersebut?

- A Memutuskan hubungan diplomatik dengan Indonesia
- B Menuntut ganti rugi daripada kerajaan Indonesia
- C Menandatangani perjanjian gencatan senjata
- D Menerangkan tujuan pembentukan Malaysia**

39 **MURAH SUKSES** 109 Pernyataan berikut berkaitan dengan perubahan kepimpinan yang berlaku di Indonesia.

Tahun	Langkah-langkah
1965	Jeneral Suharto menjadi Presiden Indonesia

Apakah kesan daripada peristiwa berikut?

- A Membantah dasar Neokolonialisme
- B Konfrontasi Indonesia berjaya ditamatkan**
- C Indonesia memperkenalkan Ganyang Malaysia
- D Indonesia melancarkan serangan ke atas Malaysia

40 **MURAH SUKSES** 109 Peristiwa konfrontasi telah memberikan pengalaman kepada negara kita untuk bijak mengurus krisis di peringkat serantau.

Sebagai rakyat Malaysia, apakah nilai yang boleh diambil bagi mengelakkan ancaman luar?

- A Bertoleransi
- B Bekerjasama
- C Bersatu padu**
- D Bertolak ansur

Tingkatan 5


1 Apakah cabaran dalam negara selepas pembentukan Malaysia?
116

- A Pertumbuhan parti politik
- B** Kepelbagaian kaum dan etnik
- C Kekurangan pemimpin berwibawa
- D Ketidakseimbangan sosioekonomi

2 Pembentukan Malaysia telah menyebabkan berlakunya cabaran dalam persaingan politik.
116
Apakah kesan sekiranya kerajaan gagal mengatasinya?

- A** Menggugat perpaduan kaum
- B Meningkatkan kadar kemiskinan
- C Menjejaskan pentadbiran negara
- D Melemahkan ekonomi negara

3 Buku berikut merupakan koleksi ucapan Tun Abdul Razak dalam menghadapi cabaran dalam negara Malaysia.
116



Apakah harapan Tun Abdul Razak dalam karya tersebut?

- A Bertoleransi antara masyarakat
- B Bersatu mempertahankan negara
- C Bekerjasama dalam pemerintahan
- D** Berdedikasi membangunkan negara

4 Apakah cabaran kerajaan untuk memajukan sistem perhubungan dan pengangkutan di Sarawak dan Sabah?
117

- A Penduduk tinggal di pedalaman
- B Tiada kemudahan jalan raya
- C** Saiz negeri yang besar
- D Kekurangan modal

5 Bagaimanakah kerajaan memajukan bidang pendidikan di Sarawak dan Sabah selepas tahun 1963?
117

- I Membina sekolah
- II Melatih tenaga pengajar
- III Menyediakan kemudahan asas
- IV Memberikan biasiswa kepada pelajar

- A** I dan II C II dan III
- B I dan IV D III dan IV

6 Maklumat berikut merujuk kepada cabaran politik di Sarawak.
118

Tahun	Peristiwa
Jun 1966	21 orang ahli Council Negeri tidak berpuas hati dengan kepimpinan Stephan Kalong

Mengapakah peristiwa tersebut berlaku?

- A Krisis ekonomi
- B Perebutan kuasa
- C Ancaman komunis
- D** Krisis perlembagaan

7 Usaha mewujudkan perpaduan kaum dan integrasi nasional merupakan cabaran besar yang dihadapi Malaysia.
118

Mengapakah usaha tersebut sukar dilaksanakan?

- I Masalah jarak
- II Jurang pendapatan
- III Sistem pendidikan berbeza
- IV Kepelbagaian kaum dan budaya

- A I dan II C II dan III
- B** I dan IV D III dan IV

8 Mengapakah semua rakyat Malaysia perlu memperkukuhkan perpaduan dan semangat integrasi nasional?
118

- A Melahirkan masyarakat berdisiplin
- B Melicinkan pentadbiran negara
- C** Menjamin kemandirian negara
- D Meningkatkan ekonomi

Rajah berikut menunjukkan masalah perkauman yang berlaku di Singapura.

- Berlaku rusuhan kaum di Singapura pada 21 Julai 1964

9
119

Mengapakah peristiwa itu berlaku? ms 119

- A** Menuntut hak sama rata
- B Menuntut kerakyatan jus soli
- C Menuntut sistem pendidikan seragam
- D Menuntut kedudukan sama semua agama

10
119

Mengapakah Lee Kuan Yew tidak berpuas hati dengan struktur pentadbiran Malaysia?

- A Pengendalian cukai yang tidak adil
- B** Peranan kerajaan Singapura terhadap
- C Pemberian autonomi kepada Sabah
- D Peruntukan jumlah kerusi yang rendah

11 Faktor ekonomi menjadi sebab pemisahan Singapura daripada Malaysia.

119

Apakah faktor ekonomi yang mendorong pemisahan Singapura daripada Malaysia?

- A Pengecualian kadar faedah
- B Pembinaan pelabuhan bebas
- C** Pembukaan pasaran bersama
- D Persamaan hak sama rata dalam ekonomi

12 Pemisahan Singapura daripada Malaysia telah berlaku pada tahun 1965.

120

Apakah pendekatan yang digunakan oleh kedua-dua negara tersebut?

- A Desakan
- B** Rundingan
- C Manipulasi
- D Peperangan

13 Mengapakah Malaysia bersetuju terhadap pemisahan Singapura?

120

- I Kemajuan ekonomi
- II Kepentingan politik
- III Kemakmuran rakyat
- IV Kepentingan negara

- A I dan II
- B I dan IV
- C II dan III
- D** III dan IV

14 Sebagai warganegara yang merdeka, apakah iktibar yang dapat dicontohi melalui peristiwa pemisahan Singapura daripada Malaysia?

120

- A Saling bekerjasama
- B Saling mengambil berat
- C** Mengelakkan kekerasan
- D Mematuhi undang-undang

15 Bagaimanakah gerakan komunis bermula di Sarawak?

121

- A** Pendudukan Jepun
- B Penguasaan SBUB
- C Perebutan kuasa
- D Perang gerila

16 Jadual berikut menunjukkan ancaman komunis di

121

Tahun	Peristiwa
5 Ogos 1952	Komunis menyerang orang awam

Apakah lokasi serangan tersebut?

- A Lutong, Miri
- B Bukit Lambir, Miri
- C Sambas, Santubong
- D** Batu Kitang, Kuching

17 Apakah bentuk ancaman komunis di Sarawak?

121

- I Gerakan politik
- II Serangan bersenjata
- III Pencerobohan udara
- IV Pencerobohan perairan

- A** I dan II
- B I dan IV
- C II dan III
- D III dan IV

18 Rajah berikut menunjukkan usaha kerajaan dalam menangani ancaman komunis.

121

• X
• Operasi Ketenteraan

Apakah X?

- A Serangan udara
- B Serangan laut
- C Perang gerila
- D** Perang Saraf

19 Pasukan Rakyat Kalimantan Utara (PARAKU) merupakan cabang gerakan komunis di Sarawak.

121

Apakah matlamat penubuhan pasukan tersebut?

- A Menguasai ekonomi negeri
- B Menyokong gagasan Malaysia
- C** Menubuhkan republik komunis
- D Menubuhkan Kalimantan Raya

20 Kerajaan telah melaksanakan gerakan Perang Saraf untuk mengatasi ancaman komunis di Sarawak.

121

Bagaimanakah gerakan tersebut dijalankan?

- A Membina pusat perdagangan
- B** Memberikan tawaran pengampunan
- C Memperkenalkan kad pengenalan diri
- D Meminta bantuan daripada askar Komanwel

21 Jadual berikut menunjukkan operasi ketenteraan yang dijalankan bagi mengatasi ancaman komunis di Sarawak.

122

Operasi	Bahagian
X	Bahagian Pertama
Operasi Sri Aman	Bahagian Kedua

Apakah operasi X?

- A Operasi Semut
- B** Operasi Hammer
- C Operasi RASCOM
- D Operasi Letter Box

Tingkatan 5

22 **MARKA SUKSES** 122 Seramai 1200 keluarga berketurunan Hakka diarahkan berpindah ke tiga kawasan petempatan baharu semasa ancaman komunis di Sarawak

Apakah kawasan petempatan baharu tersebut?

- A Sibu-Sarikei
- B Bintulu-Kapit
- C Kuching-Serian**
- D Balong-Sri Aman

23 **MARKA SUKSES** 123 Jadual berikut merupakan langkah kerajaan membanteras ancaman komunis.

Tahun	Langkah
22 Julai 1965	Operasi Letter Box

Apakah matlamat operasi tersebut X?

- A Mendapatkan maklumat pergerakan komunis**
- B Menjejaki kawasan komunis di daerah pedalaman
- C Memperkukuhkan keselamatan di kawasan perairan
- D Menangkap penduduk yang memihak kepada komunis

24 **MARKA SUKSES** 124 Parti Komunis Malaya (PKM) meneruskan kegiatan mengancam keselamatan di Semenanjung Malaysia.

Bagaimanakah ancaman tersebut dilaksanakan?

- I Memusnahkan ladang
- II Menyerang pusat pentadbiran
- III Menyerang anggota keselamatan
- IV Memusnahkan kemudahan awam

- A I dan II C II dan III
- B I dan IV **D III dan IV**

25 **MARKA SUKSES** 125 Gambar berikut menunjukkan kemusnahan Tugu Negara yang telah dibom oleh PKM pada 26 Ogos 1975.



Apakah tindakan pihak kerajaan daripada peristiwa tersebut?

- A Menubuhkan pasukan askar Melayu
- B Menangkap pemimpin gerakan radikal
- C Mengisytiharkan undang-undang darurat
- D Mengenakan akta keselamatan dalam negeri**

26 **MARKA SUKSES** 125 Perjanjian Hat Yai telah ditandatangani antara PKM, kerajaan Malaysia dan Thailand pada 2 Disember 1989.

Apakah kesan daripada perjanjian tersebut?

- A Pembubaran unit bersenjata PKM**
- B Pembinaan pagar sempadan
- C Penguatkuasaan imigresen
- D Penyelarasan kawalan

27 **MARKA SUKSES** 127 Kerajaan telah memperkenalkan Rancangan Malaysia Pertama bagi menangani isu pembangunan ekonomi negara.

Apakah isu tersebut?

- A Serangan wabak penyakit
- B Pendapatan penduduk rendah**
- C Kekurangan peluang pekerjaan
- D Jurang ekonomi penduduk luar bandar

28 **MARKA SUKSES** 127 Apakah isu pembangunan ekonomi yang wujud selepas pembentukan Malaysia?

- A Ketiadaan tenaga mahir
- B Kepupusan sumber hasil bumi
- C Kekurangan sumber kewangan**
- D Kejatuhan harga bahan mentah

29 **MARKA SUKSES** 127 Maklumat berikut berkaitan dengan isu yang dihadapi oleh negara kita pada awal kemerdekaan.

Terlalu bergantung pada eksport getah dan bijih timah

Apakah tindakan yang diambil oleh pihak kerajaan dalam mengatasi isu tersebut?

- A Melibatkan kerjasama sektor swasta
- B Menarik kemasukan pelabur luar negara
- C Memperbanyakkan pengeluaran bijih timah
- D Mempelbagaikan keluaran komoditi negara**

30 **MARKA SUKSES** 127 Bagaimanakah usaha kerajaan bagi mengatasi masalah taraf hidup yang berbeza antara kaum selepas merdeka?

- A Memberikan bantuan subsidi
- B Menyusun semula modal saham
- C Menggerakkan aktiviti perkilangan**
- D Memperkenalkan perindustrian berat

31 **MARKA SUKSES** 128 Bagaimanakah kerajaan mengatasi isu berikut selepas merdeka?

- Kadar pengangguran meningkat
- Peluang pekerjaan yang terhad

- A Menubuhkan pusat latihan vokasional**
- B Melaksanakan sistem pertanian pintar
- C Mencari pasaran baharu bagi bijih timah
- D Menubuhkan kawasan perindustrian baharu

32 **MARKA SUKSES** 128 Apakah isu kesihatan yang dihadapi negara semasa awal kemerdekaan?

- I Kadar kelahiran tidak normal
- II Ancaman penyakit berjangkit
- III Kekurangan kemudahan asas
- IV Keperluan asas Wanita yang terhad

- A I dan II C II dan III
- B I dan IV D III dan IV**

33 **MURAH SUKSES**
129 Peristiwa rusuhan kaum berlaku pada 13 Mei 1969 iaitu beberapa hari selepas Pilihan Raya Umum (PRU) ketiga.

Apakah faktor yang mencetuskan rusuhan tersebut?

- I Hasutan Parti Komunis Malaya
- II Pergaduhan antara kongsi gelap
- III Penipuan keputusan pilihan raya
- IV Sentimen perkauman dan keagamaan

- A I dan II C II dan III
- B I dan IV** D III dan IV

34 **MURAH SUKSES**
129 Senarai berikut merupakan langkah yang diambil bagi mengatasi peristiwa rusuhan kaum 13 Mei 1969.

- Mewujudkan pusat perlindungan
- Memagar kawasan kampung baru
- Penguatkuasaan perintah berkurung

Apakah tindakan yang dimaksudkan?

- A Menubuhkan Majlis Angkatan Tentera
- B Menubuhkan Majlis Tindakan Negara
- C Membentuk Majlis Gerakan Negara
- D Mengisytiharkan darurat**

35 **MURAH SUKSES**
130 Penubuhan Majlis Gerakan Negara (MAGERAN) telah diberi kuasa memerintah Ketika darurat bermula 13 Mei 1969 hingga 23 Februari 1971.

Apakah tugas MAGERAN?

- I Melicinkan pentadbiran negara
- II Menguatkuasakan akta hasutan
- III Mengadakan pilihan raya negeri
- IV Menggubal perlembagaan negeri

- A I dan II** C II dan III
- B I dan IV D III dan IV

36 **MURAH SUKSES**
130 Senarai berikut merupakan dua fokus utama yang perlu diselesaikan oleh MAGERAN.

- X
- Ketidakseimbangan ekonomi antara kaum

Apakah X?

- A Masalah pendidikan
- B Masalah kemiskinan
- C Masalah perpaduan kaum**
- D Masalah kekurangan tenaga pakar

37 **MURAH SUKSES**
130 Berikutan peristiwa rusuhan kaum, Majlis Gerakan Negara melalui Jabatan Penerangan telah bertindak menyekat penuliran berita palsu.

Apakah usaha yang dilakukan bagi menyekat penuliran tersebut?

- A Membentuk pasukan risikan
- B Menutup syarikat percetakan
- C Menggantung penerbitan akhbar**
- D Menganakan denda kepada syarikat

38 **MURAH SUKSES**
130 Antara berikut, yang manakah dilantik sebagai anggota MAGERAN?

- I Pegawai perkhidmatan kerajaan
- II Yang di-Pertuan Agong
- III Pemimpin parti politik
- IV Pegawai tinggi polis

- A I dan II C II dan III
- B I dan IV** D III dan IV

39 **MURAH SUKSES**
131 Ketika berlaku rusuhan, Raja-raja Melayu turut memainkan peranan dalam usaha memulihkan keadaan negara.

- Sultan Idris Iskandar Shah II (Sultan Perak) telah membantu mengatasi rusuhan kaum pada 13 Mei 1969

Apakah bentuk bantuan tersebut?

- A Menyediakan petempatan khas
- B Menubuhkan pusat perlindungan
- C Menentukan pentadbiran yang licin
- D Menasihati rakyat menjaga keamanan**

40 **MURAH SUKSES**
131 Apakah tindakan yang diambil oleh pemimpin masyarakat dan politik bagi memulihkan keadaan selepas peristiwa rusuhan kaum 13 Mei 1969?

- A Menubuhkan Jawatankuasa Muhibah**
- B Menubuhkan Majlis Perundingan Negara
- C Menubuhkan Jabatan Perpaduan Negara
- D Melaksanakan Rancangan Pembangunan Ekonomi

1 Apakah yang dimaksudkan dengan konsep integrasi nasional?
140

- A Keadaan rakyat yang aman dan bersatu
- B Hubungan yang akrab antara negara dunia
- C Langkah meningkatkan pembangunan ekonomi
- D** Proses merapatkan hubungan masyarakat antara negeri

2 Rajah berikut menunjukkan tindakan British yang menyebabkan berlaku pemisahan kaum di negara kita.
141

- Sistem Pendidikan
- Pentadbiran
- X

Apakah aspek X?

- I Ekonomi
 - II Teknologi
 - III Adat Resam
 - IV Petempatan
- A I dan II C II dan III
B I dan IV D III dan IV

3 Apakah kesan pemisahan kaum di Tanah Melayu semasa zaman pentadbiran British?
141

- A Tidak bersatu dalam politik
- B** Tidak memahami adat resam kaum lain
- C Mempunyai sifat patriotik dalam setiap kaum
- D Mempunyai keberanian mempertahankan negara

4 Senarai berikut berkaitan dengan sistem Pendidikan semasa zaman penjajahan British di Tanah Melayu.
141

- Wujud sekolah vernakular yang menggunakan bahasa ibunda masing-masing sebagai bahasa pengantar.

Apakah kesan daripada sistem pendidikan tersebut?

- A Mewujudkan sikap setia kepada negara
- B** Mewujudkan jurang pemikiran antara kaum
- C Mewujudkan masyarakat yang bersatu padu
- D Mewujudkan masyarakat yang menguasai ilmu

5 Kerjasama politik antara kaum telah wujud sebelum merdeka melalui pembentukan _____
141

- A** Parti Perikatan
- B Parti Harapan
- C Parti Bersatu
- D Parti Negara

6 Agensi berikut ditubuhkan selepas tahun 1969.
142

- Jabatan Perpaduan Negara
- Majlis Muhibah Negara
- Majlis Perundingan Negara

Apakah matlamat penubuhan agensi-agensi tersebut?

- A Memajukan sosioekonomi
- B Membangunkan pendidikan
- C** Memperkasakan perpaduan
- D Mempertingkatkan prasarana

7 Apakah dasar ekonomi yang diperkenalkan oleh kerajaan untuk kemakmuran penduduk Tanah Melayu selepas merdeka?
143

- I Dasar Bumi Hangus
- II Dasar Ekonomi Baharu
- III Dasar Pembangunan Nasional
- IV Dasar Kawalan Ekonomi Bumiputera

- A I dan II **C** II dan III
B I dan IV D III dan IV

8 Mengapakah kerajaan menjalankan Rancangan Pembangunan Tanah selepas negara mencapai kemerdekaan?
143

- A** Memajukan masyarakat luar bandar
- B Menyediakan peluang pekerjaan
- C Merencanakan bidang pertanian
- D Meningkatkan kutipan cukai

9 Antara berikut, manakah lokasi Zon Perindustrian Bebas yang diperkenalkan oleh kerajaan?
143

- I Bayan Lepas, Pulau Pinang
- II Pelabuhan Klang, Selangor
- III Temerloh, Pahang
- IV Bintulu, Sarawak

- A** I dan II C II dan III
B I dan IV D III dan IV

10 Apakah tujuan kerajaan memperkasakan Akta Pendidikan Kebangsaan 1996?
143

- A Menyusun semula masyarakat
- B** Mengukuhkan perpaduan masyarakat
- C Memantapkan penguasaan bahasa Inggeris
- D Meningkatkan tahap pendidikan tinggi masyarakat

11 Jadual berikut menunjukkan institusi yang ditubuhkan oleh kerajaan.

143

- Dewan Bahasa Dan Pustaka
- Universiti Kebangsaan Malaysia

Apakah tujuan penubuhan institusi tersebut?

- A** Membentuk satu identiti bahasa yang sama
- B Menaikkan nama negara di pentas dunia
- C Menggalakkan pendidikan tinggi
- D Melahirkan ramai cendekiawan

12 Antara berikut, apakah implikasi perlaksanaan Dasar Pendidikan Kebangsaan pada tahun 1950-an?

144

- I Menyediakan tenaga kerja mahir
- II Memperkukuhkan perpaduan rakyat
- III Menggalakkan kemasukan modal asing
- IV Meningkatkan kualiti perkhidmatan

- A** I dan II C II dan III
- B I dan IV D III dan IV

13 Antara cadangan yang terdapat dalam Laporan Rahman Talib ialah penggunaan Bahasa yang seragam dan kurikulum yang sama di semua sekolah.

145

Apakah kepentingan syor tersebut?

- A** Mengukuhkan hubungan rakyat pelbagai kaum
- B Membentuk pemimpin yang berwibawa
- C Mengurangkan sekolah vernakular
- D Memupuk kekuatan jati diri rakyat

14 Maklumat berikut berkaitan usaha mengukuhkan pendidikan kebangsaan.

145

Penambahbaikan melalui Kajian Aminudin Baki telah membolehkan sistem persekolahan aneka jurusan dan pelbagai kursus kemahiran diperkenalkan.

Apakah manfaat daripada penambahbaikan tersebut?

- A** Melahirkan tenaga kerja mahir
- B Menjamin kecemerlangan negara
- C Meperkasakan sekolah vokasional
- D Membentuk rakyat yang berdaya saing

15 Apakah perkara yang terkandung dalam Laporan Jawatankuasa Kabinet 1979?

146

- I Penekanan terhadap kokurikulum
- II Bahasa Melayu wajib di semua sekolah
- III Pengenalan Falsafah Pendidikan Negara
- IV Perlaksanaan KBSR dan KBSM di semua sekolah

- A I dan II C II dan III
- B** I dan IV D III dan IV

16 Akta Pendidikan 1996 telah memperkukuhkan lagi kedudukan Bahasa Melayu sebagai bahasa utama di negara kita. Apakah penekanan terhadap Bahasa Melayu dalam dasar ini?

147

- A** Mewajibkan Bahasa Melayu diajar di semua sekolah
- B Menyeragamkan sukatan pelajaran di sekolah rendah
- C Menjadi mata pelajaran wajib lulus dalam peperiksaan
- D Mengiktiraf Bahasa Melayu sebagai Bahasa perpaduan

17 Apakah langkah yang diambil kerajaan untuk memastikan Bahasa Melayu dimartabatkan sebagai Bahasa kebangsaan di negara kita?

148

- I Penubuhan Mahkamah Persekutuan
- II Penubuhan Universiti Kebangsaan Malaysia
- III Penggunaan Bahasa Melayu dalam sistem pendidikan
- IV Penggunaan Bahasa Melayu dalam semua urusan ekonomi

- A I dan II **C** II dan III
- B I dan IV D III dan IV

18 Senarai sekolah berikut memainkan peranan yang sangat penting.

148

- Sekolah Alam Shah
- Sekolah Sri Puteri
- Sekolah Sultan Abdul Halim

Apakah kepentingan sekolah-sekolah di atas?

- A Menjadi perintis kepada sekolah berasrama penuh
- B Memperkenalkan mata pelajaran teknik dan vokasional
- C** Menggunakan Bahasa Melayu sebagai Bahasa pengantar
- D Memperkasakan Bahasa Inggeris dalam pengajaran


19 Universiti Kebangsaan Malaysia (UKM) ditubuhkan pada 18 Mei 1970. Mengapakah kerajaan menubuhkan pusat pengajian berikut?

149

- A Memupuk jati diri rakyat Malaysia
- B Memperbanyakkan institusi keilmuan
- C Memperkukuhkan toleransi antara rakyat
- D** Membuktikan Bahasa Melayu bahasa ilmu

20 Gambar berikut adalah logo Dewan Bahasa dan Pustaka (DBP).

149



Mengapakah kerajaan menubuhkan institusi di atas?

- A Meningkatkan kadar celik huruf
- B Menggalakkan kemasukan pelajar asing
- C Meningkatkan kemahiran pelbagai bahasa
- D** Memperkasa kedudukan bahasa kebangsaan

21 **MURAH SUSAH** 149 Gambar berikut merupakan logo slogan “Bahasa Jiwa Bangsa”.



Apakah hasrat yang terkandung di sebalik slogan tersebut ?

- A Melahirkan rakyat yang berjiwa besar dalam hidup
- B Melahirkan rakyat yang mempunyai jati diri tinggi
- C** Membentuk rakyat bersatu melalui bahasa
- D Membentuk rakyat yang berkeyakinan

22 **MURAH SUSAH** 150 Maklumat berikut berkaitan dasar kebudayaan.

Dasar Kebudayaan Kebangsaan telah digubal dalam Kongres Kebudayaan Kebangsaan pada tahun 1971.

Mengapakah dasar tersebut diperkenalkan?

- A Menanam taat setia
- B** Mengekalkan identiti negara
- C Melahirkan semangat patriotik
- D Menjaga hak peribumi

23 **MURAH SUSAH** 150 Manakah antara berikut berkaitan dengan Dasar Kebudayaan Kebangsaan?

- I Islam menjadi unsur yang penting
- II Budaya setiap kaum disatukan
- III Mengikut adat istiadat serantau
- IV Kebudayaan rantau Melayu sebagai teras

- A I dan II C II dan III
- B** I dan IV D III dan IV

24 **MURAH SUSAH** 151 Pembentukan Dasar Kebudayaan Kebangsaan bertujuan mencapai tiga matlamat utama. Apakah matlamat tersebut?

- A Mengukuhkan kedaulatan negara
- B Meningkatkan ekonomi masyarakat
- C** Memelihara keperibadian kebangsaan
- D Mempelbagaikan aktiviti kemasyarakatan

25 **MURAH SUSAH** 151 Maklumat berikut berkaitan dengan program kebudayaan kebangsaan.

- Dianjurkan sejak tahun 1999
- Diadakan pada bulan Mei setiap tahun
- Bertempat di Dataran Merdeka

Apakah program kebudayaan tersebut?

- A** Citrawarna Malaysia
- B Festival Seni Selat Melaka
- C Semarak Bulan Kebudayaan
- D Program Merakyatkan Seni Budaya

26 **MURAH SUSAH** 152 Rancangan Integrasi Murid untuk Perpaduan (RIMUP) telah dilaksanakan di peringkat sekolah. Apakah harapan kerajaan daripada pelaksanaan dasar tersebut?

- A Menggalakkan sikap bersaing
- B** Memupuk semangat setiakawan
- C Menanam kesedaran kepentingan menuntut ilmu
- D Mengukuhkan sifat kreatif dan inovatif kepada murid

27 **MURAH SUSAH** 152 Gambar berikut berkaitan dengan aktiviti kokurikulum di peringkat sekolah.



Mengapakah kerajaan memfokuskan dasar tersebut di peringkat sekolah?

- A Melahirkan murid yang berani
- B** Melahirkan ahli sukan yang berkualiti
- C Melahirkan pelajar yang kreatif dan inovatif
- D Melahirkan generasi yang mempunyai jati diri

28 **MURAH SUSAH** 153 Gambar berikut berkaitan dengan logo temasya Sukan Malaysia.



Apakah tujuan utama kerajaan mewujudkan kejohanan sukan di atas?

- A Menjadi acara tahunan negara
- B Mempertandingkan semua acara
- C Melibatkan penyertaan negara luar
- D** Menggalakkan integrasi antara negeri

29 **MURAH SUSAH** 153 Berikut merupakan kejohanan sukan yang dianjurkan oleh Malaysia di peringkat antarabangsa.

- Sukan Komanwel 1998

Apakah manfaat daripada penganjuran sukan tersebut?

- A Sukan dapat melahirkan masyarakat yang sihat
- B Sukan dapat membentuk masyarakat yang berani
- C Sukan dapat menjana sumber pendapatan negara
- D** Sukan dapat menyatukan masyarakat berbilang kaum

30 **MURAH SUSAH** 155 Slogan berikut dilancarkan oleh kerajaan pada tahun 1992.

MALAYSIA BOLEH

Apakah yang diharapkan oleh kerajaan daripada slogan tersebut?

- A Meningkatkan maruah negara
- B Meningkatkan ekonomi negara
- C Memajukan sektor pelancongan
- D** Mengukuhkan penyatuan rakyat

31 **MURAH SUDAH** 155 Manakah antara agensi berikut terlibat dengan usaha meningkatkan pencapaian dan kecemerlangan sukan negara pada peringkat antarabangsa?

- I Majlis Sukan Negara
- II Majlis Olimpik Malaysia
- III Majlis Keselamatan Negara
- IV Majlis Perundingan Negara

- A** I dan II C II dan III
- B I dan IV D III dan IV

32 **MURAH SUDAH** 155 Gambar berikut menunjukkan saat manis Malaysia menjujung Piala Thomas tahun 1992.



Apakah yang boleh disimpulkan daripada gambar tersebut?

- A Berani menghadapi cabaran
- B Berdaya saing untuk berjaya
- C** Bersatu padu membuahakan kejayaan
- D Bertanggungjawab dalam segala tindakan

33 **MURAH SUDAH** 156 Gambar berikut merupakan pemimpin yang berwibawa dalam industri sukan negara?



Apakah sumbangan tokoh tersebut?

- A Presiden Majlis Olimpik Malaysia
- B** Presiden Konfederasi Hoki Malaysia
- C Presiden Persatuan Bola Sepak Malaysia
- D Presiden Sepak Takraw Malaysia

34 **MURAH SUDAH** 157 Manakah antara berikut merupakan ideologi yang diusahakan kerajaan untuk perpaduan rakyat?

- A** Rukun Negara
- B Tugu Negara
- C Zoo Negara
- D Muzium Negara

35 **MURAH SUDAH** 157 Apakah peristiwa yang membawa kepada pembentukan Rukun Negara?

- A** Rusuhan kaum tahun 1969
- B Pencerobohan Lahad Datu
- C Konfrantasi Indonesia tahun 1963
- D Perebutan Kawasan perairan Selat Melaka

36 **MURAH SUDAH** 157 Antara berikut, yang manakah pihak terlibat dalam usaha merealisasikan pembentukan Rukun Negara?

- A Majlis Keselamatan Negara
- B Majlis Perundingan Negara
- C** Majlis Gerakan Rakyat
- D Majlis Muhibah Negara

37 **MURAH SUDAH** 157 Gambar berikut menunjukkan logo sambutan 50 tahun Rukun Negara pada tahun 2020.



Apakah maksud tengkolok yang terdapat pada logo tersebut?

- A** Kesetiaan kepada raja dan negara
- B Kepercayaan kepada tuhan
- C Kesopanan dan kesusilaan
- D Semangat bekerjasama antara kaum

38 **MURAH SUDAH** 158 Bagaimanakah matlamat kerajaan untuk membentuk masyarakat yang adil dapat dicapai?

- A Masyarakat yang mengamalkan pelbagai adat
- B Masyarakat yang mengamalkan demokratik
- C** Masyarakat yang bebas daripada penindasan
- D Masyarakat yang menguasai sains dan teknologi

39 **MURAH SUDAH** 159 Pernyataan berikut merujuk kepada prinsip kelima Rukun Negara.

Kesopanan dan Kesusilaan

Apakah manfaat pengamalan prinsip tersebut terhadap masyarakat?

- A Menjamin sifat berani dalam hidup
- B Memupuk sikap mengejar kejayaan
- C** Melahirkan masyarakat yang bertolak ansur
- D Membentuk masyarakat yang suka persaingan

40 **MURAH SUDAH** 159 Apakah kesan sekiranya masyarakat di negara kita mengamalkan prinsip Rukun Negara dalam kehidupan harian?

- I Memupuk keharmonian negara
- II Memperkasa semangat kenegerian
- III Mengukuhkan hubungan diplomatik
- IV Meningkatkan kesejahteraan rakyat

- A I dan II C II dan III
- B** I dan IV D III dan IV

1 Apakah hasrat kerajaan semasa menubuhkan Dasar Ekonomi Baru (DEB) pada tahun 1970 hingga tahun 1990?

166

- A Memajukan ekonomi dan perdagangan
- B** Memajukan ekonomi dan perpaduan
- C Memajukan ekonomi dan infrastruktur
- D Memajukan ekonomi dan pendapatan

2 Manakah antara berikut merupakan agensi yang diberi tanggungjawab untuk mengadakan garis panduan pembentukan Dasar Ekonomi Baru (DEB)?

166

- A Majlis Gerakan Negara
- B Majlis Perpaduan Negara
- C** Majlis Perundangan Negara
- D Majlis Tindakan Ekonomi Negara

3 Dasar Ekonomi Baru (DEB) dilaksanakan secara serampang dua mata dengan dua matlamat utama. Apakah matlamat tersebut?

167

- I Memajukan perdagangan antarabangsa
- II Membasmi kemiskinan masyarakat
- III Menyusun semula masyarakat
- IV Memantapkan industri berat

- A I dan II
- C** II dan III
- B I dan IV
- D III dan IV

4 Antara strategi pelaksanaan Dasar Ekonomi Baru (DEB) ialah untuk membasmi kemiskinan tanpa mengira kaum.

167

Bagaimanakah strategi dilaksanakan oleh kerajaan?

- I Meningkatkan pengeluaran negara
- II Menyediakan rumah kos murah
- III Menambah pendapatan rakyat
- IV Memperbanyakkan peluang pekerjaan

- A I dan II
- D** III dan IV
- B I dan IV
- C II dan III

5 Pernyataan berikut berkaitan dengan situasi negara selepas merdeka.

168

Selain daripada kemiskinan di kawasan luar bandar, terdapat penduduk di kawasan bandar juga mengalami masalah taraf hidup yang rendah.

Apakah isu yang menyebabkan kemiskinan di kawasan bandar?

- A** Masalah perumahan
- B Masalah pencemaran
- C Masalah kos hidup tinggi
- D Masalah pendatang asing

6 Bagaimanakah kerajaan meningkatkan taraf hidup dan membasmi kemiskinan masyarakat luar bandar dalam DEB ?

168

- I Penerokaan tanah baharu
- II Bantuan peralatan pertanian
- III Penubuhan pusat pengajian tinggi
- IV Pembukaan kilang di kawasan luar bandar

- A** I dan II
- B I dan IV
- C II dan III
- D III dan IV

7 Maklumat berikut berkaitan dengan dasar kerajaan untuk membasmi kemiskinan di negara kita.

169

Rancangan Buku Hijau dilancarkan oleh Tun Abdul Razak pada 20 Disember 1974.

Apakah perkara yang diberi tumpuan dalam pelaksanaan dasar ini?

- A Meneroka kawasan hutan untuk pertanian
- B Memajukan teknologi di kawasan luar bandar
- C** Menjalankan perkebunan secara berkelompok
- D Memantapkan kegiatan ekonomi perindustrian

8 Antara berikut, manakah agensi yang ditubuhkan semasa pelaksanaan DEB untuk mempelbagaikan kegiatan ekonomi rakyat?

169

- A Perbadanan Industri Berat Malaysia
- B** Pihak Berkuasa Kemajuan Pekebun Kecil Perusahaan Getah (RISDA)
- C Institut Penyelidikan dan Kemajuan Pertanian Malaysia (MARDI)
- D Perbadanan Nasional Berhad (PERNAS)

9 Logo berikut berkaitan agensi yang ditubuhkan oleh kerajaan semasa pelaksanaan Dasar Ekonomi Baru (DEB).

169



Apakah peranan agensi tersebut?

- A Membantu memasarkan hasil pertanian
- B Membantu pendidikan bidang pertanian
- C** Melibatkan petani dalam kegiatan koperasi
- D Menyediakan pinjaman kepada petani kecil

10 Mengapakah kerajaan menubuhkan Lembaga Kemajuan Tanah Persekutuan (FELDA) pada 1 Julai 1956?

170

- A Mewujudkan pemasaran untuk petani luar bandar
- B** Membuka tanah baru untuk pertanian
- C Menggalakkan pertanian moden
- D Menambah industri hiliran

11 Senarai berikut merupakan kawasan FELDA yang diwujudkan oleh kerajaan.

- Felda Lurah Bilut (Pahang)
- Felda Keratong (Pahang)
- Felda Senayan (Negeri Sembilan)

Apakah persamaan FELDA tersebut?

- A** Melibatkan peneroka pelbagai kaum
- B Merupakan FELDA rintis di Tanah Melayu
- C Memiliki kilang penapis minyak terbesar
- D Melibatkan bumiputera sahaja

12 Agensi berikut berkaitan pelaksanaan Dasar Ekonomi Baru (DEB).

Urban Development Authority (UDA)

Apakah peranan agensi kerajaan tersebut?

- A** Merancang pembangunan bandar baharu
- B Menubuhkan institusi kewangan tempatan
- C Memperkenalkan kawasan perindustrian
- D Membentuk komuniti pertanian moden

13 Apakah kesan yang berlaku apabila kaum bumiputera ketinggalan dalam pemilikan modal saham selepas merdeka?

- A** Mewujudkan jurang pendapatan dengan kaum lain
- B Mengukuhkan daya saing kaum bumiputera
- C Melahirkan industri berasaskan pertanian
- D Meningkatkan hutang kaum bumiputera

14 Logo berikut berkaitan usaha yang dilancarkan semasa pelaksanaan DEB.



Mengapakah kerajaan memperkenalkan kedua-dua program tersebut?

- A Memberi dana kepada pengusaha kecil
- B** Memudahkan bumiputera membuat pelaburan
- C Menyediakan pinjaman modal kepada bumiputera
- D Melibatkan bumiputera dalam memiliki aset kerajaan

15 Apakah manfaat yang diperoleh daripada usaha kerajaan memperkenalkan Industri Kecil dan Sederhana (IKS)?

- A Mewujudkan kawasan industri kecil yang baru
- B Menggalakkan pertumbuhan industri pertanian
- C** Menambah bilangan usahawan muda
- D Melahirkan ramai jutawan luar bandar

16 Berikut merupakan usaha kerajaan dalam bidang pendidikan.

- Sekolah Teknik dan Vokasional
- Politeknik

Mengapakah kerajaan mewujudkan institusi tersebut?

- A Membentuk masyarakat yang berdaya saing
- B Menghasilkan masyarakat industri
- C** Melahirkan tenaga kerja berkemahiran
- D Mengurangkan pergantungan kepada pekerja asing

17 Mengapakah Tun Dr. Mahathir Mohamad melancarkan Dasar Pembangunan Nasional (DPN) sebaik sahaja tamat Dasar Ekonomi Baru (DEB) pada tahun 1990?

- A** Membentuk sebuah negara maju
- B Memulihkan kawasan luar bandar yang terbiar
- C Membangunkan banyak kawasan industri
- D Melahirkan ramai jutawan tempatan

18 Matlamat DPN adalah untuk mencapai perpaduan negara melalui pengagihan kekayaan. Bagaimanakah matlamat ini dapat dicapai?

- A Pembentukan jawatankuasa hal ehwal ekonomi
- B Penerokaan pasaran pertanian antarabangsa
- C** Pembangunan seimbang antara negeri
- D Pembukaan kawasan perindustrian baru

19 Apakah strategi Dasar Ekonomi Baru (DEB) yang diteruskan dalam Dasar Pembangunan Nasional (DPN)?

- I Mengukuhkan kedaulatan negara
- II Memantapkan sektor pertanian
- III Menyusun semula masyarakat
- IV Membasmi kemiskinan

- A I dan II
- B I dan IV
- C** II dan III
- D III dan IV

20 Kerajaan meneruskan usaha untuk menghapuskan kemiskinan tegar dalam kalangan pelbagai kaum terutamanya golongan bumiputera. Apakah usaha tersebut?

- I Pemberian subsidi kepada golongan petani
- II Pembentukan jawatankuasa hal ehwal ekonomi
- III Pelancaran program bantuan kemiskinan luar bandar
- IV Pembentukan program latihan kepada golongan belia

- A I dan II
- B** I dan IV
- C II dan III
- D III dan IV

21 Kerajaan berusaha menghapuskan kemiskinan tegar pelbagai kaum dalam Dasar Pembangunan Nasional. Bagaimanakah tujuan tersebut dapat dicapai?

- I Meningkatkan bilangan kilang di seluruh negara
- II Menghantar tenaga kerja ke luar negara
- III Menubuhkan institut latihan kemahiran
- IV Memberi subsidi dan sokongan

- A I dan II
- B I dan IV
- C II dan III
- D III dan IV

22 Dalam pelaksanaan Dasar Pembangunan Nasional (DPN), kerajaan berusaha menyusun semula masyarakat bagi membolehkan bumiputera bersaing dalam perniagaan moden. Apakah usaha tersebut?

- I Menyediakan kemudahan modal
- II Pendedahan teknologi baru
- III Pengecualian cukai perniagaan
- IV Membangunkan kawasan luar bandar

- A I dan II
- B I dan IV
- C II dan III
- D III dan IV

23 Kerajaan berusaha mewujudkan pusat pertumbuhan baharu ekonomi kerana dapat menyumbang kepada pembangunan wilayah.

- A Merancang pembangunan di kawasan bandar
- B Menggalakkan penghijrahan penduduk ke bandar
- C Menyediakan kawasan luar bandar dengan teknologi
- D Menempatkan kilang tambahan di negeri kurang maju

24 Agensi berikut ditubuhkan untuk menyokong pelaksanaan Dasar Pembangunan Nasional.

- Majlis Amanah Rakyat (MARA)
- Perbadanan Nasional Berhad (PERNAS)

Apakah harapan kerajaan dengan penubuhan agensi di atas?

- A Pegangan saham kaum bumiputera meningkat
- B Penglibatan kaum bukan bumiputera dalam saham
- C Wujud golongan pakar dalam bidang saham
- D Pasaran saham Malaysia bertaraf dunia

25 Dasar berikut digubal untuk merencanakan pelaksanaan ekonomi di negara kita.

Dasar Penswastaan

Mengapakah dasar tersebut penting terhadap kemajuan ekonomi negara?

- A Pertambahan pelaburan modal swasta
- B Pertambahan syarikat swasta
- C Syarikat swasta dapat digabungkan
- D Kerajaan dapat mengawal sektor swasta

26 Antara tujuan pembentukan Masyarakat Perdagangan dan Perindustrian Bumiputera (MPPB) bagi membolehkan bumiputera bersaing dalam perniagaan moden.

Apakah usaha kerajaan ke arah mencapai tujuan tersebut?

- A Memperkenalkan subjek perniagaan kepada bumiputera
- B Mewujudkan sekatan perdagangan produk luar negara
- C Menyediakan kemudahan modal kepada bumiputera
- D Membentuk kawasan industri khusus bumiputera

27 Pernyataan berikut berkaitan dengan kejayaan DEB dan DPN.

DEB dan DPN berjaya mewujudkan masyarakat baharu yang terdiri daripada golongan profesional, pemodal, teknikal, pentadbiran dan pengurusan.

Apakah golongan yang dimaksudkan dalam pernyataan di atas?

- A Golongan demokrat
- B Golongan pertengahan
- C Golongan cendekiawan
- D Golongan usahawan

28 Apakah langkah yang diambil dalam DEB dan DPN yang berjaya berkesan menurunkan kadar kemiskinan di Malaysia?

- A Menyekat kemasukan pendatang asing
- B Menambah peluang pekerjaan
- C Menyediakan kemudahan pinjaman
- D Menghalang pemilikan aset bukan bumiputera

29 Manakah antara berikut merupakan bidang yang menunjukkan peningkatan kualiti hidup yang sangat ketara di bawah pelaksanaan DEB dan DPN?

- I Inovasi
- II Kesihatan
- III Pendidikan
- IV Pengurusan

- A I dan II
- B I dan IV
- C II dan III
- D III dan IV

30 Gambar berikut menunjukkan tokoh bumiputera negara kita.



Apakah sumbangan penting tokoh tersebut?

- A Membawa masuk pekerja mahir dari luar negara
- B Membuka peluang pekerjaan kepada golongan miskin
- C Memberi bantuan kepada negara-negara membangun
- D Menjadi perancang ekonomi kepada kerajaan

Tingkatan 5

31 Mengapakah kerajaan memberi tumpuan terhadap pembangunan pendidikan selepas tahun 1990?

182

- I Meningkatkan masyarakat yang kaya di negara kita
- II Melahirkan tenaga mahir yang berpendidikan
- III Memperbaiki taraf hidup masyarakat
- IV Mewujudkan masyarakat yang patriotik

- A I dan II
- B I dan IV
- C II dan III
- D III dan IV

32 Gambar berikut menunjukkan kemajuan dalam sistem pengangkutan dan perhubungan di negara kita.

183



Lebuhraya Utara Selatan

Apakah kesan pembinaan kemudahan perhubungan tersebut terhadap negara?

- A Mengukuhkan kedaulatan negara
- B Menyekat aktiviti ekonomi di pedalaman
- C Merancakkan aktiviti ekonomi di pedalaman
- D Menggalakkan penghijrahan penduduk ke bandar

33 Berikut merupakan wilayah yang berkembang semasa pelaksanaan DEB dan DPN.

184

FELDA segi tiga Jengka di Pahang terletak di antara tiga daerah iaitu Temerloh, Maran dan Jerantut.

Apakah keunikan Felda Segitiga Jengka?

- A Berkembang menjadi bandar
- B Mempunyai kilang kereta dan motor
- C Merupakan felda terawal di Malaysia
- D Menggunakan kepakaran antarabangsa

34 Manakah antara berikut merupakan kesan dari aspek ekonomi melalui pelaksanaan DEB dan DPN?

185

- I Pertumbuhan Kawasan perindustrian baharu
- II Pembinaan menara berkembar Petronas
- III Pengukuhan keselamatan negara
- IV Perkembangan dalam pembuatan kenderaan

- A I dan II
- B I dan IV
- C II dan III
- D III dan IV

35 Mulai tahun 1980-an, Malaysia mula menekankan ekonomi ke arah perindustrian berteknologi tinggi. Antara berikut yang manakah merupakan ciri-ciri perindustrian berteknologi tinggi?

185

- I Kemahiran yang tinggi
- II Memerlukan kepakaran luar
- III Perkongsian kepakaran dengan negara luar
- IV Penggunaan modal perniagaan yang besar

- A I dan II
- B I dan IV
- C II dan III
- D III dan IV

36 Logo berikut merupakan logo syarikat cari gali Malaysia.

185



Mengapakah syarikat tersebut penting dalam mencapai matlamat DEB dan DPN?

- I Menambahkan kadar import negara
- II Meningkatkan kemajuan di Kawasan luar bandar
- III Menggalakan perkembangan teknologi tinggi
- IV Mengukuhkan asas perindustrian negara

- A I dan II
- B I dan IV
- C II dan III
- D III dan IV

37 Kawasan berikut terlibat dalam perindustrian berteknologi tinggi.

185

- Kerteh, Terengganu
- Port Dickson, Negeri Sembilan

Apakah projek perindustrian yang diusahakan di kawasan tersebut?

- A Besi dan keluli
- B Membaiki kapal
- C Stesen janakuasa
- D Kilang penapis petroleum

38 Apakah pertimbangan yang dilakukan oleh kerajaan dalam memilih sesebuah kawasan untuk dijadikan Kawasan perindustrian yang baharu?

186

- I Berdekatan dengan bahan mentah
- II Mudah mendapat bekalan tenaga buruh
- III Terletak dalam Kawasan perumahan awam
- IV Berhambiran dengan bangunan pentadbiran kerajaan

- A I dan II
- B I dan IV
- C II dan III
- D III dan IV

39 Pernyataan berikut berkaitan kawasan perindustrian baharu?

186

Merupakan Kawasan perdagangan yang diberi pelepasan atau tarif sebagai insentif.

Apakah kawasan perindustrian yang dimaksudkan dalam pernyataan tersebut?

- A Estet Perindustrian
- B Zon Perindustrian Bebas
- C Taman Teknologi Perindustrian
- D Kawasan Industri Kecil dan Sederhana

40 Mengapakah kewujudan Taman Teknologi Perindustrian penting dalam usaha memajukan bidang perindustrian di Malaysia?

186

- A Menjalankan kegiatan penyelidikan
- B Meningkatkan kutipan cukai perindustrian
- C Mengukuhkan kedudukan perindustrian negara
- D Menjalankan kegiatan perindustrian secara lestari

Tingkatan 5

1 Apakah tujuan hubungan luar Kesultanan Melayu Melaka pada abad ke-15 ?

195

- I Memperoleh kemakmuran
- II Menjamin keselamatan
- III Mendapat bantuan
- IV Menjual sumber

- A I dan II
- B I dan IV
- C II dan III
- D III dan IV

2 Apakah matlamat dasar luar Malaysia?

196

- A Mewujudkan keamanan dunia
- B Memantapkan ekonomi negara
- C Melindungi kepentingan nasional
- D Menyatupadukan masyarakat global

3 Sekiranya anda pemimpin negara, apakah yang mempengaruhi penggubalan dasar luar negara ?

197

- I Hubungan perdagangan
- II Amalan demokrasi
- III Persekitaran luar
- IV Ikatan sejarah

- A I dan II
- B I dan IV
- C II dan III
- D III dan IV

Soalan 4 dan 5 berdasarkan peta di bawah.



Malaysia telah menyertai misi pengaman PBB dalam mengawasi senjata dalam perang saudara di negara X.

4 Manakah negara X ?

200



5 Apakah misi di negara tersebut ?

200

- A United Nations Protection Force (UNPROFOR)
- B United Nations Operation in the Congo (UNOC)
- C United Nations Operations in Somalia II (UNOSOM II)
- D United Nations Interim Force in Lebanon (UNIFIL)

6 Mengapakah Malaysia menentang Dasar Apartied di Afrika Selatan ?

207

- A Eksploitasi ekonomi
- B Pencabulan hak
- C Amalan diktator
- D Rusuhan kaum

7 Apakah faedah yang diperoleh Malaysia melalui pelibatan dalam Komanwel ?

206

- A Biasiswa pendidikan
- B Bantuan ketenteraan
- C Penyelidikan teknologi
- D Perkongsian kepakaran

8 Rajah berikut berkaitan cabaran yang ditempuhi melalui dasar luar negara ?

209



Cabaran tersebut dapat diatasi melalui

- A Kekuatan ketenteraan
- B Kestabilan pemerintah
- C Keberkesanan strategi
- D Kebijaksanaan pemimpin

9 Berikut berkaitan tentang penyertaan Malaysia dalam temasya sukan.

207

Temasya sukan
• Sukan Olimpik
• Sukan Komanwel
• Sukan SEA

Mengapakah Malaysia menyertai temasya sukan

- I Perkongsian kepakaran
- II Pemodenan ekonomi
- III Meningkatkan imej
- IV Mengeratkan hubungan

- A I dan II
- B I dan IV
- C II dan III
- D III dan IV

10 MAPHILINDO merupakan gabungan negara Malaysia, Filipina dan Indonesia.

210

Apakah tujuan penubuhannya?

- A Meningkatkan persefahaman anggota
- B Menghapuskan ancaman komunis
- C Memajukan kegiatan perdagangan
- D Membentuk pakatan serantau

11 Kerajaan awal berikut telah mengadakan hubungan dengan Kerajaan luar di Alam Melayu

MUKA SURAH
194

- P'an-P'an
- Langkasuka
- Chih-t'u

Apakah bukti kerajaan tersebut telah mengadakan hubungan luar dengan kerajaan lain?

- A Perjanjian antara kerajaan
- B Penemuan cap mohor India
- C Penulisan pada batu bersurat
- D** Penghantaran utusan ke China

12 Jadual berikut menunjukkan perkembangan dasar luar selepas kemerdekaan negara .

MUKA SURAH
195

Tokoh	Bentuk dasar luar
Tunku Abdul Rahman Putra al-Haj	ProBarat dan anti komunis
Tun Abdul Razak Hussein	Dasar Berkecuali dan berbaik-baik dengan negara lain

Mengapakah berlakunya perbezaan bentuk dasar luar tersebut?

- A Penyatuan nasional
- B Perkembangan politik
- C** Perubahan keperluan negara
- D Perbezaan ideologi pemimpin

13 Malaysia telah menjalinkan hubungan dengan negara serantau seperti Thailand dan Brunei.

MUKA SURAH
197

Apakah faktor yang mempengaruhi bentuk dasar luar Malaysia ini?

- A Kepimpinan negara
- B Ikatan sejarah
- C** Persekitaran luar
- D Bantuan ketenteraan

14 Apakah peranan Malaysia dalam Pertubuhan Bangsa-Bangsa Bersatu (PBB)?

MUKA SURAH
199

- I Menganggotai CHOGM
- II Menyertai misi pengaman
- III Menjadi Ahli Majlis Keselamatan
- IV Menggerak ZOPFAN

- A I dan II **C** II dan III
- B I dan IV D III dan IV

15 Apakah faedah Malaysia peroleh melalui Rancangan Colombo?

MUKA SURAH
206

- A Menjadi penganjur sukan
- B** Mendapat bantuan teknikal
- C Menjamin keselamatan negara
- D Menyediakan peluang pekerjaan

16 Kebanjiran pendatang asing Vietnam di Asia Tenggara turut memberikan kesan kepada Malaysia. Apakah langkah yang diambil oleh Malaysia bagi mengatasi masalah tersebut?

MUKA SURAH
208

- A Mewujudkan kesatuan ZOPFAN
- B Menjalinkan hubungan antarabangsa
- C Menandatangani perjanjian MAPHILINDO
- D** Menyokong sidang kemuncak Ketua-ketua Negara Asean

17 Apakah bukti yang menunjukkan Penglibatan Malaysia dalam ASEAN dalam memelihara kestabilan politik dan menyelesaikan konflik serantau?

MUKA SURAH
210

- I ZOPFAN
- II RESCAM
- III SEAMEO
- IV Misi UNTAC

- A I dan II C II dan III
- B** I dan IV D III dan IV

18 Malaysia telah menjadi tuan rumah kepada Sidang Kemuncak NAM kali ke-13 pada tahun 2003. Apakah isu yang dibincangkan?

MUKA SURAH
210

- I Pembebasan Palestin
- II Peperangan di Iraq
- III Kebanjiran pendatang asing
- IV Kekejaman rejim Pol Pot

- A** I dan II C II dan III
- B I dan IV D III dan IV

19 Jadual berikut berkaitan tentang perjanjian pertahanan baharu Five Power Defence Arrangements (FPDA)

MUKA SURAH
209

TARIKH	NEGARA
15-16 April 1971	<ul style="list-style-type: none"> • Malaysia • Singapura • Britain • Australia • New Zealand

Apakah manfaat yang diperoleh negara melalui perjanjian tersebut?

- A Menerima pinjaman dana
- B Menentukan harga komoditi
- C Mendapat pengecualian cukai
- D** Memperoleh bantuan teknikal

20 Apakah peranan Malaysia dalam Pertubuhan Kerjasama Islam (OIC) ?

MUKA SURAH
216

- I Menubuhkan UIAM
- II Menawarkan biasiswa
- III Mencadangkan SEAMEO
- IV Menamatkan perang

- A** I dan II C II dan III
- B I dan IV D III dan IV

21 Rajah berikut berkaitan tentang manfaat yang diperoleh melalui hubungan luar Kesultanan Melayu Melaka pada abad ke-15.

195

Faedah dari hubungan luar	<ul style="list-style-type: none"> • Penguasaan perdagangan • Menjamin kemakmuran • Pusat penyebaran Islam • Perakuan kedaulatan • X
---------------------------	--

Apakah X ?

- A** Mengekalkan kestabilan
- B Menerima perutusan
- C Monopoli sumber
- D Mengelakkan pencerobohan

22 Apakah faktor yang mempengaruhi penggubalan dasar luar Malaysia?

197

- I Ikatan sejarah
 - II Politik serantau
 - III Sumber ekonomi
 - IV Keperluan nasional
- A I dan II C II dan III
B I dan IV D III dan IV

23 Mengapakah hubungan baik dengan negara luar perlu diteruskan?

196

- A Mengekalkan kepimpinan negara
- B Menarik pelabur asing
- C Menjamin pasaran ekonomi
- D** Melindungi kepentingan nasional

24 Sejak mencapai kemerdekaan pada 1957, Malaysia menggubal dasar luar yang dinamik.

197

Mengapakah dasar tersebut diambil?

- A Menarik pelabur
- B Menjamin pasaran
- C** Menjaga kedaulatan
- D Memupuk hubungan

25 Malaysia turut memberikan sumbangan besar dalam menjayakan misi pengaman anjuran PBB. Apakah tugas pasukan pengaman PBB?

200

- I Memastikan keselamatan penduduk
 - II Mengawasi senjata
 - III Memulihkan ekonomi negara
 - IV Menghapuskan tentera pemberontak
- A** I dan II C II dan III
 B I dan IV D III dan IV

26 Dialog berikut berkaitan sumbangan Malaysia dalam pertubuhan antarabangsa.

207

Ahmad : *Malaysia lantang menentang dasar Aparteid*
 Muthu : *Ini menyebabkan Afrika Selatan menarik diri dari pertubuhan tersebut .*

Apakah pertubuhan yang dimaksudkan oleh Muthu?

- A Pertubuhan Bangsa-Bangsa Bersatu (PBB)
- B** Komanwel
- C OIC
- D NAM

27 Gambar berikut berkaitan pelibatan Malaysia dalam Pertubuhan Bangsa-Bangsa Bersatu (PBB)

198



Tan Sri Dato' Razali Ismail mewakili Malaysia di PBB

Apakah syarat Malaysia diterima dalam pertubuhan tersebut?

- A Mengamalkan demokrasi
- B Menghapuskan komunis
- C Mendukung hak asasi
- D** Mencapai kemerdekaan

28 Rajah berikut berkaitan cabaran yang ditempuhi melalui dasar luar negara.

218



Apakah X?

- A** Pembangunan ekonomi
- B Perubahan pemimpin
- C Hubungan diplomatik
- D Hutang negara

29 Apakah faedah Malaysia peroleh melalui penganjuran sukan Komanwel 1998?

207

- A Mempromosikan industri
- B** Menonjolkan kewibawaan
- C Menggalakan persaingan
- D Mengeratkan hubungan

30 Mengapa pemimpin dunia perlu menyokong tindakan Malaysia menentang Dasar Apartied?

207

- A Pengeksploitasian ekonomi
- B Pencerobohan wilayah
- C Penindasan wanita
- D** Pencabulan hak

Soalan 31 dan 32 berdasarkan jadual di bawah.

31
MUKA SURAH
195

Tokoh	Bentuk dasar luar
Tunku Abdul Rahman Putra al-Haj	ProBarat dan anti komunis
Tun Abdul Razak Hussein	X

Jadual berikut menunjukkan perkembangan dasar luar selepas kemerdekaan negara. Apakah X ?

- A Dasar Pandang ke Timur
- B Dasar Setia kawan
- C Dasar anti-Barat
- D Dasar Berbaik-baik**

32
MUKA SURAH
197

Apakah kesan terhadap negara sekiranya dasar luar tidak berubah kepada X?

- I Kedaulatan terancam
- II Kemelesetan ekonomi
- III Penjajahan bentuk baharu
- IV Pandangan tidak dihormati

- A I dan II C II dan III
- B I dan IV D III dan IV**

33
MUKA SURAH
210

Apakah kesan terhadap Malaysia sekiranya negara anggota ASEAN hidup berpecah belah?

- A Keselamatan terganggu**
- B Rusuhan kaum
- C Perang saudara
- D Ekonomi merudum

34
MUKA SURAH
214

Apakah bukti kewibawaan pemimpin Malaysia diiktiraf di peringkat antarabangsa?

- A Pengerusi Tetap Komanwel
- B Bendahari Majlis Ekonomi dan Sosial PBB
- C Ketua Penyelaras Penyelidikan G24
- D Setiausaha Agung OIC**

35
MUKA SURAH
213

Jadual berikut berkaitan tentang peranan Malaysia dalam Pergerakan Negara-Negara Tanpa Pihak (NAM).

Peranan Malaysia dalam Pergerakan Negara-Negara Tanpa Pihak (NAM)	Menyuarakan isu pencerobohan hak asasi
	<ul style="list-style-type: none"> • Dasar Aparteid • Isu Bosnia dan Herzegovina

Apakah saranan Malaysia bagi menangani isu tersebut?

- I Tekanan politik
- II Gantung keahlian
- III Lucut jawatan
- IV Boikot produk

- A I dan II C II dan III**
- B I dan IV D III dan IV

36
MUKA SURAH
204

Rajah berkaitan tokoh negara yang banyak memberi sumbangan kepada pertubuhan antarabangsa.

Tokoh	Bentuk dasar luar
Tan Sri Razali Ismail	Penolong Setiausaha Agung Pembangunan Ekonomi PBB
Tan Sri Aboo Samah Aboo Bakar	Pemerintah Tertinggi UNOSOM II di Somalia

Apakah nilai yang boleh diambil hasil kejayaan tokoh tersebut ?

- A Bersyukur
- B Berbangga**
- C Bertoleransi
- D Berdiplomasi

37
MUKA SURAH
209

Mengapakah Malaysia menandatangani perjanjian sempadan dengan Thailand pada tahun 1956?

- A Memperoleh bahan mentah
- B Meminta bantuan tentera
- C Menjamin pasaran ekonomi
- D Menangani isu keselamatan**

38
MUKA SURAH
210

Jadual berikut berkaitan dengan Persatuan Negara-Negara Asia Tenggara (ASEAN)

Tarikh	27 November 1971
Tempat	Kuala Lumpur
Peristiwa	Mesyuarat Menteri-Menteri Luar Asean

Apakah keputusan yang dicapai hasil mesyuarat tersebut?

- A Penubuhan Pusat Kajian Bahasa Inggeris (RELC)
- B Pembentukan Perundingan Ekonomi Asia Timur (EAEC)
- C Pengisytiharan Zon Aman, Bebas dan Berkecuali (ZOPFAN)**
- D Pembinaan Pusat Serantau untuk Sains dan Matematik (RESCAM)

39
MUKA SURAH
199

Maklumat berikut berkaitan bandar di Malaysia yang menerima pengiktirafan sebagai Tapak Warisan Dunia oleh agensi PBB

Tahun	Bandar
2008	Pulau Pinang dan Melaka

Apakah agensi PBB yang memberi pengiktirafan tersebut?

- A WHO C UNHCR
- B UNESCO D FAO**

40
MUKA SURAH
208

Sidang Kemuncak Ketua-Ketua Negara ASEAN telah diadakan di Bali pada tahun 1976.

Mengapakah diadakan persidangan tersebut?

- A Membincangkan pergolakan di Indochina**
- B Mengatasi ancaman komunis di Thailand
- C Menamatkan dasar Konfrantasi Indonesia
- D Menangani campurtangan di Vietnam

Tingkatan 5

1 **226** Kemampuan Malaysia menangani pelbagai isu dengan baik tanpa konflik menunjukkan bahawa pemimpin negara memiliki sifat

- A Prihatin
- B Bijaksana**
- C Toleransi
- D Sensitif

2 **228** Jadual di bawah berkaitan tindakan gerakan antiminyak kelapa sawit Malaysia.

Negara	Pertubuhan	Tindakan
Amerika Syarikat	American Soybean Association (ASA)	X

Apakah alasan bagi tindakan X ?

- A Memusnahkan ekosistem**
- B Menggugat pengeluaran
- C Menjejaskan kesihatan
- D Menambahkan pendapatan

3 **234** Mengapakah Malaysia memperjuangkan isu Palestin?

- A Menentang warna kulit
- B Menghapus wilayah jajahan
- C Membantu kemerdekaan negara
- D Membela hak rakyat**

4 **236** Bagaimanakah Malaysia membantu krisis di Syria?

- I Membina hospital
 - II Menyumbang makanan
 - III Menerima pelarian
 - IV Menjadi perunding
- A I dan II **C II dan III**
B I dan IV D III dan IV

5 **236** Jadual berikut berkaitan kerjasama Malaysia dalam pembangunan ekonomi di ASEAN.

Pertubuhan	Wilayah terlibat
IMT-Gt	Indonesia, Malaysia dan Thailand
SIJORI-GT	Singapura, Johor dan Riau
BIMP-EAGA	Brunei, Indonesia, Malaysia dan Philipina

Mengapakah kerjasama tersebut diwujudkan?

- I Mengurangkan kadar cukai
 - II Mengatasi peningkatan harga
 - III Menghapuskan monopoli pasaran
 - IV Menamatkan kebergantungan kewangan
- A I dan II **C II dan III**
B I dan IV **D III dan IV**

6 **231** Peta berikut berkaitan kerjasama pembangunan ekonomi antara wilayah di tiga buah negara.



Peta: Lingkungan kawasan SIJORI-GT

Apakah faedah dari kerjasama tersebut ?

- A Menambahkan keluasan dagangan
- B Mengecilkan kos pengeluaran
- C Mengurangkan monopoli pasaran**
- D Meningkatkan kadar keuntungan

7 **238** Maklumat berikut berkaitan dengan Deklarasi Langkawi

Tarikh	Mesyuarat
Oktober 1989	Mesyuarat Ketua-Ketua Negara Komanwel

Apakah hasil deklarasi tersebut ?

- A Memansuhkan tarif
- B Menghapuskan cukai
- C Menangani isu alam sekitar**
- D Mengawal perubahan iklim

8 **239** Mengapalah Malaysia menunjukkan kesungguhan dalam memulihara alam sekitar kepada dunia ?

- A Menjamin sumber ekonomi
- B Mengekalkan kesihatan penduduk
- C Mewariskan generasi akan datang**
- D Mengeratkan hubungan antarabangsa

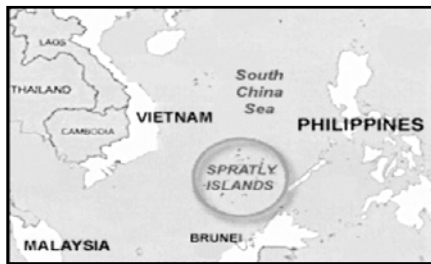
9 **243** Apakah kesan fenomena jerebu terhadap negara?

- I Memudaratkan kesihatan
 - II Menjejaskan penglihatan
 - III Merugikan ekonomi
 - IV Mengurangkan pergerakan
- A I dan II** C II dan III
B I dan IV D III dan IV

10 **244** Mengapakah kemasukan PATI ke Malaysia perlu dibendung?

- A Mengancam ketenteraman**
- B Mewujudkan persaingan
- C Menjejaskan kesihatan
- D Merampas wilayah

11 BUKLA SURAH 227 Peta berikut berkaitan isu global di kawasan kepulauan



Peta : Kedudukan Kepulauan Sparty

Apakah isu yang di maksudkan?

- A Pembinaan pangkalan tentera
- B Perebutan kawasan wilayah**
- C Penempatan pelarian asing
- D Penangkapan zon perikanan

12 BUKLA SURAH 229 Mengapakah Malaysia menjadi pusat transit bagi aktiviti pemerdagangan orang ke negara lain?

- A Kestabilan politik
- B Kekayaan negara
- C Kedudukan strategik**
- D Kelonggaran penguatkuasaan

13 BUKLA SURAH 229 AFTA merupakan perjanjian perdagangan bebas yang dibuat oleh ASEAN untuk manfaat negara anggota. Apakah manfaat perjanjian tersebut?

- I Memantapkan sistem keselamatan
- II Menghapuskan dominasi ekonomi
- III Menjadikan tempat pengeluaran
- IV Mengurangkan kadar tarif

- A I dan II C II dan III
- B I dan IV **D III dan IV**

14 BUKLA SURAH 230 Dialog berikut berkaitan sistem ekonomi yang dijalankan oleh sesebuah negara.

X	Bayaran yang dikenakan oleh kerajaan terhadap sesuatu barang dan perkidmatan yang diimport
---	--

Apakah X?

- A Cukai
- B Embargo
- C Levi
- D Tarif**

15 BUKLA SURAH 232 Apakah bukti pencapaian Malaysia dalam usaha mengantarabangsakan sistem kewangan Islam?

- A Menjadi pelabur dana**
- B Memperkenalkan hub halal
- C Memperkenalkan dinar emas
- D Mewujudkan kerjasama ekonomi

16 BUKLA SURAH 235 Bagaimanakah rakyat Malaysia menunjukkan sokongan kepada rakyat Palestin yang menjadi mangsa kekejaman Israel ?

- I Menyertai misi pengaman
- II Menghantar bantuan makanan
- III Mewujudkan tabung sumbangan
- IV Menyediakan kelengkapan perang

- A I dan II **C II dan III**
- B I dan IV D III dan IV

17 BUKLA SURAH 238 Maklumat berikut berkaitan pelibatan Malaysia dalam persidangan antarabangsa.

Apakah hasil daripada persidangan tersebut?

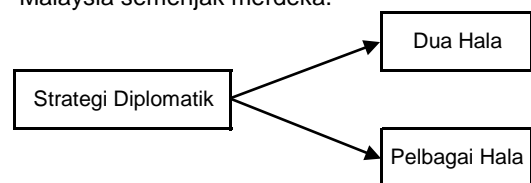
- I Menyarankan penggunaan teknologi hijau
- II Memastikan kelestarian alam sekitar
- III Menggalakan penggunaan tenaga solar
- IV Mengurangkan pembebasan gas rumah hijau

- A I dan II C II dan III
- B I dan IV **D III dan IV**

18 BUKLA SURAH 241 Isu Antartika merupakan antara kejayaan Malaysia dalam menangani isu global. Bagaimanakah Malaysia menempa kejayaan dalam isu tersebut?

- A Mewujudkan pusat sekretariat
- B Menjadikan warisan sejagat**
- C Mengetuai misi penyelidikan
- D Menempatkan saintis tempatan

19 BUKLA SURAH 245 Rajah berikut berkaitan dengan strategi dasar luar Malaysia semenjak merdeka.



Apakah kesan amalan strategi tersebut kepada negara?

- A Menaikkan imej**
- B Memajukan ekonomi
- C Mewujudkan perpaduan
- D Menstabilkan pemerintahan

20 BUKLA SURAH 237 Dialog berikut berkaitan sikap rakyat Malaysia tentang musibah yang dihadapi oleh masyarakat dunia.

Raju : *Bencana tsunami telah memusnahkan banyak harta dan nyawa penduduk Aceh dan Sri Lanka .*

Ramli : *Baik kita bantu mereka dengan sumbangan makanan dan perubatan .*

Apakah sikap yang ditonjolkan dalam dialog tersebut?

- A Pemurah
- B Perpaduan
- C Persaudaraan
- D Perikemanusiaan**

21 Apakah isu global yang dihadapi oleh Malaysia ?

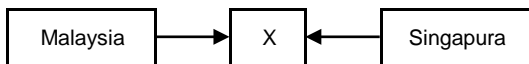
226

- I Kekejaman komunis
- II Kejatuhan mata wang
- III Pertindihan sempadan
- IV Pemerdagangan orang

- A I dan II
- B I dan IV
- C II dan III
- D III dan IV

22 Rajah berikut berkaitan dengan isu tuntutan sempadan yang dihadapi oleh Malaysia.

227



Apakah X ?

- A Pulau Ligitan
- B Pulau Sipadan
- C Pulau Batu Putih
- D Pulau Layang-layang

23 Mengapakah Kepulauan Spratly menjadi rebutan antara negara-negara berliku?

227

- China
- Vietnam
- Brunei
- Filipina

- I Kedudukan strategik
- II Kepelbagaian deversiti
- III Kemudahan pelabuhan
- IV Kepentingan ekonomi

- A I dan II
- B I dan IV
- C II dan III
- D III dan IV

24 Apakah isu ekonomi yang dihadapi Malaysia di peringkat global ?

228

- A Spekulasi mata wang
- B Kegiatan perlanunan
- C Kempen antiminyak sawit
- D Sindiket pemerdagangan orang

25 Manakah pasangan yang **tepat** tentang sistem percukaian .

230

Pilihan	Cukai	Tarif
A	Bayaran yang dikenakan terhadap orang perseorangan	Bayaran yang dikenakan terhadap barang dan perkhidmatan import
B	Bayaran yang dikenakan terhadap negara luar	Bayaran yang dikenakan terhadap orang perseorangan
C	Bayaran yang dikenakan terhadap orang perseorangan	Bayaran yang dikenakan terhadap negara luar
D	Bayaran yang dikenakan terhadap negara luar	Bayaran yang dikenakan terhadap barang dan perkhidmatan eksport

26 Apakah persamaan peranan pertubuhan berikut?

228

- American Soybean Association (ASA)
- NGO Pencinta Alam di Eropah

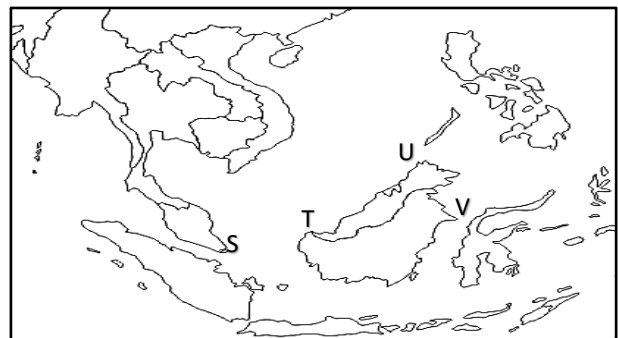
- A Mengatasi isu pemerdagangan orang
- B Melancarkan gerakan antiminyak sawit
- C Mendesak penggunaan teknologi hijau
- D Mempromosi kebaikan minyak masak

27 Malaysia menggunakan pendekatan berhemah untuk menyelesaikan kempen antiminyak sawit. Mengapakah pendekatan tersebut digunapakai?

228

- A Mendapat sokongan dunia
- B Menjaga imej negara
- C Mengelak sebarang konflik
- D Menolak dominasi ekonomi

Soalan 28 dan 29 berdasarkan peta di bawah.



Peta Asia Tenggara

28 Malaysia turut terlibat dalam isu tuntutan sempadan dan hak milik bertindih dengan negara lain. Manakah tuntutan yang menjadi hak milik Malaysia?

227

- A S
- B T
- C U
- D V

29 Manakah kedudukan Pulau Batu Putih ?

227

- A S
- B T
- C U
- D V

30 Pantun berikut berkaitan nilai kemanusiaan.

241

Gunung Tahan sama didaki
Sungai Pahang sama direnangi
Jikalau semua bersatu hati
Semua masalah dapat diatasi

Apakah nilai yang perlu diamalkan pemimpin negara bagi menyelesaikan sebarang konflik?

- A Berdiplomasi
- B Berdedikasi
- C Berwibawa
- D Berdikari

31 MARKA SUKSES
230 Ekonomi dunia didominasi oleh negara maju. Apakah kesan tindakan tersebut terhadap negara Malaysia?

- I Pelaksanaan pembayaran levi
- II Pelbagai sekatan dikenakan
- III Pengenalan sistem tarif
- IV Penyusutan nilai wang

- A I dan II **C** II dan III
- B I dan IV D III dan IV

32 MARKA SUKSES
232 Pada tahun 1997 hingga 1998, negara-negara Asia juga tidak terlepas dari kemelesetan ekonomi dunia. Mengapakah berlaku situasi tersebut?

- A Berlaku masalah inflasi
- B Kenaikan harga barang
- C Pasaran kilang terhad
- D** Spekulasi mata wang

33 MARKA SUKSES
234 Maklumat berikut merupakan Pertubuhan Bukan Kerajaan (NGO) yang membantu Palestin.

- Diasaskan oleh Muhammad Nadir Al
- Beroperasi sejak 2013
- Melancarkan Projek Ramadhan 2020
- Melancarkan kutipan dan sumbangan

Apakah NGO tersebut?

- A Aman Malaysia
- B** Cinta Gaza Malaysia
- C Muslim Care Malaysia
- D Yayasan Dakwah Islam Malaysia

34 MARKA SUKSES
237 Fatimah ingin melibatkan diri dalam misi kemanusiaan membantu anak yatim yang ditimpa bencana. Manakah Pertubuhan Bukan Kerajaan (NGO) yang boleh merealisasikan hasrat beliau?

- I Global Peace Mission (GPM)
- II Malaysian Medical Relief Society (MERCY)
- III Angkatan Belia Islam Malaysia (ABIM)
- IV Yayasan Restu

- A I dan II **C** II dan III
- B I dan IV D III dan IV

35 MARKA SUKSES
237 Apakah bentuk bencana yang menimpa Aceh dan Sri Lanka pada tahun 2004?

- A Banjir
- B** Tsunami
- C Kebuluran
- D Jerebu

36 MARKA SUKSES
238 Apakah maksud kelestarian global?

- A Memulihkan kemusnahan alam
- B Melindungi sumber perhutanan
- C** Mengekalkan keaslian alam sekitar
- D Mewujudkan kawasan hutan simpan

37 MARKA SUKSES
242 Bagaimanakah komuniti ASEAN mengekalkan keamanan serantau?

- A Mempertingkatkan aset pertahanan
- B** Menyelesaikan konflik secara damai
- C Menghalang campurtangan pihak luar
- D Menandatangani perjanjian keselamatan

38 MARKA SUKSES
243 Maklumat berikut berkaitan tentang tindakan yang dilakukan oleh negara anggota ASEAN dalam menangani isu jerebu.

Matlamat	Tindakan
ASEAN Tanpa Jerebu 2020	<ul style="list-style-type: none"> • X • Aspek Undang - undang

Apakah X ?

- A Keselamatan
- B** Pentadbiran
- C Pendidikan
- D Keagamaan

39 MARKA SUKSES
244 Mengapakah Malaysia tindak membenarkan kapal yang membawa senjata nuklear berlabuh di perairan negara?

- A Meningkatkan maruah negara
- B Menyokong hak asasi manusia
- C** Mengelakkan konflik yang besar
- D Mengurangkan tekanan negara maju

40 MARKA SUKSES
244 Maklumat berikut berkaitan tentang isu Pendatang Tanpa Izin (PATI) ke Malaysia?

Faktor Penarik	Isu Pendatang Tanpa Izin (PATI)	Faktor Penolak
		<ul style="list-style-type: none"> • Kemiskinan • Peperangan

Apakah faktor penarik kemasukan PATI ke Malaysia?

- I Kekayaan hasil bumi
 - II Penduduk pelbagai kaum
 - III Pertumbuhan ekonomi pesat
 - IV Keadaan politik stabil
- A I dan II **C** II dan III
 - B I dan IV **D** III dan IV

Skema Jawaban

T4 BAB 1

1 A 11 A 21 D 31 A
2 B 12 B 22 B 32 B
3 C 13 A 23 B 33 D
4 A 14 A 24 A 34 C
5 B 15 A 25 B 35 B
6 B 16 B 26 D 36 B
7 C 17 C 27 A 37 A
8 A 18 B 28 B 38 C
9 C 19 B 29 A 39 B
10 B 20 D 30 B 40 B

T4 BAB 2

1 A 11 B 21 B 31 B
2 A 12 B 22 C 32 A
3 C 13 D 23 D 33 D
4 B 14 C 24 C 34 A
5 B 15 B 25 D 35 C
6 A 16 C 26 D 36 B
7 A 17 B 27 A 37 C
8 A 18 C 28 B 38 A
9 B 19 C 29 D 39 B
10 B 20 A 30 B 40 B

T4 BAB 3

1 C 11 C 21 C 31 B
2 A 12 B 22 B 32 A
3 C 13 D 23 A 33 D
4 C 14 D 24 A 34 D
5 B 15 D 25 C 35 C
6 D 16 B 26 A 36 C
7 B 17 C 27 D 37 B
8 D 18 B 28 A 38 B
9 D 19 A 29 A 39 B
10 D 20 D 30 C 40 C

T4 BAB 4

1 D 11 B 21 B 31 D
2 B 12 A 22 B 32 B
3 C 13 A 23 A 33 B
4 D 14 B 24 D 34 B
5 D 15 B 25 A 35 C
6 B 16 D 26 C 36 C
7 C 17 C 27 D 37 C
8 B 18 B 28 B 38 B
9 B 19 C 29 D 39 D
10 B 20 D 30 A 40 A

T4 BAB 5

1 A 11 A 21 B 31 D
2 C 12 D 22 B 32 C
3 A 13 D 23 A 33 A
4 D 14 A 24 C 34 B
5 A 15 D 25 B 35 C
6 B 16 C 26 C 36 A
7 A 17 A 27 A 37 A
8 C 18 D 28 B 38 D
9 D 19 C 29 D 39 B
10 C 20 D 30 B 40 D

T4 BAB 6

1 A 11 D 21 D 31 A
2 C 12 A 22 B 32 B
3 B 13 D 23 D 33 C
4 A 14 D 24 A 34 D
5 D 15 D 25 A 35 B
6 B 16 A 26 C 36 B
7 D 17 A 27 B 37 D
8 D 18 B 28 D 38 D
9 C 19 D 29 A 39 A
10 A 20 A 30 C 40 D

T4 BAB 7

1 A 11 C 21 D
2 D 12 A 22 D
3 A 13 D 23 C
4 C 14 D 24 A
5 C 15 A 25 B
6 C 16 A 26 D
7 D 17 A 27 D
8 D 18 A 28 B
9 A 19 B 29 A
10 D 20 A 30 B

T4 BAB 8

1 B 11 A 21 C
2 A 12 A 22 B
3 C 13 D 23 B
4 C 14 A 24 D
5 C 15 A 25 A
6 D 16 B 26 A
7 A 17 B 27 B
8 D 18 A 28 A
9 C 19 C 29 A
10 A 20 D 30 B

T4 BAB 9

1 B 11 A 21 D 31 B
2 D 12 B 22 A 32 C
3 C 13 B 23 A 33 C
4 C 14 B 24 B 34 B
5 C 15 C 25 D 35 A
6 D 16 D 26 C 36 D
7 C 17 A 27 C 37 C
8 B 18 B 28 C 38 D
9 B 19 A 29 B 39 C
10 A 20 C 30 C 40 C

T4 BAB 10

1 B 11 B 21 C 31 C
2 B 12 C 22 C 32 B
3 C 13 B 23 B 33 B
4 D 14 A 24 D 34 B
5 A 15 A 25 C 35 D
6 C 16 B 26 A 36 C
7 B 17 B 27 B 37 C
8 B 18 D 28 B 38 A
9 C 19 B 29 B 39 A
10 A 20 D 30 A 40 A

T5 BAB 1

1 A 11 D 21 D 31 B
2 A 12 B 22 C 32 C
3 D 13 A 23 A 33 B
4 C 14 D 24 C 34 D
5 D 15 A 25 B 35 A
6 A 16 C 26 D 36 D
7 B 17 D 27 C 37 B
8 B 18 C 28 D 38 C
9 D 19 D 29 A 39 C
10 B 20 C 30 D 40 C

T5 BAB 2

1 C 11 A 21 D 31 A
2 B 12 C 22 C 32 B
3 A 13 D 23 D 33 A
4 B 14 B 24 D 34 C
5 D 15 C 25 C 35 B
6 A 16 B 26 A 36 A
7 D 17 C 27 D 37 A
8 C 18 A 28 C 38 B
9 B 19 D 29 B 39 C
10 C 20 D 30 B 40 A

T5 BAB 3

1 A 11 B 21 A 31 B
2 A 12 D 22 C 32 A
3 D 13 D 23 B 33 B
4 D 14 B 24 A 34 B
5 A 15 A 25 A 35 C
6 D 16 B 26 A 36 D
7 C 17 B 27 B 37 A
8 B 18 A 28 D 38 B
9 A 19 D 29 A 39 C
10 C 20 C 30 B 40 C

T5 BAB 4

1 B 11 D 21 B 31 A
2 A 12 C 22 A 32 D
3 D 13 B 23 D 33 C
4 A 14 C 24 B 34 D
5 B 15 A 25 B 35 B
6 B 16 A 26 A 36 A
7 D 17 D 27 D 37 A
8 C 18 B 28 D 38 D
9 A 19 C 29 C 39 D
10 D 20 D 30 D 40 D

T5 BAB 5

1 C 11 A 21 A 31 C
2 D 12 B 22 C 32 D
3 C 13 A 23 B 33 D
4 B 14 C 24 B 34 B
5 D 15 B 25 C 35 C
6 D 16 A 26 A 36 B
7 A 17 A 27 D 37 A
8 D 18 B 28 B 38 D
9 D 19 B 29 A 39 B
10 C 20 A 30 C 40 C

T5 BAB 6

1 B 11 C 21 B 31 A
2 A 12 B 22 C 32 B
3 D 13 D 23 A 33 B
4 C 14 C 24 D 34 D
5 A 15 A 25 D 35 A
6 D 16 D 26 A 36 C
7 B 17 A 27 B 37 C
8 C 18 D 28 D 38 B
9 A 19 C 29 D 39 D
10 B 20 B 30 C 40 A

T5 BAB 7

1 D 11 A 21 C 31 A
2 B 12 A 22 B 32 C
3 B 13 A 23 B 33 B
4 B 14 A 24 C 34 A
5 A 15 B 25 A 35 A
6 C 16 A 26 B 36 B
7 C 17 C 27 B 37 A
8 A 18 C 28 D 38 C
9 A 19 D 29 D 39 C
10 B 20 D 30 D 40 B

T5 BAB 8

1 B 11 A 21 D 31 C
2 C 12 A 22 A 32 C
3 C 13 A 23 D 33 A
4 D 14 B 24 A 34 B
5 A 15 C 25 A 35 B
6 A 16 C 26 C 36 D
7 C 17 A 27 B 37 D
8 B 18 C 28 B 38 A
9 C 19 C 29 C 39 B
10 B 20 B 30 B 40 A

T5 BAB 9

1 A 11 D 21 A 31 D
2 C 12 C 22 B 32 B
3 D 13 B 23 D 33 A
4 B 14 C 24 C 34 D
5 C 15 B 25 A 35 A
6 B 16 D 26 B 36 B
7 B 17 B 27 D 37 D
8 D 18 A 28 A 38 C
9 D 19 D 29 D 39 B
10 A 20 A 30 D 40 A

T5 BAB 10

1 B 11 B 21 D 31 C
2 A 12 C 22 C 32 D
3 D 13 D 23 B 33 B
4 C 14 D 24 C 34 D
5 D 15 A 25 A 35 B
6 C 16 C 26 B 36 C
7 C 17 D 27 C 37 B
8 C 18 B 28 D 38 B
9 A 19 A 29 A 39 C
10 A 20 D 30 A 40 D



Hak Cipta Terpelihara.

Tidak dibenarkan mengeluarkan mana - mana bahagian artikel, ilustrasi dan isi kandungan modul ini dalam apa juga bentuk dan cara sama ada secara elektronik, fotokopi, mekanik rakaman atau cara lain sebelum mendapat izin bertulis daripada Jabatan Pendidikan Negeri Perak.

Penerbit :
©Sektor Pembelajaran,
Jabatan Pendidikan Negeri Perak
Jalan Tawas Baru Utara, Tasek Damai,
30010, Ipoh, Perak Darul Ridzuan
Tel: 05-292 2745 / 05- 292 3603
Faks : 05 – 292 3851
2022

