

SULIT

**GEMPUR KECEMERLANGAN TINGKATAN 5
SESI AKADEMIK 2023/2024**

**ANJURAN BERSAMA
MAJLIS PENGETUA SEKOLAH MALAYSIA
NEGERI PERLIS
DAN
MAJLIS GURU CEMERLANG NEGERI PERLIS**

**PERNIAGAAN
Kertas 1
Oktober 2023
1 jam 15 minit**

3766/1

JANGAN BUKA KERTAS PEPERIKSAAN INI SEHINGGA DIBERITAHU

1. Kertas soalan ini mengandungi 40 soalan objektif.
2. Jawab setiap soalan dengan menghitamkan ruang yang betul pada kertas jawapan yang disediakan.

Kertas soalan ini mengandungi 10 halaman bercetak.

[Lihat halaman sebelah

3766/1

SULIT

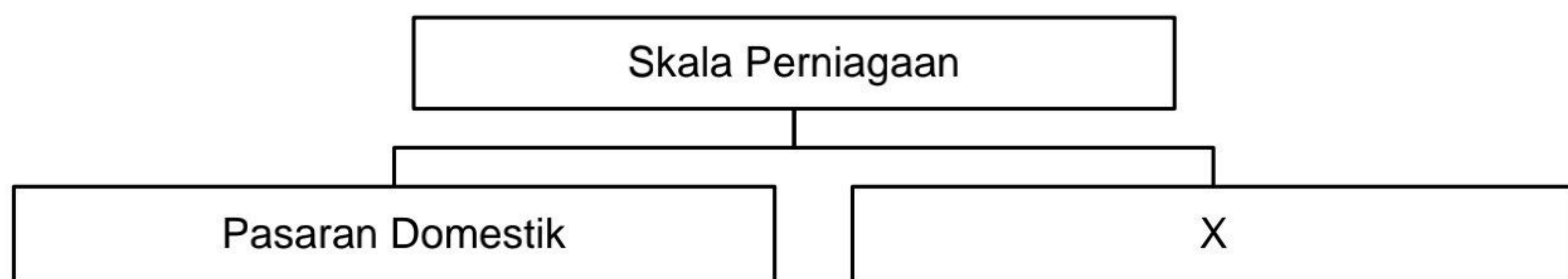
- 1 Pernyataan manakah menerangkan tujuan utama sesebuah perniagaan dijalankan?
- A Membina imej perniagaan
 B Menawarkan barang dan perkhidmatan
 C Membantu usahawan membina kerjaya
 D Memenuhi keperluan dan kehendak pengguna

- 2 Maklumat berikut berkaitan dengan bentuk pemilikan perniagaan.

- Liabiliti terhad
- Modal lebih besar
- Kewujudan kekal

Apakah bentuk pemilikan perniagaan tersebut?

- A Usaha sama
 B Perkongsian
 C Syarikat Awam Berhad
 D Syarikat Sendirian Berhad
- 3 Aktiviti manakah yang menerangkan sektor kedua?
- A Fariz bekerja sebagai akauntan di kilang kasut
 B Aizat mengusahakan penternakan udang secara komersil
 C Puan Wati mengusahakan kilang tembikar di Kuala Kangsar
 D Joshua bekerja secara pemandu pelancong di Tiram Tours Sdn Bhd
- 4 Rajah 1 berkaitan dengan skala perniagaan.



Rajah 1

Pernyataan manakah yang betul tentang X?

- A Urus niaga jual beli melibatkan mata wang tempatan
 B Perniagaan terlibat dalam perusahaan kecil dan sederhana
 C Peniaga menanggung kos rendah walaupun melibatkan operasi besar
 D Peniaga dapat mencapai sasaran pasaran merentasi sempadan negara

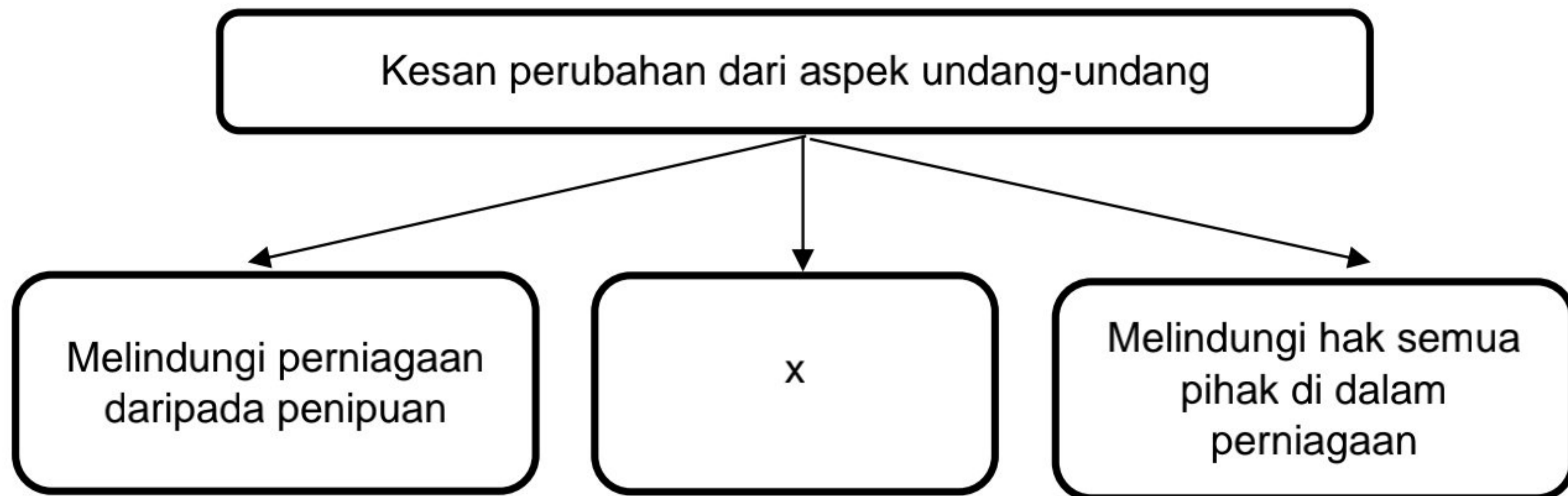
5. Pernyataan manakah yang benar tentang peranan kerajaan negeri dalam membantu perniagaan?
- I Mewujudkan kawasan industri
 - II Menggubal undang-undang kecil pasar
 - III Mengawal kenaikan harga barang dan perkhidmatan
 - IV Memberi pelepasan cukai dalam sektor-sektor tertentu
- A I dan II
 - B I dan IV
 - C II dan III
 - D III dan IV
6. Manakah antara berikut merupakan kesan trend menurun kepada ekonomi negara?
- A Permintaan barangan pengguna meningkat
 - B Perbelanjaan mengurus perniagaan meningkat
 - C Peningkatan pembayaran cukai kepada kerajaan
 - D Peningkatan kawalan kuantiti pengeluaran produk
7. Rajah 1 bawah menunjukkan graf jualan sebuah perniagaan untuk suatu tempoh.



Apakah faktor-faktor yang mempengaruhi graf di atas?

- I. Berlaku bencana alam
 - II. Aktiviti pemasaran yang berkesan
 - III. Gaya pengurusan yang cekap dan sistematik
 - IV. Penyelidikan dan pembangunan perniagaan tidak dilaksanakan
- A I dan II
 - B I dan IV
 - C II dan III
 - D III dan IV

- 8 Rajah 2 berkaitan dengan kesan perubahan yang wujud dari aspek undang-undang.



Akta manakah yang diperuntukkan untuk mewujudkan kesan X?

- A Akta Kontrak 1950
 - B Akta Syarikat 1965
 - C Akta Hakcipta 1987
 - D Akta Persaingan 2010
- 9 Apakah yang dimaksudkan dengan visi perniagaan?
- A Perancangan yang ingin dicapai dalam jangka panjang
 - B Penerangan tujuan penubuhan perniagaan
 - C Penetapan sasaran yang lebih khusus
 - D Pernyataan yang boleh diukur
- 10 Pernyataan berikut merupakan ciri suatu objektif perniagaan.

Objektif yang telah ditetapkan dapat dibandingkan dengan pencapaian pada sebelum dan selepas sesuatu perniagaan dilaksanakan.

Apakah ciri tersebut ?

- A Spesifik
 - B Boleh diukur
 - C Munasabah
 - D Jangka masa
11. Antara yang berikut, manakah yang merupakan kepentingan penetapan misi organisasi?
- I Sebagai asas untuk penentuan objektif organisasi
 - II Memudahkan pengagihan sumber organisasi secara tepat
 - III Membantu pihak pengurusan atasan menetapkan visi organisasi
 - IV Membantu pengurus bawahan menetapkan kuantiti pengeluaran
- A I dan II
 - B I dan IV
 - C II dan III
 - D III dan IV

12 Apakah tujuan bahagian fungsian dalam organisasi perniagaan?

- I Pengkhususan tugas
- II Mudah melatih pekerja baharu
- III Menghadkan kemahiran pekerja
- IV Meningkatkan kos melatih pekerja

- A I dan II
- B I dan IV
- C II dan III
- D III dan IV

13 Bahagian fungsian manakah yang wujud di dalam perniagaan besar?

- A Pentadbiran
- B Khidmat pelanggan
- C Pengurusan sumber manusia
- D Penyelidikan dan pembangunan (R&D)

14 Pernyataan berikut berkaitan dengan aktiviti dalam strategi meneroka pasaran baharu.

- Menjalankan promosi yang agresif di pasaran yang menjadi tumpuan
- Melibatkan diri atau organisasi dalam rundingan yang aktif melalui hubungan dua hala

Mengapakah aktiviti tersebut dilaksanakan?

- A Meneroka pasaran setempat
- B Meneroka pasaran tempatan
- C Meneroka pasaran domestik
- D Meneroka pasaran antarabangsa

15 Pernyataan manakah yang benar tentang interaksi antara perniagaan kecil dengan perniagaan besar dalam bahagian fungsian kewangan?

- A Perniagaan besar menyediakan kemudahan kredit kepada perniagaan kecil
- B Perniagaan kecil menjelaskan kredit kepada perniagaan besar mengikut tempoh masa yang ditetapkan
- C Perniagaan besar memastikan setiap bayaran dibuat oleh perniagaan perniagaan kecil mengikut kontrak perjanjian
- D Perniagaan kecil menyediakan sumber bajet yang mencukupi untuk menjelaskan hutang kepada perniagaan besar

16 Pernyataan manakah yang menerangkan maksud pengurusan sumber manusia?

- A Usaha untuk membina imej baik organisasi
- B Usaha untuk membangunkan tenaga kerja dalam organisasi
- C Usaha untuk mengurangkan risiko kerugian akibat kemerosotan perniagaan
- D Usaha untuk meningkatkan kecekapan sistem pentadbiran dalam organisasi

- 17 Antara yang berikut, yang manakah merupakan peranan pengurusan sumber manusia?
- I Mengendali mesin
 - II Membeli bahan mentah
 - III Mengiklan jawatan kosong
 - IV Mewujudkan semangat berpasukan
- A I dan II
 - B I dan IV
 - C II dan III
 - D III dan IV

- 18 *Pn. Eda berkelulusan ijazah dalam bidang perniagaan dan telah bekerja sebagai pembantu chef di sebuah hotel selama 2 tahun. Baru-baru ini beliau telah berjaya dalam temuduga sebagai Pegawai Khidmat Pelanggan di sebuah bank terkemuka.*

Yang manakah kemahiran kebolehterapan yang dimiliki oleh Pn. Eda?


- A Berpengalaman
 - B Berpengalaman dalam industri tertentu
 - C Mempunyai kelayakan yang bersesuaian
 - D Berpengetahuan tentang produk dan perkhidmatan
- 19 Maklumat berikut menunjukkan faktor penentu sistem penggajian yang diamalkan oleh sebuah organisasi:

Encik Arbaie telah bertugas sebagai pegawai pemasaran selama 5 tahun di Syarikat Cepat Tangkas Sdn. Bhd di Kuala Lumpur. Baru-baru ini beliau telah dinaikkan pangkat menjadi pengurus cawangan di Taiping dengan kenaikan gaji sebanyak 30%.

Apakah penentu sistem penggajian yang diterima oleh Encik Arbaie?

- A Faktor lokasi
 - B Bentuk dan jenis tugas
 - C Kemampuan organisasi
 - D Permintaan dan penawaran buruh
- 20 Cara yang betul untuk mengurus paten di Malaysia ialah :
- A Mendaftar dengan SSM
 - B Mendaftar dengan MyIPO
 - C Mendaftar dengan MATRADE
 - D Mendaftar dengan Majlis Kerajaan Tempatan

21 Gambar 1 menunjukkan sumber fizikal sebuah perniagaan.



Bagaimanakah Perniagaan Maju Sungguh Enterprise dapat menguruskan sumber - sumber fizikal di atas ?

- I Mendaftarkan dengan MyIPO
- II Mendapatkan perlindungan insurans
- III Melakukan penyelenggaraan secara berkala
- IV Memastikan sumber digantikan setiap tahun

- A I dan II
- B I dan IV
- C II dan III
- D III dan IV

22 Apakah kemudahan yang disediakan oleh Credit Guarantee Corporation Malaysia Berhad?

- A Memberikan kemudahan kredit kepada usahawan
- B Memberikan bantuan modal kepada usahawan untuk memulakan perniagaan
- C Memberikan geran dan insentif penyelidikan kepada syarikat yang melakukan inovasi
- D Memberi jaminan kredit kepada pihak bank untuk membantu usahawan mendapatkan pembiayaan

23 Syarikat Makanan Enak Banget berhasrat untuk membeli dan memiliki 3 buah mesin pengadun yang akan membantu mempercepatkan operasi pengeluaran mereka.

Apakah jenis pembiayaan luaran dari institusi kewangan yang sesuai untuk tujuan tersebut?

- A Sewa beli
- B Pemfaktoran
- C Modal permulaan
- D Pinjaman perniagaan

- 24 Situasi berikut berkaitan dengan sebuah syarikat yang memerlukan sumber pembiayaan.

Syarikat Pembinaan Sufian memerlukan pembiayaan segera untuk membayar gaji pekerja. Pada masa yang sama, syarikat juga memerlukan sebuah kren dan jentolak bagi kerja-kerja pembinaan dalam tempoh enam bulan.

Manakah antara yang berikut merupakan jenis pembiayaan luaran yang sesuai dipilih?

- I Pajak
 - II Overdraf
 - III Pemfaktoran
 - IV Simpanan peribadi
- A I dan II
 - B I dan IV
 - C II dan III
 - D III dan IV
- 25 Apakah kelemahan sumber pembiayaan dalaman kepada usahawan?
- A Tertakluk kepada terma dan syarat
 - B Memerlukan penjamin dan cagaran
 - C Menghadapi kos seperti faedah atas pinjaman
 - D Sukar menambah modal dalam masa yang singkat
- 26 Antara yang berikut, yang manakah merupakan pihak berkepentingan yang memerlukan penyata kewangan perniagaan?
- I Pekerja
 - II Pemilik
 - III Pemiutang
 - IV Penghutang
- A I dan II
 - B I dan IV
 - C II dan III
 - D III dan IV
- 27 Mengapakah penyediaan kunci kira-kira penting kepada seorang usahawan?
- A Merancang perjalanan operasi perniagaan
 - B Mengetahui jumlah keuntungan perniagaan
 - C Mengenalpasti tanggungan perniagaan kepada pihak luar
 - D Meramal pencapaian prestasi perniagaan pada masa hadapan

- 28 Maklumat di bawah ini berkaitan dengan maklumat kewangan Syarikat SQ Bhd. pada akhir tahun 2021.

<i>Item</i>	<i>RM</i>
Untung kasar	70 000
Untung bersih	40 000
Modal awal	500 000
Modal akhir	335 000

Kirakan peratusan pulangan atas modal bagi Syarikat SQ Bhd pada tahun 2021.

- A 7.7%
 B 8.0%
 C 9.5%
 D 10.0%
- 29 Pernyataan yang manakah menggambarkan tentang ciri-ciri utama seorang usahawan?
 A Usahawan yang tabah akan mudah berputus asa
 B Usahawan yang bijak akan pandai merebut peluang perniagaan
 C Usahawan yang berdikari akan sentiasa mengharap bantuan orang lain
 D Usahawan yang optimistik akan sentiasa membangunkan kehidupannya sahaja
- 30 Apakah kelebihan menjadi usahawan kepada masyarakat?
 A Mewujudkan sikap berdikari
 B Menyediakan peluang pekerjaan
 C Mewujudkan kerjasama serantau
 D Membuka peluang membina perniagaan baharu
- 31 Antara berikut, yang manakah kelebihan memilih berniaga sebagai peluang kerjaya?
 I Peluang kerjaya
 II Matlamat peribadi
 III Keberuntungan perniagaan
 IV Objektif masyarakat setempat
 A I dan II
 B I dan IV
 C II dan III
 D III dan IV
- 32 Maklumat berikut berkaitan bentuk pemilikan perniagaan.
- Bilangan pemegang syer sehingga 50 orang
 - Menggunakan perkataan "Sendirian" sebagai sebahagian nama kedainya
- Apakah akta berkaitan dengan penubuhan perniagaan tersebut?
 A Akta Syarikat 2016
 B Akta Koperasi 1993
 C Akta Pendaftaran Perniagaan 1956
 D Akta Perkongsian Liabiliti Terhadap 2016

- 33 Encik Saiful ingin menubuhkan sebuah Syarikat Sendirian Berhad. Apakah prosedur penubuhan perniagaan tersebut?
- A Permohonan carian nama syarikat, Melantik setiausaha syarikat, Permohonan pemerbadanan syarikat
 - B Permohonan kelulusan nama perniagaan, Notis pemerbadanan dikeluarkan oleh Suruhanjaya Syarikat Malaysia (SSM)
 - C Permohonan kelulusan nama perniagaan, Mengisi borang A, Menghantar borang bersama dokumen ke Suruhanjaya Syarikat Malaysia
 - D Permohonan carian nama syarikat, Permohonan pemerbadanan syarikat, Notis pemerbadanan dikeluarkan oleh Suruhanjaya Syarikat Malaysia (SSM)
- 34 Apakah tanggungjawab yang perlu dipatuhi oleh seorang peniaga selepas memperoleh sijil pendaftaran perniagaan?
- A Mengisi borang carian nama
 - B Menyediakan laporan kewangan
 - C Mempamerkan papan tanda perniagaan
 - D Menentukan bayaran dividen kepada pemegang saha
- 35 Apakah rekod transaksi akaun perniagaan di bank?
- A Slip bank
 - B Keratan cek
 - C Penyata bank
 - D Slip pindahan wang
- 36 Antara yang berikut, yang manakah merupakan dokumen perniagaan yang digunakan sebelum urus niaga bermula?
- I Invois
 - II Surat tanya
 - III Senarai harga
 - IV Borang pesanan
- A I dan II
 - B I dan IV
 - C II dan III
 - D III dan IV
- 37 Pernyata manakah yang digunakan untuk meramal dan mengetahui anggaran perolehan dan penggunaan wang tunai perniagaan bagi akhir tempoh perakaunan?
- A Kunci kira-kira
 - B Penyata aliran wang
 - C Penyata pendapatan
 - D Penyata penerimaan dan pembayaran tunai

- 38 Maklumat di bawah menunjukkan suatu bahagian fungsian.

Staf dalam bahagian fungsian ini akan menandatangani kontrak dengan pembekal agar pembekal janji membekal bahan mentah yang berkualiti.

Apakah bahagian fungsian di atas?

- A Pembelian
- B Kewangan
- C Pemasaran
- D Pentadbiran

- 39 Maklumat berikut berkaitan dengan satu dokumen.

Satu dokumen bertulis yang meliputi segala maklumat perniagaan termasuk isi, misi, dan sebagainya.

Apakah dokumen tersebut?

- A Rancangan perniagaan
- B Rancangan pemasaran
- C Rancangan kewangan
- D Rancangan pengeluaran

- 40 Pernyataan yang manakah menerangkan rancangan operasi ?

- A Menerangkan sumber modal perniagaan
- B Menerangkan maklumat sumber manusia
- C Menerangkan keperluan operasi perniagaan
- D Menerangkan maklumat perancangan kewangan

KERTAS SOALAN TAMAT.