

BANK SOALAN

DUNIA SAINS DAN TEKNOLOGI

TAHUN 1

dihujungpen.blogspot.com

-HIDUP BIARLAH BERBAKTI, WALAUPUN TIDAK DIPUJI-

Bahagian A

1. Manakah antara berikut adalah **benda hidup** ?



2. Manakah antara berikut adalah **benda bukan hidup** ?



3. Antara yang berikut, yang manakah boleh bernafas ?

a. susu

b. kipas

c. lembu

d. air

4. Apakah yang diperlukan oleh manusia untuk membesar ?

a.



b.



c.



d.



5. Pokok nanas dan pokok betik boleh _____ .

a. bernafas dan membiak

b. mewarna dan melukis

c. bergoyang dan berdiri

d. bergerak dan tidur

6. Kita menendang  menggunakan

a. muka

b. kepala

c. kaki

d. lutut

7. Apakah jenis anggota badan yang digunakan untuk memegang objek ?

a.



b.



c.



d.



8. Namakan bahagian anggota badan ini.




a. mulut

b. mata

c. hidung

d. pipi

9. Antara yang berikut, yang manakah gigi ?



10. Antara yang berikut, yang manakah itik ?

a.



b.



c.



d.



11. Pilih kumpulan haiwan yang mempunyai sesungut.

- a. semut dan rama – rama
- b. penyu dan kura – kura
- c. kucing dan burung
- d. ayam dan itik

12. Apakah bunyi yang dihasilkan oleh haiwan berikut?



- a. mengiau
- b. mengeruh
- c. mengembek
- d. menguek

13. Pilih haiwan yang boleh terbang.


a.



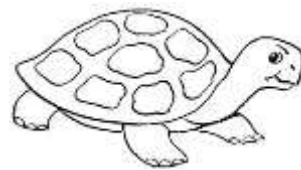
b.




c.



d.



14. Bahagian anggota haiwan yang dilabelkan x ialah




a. tanduk

b. ekor

c. telinga

d. paruh

15. Apakah persamaan di antara dua haiwan ini ?



a. bertanduk

b. berbulu

c. bercangkerang

d. bersisik

16. _____ mempunyai sisik dan boleh berenang.

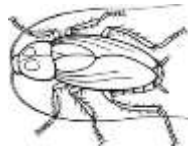
a. kura – kura

b. katak

c. ikan

d. udang

17. Apakah **perbezaan** di antara haiwan P dengan haiwan Q ?



P



Q

a. berkaki

b. berkepak

c. bersesungut

d. bermata

18. Antara yang berikut, yang manakah pokok rambutan ?


a.




b.



c.



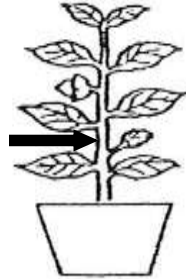
d.



19. Kumpulan tumbuhan manakah yang berbuah ?

Pilihan jawapan	buah I	buah II
a.	kaktus	paku pakis
b.	pokok bunga raya	rumput
c.	pokok kelapa	pokok pisang
d.	Pokok buluh	pokok pandan

20. Namakan bahagian tumbuhan yang ditunjukkan.



a. bunga

b. batang

c. daun

d. dahan

21. Produk yang ditunjukkan diperbuat daripada

_____ .




a. daun mengkuang

b. daun kelapa

c. sabut kelapa

d. daun pisang

22. Tumbuhan manakah yang mempunyai bahagian tumbuhan yang ditunjukkan ?



a. pandan

b. serai

c. paku pakis

d. pokok keembung

23. Objek manakah yang tidak diperbuat daripada bahagian tumbuhan ?

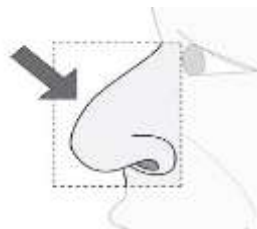
a. tudung saji

b. potpuri

c. mangkuk

d. tikar mengkuang

24. Hidung digunakan untuk _____ .



a. melihat

b. menghidu

c. mendengar

d. merasa


25. Mata melihat objek pelbagai warna, saiz dan _____ .

a. bentuk

b. bau

c. rasa

d. bunyi



26. Bas lebih _____ daripada kereta.

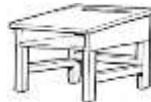
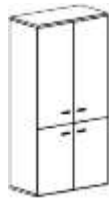
a. kecil

b. panjang

c. pendek

d. rendah

27. Yang manakah benar mengenai kedua – dua objek ini ?



almari

meja

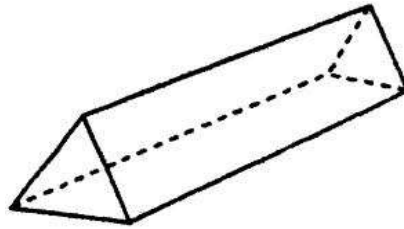
a. Almari lebih kecil daripada meja.

b. Meja lebih kecil daripada almari.

c. Almari lebih panjang daripada meja.

d. Meja lebih panjang daripada almari.

28. Apakah nama bentuk objek di bawah ?




a. piramid

b. segi tiga

c. prisma

d. silinder

29. Bentuk objek tersebut menyerupai objek _____ .




a. dadu

b. pinggan

c. cawan

d. kotak tisu

30. Apakah nama bentuk objek di bawah ini ?




a. sfera

b. silinder

c. bulat

d. segi empat sama

31. Apakah bentuk asas bagi objek yang ditunjukkan ?



a. segi empat sama

b. segi empat tepat

c. segi tiga

d. pyramid

32. Baju seragam sekolah murid berwarna _____ .

a. putih

b. merah

c. hijau

d. hitam



33. Warna buah ini mempunyai warna yang sama dengan buah _____ apabila masak ranum.

a. pisang

b. rambutan

c. durian

d. mangga

34. Objek manakah yang berbau busuk ?



- a. tong sampah
- b. sabun
- c. kuih – muih
- d. bunga ros

35. Minyak wangi _____ tetapi kertas _____ .

- a. busuk, wangi
- b. berbau, tidak berbau
- c. tidak berbau, berbau
- d. wangi, busuk

36. Yang manakah dikelaskan dengan betul ?

	Berbau	Tidak berbau
a	air	durian
b	bedak	tepung gandum
c	roti	biskut
d	air sirap	burger

37. Hidung hanya boleh menghidu benda yang _____ .

- a. tidak berbau
- b. berwarna
- c. berbau
- d. rasa

38. Antara yang berikut, yang manakah berbau hangus ?

a. ikan

b. rumah terbakar

c. tong sampah

d. minyak wangi

39. Rasa _____ masin.

a. minyak

b. kek

c. air laut

d. jus oren



40. Buah peria mempunyai rasa _____ .

a. pahit

b. manis

c. masin

d. masam

41. Susu yang sudah basi mempunyai rasa _____ .

a. manis

b. pahit

c. masin

d. masam

42. Kulit membantu kita _____ benda di sekeliling kita.



a. melihat

b. menghidu

c. merasa

d. menyentuh

43. Bagian badan manakah yang digunakan untuk menyentuh ?

a.



b.



c.



d.





44. "Wah, _____ periuk ini !" kata Iman.

- a. sejuknya
- b. panasnya
- c. kasarnya
- d. sakitnya

45. Pilih ciri luaran yang betul.

Pilihan jawapan	Objek	ciri luaran
a.	ketulan ais	panas
b.	nyalaan mancis	sejuk
c.	bedak	halus
d.	batang pokok	lembut

46. Objek manakah yang sesuai digunakan untuk mengelap badan bayi ?

a. tuala



b. sapu tangan



c. cadar



d. baju



47. Objek manakah yang mempunyai bunyi yang kuat ?

a. gerudi



b. jam



c. titisan air paip



d. menulis



48. Pilih objek yang timbul.

a.



b.



c.



d.

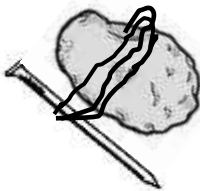


49. Kumpulan objek manakah yang akan tenggelam di dalam takungan air ?

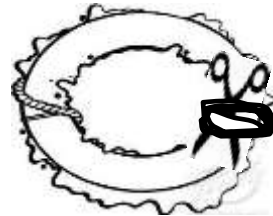
Pilihan jawapan	Kumpulan	Objek 1	Objek 2
a	1	batu	bateri
b	2	pensel	straw
c	3	pelampung	botol plastik
d	4	buah kelapa	gabus

50. Antara yang berikut, objek yang manakah akan timbul ?


a.



b.



c.



d.



Tandakan (\checkmark) pada benda hidup dan (X) pada benda bukan hidup.


51



52.



53.




54



Suaikan ciri – ciri benda hidup di bawah dengan gambar yang betul.

55.

perlukan air



56.

bergerak




57.

bernafas



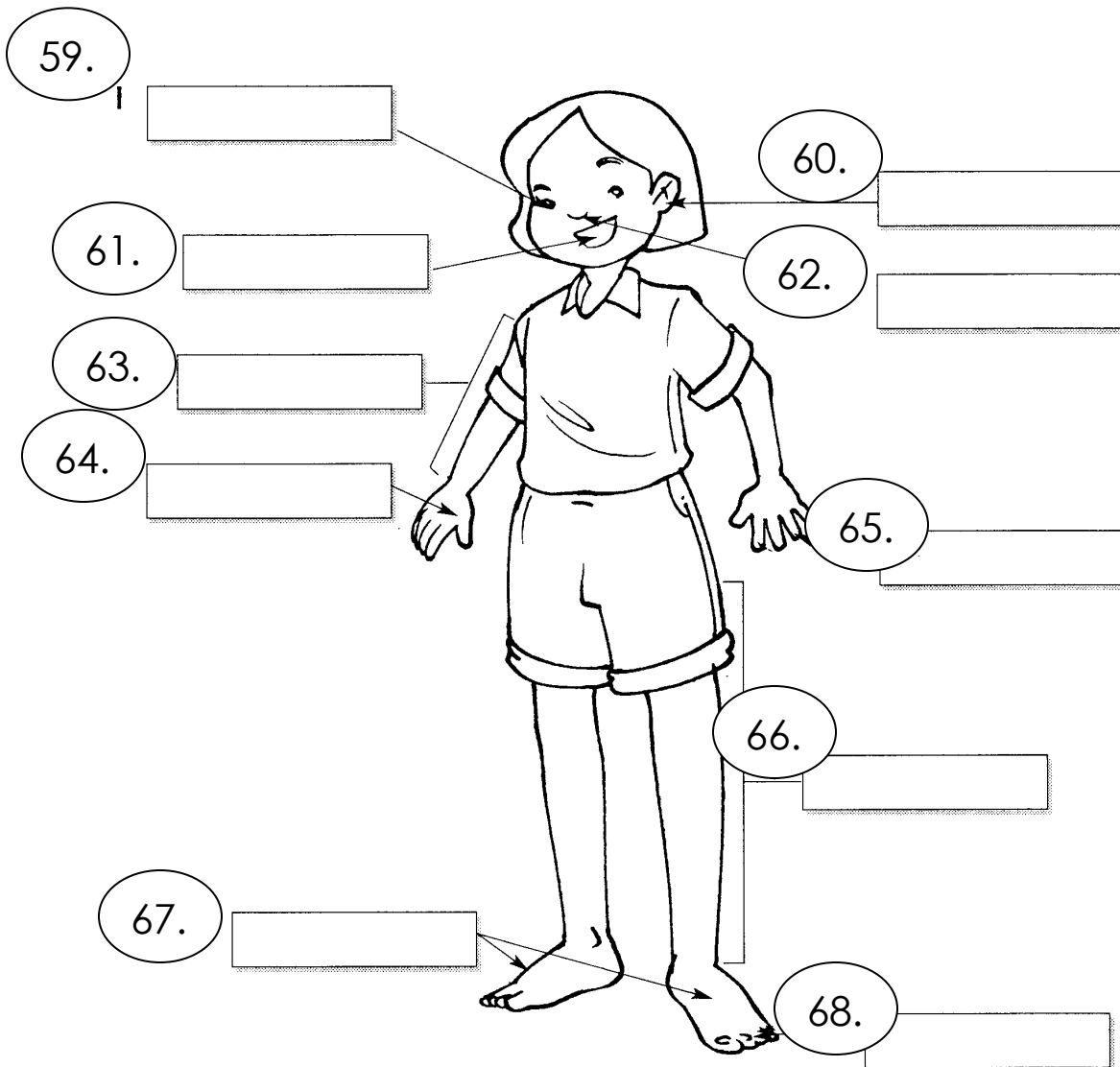
58.

membang

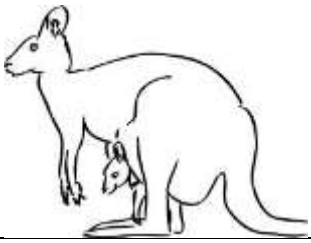



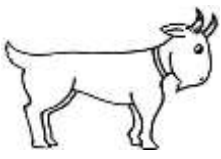









Isikan jawapan yang betul.

mulut	jari kaki	telinga	jari tangan	tangan
mata	lengan	hidung	tapak kaki	kaki



Warnakan haiwan yang sepadan dengan namanya.

69. katak			
70. lembu			
71. burung			
72. ikan			

(/ 4 markah)

Lengkapkan jawapan .

akar

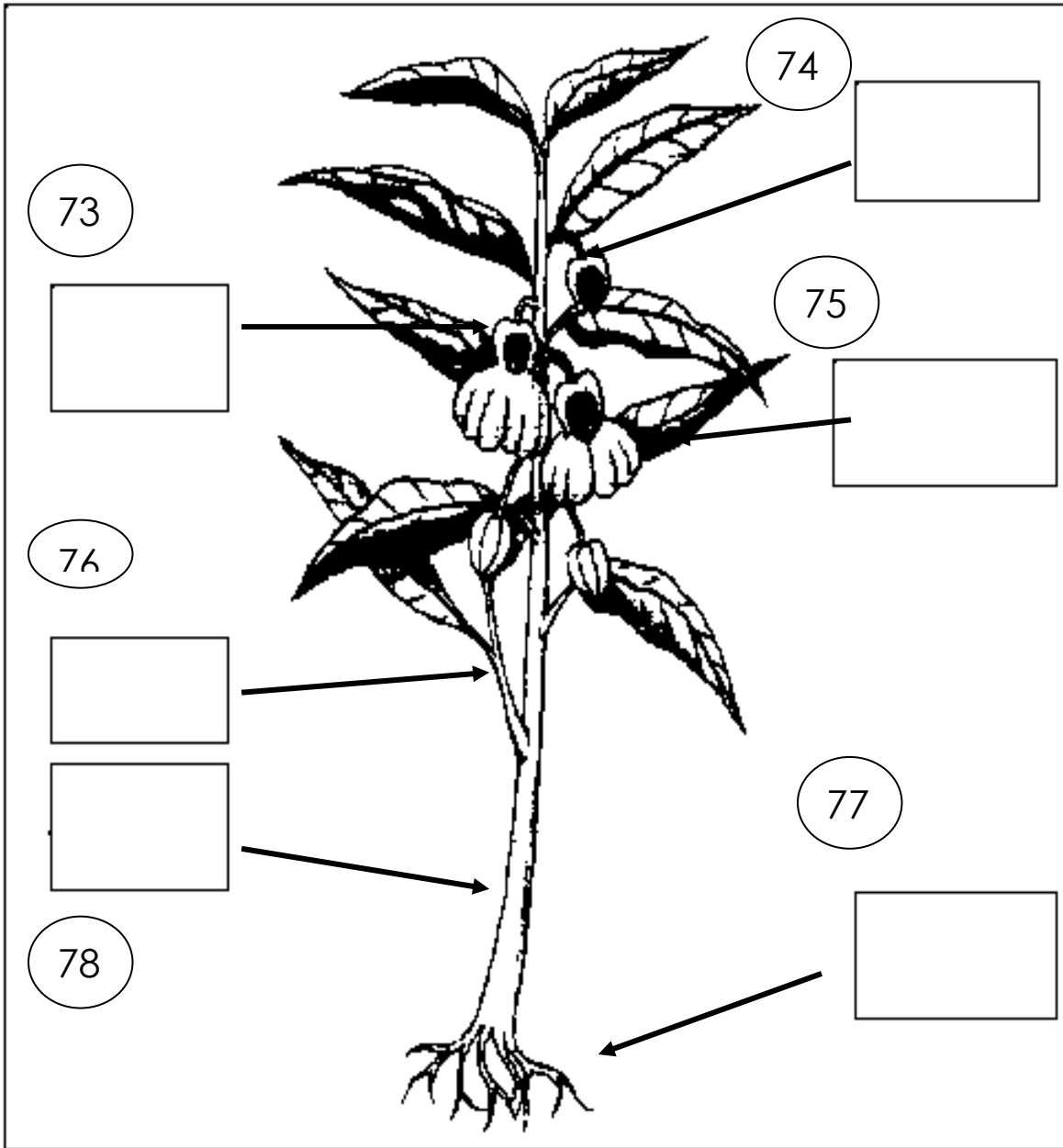
dahan

buah

batang

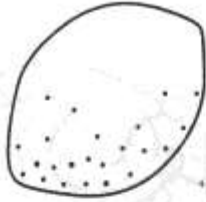
bunga

daun



Tulis 'masin', 'masam', dan 'pahit' bagi setiap jenis makanan.

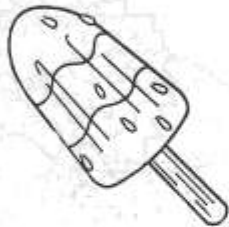
79



80



81



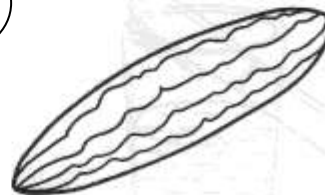
82



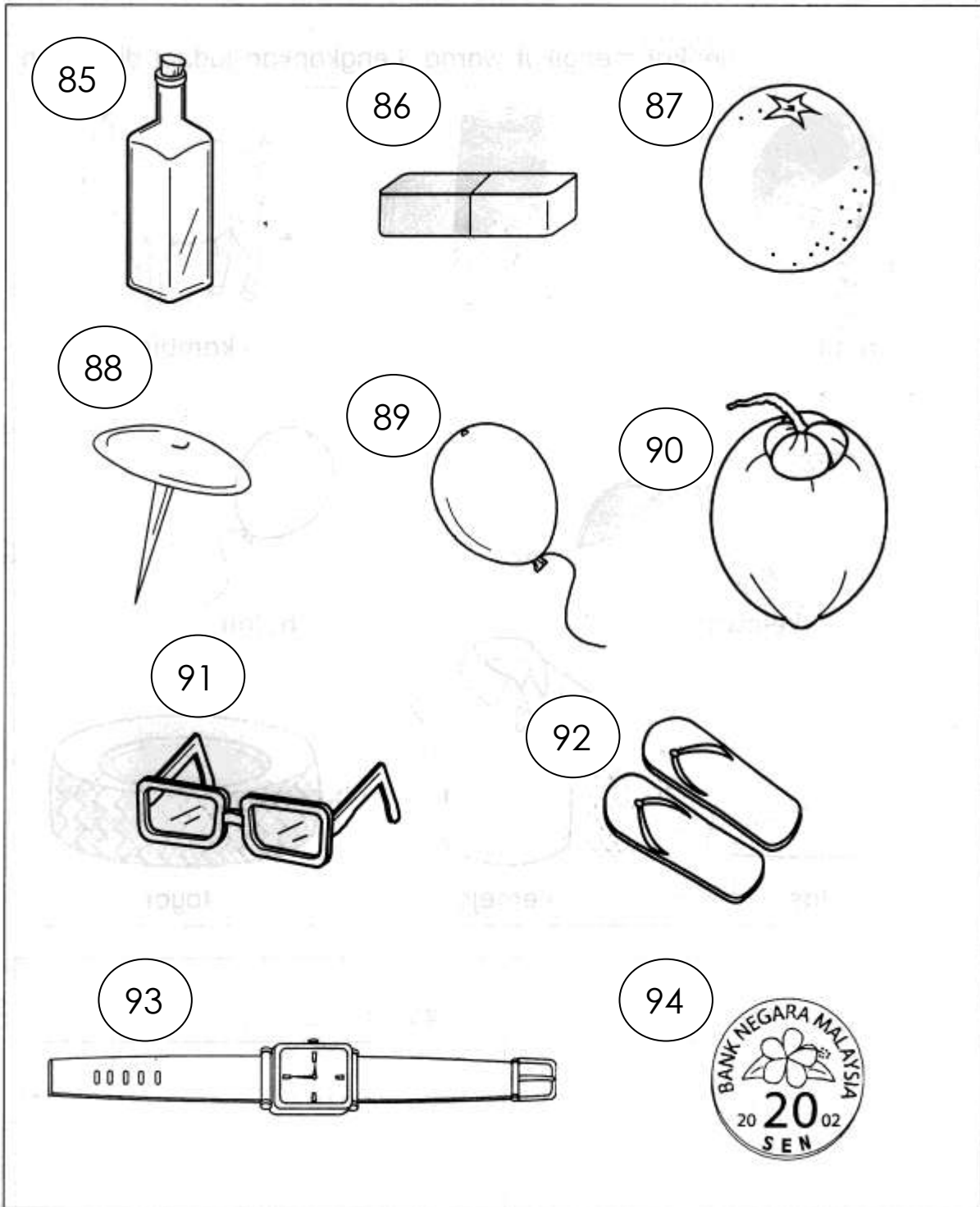
83



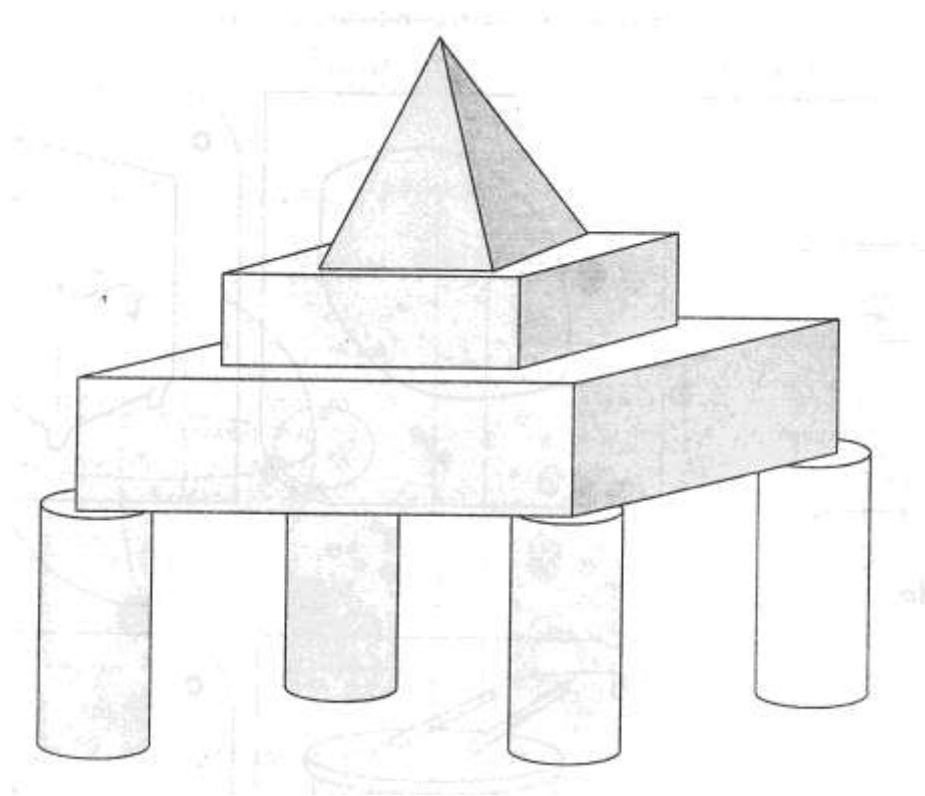
84



Bulat objek yang tenggelam dan pangkah objek yang timbul.



Kenalpasti dan tulis tiga bentuk asas berdasar gambar di bawah.



Bentuk asas	Bilangan
95.	96.
97.	98.
99.	100.