

NAMA :

TINGKATAN:

MODUL PENINGKATAN PRESTASI MURID TINGKATAN 5
TAHUN 2024

PENDIDIKAN MORAL

DUA JAM TIGA PULUH MINIT

JANGAN BUKA MODUL INI SEHINGGA DIBERITAHU

ARAHAN :

1. Modul ini mengandungi tiga bahagian iaitu Bahagian A, Bahagian B dan Bahagian C.
2. Bahagian A mengandungi lima soalan struktur ; Bahagian B mengandungi dua soalan esei pilihan dan Bahagian C mengandungi dua soalan esei.
3. Jawab semua soalan daripada Bahagian A ; satu soalan daripada Bahagian B dan semua soalan Bahagian C pada modul ini.
4. Tuliskan nama dan tingkatan anda pada setiap helaian kertas yang digunakan.

Untuk Kegunaan Pemeriksa			
Bahagian	Soalan	Markah Penuh	Markah Diperolehi
A	1	10	
	2	10	
	3	10	
	4	10	
	5	10	
B	6	10	
	7	10	
C	8	20	
	9	20	
JUMLAH		100	

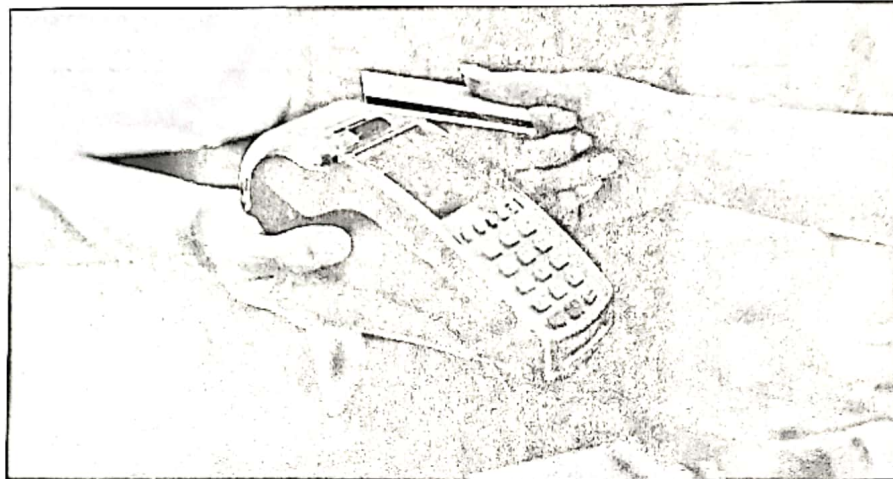
Modul ini mengandungi 23 halaman bercetak.

BAHAGIAN A

[50 markah]

Jawab semua soalan.

1. Gambar di bawah menunjukkan cara pembayaran tanpa tunai.



(a) Nyatakan contoh lain cara pembayaran tanpa tunai.

.....
.....
.....

[2 markah]

(b) Ramalkan kesan sekiranya cara pembayaran di atas disalahgunakan oleh masyarakat global.

.....
.....
.....
.....
.....
.....

[4 markah]

(c) Jelaskan masalah yang dihadapi semasa membuat pembayaran tanpa tunai.

.....

.....

.....

.....

.....

.....

[4 markah]

2. Tajuk akhbar di bawah berkaitan dengan jenayah rasuah.



Sumber: Berita Harian, 9 Mac 2024

(a) Wajarkah tindakan pengarah syarikat tersebut ? Berikan alasan anda.

.....
.....
.....

[2 markah]

(b) Jelaskan faktor pengabaian amalan integriti dalam organisasi.

.....
.....
.....
.....
.....
.....

[4 markah]

(c) Terangkan **dua** amalan integriti lain yang harus dipraktikkan oleh pengarah syarikat tersebut.

.....

.....

.....

.....

.....

.....

[4 markah]

3. Maklumat berikut berkaitan dengan pencemaran sungai dan laut.

Bina pusat pelupusan sisa kimia tangani pencemaran sungai dan laut.

PASIR GUDANG – Sebuah kilang khas atau pusat pelupusan sisa kimia perlu dibina untuk menangani masalah pencemaran sungai dan laut yang berpunca daripada sisa atau bahan buangan industri. Kewujudan pusat berkenaan akan dapat mengurus semua sisa buangan kimia terjadual dengan lebih cermat dan teratur.

Sumber : Diubah suai daripada sinarharian.com.my, 4 Disember 2023

(a) Selain pembinaan pusat tersebut, bagaimanakah pihak kerajaan dapat mengatasi masalah pencemaran sungai dan laut ? Jelaskan.

.....

.....

.....

.....

.....

.....

[4 markah]

(b) Ramalkan kesan terhadap manusia sekiranya pelupusan sisa kimia tidak dilakukan mengikut piawaian yang ditetapkan.

.....

.....

.....

.....

.....

.....


[4 markah]

(c) Nyatakan dua agensi kerajaan yang terlibat dalam memelihara alam sekitar.

.....
.....
.....

[2 markah]

4. Maklumat berikut berkaitan dengan pilihan raya di negara kita.

<p style="text-align: center;">PILIHAN RAYA UMUM KE-15</p> 	<p>Pilihan raya merupakan satu proses pengundian yang dijalankan secara sulit melalui prosedur yang telus dan teratur.</p>
---	--

(a) Senaraikan **dua** syarat kelayakan untuk mengundi.

- i.
- ii.

[2 markah]

(b) Jelaskan tujuan pilihan raya dilaksanakan di negara kita.

.....

.....

.....

.....

.....

.....

[4 markah]

(c) Shamsul bekerja di sebuah syarikat antarabangsa di Kuala Lumpur. Beliau memohon cuti daripada majikannya untuk balik mengundi di kampung semasa pilihan raya negeri. Namun begitu, majikannya tidak meluluskan cuti. Apakah tindakan yang perlu diambil oleh Shamsul ? Berikan alasan anda.

.....

.....

.....

.....

.....

.....

[4 markah]

5. Maklumat berikut berkaitan dengan individu yang perlu bersikap global.

Berfikiran Global, Bertindak Lokal

Malaysia memerlukan individu global untuk menjadi pemimpin pada masa hadapan. Pemimpin tersebut harus berupaya bersaing dengan rakan sebaya pelbagai negara, bekerja dalam persekitaran antarabangsa dan mempunyai tahap kecanggihan idea serta pemikiran setanding pemimpin negara maju yang lain.

Sumber : Diubah suai daripada bh.com.my, 1 April 2015

(a) Berdasarkan maklumat di atas, berikan maksud individu global.

.....
.....
.....

[2 markah]

(b) Terangkan cabaran yang perlu diatasi untuk menjadi individu global.

.....
.....
.....
.....
.....
.....

[4 markah]

(c) Anda terpilih mewakili negara dalam program pertukaran pelajar ke Korea.
Jelaskan cara anda menjaga imej negara.

.....
.....
.....
.....
.....
.....

[4 markah]

BAHAGIAN B

[10 markah]

Jawab mana-mana **satu** soalan daripada bahagian ini.

6. Petikan berita berkaitan seorang pembantu kedai.

BUTTERWORTH – Seorang pembantu kedai dijatuhi hukuman oleh Mahkamah Majistret selepas mengaku bersalah memandu secara melulu dan mempamerkan nombor pendaftaran palsu.

Sumber : Diubah suai daripada Kosmo 23 Mac 2023

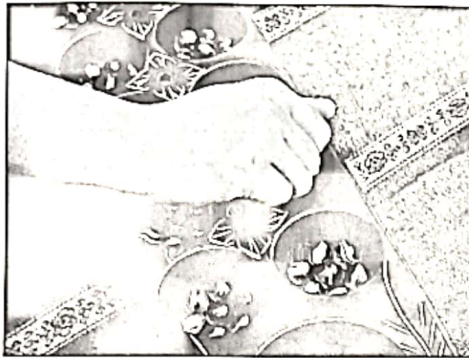
(a) Nyatakan **dua** hukuman yang wajar dikenakan terhadap pemandu tersebut. [2 markah]

.....
.....
.....
.....

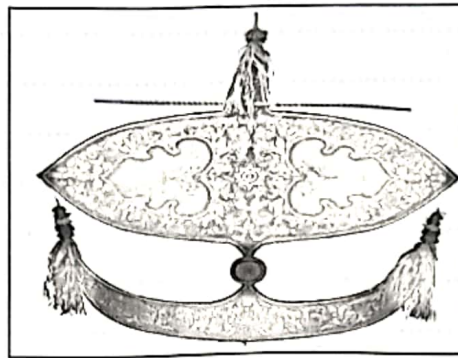
(b) Huraikan kepentingan pihak mahkamah menjatuhkan hukuman seperti di 6(a) berdasarkan prinsip keadilan. [8 markah]

.....
.....
.....
.....
.....
.....
.....
.....
.....
.....
.....
.....
.....
.....
.....
.....
.....
.....
.....
.....
.....

7. Gambar berikut menunjukkan permainan tradisional masyarakat Malaysia.



Congkak



Wau

(a) Permainan tradisional seperti di atas wajar dipopularkan semula. Berikan alasan anda.

[2 markah]

.....

.....

.....

.....

(b) Huraikan cabaran untuk mengekalkan permainan tradisional tersebut.

[8 markah]

.....

.....

.....

.....

.....

.....

.....

.....

.....

.....

.....

.....

.....

.....

.....

.....

.....

.....

.....

.....

.....

.....

.....

BAHAGIAN C

[40 markah]

Jawab semua soalan.

8. Tajuk akhbar berikut berkaitan gelandangan.

Isu gelandangan di Kuala Lumpur perlu diatasi segera.

Sumber : sinarharian.com.my, 19 Februari 2024

Lima kanak-kanak harungi hidup gelandangan bersama ibu.

Sumber : bharian.com.my, 21 Mac 2024

Gelandangan sukar keluar dari kitaran hidup.

Sumber : sinarharian.com.my, 9 April 2024

(a) Jelaskan sebab berlakunya masalah gelandangan di negara kita.

[4 markah]

.....

.....

.....

.....

.....

.....

.....

.....

9. Gambar berikut berkaitan dengan organisasi antarabangsa yang dianggotai oleh Malaysia.



(a) Menjalinkan hubungan antarabangsa bagi sesebuah negara amatlah penting.

Huraikan kepentingan tersebut kepada Malaysia.

[8 markah]

.....

.....

.....

.....

.....

.....

.....

.....

.....

.....

.....

.....

.....

.....

.....

.....

.....

.....

.....

.....

.....

.....

.....

.....

.....

.....

.....

.....

(c) Boon Lee telah terpilih untuk mewakili negara dalam Sukan SEA. Namun begitu, tarikh pertandingan tersebut bersamaan dengan tarikh Peperiksaan Percubaan SPM. Sekiranya anda ialah Boon Lee, apakah pilihan anda ? Justifikasikan jawapan anda. [4 markah]

.....

.....

.....

.....

.....

.....

.....

.....

.....

MODUL TAMAT