

2280/2
Geografi
Kertas 2
2024
2 Jam 30 Minit

Nama :..... Tingkatan :.....

**PROGRAM GEMPUR KECEMERLANGAN SPM
SEKOLAH-SEKOLAH MENENGAH NEGERI PERLIS
2024**

**GEOGRAFI
Kertas 2**

2 JAM 30 MINIT

JANGAN BUKA KERTAS SOALAN INI SEHINGGA DIBERITAHU

1. Tulis **nama** dan **tingkatan** anda pada ruangan yang disediakan.
2. Kertas soalan ini mengandungi tiga bahagian: **Bahagian A**, **Bahagian B** dan **Bahagian C**.
3. Jawab semua soalan dalam **Bahagian A** dan **Bahagian B** dan pilih **dua** soalan daripada **Bahagian C**.
4. Jawapan bagi **Bahagian A** dan **B** hendaklah ditulis pada ruang yang disediakan dalam kertas soalan.
5. Jawapan bagi **Bahagian C** hendaklah ditulis dalam helaian tambahan.
6. Markah yang diperuntukkan bagi setiap soalan atau ceraian soalan ditunjukkan oleh kurungan
7. Anda dibenarkan menggunakan kalkulator saintifik dan alatan geometri

Untuk Kegunaan Pemeriksa			
Bahagian	Soalan	Markah Penuh	Markah Diperoleh
A	1	15	
	2	15	
B	3	10	
	4	10	
	5	10	
C	6	20	
	7	20	
	8	20	
	9	20	
Jumlah		100	

Kertas soalan ini mengandungi 11 halaman bercetak

BAHAGIAN A
[30 markah]

Jawab **semua** soalan.

Untuk
Kegunaan
Pemeriksa

Soalan 1 berdasarkan peta topo siri 2280/2/2012. Kaji peta ini dengan teliti sebelum menjawab soalan berikut.

1(a) (i) Namakan titik tertinggi di timur Garisan Timuran 14.

.....
[1 markah]

(ii) Berikan nilai ketinggian titik tertinggi (a) (i).

.....
[1 markah]

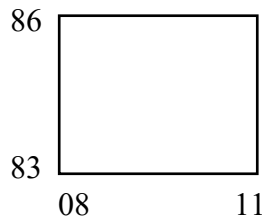
(iii) Nyatakan rujukan grid 6 angka titik tertinggi tersebut.

.....
[2 markah]

(b) Ali berada di jambatan batu (RG 129886) memandang ke arah sekolah Lembah Bayu (RG 119853). Berapakah bearing sekolah Lembah Bayu dari jambatan batu?

.....
[2 markah]

Soalan 1 (c) berdasarkan segiempat grid berikut.



(c) (i) Jelaskan fungsi Tasik Tukun kepada penduduk setempat?

.....
.....
.....
[3 markah]

(ii) Mengapakah kawasan Resek menjadi tumpuan untuk kegiatan pertanian?.

.....
.....
.....
.....

[3 markah]

(iii) Terangkan kesan aktiviti penanaman getah dalam segiempat grid yang dinyatakan kepada alam sekitar.

.....
.....
.....
.....

[3 markah]

Untuk
Kegunaan
Pemeriksa

- 2 Jadual 1 menunjukkan jumlah penduduk di bandar-bandar utama di Malaysia pada tahun 2010.

Bandar	Bilangan Penduduk (orang)	Peratus (%)
Kuala Lumpur	1 475 337	35
Johor Bahru	916 409	22
Kuching	658 549	16
Kuantan	422 020	10
Ipoh	704 572	17
Jumlah	4 176 887	100

Sumber: Jabatan Perangkaan Negara 2010

Jadual 1

- (a) Berdasarkan Jadual 1, lukiskan carta pai yang menunjukkan jumlah penduduk di bandar-bandar utama Malaysia pada tahun 2010.
Gunakan jejari 5 cm untuk carta pai anda.

[7 markah]

- (b) Merujuk kepada carta pai yang telah anda bina, terangkan tafsiran bilangan penduduk di bandar-bandar utama di Malaysia.

.....

[4 markah]

- (c) Pada pendapat anda, apakah yang boleh dilakukan oleh pihak kerajaan untuk membendung peningkatan migrasi masuk ke bandar-bandar utama di Malaysia.

.....

[4 markah]

Bahagian B
[30 markah]

Jawab **semua** soalan.

Soalan 3 berdasarkan keratan akhbar di bawah



Sumber : Harian Metro 3 April 2023

3(a) Namakan fenomena yang berlaku berdasarkan keratan akhbar di atas?

.....
[1 markah]

(b) Senaraikan punca berlakunya fenomena tersebut?

i
ii
iii
[3 markah]

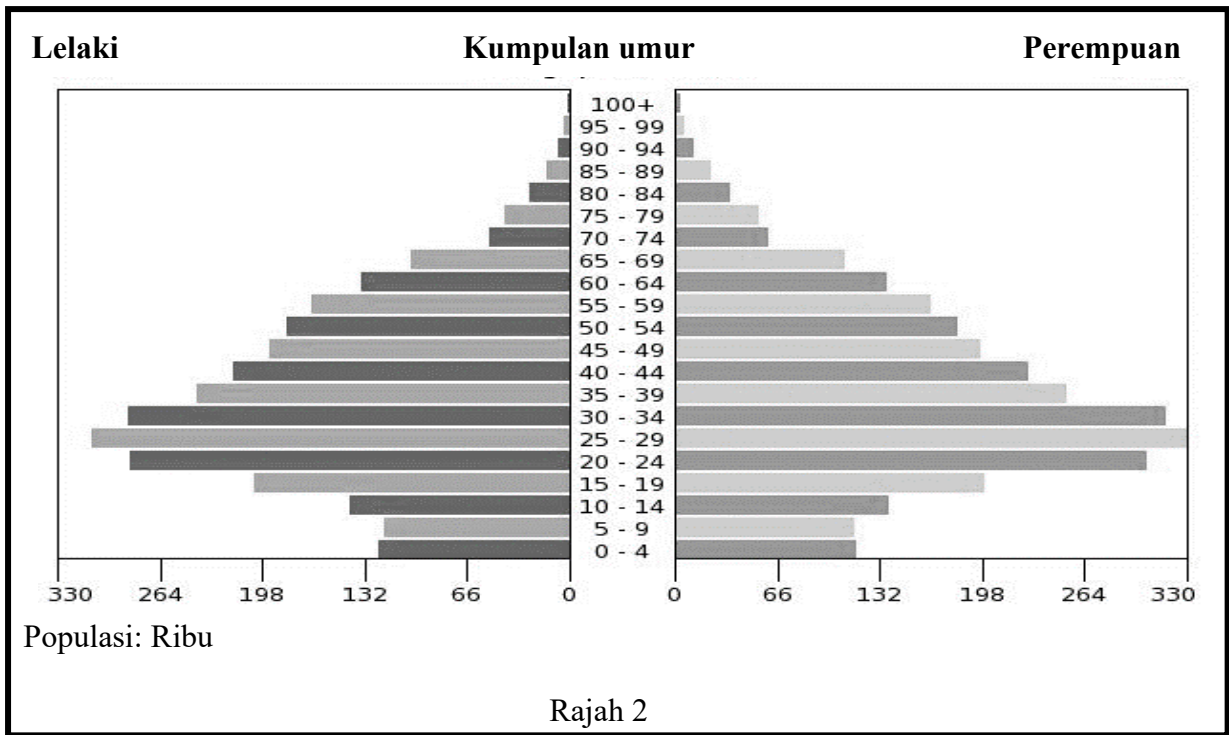
(c) Jika keadaan ini berterusan, jelaskan kesannya kepada manusia dan alam sekitar.

.....
.....
.....
.....
.....
[4 markah]

(d) Apakah langkah yang boleh di ambil bagi mengurangkan risiko kesan gelombang haba tersebut?

.....
.....
.....
[2 markah]

Soalan 4 berdasarkan Rajah 1 yang menunjukkan piramid penduduk sesebuah negara.



(a) Namakan jenis piramid penduduk di atas.

.....
[1 markah]

(b) Nyatakan ciri kependudukan berdasarkan piramid penduduk di atas.

.....
.....
.....
.....
.....
[3 markah]

(c) Jelaskan faktor yang mempengaruhi pertumbuhan penduduk berdasarkan piramid penduduk di atas?

.....
.....
.....
.....
.....
[3 markah]

(d) Terangkan kesan yang akan kepada negara jika penurunan kadar kelahiran berlaku di negara yang mempunyai piramid seperti di atas.

.....
.....
.....
.....
.....
[3 markah]

5 Soalan berdasarkan Foto A dan B dibawah menunjukkan jenis sumber tenaga.



Foto A



Foto B

(a) a) Nyatakan jenis sumber tenaga berdasarkan contoh dalam foto di atas

Foto A

Foto B

[2 markah]

(b) Mengapa sumber dalam Foto B sesuai dibangunkan di Malaysia

.....
.....
.....
.....

[2 markah]

(c) Terangkan kepentingan sumber tenaga dalam Foto A terhadap pembangunan sesebuah negara.

.....
.....
.....
.....

[3 markah]

d) Jelaskan kesan perlombongan sumber tenaga dalam Foto A terhadap alam sekitar.

.....
.....
.....
.....

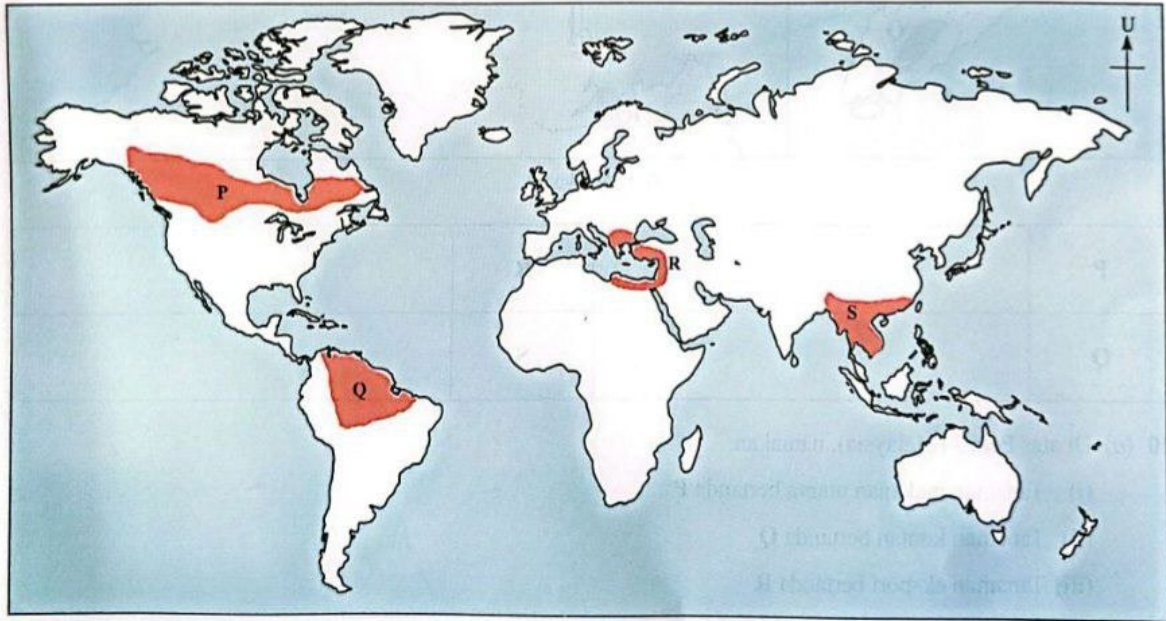
[3 markah]

Bahagian C

[40 markah]

Jawab **dua** soalan sahaja

- 6 Soalan berdasarkan Peta Dunia yang menunjukkan kawasan tumbuh-tumbuhan semula jadi.



Peta 1: Dunia

- (a) Di atas Peta 1, namakan tumbuh-tumbuhan semula jadi di kawasan yang bertanda:
- (i) P
 - (ii) Q
 - (iii) R
 - (iv) S
- [4 markah]
- (b) Nyatakan ciri-ciri penyesuaian yang terdapat pada tumbuh-tumbuhan semula jadi di kawasan Gurun Panas.
- [4 markah]
- (c) Jelaskan kepentingan tumbuhan semula jadi terhadap keseimbangan ekosistem
- [4 markah]
- (d) Sebagai seorang pemimpin dalam NGO Alam Sekitar, kemukakan usaha untuk memastikan kelestarian alam sekitar terpelihara
- [8 markah]

7 Soalan (a) berdasarkan keratan akhbar tentang kegiatan pelancongan..



(Sumber : Utusan Malaysia)

- (a) Berdasarkan keratan akhbar di atas bincangkan mengapa rakyat Malaysia masih memilih negara Thailand sebagai destinasi pelancongan sedangkan di negara ini mempunyai banyak tempat pelancongan yang menarik.

[8 markah]

- (b) Huraikan faktor yang mempengaruhi kegiatan pelancongan di Malaysia

[6 markah]

- (c) Bagaimanakah kegiatan pelancongan memberi sumbangan terhadap pembangunan negara

[6 markah]

Soalan 8 berdasarkan Foto menunjukkan tentang perkembangan bandar.




Foto 1 : Kuala Lumpur 1980-an



Foto 2 : Kuala Lumpur kini

- 8 (a) Malaysia mengalami proses urbanisasi yang sangat pesat dan menuju ke arah hierarki bandar tertinggi pada masa hadapan.
Huraikan faktor yang mempengaruhi perkembangan proses urbanisasi.
[6 markah]
- (b) Pada pendapat anda, apakah akan terjadi sekiranya proses urbanisasi berlaku secara berterusan?
[8 markah]
- (c) Cadangkan usaha-usaha untuk menjadikan Malaysia sebagai bandar lestari pada masa hadapan.
[6 markah]

9 Maklumat berikut menunjukkan usaha penglibatan Malaysia melakukan kerjasama dengan negara lain.

KUALA LUMPUR: Malaysia berharap dapat meningkatkan peluang kerjasama ekonomi melalui platform BRICS sebagai alternatif mengurangkan kebergantungan kepada pasaran tradisional. BRICS ditubuhkan pada 2009 sebagai platform kerjasama untuk ekonomi yang sedang pesat membangun merangkumi Brazil, Russia, India dan China dengan Afrika Selatan menyertai kumpulan itu pada 2010.

Pada Januari 2024, Iran, Mesir, Ethiopia dan UAE menyertai organisasi itu sebagai ahli baharu. Menurut Kementerian Pelaburan, Perdagangan Dan Industri (MITI), pasaran tradisional seperti Amerika Syarikat (AS) dan Eropah semakin giat memperkenalkan pelbagai dasar dan peraturan unilateral perdagangan baharu yang memberi cabaran kepada negara-negara membangun seperti Malaysia untuk mematuhi.

Sumber: Petikan Akhbar Berita Harian

a) Mengapakah kepentingan kerjasama ekonomi antarabangsa sangat penting kepada pembangunan negara?

[6 markah]

b) Peningkatan syarikat dalam kegiatan ekonomi berkembang dengan pesat terutamanya dalam perindustrian. Pada pendapat anda wajarkah, kerajaan mengawal pembukaan kawasan industri yang baru pada masa hadapan?

[8 markah]

c) Peningkatan kegiatan ekonomi di Malaysia dalam sektor sekunder telah memberi kesan kepada alam sekitar. Cadangkan usaha yang boleh dilakukan untuk kelestarian alam sekitar.

[6 markah]

SOALAN TAMAT