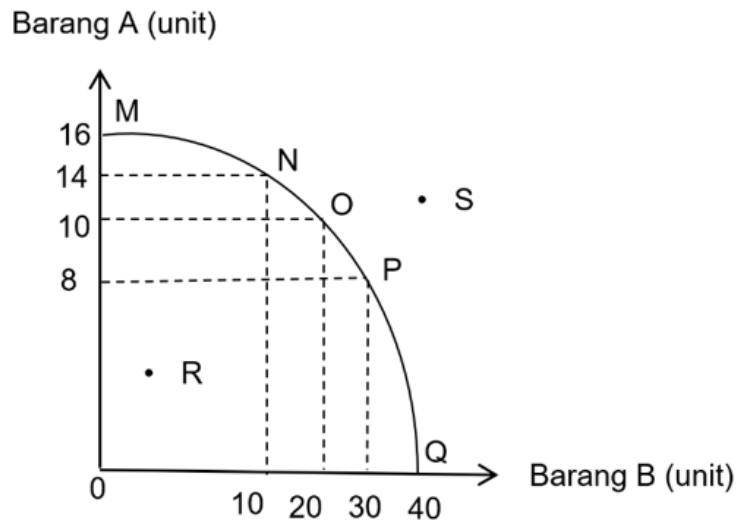


- 1 Pernyataan yang manakah paling tepat mengenai definisi ekonomi?
 - A Sains praktikal tentang pengeluaran dan pengagihan
 - B Satu kajian tentang cara manusia memenuhi sumber yang terhad
 - C Satu kajian bagaimana manusia dapat memenuhi kehendak yang tidak terhad
 - D Sains kekayaan yang mengkaji keadaan dan sebab terdapatnya kekayaan negara

- 2 Pernyataan manakah yang benar tentang sumber ekonomi?
 - A Tanah merupakan sumber yang penawarannya tidak terhad
 - B Modal merupakan alat ciptaan manusia yang mempunyai mobiliti yang tinggi
 - C Buruh merupakan individu yang berperanan menghasilkan output maksimum
 - D Usahawan merupakan input yang menyumbangkan tenaga dalam proses pengeluaran

- 3 Rajah 1 berkaitan dengan keluk kemungkinan pengeluaran (KKP).

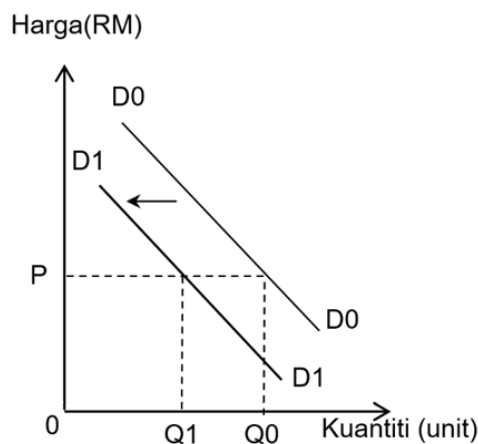


Rajah 1

Penyataan manakah yang betul berkaitan dengan KKP di atas?

- I Titik R menunjukkan kombinasi pengeluaran yang cekap
 - II Titik MNOPQ menunjukkan masalah pilihan di sepanjang KKP
 - III Titik P menunjukkan berlaku kos lepas terhadap Barang A sebanyak 8 unit
 - IV Titik S menunjukkan ketidakupayaan ekonomi dalam mengeluarkan Barang A dan Barang B
- A I dan II
 - B I dan III
 - C II dan IV
 - D III dan IV

- 4 Apakah ciri sistem ekonomi perancangan pusat?
- Motif pengeluaran adalah memaksimumkan keuntungan
 - Harga ditentukan melalui kuasa pasaran
 - Persaingan wujud antara firma
 - Pilihan pengguna terbatas
- 5 Penyataan manakah yang betul tentang ekonomi Islam?
- Individu bebas memiliki sumber kekayaan
 - Pengeluar mengeluarkan barang untuk memperolehi keuntungan
 - Wujud persaingan yang adil dalam kalangan pengeluar dalam ekonomi
 - Individu dan pengeluar tidak mempunyai kebebasan untuk memiliki faktor pengeluaran
- 6 Pernyataan manakah betul tentang keluk permintaan?
- Hubungan antara harga dan kuantiti ialah positif
 - Keluk permintaan mencerun ke atas dari kiri ke kanan
 - Penurunan harga menyebabkan kuantiti diminta berkurang
 - Peningkatan harga menyebabkan kuantiti diminta menurun
- 7 Rajah 2 menunjukkan keluk permintaan bagi kereta tempatan.

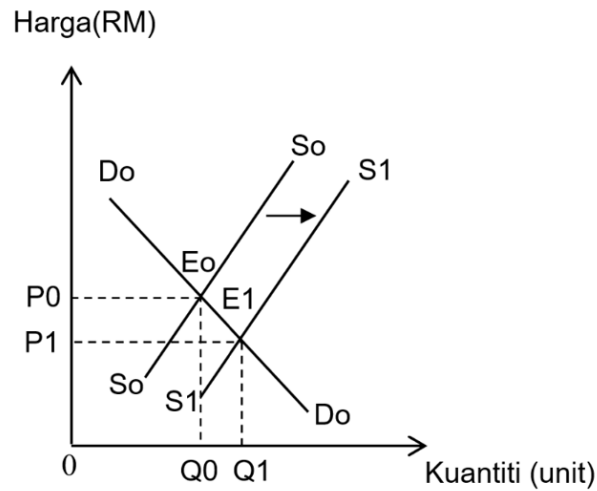


Rajah 2

Apakah yang menyebabkan peralihan keluk dari D_0D_0 ke D_1D_1 ?

- Harga kereta import menurun
- Kadar cukai pendapatan menurun
- Harga kereta tempatan meningkat
- Jangkaan harga akan meningkat pada masa hadapan

- 8 Rajah 3 berkaitan dengan keseimbangan pasaran sarung tangan getah.



Rajah 3

Situasi yang manakah menyebabkan perubahan di atas?

- A Upah buruh meningkat
 - B Harga getah sintetik naik
 - C Inovasi dalam pengeluaran
 - D Objektif pengeluaran adalah untuk memaksimumkan keuntungan
- 9 Jadual 1 menunjukkan nilai pekali keanjalan harga permintaan bagi gelang emas dan beras.

Gelang emas	Beras
2.2	0.7

Jadual 1

Pernyataan yang manakah betul tentang jadual tersebut.

- A Nilai pekali keanjalan gelang emas ialah tak anjal
 - B Jumlah hasil meningkat jika harga beras dinaikkan
 - C Pengguna sangat responsif terhadap perubahan harga beras
 - D Peratus perubahan kuantiti gelang emas lebih kecil berbanding peratus perubahan harga
- 10 Apakah yang berlaku jika harga turun sebanyak 25% bagi permintaan barang yang tidak anjal?
- A Kuantiti diminta turun lebih daripada 25%
 - B Kuantiti diminta turun kurang daripada 25%
 - C Kuantiti diminta meningkat lebih daripada 25%
 - D Kuantiti diminta meningkat kurang daripada 25%

- 11 Penawaran roti bertambah daripada 160 unit kepada 260 unit apabila harga roti meningkat daripada RM1.50 kepada RM2.00.

Berapakah nilai keanjalan harga penawaran roti tersebut?

- A 0.33
- B 0.62
- C 1.54
- D 1.88

- 12 Jadual 2 menunjukkan hubungan antara harga dengan kuantiti yang ditawarkan.

Harga (RM)	Kuantiti Penawaran (unit)
2	8
4	Q

Jadual 2

Jika harga meningkat dari RM2 ke RM4, berapakah nilai Q jika keanjalan harga penawaran barang tersebut ialah 0.5?

- A 10 unit
- B 12 unit
- C 16 unit
- D 24 unit

- 13 Antara yang berikut, kaedah manakah yang dilakukan oleh bank pusat untuk menstabilkan nilai mata wang?

- I Mewujudkan sandaran minimum dengan memperuntukkan 80.59% dalam bentuk emas
- II Menjual Ringgit Malaysia dan membeli Dolar Amerika ketika nilai Ringgit Malaysia rendah
- III Membuat pelaburan di dalam dan luar negara bagi meningkatkan pendapatan kepada negara
- IV Menggunakan alat dasar kewangan bagi memastikan kadar inflasi berada pada paras terkawal

- A I dan II
- B I dan IV
- C II dan III
- D III dan IV

- 14 Encik Amin membeli sebuah kereta Proton Persona dengan bayaran ansuran sebanyak RM600 sebulan.

Apakah perkhidmatan bank perdagangan yang memudahkan Encik Amin untuk membuat pembayaran ansuran kereta tersebut?

- A Draf bank
- B Debit langsung
- C Pindahan kredit
- D Perintah sedia ada

- 15 Manakah yang menunjukkan pekerjaan dalam sektor ketiga?
- A Menangkap ikan
 - B Operator kilang kicap
 - C Mengajar di pusat tuisyen
 - D Memproses ikan menjadi keropok segera

- 16 Maklumat berikut berkaitan dengan jenis pendapatan individu.

Pendapatan individu = Upah + Sewa + Faedah + Dividen + X + Bayaran pindahan

Situasi manakah yang menerangkan X?

- A Encik Adli mendapat RM1 500 setahun bagi akaun Amanah Saham Bumiputera
 - B Cik Nor memenangi baucar buku daripada Kedai Buku Rahim bernilai RM100
 - C Encik Lee menerima RM3 000 atas penggunaan rumah kedai miliknya
 - D Puan Jannah memperoleh RM380 sebulan atas jualan kerepek ubinya
- 17 Apakah kelemahan menggunakan tunai dalam sesuatu urus niaga?
- A Diterima secara meluas dalam urus niaga
 - B Tidak sesuai membeli barang yang mahal seperti kereta
 - C Memperoleh diskaun tunai mengikut syarat yang ditentukan
 - D Menikmati harga yang murah kerana tidak melibatkan faedah
- 18 Pernyataan manakah yang betul tentang belanjawan peribadi?
- A Dapat mengawal kejatuhan harga barang
 - B Membantu individu berbelanja secara berhemah
 - C Menggalakkan individu untuk berbelanja sesuka hati
 - D Membolehkan individu membeli barang kehendak dengan mudah
- 19 Antara yang berikut, manakah yang benar tentang firma?
- I Berbeza dari segi saiz dan modal
 - II Terdapat firma swasta dan firma awam
 - III Firma membekalkan faktor pengeluaran
 - IV Firma awam mementingkan keuntungan yang maksimum
- A I dan II
 - B II dan III
 - C II dan IV
 - D I dan IV
- 20 Puan Suri memerlukan tepung, mesin penguli, dan pekerja untuk membuat roti. Apakah input berubah yang terlibat dalam proses tersebut?
- A Tepung, mesin penguli, dan pekerja
 - B Tepung dan mesin penguli
 - C Tepung dan pekerja
 - D Mesin penguli

- 21 Jadual 3 menunjukkan hubungan antara jumlah output dengan kos.

Jumlah output (unit)	Kos tetap (RM)	Kos berubah (RM)
1	200	30
2	200	60
3	200	90

Jadual 3

Berapakah kos purata pada output ke-2?

- A RM130
 - B RM200
 - C RM260
 - D RM290
- 22 Jadual 2 menunjukkan output, kos purata dan kos tetap sebuah firma.

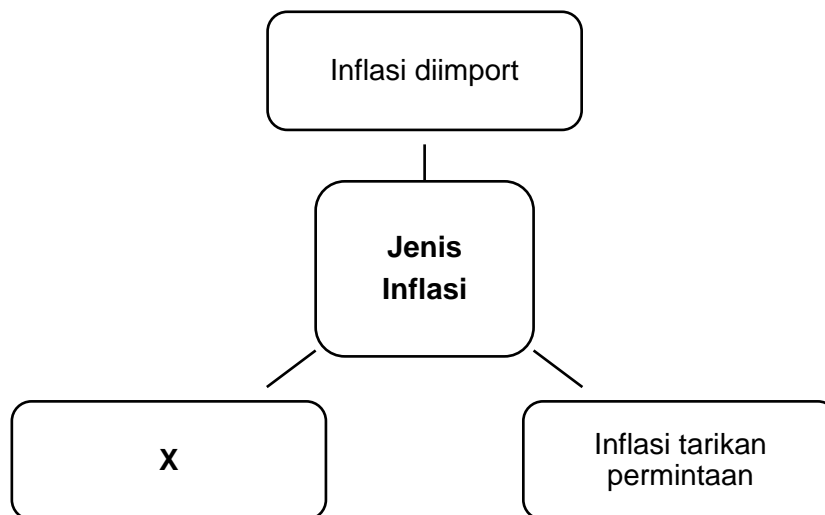
Output (unit)	Kos purata (RM)
100	50
300	30

Jadual 4

Jika kos tetap ialah RM1 000, berapakah kos berubah pada output ke 300.

- A RM5 000
 - B RM8 000
 - C RM9 000
 - D RM10 000
- 23 Pernyataan yang manakah betul tentang untung?
- A Sejenis pendapatan tidak produktif
 - B Wujud apabila jumlah kos pengeluaran lebih kecil daripada penerimaan hasil
 - C Merupakan jumlah nilai yang diterima oleh firma hasil daripada jualan produk
 - D Ganjaran kepada faktor yang menyumbangkan tenaga fizikal dan mental dalam proses pengeluaran
- 24 Bagaimanakah struktur organisasi dapat meningkatkan produktiviti?
- A Prosedur kerja yang ringkas dan mudah
 - B Setiap unit menjalankan tugas masing-masing
 - C Majikan yang sentiasa memotivasikan pekerjaanya
 - D Tenaga manusia ditempatkan di posisi kerja yang sesuai dengan kemahirannya

- 25 Pernyataan yang manakah menunjukkan kos sosial?
- A Kos yang terpaksa dilepaskan akibat masalah kekurangan
- B Contoh kos sosial ialah peningkatan tahap pendidikan masyarakat
- C Kos yang sepatutnya dibayar tetapi tidak diambil kira dalam kos pengeluaran
- D Kos kepada pihak ketiga yang tidak dimasukkan dalam penentuan harga pasaran
- 26 Rajah 4 berkaitan dengan jenis inflasi.



Rajah 4

Pernyataan yang manakah menyebabkan inflasi X berlaku?

- A Wujud lebih permintaan barang
- B Pendapatan individu semakin meningkat
- C Kadar inflasi negara pengeksporth meningkat
- D Upah buruh dan kos bahan mentah bertambah
- 27 Pasangan yang manakah betul?

	Dasar kewangan	Keterangan
A	Mengembang	Bertujuan untuk mengurangkan permintaan agregat
B	Mengembang	Bertindak dengan menurunkan kadar cukai pendapatan
C	Menguncup	Berupaya untuk mengurangkan jumlah penciptaan kredit
D	Menguncup	Berlaku apabila kerajaan menambah perbelanjaan pembangunan

- 28 Maklumat berikut berkaitan dengan satu alat dasar kewangan.

Tahun	Kadar Dasar Semalaman (OPR)
2020	2.5%
2022	3.0%

Apakah kesan tindakan tersebut kepada firma?

- A Daya saing meningkat
 - B Produktiviti bertambah
 - C Pelaburan agregat meningkat
 - D Aktiviti penyelidikan dan pembangunan produk berkurang
- 29 Antara berikut, yang manakah keburukan pelaburan langsung asing?
- I Meningkatkan keupayaan pengeluaran barang
 - II Mendorong aliran masuk modal ke dalam negara
 - III Penerokaan dan pengeluaran sumber alam yang tidak terkawal
 - IV Syarikat-syarikat gergasi akan menguasai sektor-sektor yang menguntungkan
- A I dan II
 - B I dan IV
 - C II dan III
 - D III dan IV
- 30 Pasangan yang manakah betul?

A	Subsidi	Menjamin keselamatan dan kesihatan rakyat
B	Tarif	Menghalang kemasukan barang import dari negara tertentu
C	Kuota	Mengehadkan jumlah maksimum yang boleh diimport dari sesebuah negara
D	Embargo	Menyebabkan harga barang import relatif lebih mahal berbanding barang tempatan

- 31 Situasi yang manakah cenderung memberi kesan imbalan dagangan negatif?
- A Peningkatan penggunaan barang dari luar negara
 - B Aliran masuk pelaburan asing yang tinggi di sektor perkilangan
 - C Kiriman wang oleh pekerja asing ke luar negara semakin meningkat
 - D Kemasukan pelancong asing bertambah selepas kempen Tahun Melawat Malaysia

- 32** Pilih pasangan yang betul berkaitan dengan permintaan dan penawaran Ringgit Malaysia.

	Perkara	Ringgit Malaysia (RM)
A	Proton memasarkan kereta SUV X70 ke Singapura	Penawaran RM
B	Encik Syafiq menghantar anaknya belajar ke New Zealand	Penawaran RM
C	BERNAS Berhad mendapatkan bekalan beras wangi dari Vietnam	Permintaan RM
D	Malaysia Care menyediakan sumbangan RM200 000 kepada mangsa banjir di Pakistan	Permintaan RM

Soalan 33 hingga **soalan 40** berdasarkan pilihan jawapan seperti jadual di bawah.

Pilihan	Pernyataan I	Pernyataan II
A	Betul	Salah
B	Salah	Betul
C	Betul	Betul
D	Salah	Salah

- 33** I Ekonomi ialah mengurus semua sumber ekonomi yang ada bagi memenuhi kehendak yang tidak terbatas.
 II Kehendak manusia tetap dan tidak berubah dari semasa ke semasa.
- 34** I Hukum permintaan menyatakan apabila harga menurun maka kuantiti diminta menurun.
 II Hukum permintaan digambarkan melalui hubungan positif antara harga dan kuantiti diminta.
- 35** I Hubungan positif ditunjukkan oleh keluk penawaran yang mencerun ke bawah dari kiri ke kanan.
 II Jika harga kereta meningkat, penawaran terhadap kereta akan berkurang.
- 36** I Contoh potongan wajib ialan caruman KWSP.
 II Peningkatan kadar caruman KWSP pekerja menyebabkan pendapatan boleh guna berkurang.

Lihat halaman sebelah]
SULIT

Pilihan	Pernyataan I	Pernyataan II
A	Betul	Salah
B	Salah	Betul
C	Betul	Betul
D	Salah	Salah

- 37 I Proses pengeluaran memerlukan gabungan input untuk menghasilkan barang dan perkhidmatan.
II Input berubah wujud dalam jangka masa pendek dan panjang.
- 38 I Faedah sosial adalah faedah kepada pihak ketiga selain pengguna dan pengeluar.
II Pembinaan projek tebatan banjir mengurangkan risiko kerosakan harta benda merupakan contoh faedah sosial.
- 39 I Dasar fiskal dilaksanakan melalui perubahan kadar faedah dan pelaksanaan cukai.
II Dasar fiskal mempengaruhi permintaan dalam kalangan rakyat.
- 40 I Pertukaran asing merujuk kepada mata wang negara lain yang dimiliki oleh sesebuah negara.
II Apabila nilai eksport Malaysia meningkat, maka mata wang negara akan meningkat.

KERTAS SOALAN TAMAT