

NAMA TINGKATAN

MODUL PINTAS 2024
TINGKATAN 5

3767/1

EKONOMI

Kertas 1

1 jam 15 minit

JANGAN BUKA KERTAS PEPERIKSAAN INI SEHINGGA DIBERITAHU

1. *Kertas peperiksaan ini mengandungi 40 soalan.*
2. *Jawab semua soalan.*
3. *Tiap-tiap soalan diikuti oleh empat pilihan jawapan, iaitu A, B, C dan D. Bagi setiap soalan, pilih satu jawapan sahaja. **Hitamkan** jawapan anda pada kertas jawapan objektif yang disediakan.*
4. *Jika anda hendak menukar jawapan, padamkan tanda yang telah dibuat. Kemudian hitamkan jawapan yang baharu.*
5. *Anda dibenarkan menggunakan kalkulator saintifik yang **tidak** boleh diprogram.*

Kertas peperiksaan ini mengandungi 16 halaman bercetak.

3767/1

[Lihat halaman sebelah

- 1 Kekurangan bagi firma ialah
- A pilihan pengeluaran terhad berbanding pemilikan input
 - B pendapatan bulanan terbatas tetapi kehendak produk pelbagai
 - C pemilikan faktor yang terhad sebaliknya target output lebih besar
 - D perolehan hasil rendah sedangkan kos projek pembangunan yang tinggi
- 2 Gambar 1 menunjukkan faktor yang digunakan dalam proses pengeluaran.



Gambar 1

Pernyataan yang manakah betul tentang gambar tersebut?

- A Mendapat gaji bulanan kerana kebijaksanaan menguruskan sebuah syarikat
- B Menerima ganjaran atas sumbangan tenaga fizikal dalam pengeluaran
- C Menggabung pelbagai input untuk menghasilkan sejumlah output
- D Membekalkan pelbagai sumber ekonomi dalam kegiatan firma

3 Jadual 1 menunjukkan kombinasi pengeluaran bagi dua barang oleh sebuah firma.

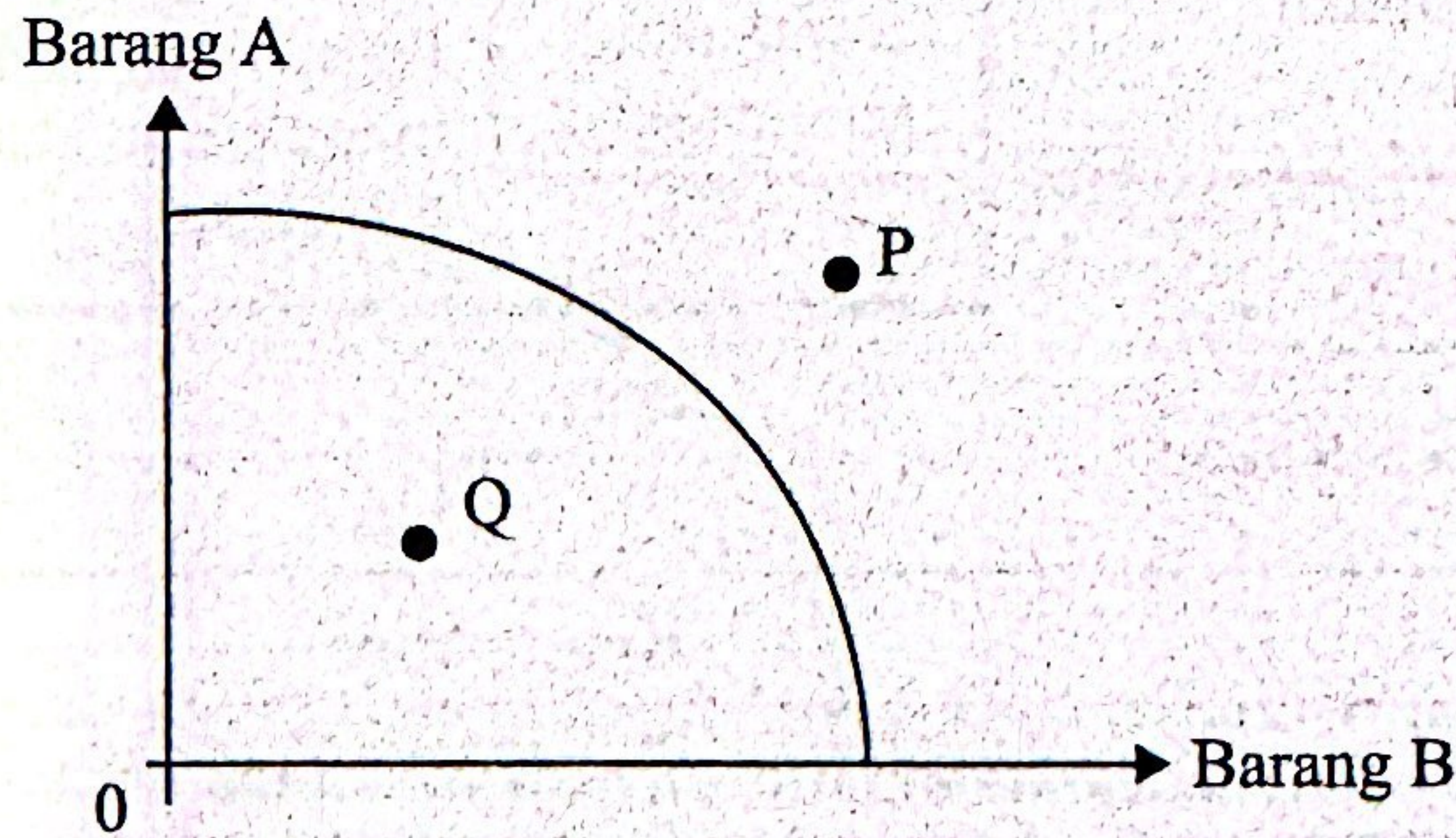
Barang mainan	Kombinasi pengeluaran	
	G	H
Van	100 unit	80 unit
Bas	60 unit	90 unit

Jadual 1

Berapakah kos lepas sekiranya kombinasi pengeluaran berubah dari G ke H?

- A 20 unit van
- B 30 unit bas
- C 60 unit bas
- D 80 unit van

4 Rajah 1 menunjukkan keluk kemungkinan pengeluaran bagi barang A dan B.



Rajah 1

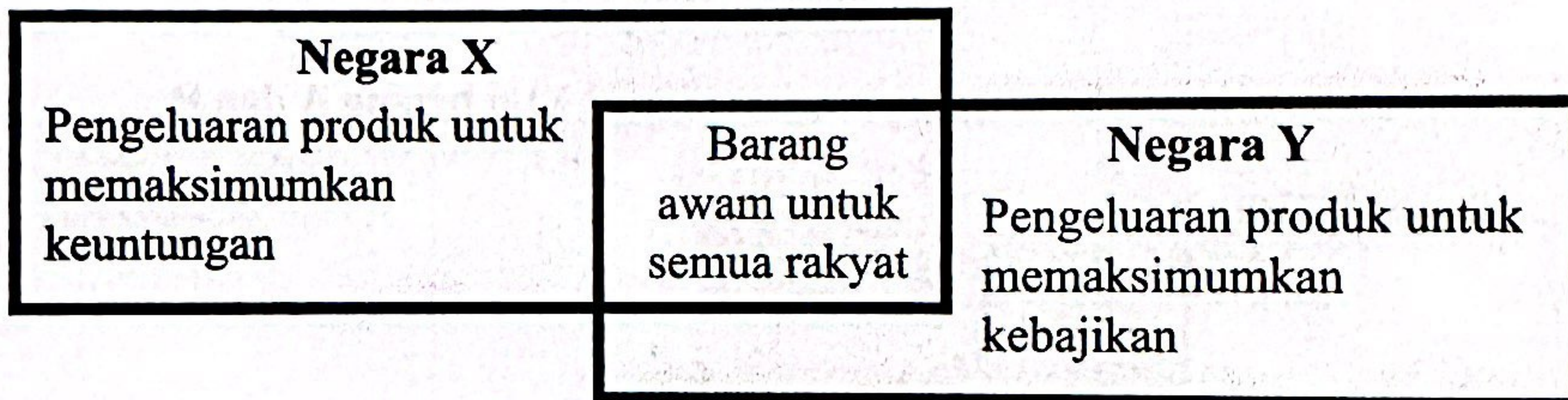
Pasangan yang manakah betul tentang titik kombinasi pengeluaran di atas?

	Titik kombinasi	Keterangan
A	P	Sumber ekonomi digunakan sepenuhnya
B	P	Ekonomi mencapai guna tenaga penuh
C	Q	Wujud kos lepas kesan pilihan input
D	Q	Berlaku pembaziran faktor pengeluaran

5 Pernyataan yang manakah betul tentang sistem ekonomi perancangan pusat?

- I Motif pihak berkuasa untuk memaksimumkan kebajikan rakyat
 - II Kerajaan menentukan penggunaan sumber ekonomi dalam pengeluaran
 - III Rakyat dapat menikmati pelbagai pilihan bagi memenuhi kepuasan individu
 - IV Persaingan yang saksama dalam kalangan pengeluar dalam pengeluaran barangan
- A I dan II
 - B I dan IV
 - C II dan III
 - D III dan IV

6 Maklumat berikut berkaitan sistem ekonomi yang diamalkan oleh dua buah negara.



Pasangan yang manakah betul?

	Negara	Keterangan
I	X	Sumber ekonomi milik pihak persendirian dan kerajaan
II	X	Pengeluaran berskala besar dan memaksimum keuntungan
III	Y	Harga barang ditentukan oleh pemerintah dan kuasa pasaran
IV	Y	Corak agihan barangan berdasarkan kuasa beli dan kemampuan

- A I dan II
- B I dan IV
- C II dan III
- D III dan IV

- 7 Apakah cara sistem ekonomi kapitalis menyelesaikan masalah *untuk siapa dikeluarkan*?
- A Pengeluaran bagi mencapai kebajikan pengguna
 - B Memasarkan barang berdasarkan pendapatan rakyat
 - C Penghasilan mengikut kehendak pelanggan di pasaran
 - D Meminimumkan kos bagi penuhi permintaan masyarakat
- 8 Pernyataan yang manakah betul tentang perubahan dalam kuantiti ditawarkan?
- A Pergerakan titik berlaku di atas keluk yang sama
 - B Pengurangan penawaran apabila harga jatuh
 - C Keluk akan beralih ke kanan atau ke kiri
 - D Kesan kenaikan kos pengeluaran
- 9 Jadual 2 menunjukkan perubahan penawaran SMART TV di Malaysia pada bulan Julai berbanding bulan Januari.

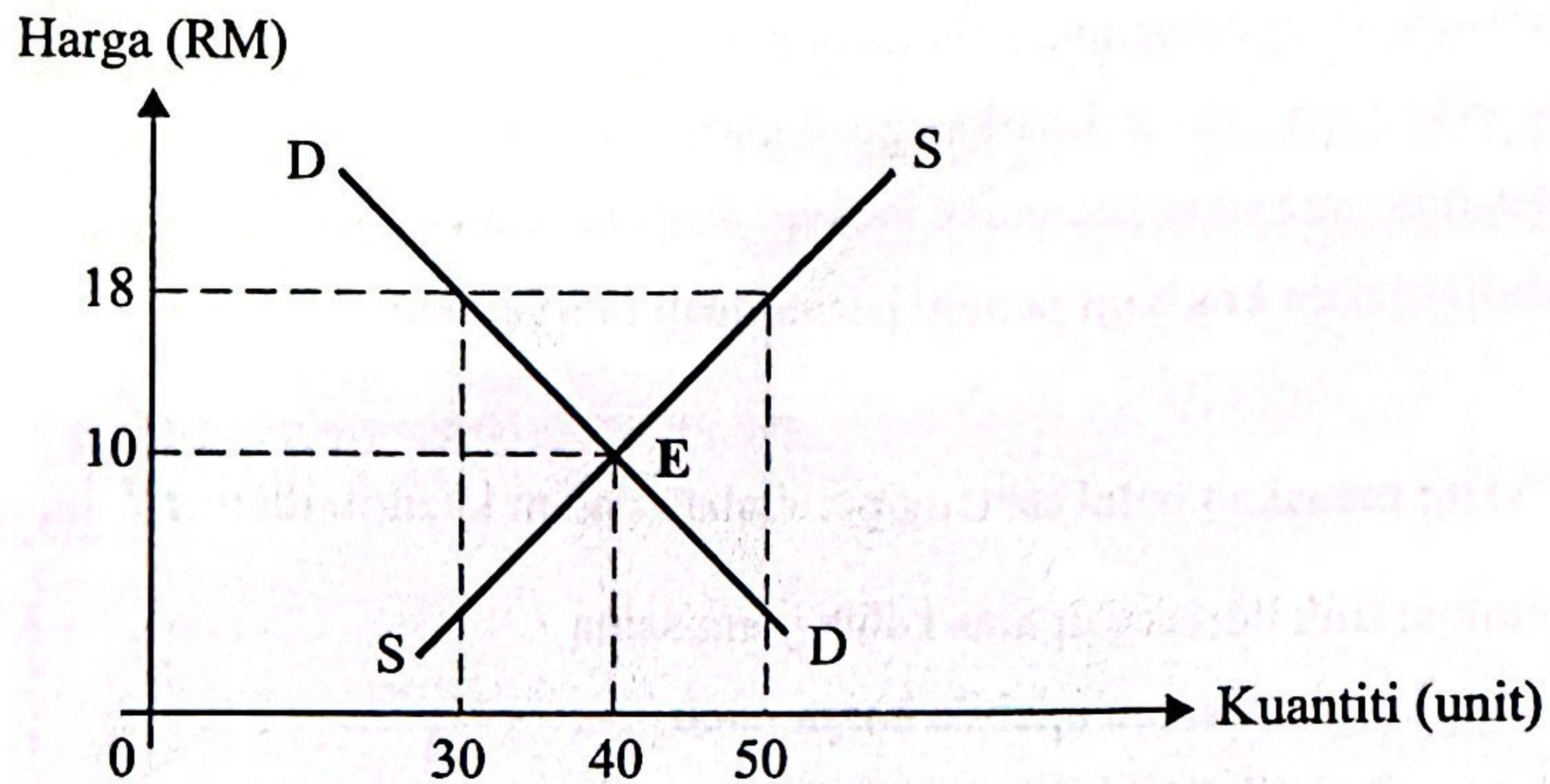
Harga (RM)	Jumlah penawaran (unit)	
	Januari	Julai
2 500	10 000	12 500

Jadual 2

Apakah yang menyebabkan perubahan penawaran tersebut?

- A Matlamat pengeluar untuk kuasai pasaran
- B Belanja penggunaan bahan api semakin tinggi
- C Kerajaan menaikkan cukai import bahan mentah
- D Jangkaan harga barang akan naik pada masa depan

10 Rajah 2 menunjukkan keluk keseimbangan pasaran bagi suatu barang.

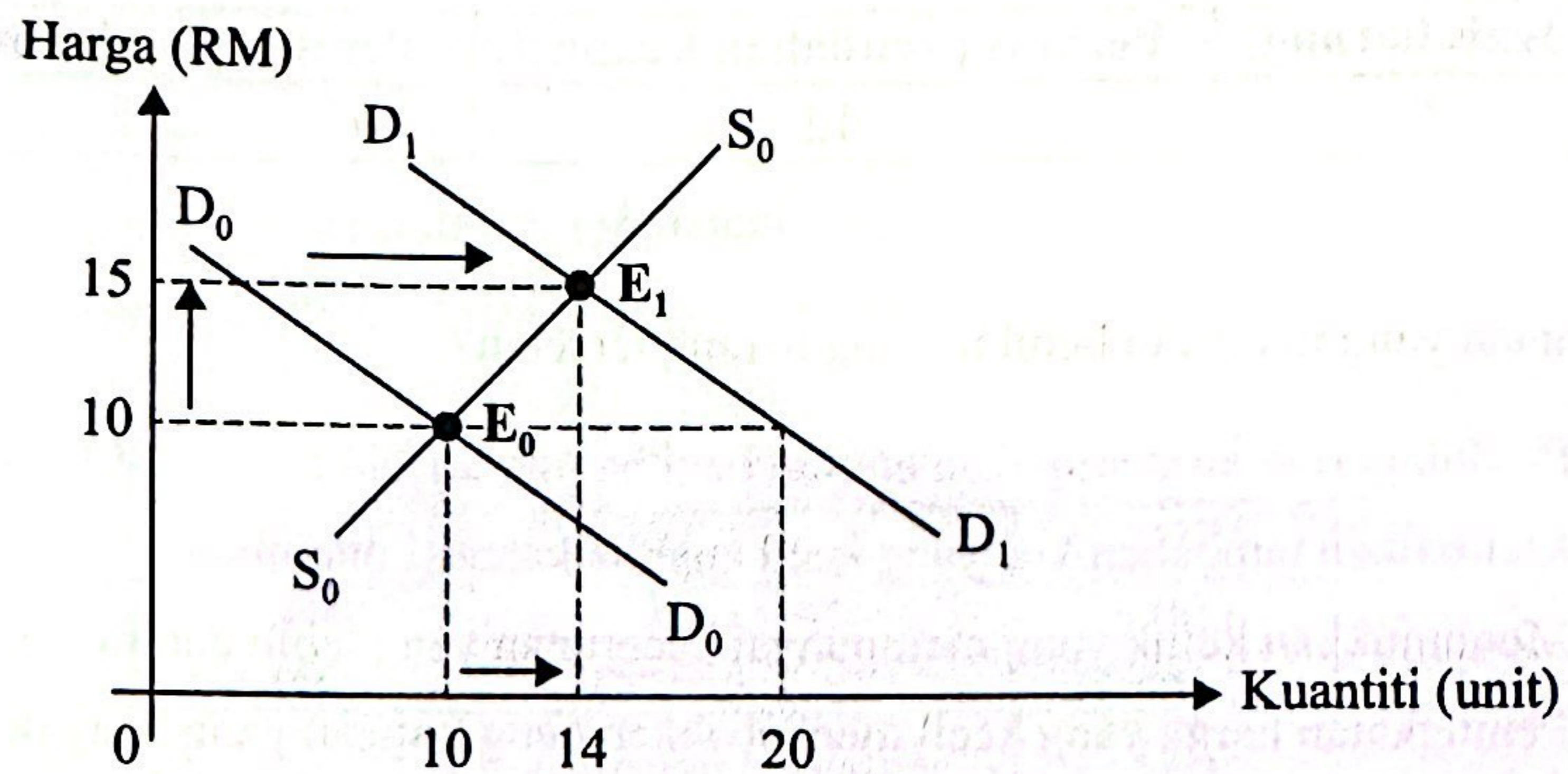


Rajah 2

Pernyataan yang manakah betul tentang rajah di atas?

- I Berlaku lebihan penawaran sebanyak 50 unit
 - II Harga barang cenderung jatuh sebanyak RM8
 - III Permintaan pasaran berubah dari 30 ke 40 unit
 - IV Firma menetapkan harga keseimbangan pada RM10
- A I dan II
 - B I dan IV
 - C II dan III
 - D III dan IV

- 11 Rajah 3 menunjukkan perubahan keseimbangan pasaran.



Rajah 3

Pernyataan yang manakah betul tentang rajah di atas?

- A Pergerakan titik keseimbangan ke E_1 kesan pertambahan bilangan pengeluar
 B Jangkaan harga akan naik menyebabkan keluk permintaan beralih dari D_0 ke D_1
 C Harga meningkat ke RM15 apabila berlaku lebihan permintaan sebanyak 20 unit
 D Kuantiti keseimbangan naik kepada 14 unit ditentukan melalui persetujuan firma
- 12 Syarikat XYZ meningkatkan penawaran beg plastik daripada 160 unit kepada 260 unit apabila harga naik daripada RM1.50 kepada RM2.00.
 Berapakah nilai keanjalan harga penawaran bagi barang tersebut?

- A 0.53
 B 0.87
 C 1.54
 D 1.88

- 13 Jadual 3 menunjukkan peratus perubahan kuantiti dan harga ditawarkan suatu barang.

Jenis barang	Peratus perubahan kuantiti	Peratus perubahan harga
S	12	8

Jadual 3

Pernyataan yang manakah betul tentang barang tersebut?

- A Produk pertanian merupakan contoh bagi barang tersebut
 - B Melibatkan tambahan kos yang kecil apabila kuantiti ditambah
 - C Menunjukkan keluk yang mempunyai kecerunan yang lebih curam
 - D Peningkatan harga yang kecil menyebabkan pengurangan yang banyak
- 14 Apakah fungsi bank pusat sebagai jurubank kepada kerajaan?

- I Mengubah kadar rizab berkanun
- II Memberi pendahuluan sementara
- III Mengurus kadar pertukaran asing
- IV Menjadi sumber pinjaman terakhir

- A I dan II
- B I dan IV
- C II dan III
- D III dan IV

- 15 Pernyataan yang manakah betul tentang deposit semasa?

- A Pengeluaran wang mengikut tempoh matang yang ditetapkan
- B Pelanggan disediakan kemudahan pinjaman overdraf
- C Penyimpanan dibuat dalam tempoh masa tertentu
- D Pemegang akaun mendapat buku simpanan

- 16 Pilih pasangan yang betul.

	Sektor ekonomi	Contoh pekerjaan
A	Ketiga	Pengurus ladang kelapa sawit
B	Kedua	Pengurus kilang minyak kelapa sawit
C	Kedua	Pengurus jualan minyak sawit bertapis
D	Utama	Pengurus pengangkutan lori tangki minyak sawit

17 Pernyataan yang manakah betul tentang faedah sampingan dalam pemilihan pekerjaan?

- A Suasana tempat bekerja yang selesa
- B Tempoh masa untuk ke tempat kerja cepat
- C Peluang kenaikan pangkat dalam tempoh bekerja
- D Kemudahan pengangkutan ke tempat kerja disediakan

18 Jadual 4 menunjukkan penerimaan dan pembayaran oleh Puan Azi dalam tempoh sebulan.

Butiran	RM
Gaji	5 000
Sewa diterima	500
Potongan cukai pendapatan berjadual	110
Premium insurans kenderaan	250
KWSP	550
Zakat	120

Jadual 4

Berapakah pendapatan boleh guna Puan Azi pada bulan tersebut?

- A RM4 470
- B RM4 590
- C RM4 720
- D RM4 830

19 Apakah kelebihan pembayaran secara kredit dalam urus niaga?

- A Menikmati diskaun harga semasa pembelian barang
- B Meringankan beban kewangan melalui bayaran bulanan
- C Mendapat hak milik terus selepas selesai membuat bayaran
- D Menggalak berbelanja secara berhemat berdasarkan baki wang

20 Susun langkah yang betul bagi penyediaan belanjawan peribadi.

- I Mencatat semua jenis perbelanjaan
 - II Mengimbangi pendapatan dengan perbelanjaan
 - III Menyusun perbelanjaan berdasarkan keutamaan
 - IV Menyinarai pelbagai punca pendapatan yang diterima
- A III, II, I dan IV
 - B II, III, IV dan I
 - C I, IV, II dan III
 - D IV, I, III dan II

21 Pasangan yang manakah betul tentang jenis input berikut?

	Jenis input	Keterangan
A	Input tetap	Penggunaan input wujud apabila pengeluaran bermula
B	Input tetap	Berhubung secara langsung dengan tingkat output
C	Input berubah	Wujud dalam jangka masa pendek dan panjang
D	Input berubah	Contoh input ialah tapak kilang

22 Maklumat di bawah berkaitan dengan kos dan jumlah keluaran bagi sebuah firma.

- | | |
|-------------------|---------|
| ▪ Kos berubah | RM60 |
| ▪ Kos purata | RM4 |
| ▪ Jumlah keluaran | 25 unit |

Berapakah kos tetap bagi firma tersebut?

- A RM15
- B RM40
- C RM64
- D RM100

23 Maklumat berikut berkaitan dengan kos purata, jumlah keluaran dan harga seunit bagi Syarikat Daia Berhad.

- | | |
|-----------------------|----------|
| ▪ Kos purata | RM10 |
| ▪ Jumlah keluaran | 150 unit |
| ▪ Harga jualan seunit | RM12 |

Berapakah keuntungan bagi syarikat tersebut?

- A RM180
- B RM300
- C RM1 680
- D RM1 800

- 24 Gambar 2 menunjukkan projek pembinaan Laluan Rel Pantai Timur (ECRL).



Gambar 2

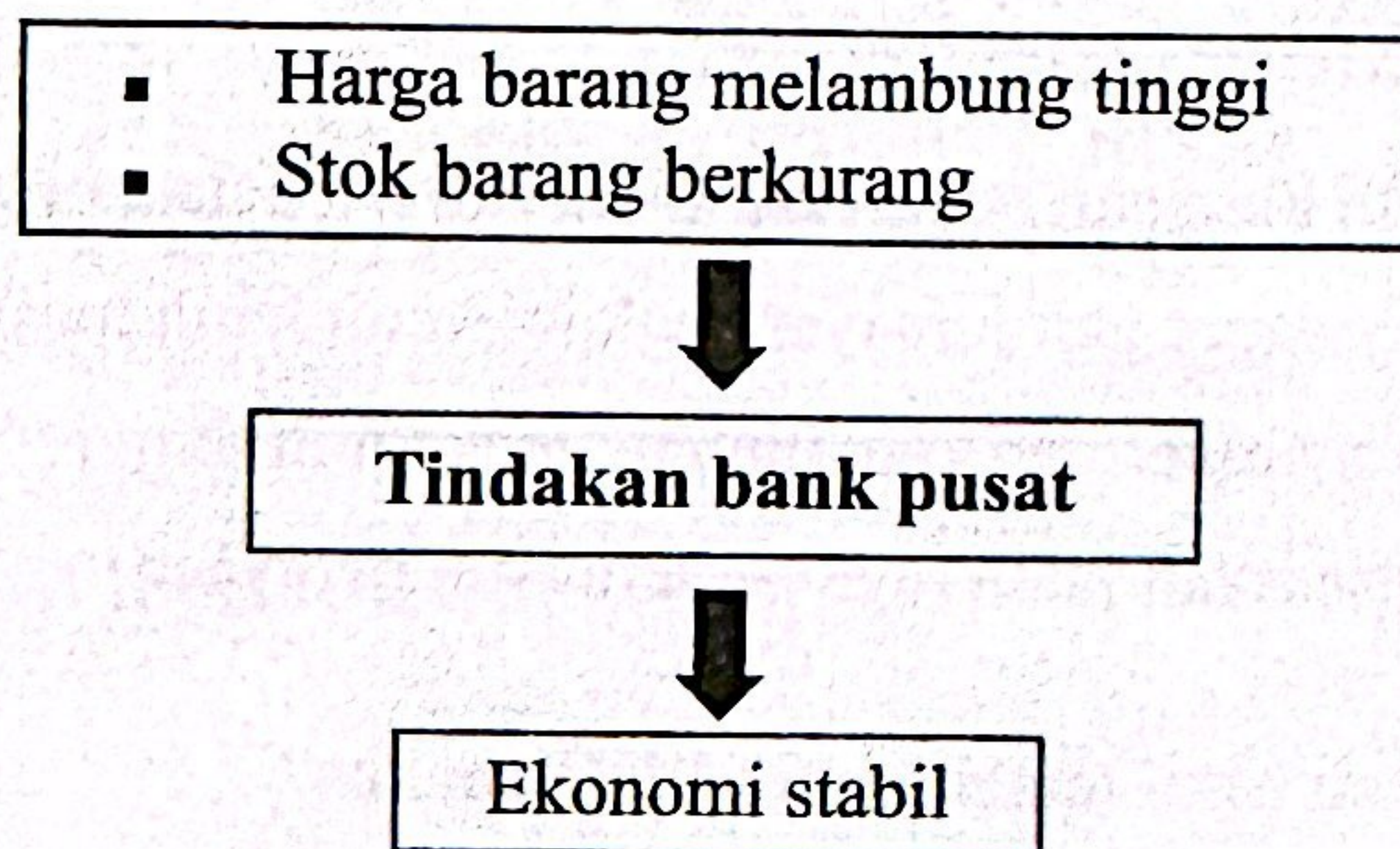
Apakah faedah sosial daripada projek tersebut?

- A Meningkatkan hasil kerajaan negeri daripada aktiviti pelancongan tempatan
- B Pekerja binaan mendapat gaji lumayan melalui kerja lebih masa
- C Kontraktor utama memperoleh keuntungan yang lebih tinggi
- D Mengurangkan kesesakan jalan raya pada musim perayaan
- 25 Pernyataan yang manakah betul tentang inflasi tolakan kos?
- A Wujud lebih permintaan dalam pasaran
- B Nilai Ringgit Malaysia mengalami peningkatan
- C Pertambahan jumlah modal dalam proses pengeluaran
- D Harga bahan mentah yang diguna dalam operasi firma mahal
- 26 Pernyataan yang manakah betul tentang kesan pengangguran dalam ekonomi?
- A Jurang pendapatan masyarakat semakin kecil
- B Meningkatkan pengaliran wang ke luar negara
- C Kemasukan buruh asing akan bertambah
- D Berlaku pembaziran sumber ekonomi
- 27 Tindakan kerajaan yang manakah dapat mengawal kemelesetan ekonomi dalam negara?
- A Mengamalkan belanjawan lebihan
- B Melaksana dasar fiskal menguncup
- C Menaikkan perbelanjaan pembangunan
- D Mengurangkan lebihan permintaan agregat

28 Pilih pasangan yang betul tentang perbelanjaan kerajaan.

	Perbelanjaan kerajaan	Keterangan
A	Mengurus	Bersifat berulang-ulang setiap tahun
B	Mengurus	Membiayai projek pelaburan modal fizikal
C	Pembangunan	Tujuan untuk melancarkan pentadbiran negara
D	Pembangunan	Pembelian bekalan dan bahan untuk kegunaan pejabat

29 Maklumat berikut berkaitan tindakan bank pusat dalam ekonomi.



Apakah tindakan tersebut?

- A Melaksanakan dasar kewangan mengembang
 - B Menurunkan nisbah rizab berkanun
 - C Menaikkan kadar faedah pinjaman
 - D Melonggarkan syarat sewa beli
- 30 Apakah tujuan pelaksanaan kuota dalam perdagangan antarabangsa?
- A Meningkatkan daya saing barang import
 - B Melindungi industri muda tempatan
 - C Menjamin keselamatan negara
 - D Menambahkan hasil kerajaan

31 Antara yang berikut, yang manakah betul tentang komposisi import tak nampak negara?

- I Encik Ahmad dan keluarga bercuti ke Danau Toba, Indonesia
 - II Rakyat asing menggunakan pengangkutan penerbangan milik MAS
 - III Buruh mahir tempatan memilih bekerja dalam sektor pembinaan di Dubai
 - IV Pasukan bola sepak kebangsaan menggunakan khidmat jurulatih dari Korea
- A I dan II
 - B I dan IV
 - C II dan III
 - D III dan IV

32 Jadual 5 menunjukkan eksport dan import nampak negara M pada suatu tahun.

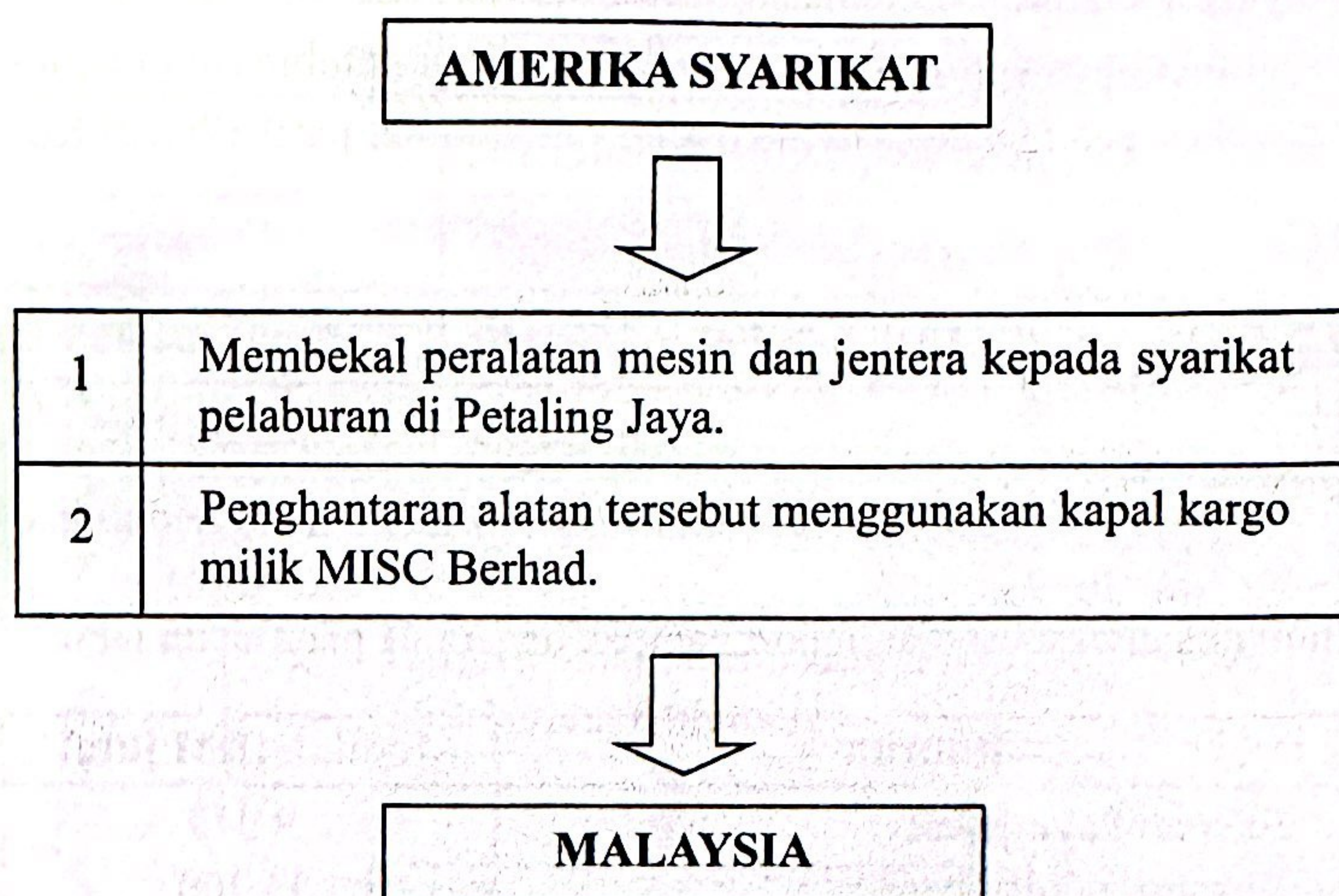
Butiran	Jumlah (RM juta)
Eksport kayu balak	9 948
Eksport gas asli cecair	11 300
Eksport barang perkilangan	317 937
Import barang modal	47 064
Import barang perantaraan	230 611

Jadual 5

Pasangan yang manakah betul tentang imbalan dagangan negara tersebut?

	Jenis imbalan	Jumlah (RM juta)
A	Lebihan	61 510
B	Kurangan	61 510
C	Kurangan	339 185
D	Lebihan	339 185

- 33 Maklumat berikut menunjukkan kegiatan urus niaga perdagangan antarabangsa Amerika Syarikat dengan Malaysia.



Pilih pasangan yang betul.

	Aktiviti	Keterangan
A	1	Permintaan bagi Ringgit Malaysia meningkat
B	1	Eksport barang nampak negara bertambah
C	2	US Dolar yang ditawarkan makin banyak
D	2	Aliran keluar mata wang tempatan tinggi

- 34 Situasi yang manakah berlaku penawaran ke atas Ringgit Malaysia?
- A Pemborong Anis menerima bekalan pakaian wanita dari China
 - B Syarikat petroleum Kuwait membuat pelaburan cari gali minyak di Sabah
 - C Encik Amran dari Brunei melawat anaknya belajar di Universiti Islam Antarabangsa
 - D Sime Darby Berhad membawa pulang keuntungan pelaburan ladang sawit di Sumatera
- 35 Maklumat berikut menunjukkan perubahan kadar pertukaran antara Dolar Amerika (USD) berbanding Ringgit Malaysia (RM).

Jan 2019	→	Jan 2020
USD1 = RM4.13		USD1 = RM4.08

Pernyataan yang manakah betul tentang perubahan kadar pertukaran tersebut?

- A Harga eksport dari Malaysia di Amerika Syarikat murah
- B Permintaan ke atas import Amerika Syarikat merosot
- C Penawaran Ringgit Malaysia akan berkurang
- D Imbangan dagangan cenderung negatif

Soalan 36 hingga Soalan 40 berdasarkan pilihan jawapan seperti jadual di bawah.

Pilihan	Pernyataan I	Pernyataan II
A	Betul	Salah
B	Salah	Betul
C	Betul	Betul
D	Salah	Salah

- 36 I Hukum permintaan menunjukkan semakin tinggi harga sesuatu barang semakin kurang kuantiti diminta.
- II Hubungan negatif antara harga dengan kuantiti diminta pada hukum permintaan dibuktikan oleh keluk mencerun ke atas dari kiri ke kanan.
- 37 I Jangka masa pendek merujuk kepada satu tempoh masa di mana firma dapat mengubah input tetap dan input berubah.
- II Dalam jangka masa pendek, wujud hubungan langsung antara pengguna input tetap dengan jumlah output.
- 38 I Eksternaliti ialah kesan luaran yang ditanggung oleh pihak ketiga akibat daripada aktiviti pengeluaran dalam kegiatan ekonomi.
- II Eksternaliti positif berlaku apabila masyarakat dapat menikmati faedah daripada aktiviti pengeluaran tanpa dikenakan bayaran.
- 39 I Dasar harga maksimum ialah tindakan kerajaan menetapkan harga yang lebih tinggi daripada harga keseimbangan.
- II Pelaksanaan dasar harga maksimum adalah untuk menjaga kebajikan pengguna.
- 40 I Indeks harga pengguna ialah ukuran tentang perubahan harga barangan bagi suatu tahun berbanding tahun asas dalam ekonomi.
- II Indeks harga pengguna meningkat menunjukkan kos sara hidup pengguna telah menurun.

KERTAS PEPERIKSAAN TAMAT