

Bahagian A
[60 markah]
Jawab **semua** soalan

SOALAN 1

- a) Gambar 1 menunjukkan faktor pengeluaran yang terlibat dalam aktiviti ekonomi



Gambar 1

Terangkan dua faktor pengeluaran yang terdapat dalam gambar di atas?

.....

.....

.....

.....

.....

.....

[4 markah]

- b) Gambar 2 menunjukkan sebuah peta negara-negara ASEAN.



Gambar 2

- (i) Nyatakan sistem ekonomi bagi negara X di atas?

.....

[1 markah]

- (ii) Jelaskan peranan kerajaan dalam sistem ekonomi tersebut ?

.....

.....

.....

.....

.....

.....

.....

.....

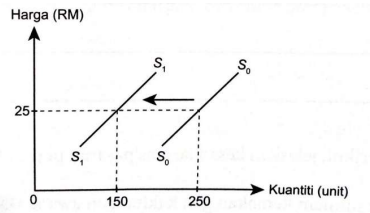
.....

.....

.....

[5 markah]

c) Rajah 1 menunjukkan perubahan keluk penawaran.



Rajah 1

Jelaskan penentu penawaran yang menyebabkan keluk beralih ke kiri?

.....

.....

.....

.....

.....

.....

.....

.....

.....

.....

[4 markah]

d) Jadual 1 berikut menunjukkan permintaan dan penawaran pasaran ayam pada pelbagai tingkat harga.

Harga (RM/kg)	Kuantiti Permintaan (kg)	Kuantiti penawaran (kg)
6	150	50
9	100	100
12	80	150
15	25	200

Jadual 1

(i) Lukis keluk keseimbangan pasaran pada kertas graf.

[4 markah]

(ii) Berdasarkan keluk di 1(d)(i), nyatakan harga dan kuantiti keseimbangan .

.....

.....


.....

.....

.....

.....

[2 markah]



SOALAN 2

- a) Gambar 3 menunjukkan kemudahan yang disediakan oleh institusi kewangan kepada pelanggan .



Gambar 3

- (i) Apakah kemudahan bayaran yang disediakan oleh institusi kewangan tersebut ?

.....
[1 markah]

- (ii) Berpandukan gambar di atas, mengapakah masyarakat kini gemar menggunakan kaedah pembayaran tersebut?

.....
.....
.....
.....
.....
.....
.....
.....
[3 markah]

(iii) Huraikan **tiga** kepentingan belanjawan peribadi.

.....

.....

.....

.....

.....

.....

.....

.....

.....

[6 markah]

b) Jadual 2 dibawah berkaitan dengan kos pengeluaran.

Output (unit)	Jumlah Kos (unit)	Kos Purata (unit)	Kos Marginal (unit)
0	100	-	-
1	150	150	50
2	190	95	40
3	210	X	20
4	240	60	Y
5	310	62	70
6	420	70	110

Jadual 2

(i) Berapakah nilai **X** dan nilai **Y**?

.....

.....

[2 markah]

(ii) Tafsirkan hubungan antara output dengan kos purata dan kos marginal pada tingkat output berikut:

a) Output 0-3

.....

.....

.....

[2 markah]

b) Output 4-6

.....

.....

.....

[2 markah]

c) Gambar 4 menunjukkan sejenis sistem pengangkutan.

Berdasarkan sistem pengangkutan di bawah, nyatakan :



Gambar 4

(i) Faedah Sosial

.....

.....

[2 markah]


(ii) Kos Sosial

.....
.....

[2 markah]

SOALAN 3

a) Gambar 5 menunjukkan kemudahan yang disediakan oleh kerajaan.



Gambar 5

Berdasarkan gambar di atas, jelaskan peranan kerajaan tersebut.

.....
.....
.....
.....
.....
.....

[4 markah]

b) Jelaskan kesan apabila sesebuah negara mencapai pertumbuhan ekonomi yang mampan.

.....
.....
.....
.....
.....

(4 markah)

c)

Malaysia mempunyai beberapa buah firma yang mampu mengeluarkan produk global dan beroperasi di beberapa negara secara serentak
--

(i) Nyatakan ciri lain sesebuah firma dianggap sebagai syarikat multinasional.

.....
.....

[1 markah]

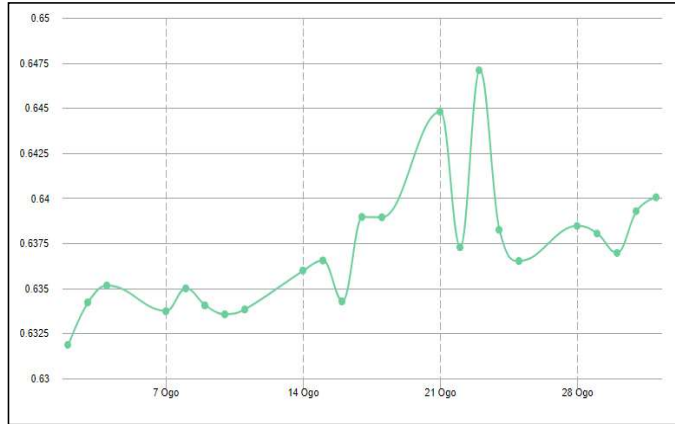
(ii) Huraikan faktor- faktor yang mendorong sesebuah firma memasuki operasi antarabangsa.

.....
.....
.....
.....
.....

(4 markah)

- d) Graf 1 menunjukkan kadar pertukaran asing antara Ringgit Malaysia(MYR) dengan Yuan Renminbi China (CNY) bagi bulan Ogos 2023.

Carta Pertukaran CNY kepada MYR



Sumber: <http://www.exchange-rates.org/my/penukar/cny-m>

Graf 1

- i) Berapakah nilai CNY (Chinese Yuan) berbanding MYR (Malaysia Ringgit) pada 21 Ogos 2023?

.....

[1 markah]

- ii) Syarikat Sime Darby Plantation Berhad telah mengeksport minyak sawit yang bernilai RM900 000 ke negara China pada 21 Ogos 2023. Hitungkan jumlah nilai dalam CNY yang perlu dibayar

.....

.....

.....

.....

[2 markah]

- iii) Jika kadar pertukaran asing berubah dari tarikh 21 Ogos 2023 kepada 28 Ogos 2023. Terangkan kesan perubahan kadar pertukaran terhadap

- a) eksport ke negara China

.....

.....

.....

[2 markah]

- b) import dari negara China

.....

.....

.....

[2 markah]

Bahagian B

[40 markah]

Jawab mana-mana DUA soalan daripada bahagian ini.

SOALAN 4

Maklumat di bawah berkaitan dengan masalah ketidakstabilan ekonomi..

AI dijangka akibatkan 83 juta hilang kerja

Gangguan besar akan berlaku dalam pasaran pekerjaan dalam tempoh lima tahun akan datang apabila lebih banyak syarikat mengguna pakai teknologi kecerdasan buatan (AI) dan ekonomi global bertambah buruk, lapor Anadolu, memetik laporan terbaharu Forum Ekonomi Dunia (WEF).

- Jelaskan kesan pengangguran tersebut terhadap masalah sosial negara. [4 markah]
- Adakah anda bersetuju penggunaan teknologi yang canggih dapat meningkatkan produktiviti sesebuah firma? Kemukakan alasan anda [9 markah]
- Bagaimanakah dasar fiskal dapat memperbaiki keadaan ekonomi tersebut? [7 markah]

SOALAN 5

Maklumat berikut berkaitan dengan gaya hidup golongan muda.

1,610 belia muflis direkodkan dalam tempoh 6 bulan

Kuala Lumpur : Membuat pinjaman peribadi dan kereta adalah penyebab utama golongan muda muflis semata-mata mahu memenuhi keperluan gaya hidup yang melangkaui kemampuan mereka. Pakar Kewangan Islam dan Fintech, Muhamad Fahmi Mustafa berkata, mengikut statistik, terdapat empat penyebab kebangkrapan paling tinggi iaitu pinjaman peribadi, pembelian kereta, pinjaman perniagaan dan pinjaman perumahan.

- Mengapakah golongan muda memilih cara hidup sedemikian? [6 markah]
- Bagaimanakah jenis pinjaman tersebut boleh menjadi punca masalah itu. [5 markah]
- Isu tersebut dapat diperbaiki dengan pengurusan kewangan yang baik. Buktikan [9 markah]

SOALAN 6

Petikan akhbar berikut berkaitan dengan Kadar Dasar Semalaman (OPR)

Terkini: OPR Naik Lagi Kepada 3.0 Peratus – BNM

Sumber: diubah suai <https://ecentral.my.3>
Mei 2023

- Bagaimanakah kenaikan kadar faedah tersebut dapat mengawal inflasi negara? [4 markah]
- Dengan bantuan gambarajah, huraikan kesan kenaikan kadar faedah tersebut terhadap pasaran barangan dan perkhidmatan. [7 markah]
- Jelaskan kesan kenaikan kadar faedah tersebut terhadap pengguna dan firma. [9 markah]

SOALAN 7

Maklumat berikut berkaitan dengan program Menu Rahmah yang disarankan oleh kerajaan.

Inisiatif Menu Rahmah tarik minat sektor lain

KUALA LUMPUR, 9 Feb (Bernama) – Inisiatif Menu Rahmah yang menawarkan makanan pada harga RM5 dan ke bawah turut menarik minat sektor lain termasuk perubatan untuk menyediakan harga murah kepada golongan memerlukan terutama B40.

- Pada pendapat anda, mengapakah kerajaan melancarkan Program Menu Rahmah? [4 markah]
- Jika inisiatif tersebut berjaya dilaksanakan, lukis dan jelaskan kesan perubahan penawaran perkhidmatan perubatan tersebut di pasaran. [7 markah]
- Bagaimanakah Program Rahmah dapat meningkatkan ekonomi negara? Huraikan secara terperinci. [9 markah]