

**BAHAGIAN A**  
**[60 Markah]**

1. (a) Gambar 1 di bawah merupakan sejenis faktor pengeluaran dalam ekonomi.



Dato' Aliff Syukri seorang pengasas D'Herbs  
Gambar 1

Jelaskan faktor pengeluaran tersebut.

.....

.....

.....

.....

.....

.....

.....

.....

.....

.....

.....

(5 markah)

(b) Maklumat berikut berkaitan satu sistem ekonomi.

- ✓ Pengguna bebas membuat pilihan barang
- ✓ Kerajaan campur tangan dalam penentuan harga

Bagaimanakah sistem ekonomi tersebut menyelesaikan masalah asas ekonomi berikut:

(i) Berapa yang hendak dikeluarkan.

.....  
.....  
.....  
.....  
.....

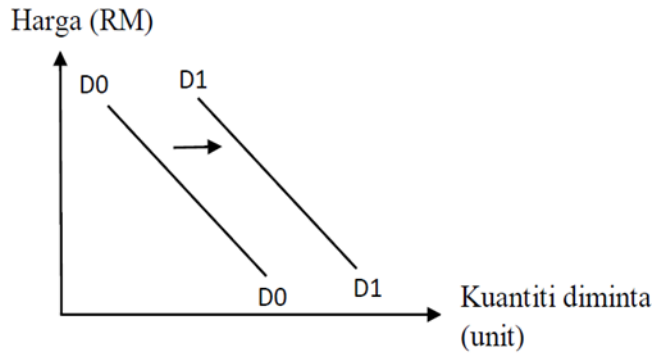
(2 markah)

(ii) Bagaimana hendak dikeluarkan.

.....  
.....  
.....  
.....  
.....  
.....

(3 markah)

(c) Rajah 3 menunjukkan permintaan terhadap sesuatu barang.



Rajah 1

Terangkan **dua** penentu yang menyebabkan peralihan keluk permintaan dari D0D0 ke D1D1.

.....

.....

.....

.....

.....

.....

.....

.....

.....

.....

(4 markah)

(d) Jadual 1 menunjukkan harga, kuantiti diminta dan kuantiti ditawarkan bagi barang X di sebuah pasaran.

Harga (RM)	Kuantiti diminta (Liter)	Kuantiti ditawarkan (Liter)
1.50	30	10
2.00	25	15
2.50	20	20
3.00	15	25
3.50	10	30
4.00	5	35

Jadual 1

(i) Nyatakan harga dan kuantiti keseimbangan.

.....

.....

[2 markah]

(ii) Hitungkan dan tafsirkan nilai pekali keanjalan permintaan bagi barang X apabila harga meningkat daripada RM 2.50 ke RM 3.00.

.....

.....

.....

.....

.....

.....

.....

.....

.....

.....

[4 markah]

2. (a) Jadual 2 di bawah menunjukkan pendapatan, perbelanjaan dan potongan wajib Encik Amir bagi tempoh satu bulan.

<b>Butiran</b>	<b>RM</b>
Gaji	3 200
Zakat	80
KWSP	352
Elaun	250
Makanan	800
Cukai pendapatan	10
Ansuran kereta	890
Bil semasa	250
Sewa rumah	450

Jadual 2

(i) Hitung pendapatan boleh guna Encik Amir.

.....

.....

.....

.....

.....

.....

(3 markah)

(ii) Terangkan tiga potongan wajib dalam pendapatan boleh guna.

.....

.....

.....

.....

.....

.....

.....

.....

.....

(6 markah)

(b) Jadual 3 di bawah menunjukkan fungsi pengeluaran jangka pendek.

<b>Input Tetap</b>	<b>Input Berubah</b>	<b>Jumlah Keluaran (unit)</b>	<b>Keluaran Purata (unit)</b>	<b>Keluaran Marginal (unit)</b>
5	0	0	-	-
5	1	5	5	5
5	2	<b>X</b>	6	7
5	3	28	9.33	16
5	4	42	<b>Y</b>	14
5	5	46	9.2	4
5	6	48	8	2
5	7	48	6.86	0
5	8	45	5.6	<b>Z</b>

Jadual 3

(i) Hitungkan nilai **X**, **Y** dan **Z**.

.....

.....

.....

.....

.....

.....

(3 markah)

(c) Jelaskan yang berikut:

(i) Kos tetap

.....  
.....  
.....  
.....

(2 markah)

(ii) Kos berubah:

.....  
.....  
.....  
.....


(2 markah)

d) Bagaimanakah faktor tenaga manusia dapat meningkatkan produktiviti sesebuah firma?

.....  
.....  
.....  
.....  
.....  
.....  
.....  
.....  
.....  
.....  
.....  
.....  
.....  
.....  
.....  
.....

(4 markah)

3. Gambar 2 di bawah menunjukkan satu daripada sektor ekonomi.



Gambar 2

(a) Terangkan peranan kerajaan dalam mengawal selia pengeluaran di atas?

.....

.....

.....

.....

.....

.....

.....

.....

.....

.....

(6 markah)

(b) Jelaskan kesan pengangguran terhadap :

(i) Ekonomi

.....

.....

.....

.....

.....

(2 markah)

(ii) Sosial

.....  
.....  
.....  
.....  
.....

(2 markah)

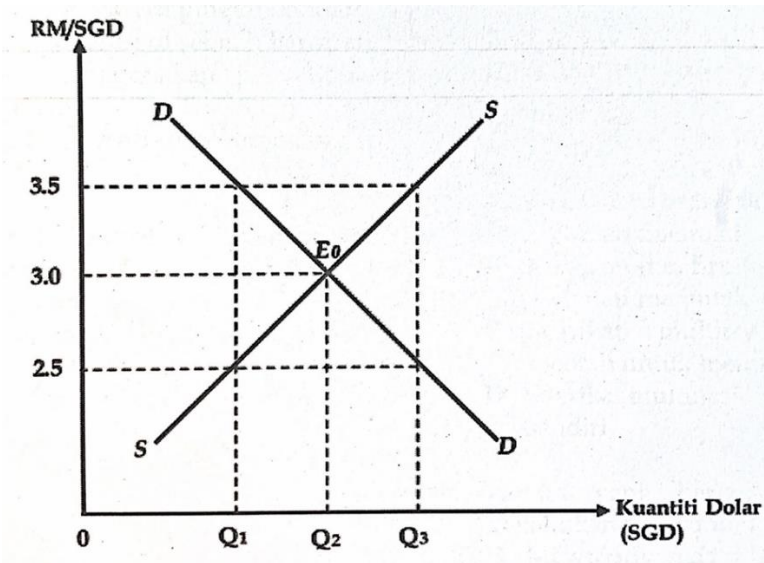
(c) Setiap negara di dunia melakukan perdagangan antarabangsa. Jelaskan kepentingan perdagangan antarabangsa terhadap sebuah negara.

.....  
.....  
.....  
.....  
.....  
.....  
.....  
.....  
.....  
.....  
.....

(6 markah)



(d) Rajah 1 di bawah menunjukkan kadar pertukaran antara Ringgit Malaysia (RM) berbanding dengan Dolar Singapura (SGD).



Rajah 1

(i) Jelaskan keadaan pasaran pertukaran asing pada kadar SGD1 = RM2.50

.....  
.....  
.....  
.....

(2 Markah)

(ii) Jelaskan keadaan pasaran pertukaran asing pada kadar SGD1 = RM3.50

.....  
.....  
.....  
.....

(2 Markah)

**BAHAGIAN B****[40 Markah]**Jawab mana-mana **dua** soalan daripada bahagian ini.

4. Maklumat berikut berkaitan dengan satu program kerajaan.

Rumah Mesra Rakyat 2024 diwujudkan bagi membantu golongan berpendapatan isi rumah di bawah RM5 000 yang tidak mempunyai rumah atau tinggal di rumah usang tetapi mempunyai tanah untuk membina rumah sendiri yang sempurna dan selesa.

*Sumber: [spnb.com.my/rumah-mesra-rakyat](http://spnb.com.my/rumah-mesra-rakyat)*

- (a) Terangkan faktor pengeluaran yang digunakan dalam program tersebut. (4 markah)
- (b) Jelaskan kesan program tersebut ke atas pasaran simen. (7markah)
- (c) Faktor yang mempengaruhi penawaran Rumah Mesra Rakyat ialah harga rumah tersebut. Bersetujukah anda dengan pernyataan tersebut? Berikan alasan anda. (9 markah)

5. Maklumat berikut menunjukkan maklumat pendapatan dan belanjawan peribadi pengguna di beberapa pusat bandar raya utama di Malaysia.

<b>Pusat bandaraya</b>	<b>Pendapatan boleh guna (RM) (anggaran/pengguna)</b>	<b>Perbelanjaan (RM) (anggaran/pengguna)</b>
Kuala Lumpur	6 000	5 000
Alor Setar, Kedah	4 000	3 000
Kota Kinabalu, Sabah	4 800	3 500
Kuching, Sarawak	6 800	4 800
Ipoh, Perak	3 400	2 500
Johor Bahru, Johor	7 700	6 500

- (a) Terangkan strategi simpanan yang dapat dilakukan oleh pengguna. (4 markah)
- (b) Mengapakah pola pendapatan boleh guna dengan perbelanjaan sedemikian? (7 markah)
- (c) Terangkan faktor-faktor yang mempengaruhi pemilihan pekerjaan. (9 markah)

## 6. Maklumat berikut berkaitan dengan inflasi.

RHB Research menjangkakan inflasi akan meningkat kepada 3% tahun ini daripada 2.1% pada tahun 2016. Jangkaan ini dibuat berdasarkan harga bahan api yang lebih tinggi, penghapusan subsidi ke atas harga barangan terpilih, peningkatan kos perniagaan serta penyusutan ringgit yang menyebabkan harga import yang lebih tinggi.

Sumber : *www.astroawani.com, 22 Februari 2017*

- (a) Terangkan **dua** jenis inflasi dalam petikan di atas. (4 markah)
- (b) Perubahan kadar inflasi pada tahun 2017 memberi kesan terhadap isi rumah.  
Bincangkan. (7 markah)
- (c) Cadangkan tindakan yang perlu anda laksanakan untuk menangani kesan pada 6(a). (9 markah)

## 7. Maklumat berikut berkaitan dengan trend percutian rakyat Malaysia.

Trend bercuti ke luar negara menyaksikan lebih banyak aliran keluar mata wang ringgit Malaysia (RM) dibimbangi memberi kesan buruk dalam jangka masa panjang. Hal itu didorong apabila ramai rakyat Malaysia kini mengambil kesempatan bercuti ke Thailand berbanding memanfaatkan masa yang ada untuk sektor pelancongan domestik di negara ini. Dalam keadaan nilai ringgit dibuka rendah berbanding dolar Amerika Syarikat (AS\$), ini bukanlah satu petanda baik selain 100 baht kini hanya bernilai RM12.32, semakin rendah.

Sumber : *https: Utusan Online, 18 September 2022*

- (a) (i) Jika anda merupakan salah seorang pelancong yang terlibat, berapakah nilai Baht yang diperolehi jika anda membawa RM5000 sepanjang berada di sana? (1 markah)
- (ii) Jelaskan komposisi dagangan yang terlibat. (4 markah)
- (b) Bersetujukah anda dengan trend rakyat Malaysia dalam situasi tersebut?  
Beri alasan. (9 markah)
- (c) Cadangkan langkah yang boleh diambil oleh kerajaan untuk mengekang trend tersebut dari berterusan. (6 markah)

~KERTAS SOALAN TAMAT~