

NAMA :

TINGKATAN:.....

MODUL PENINGKATAN PRESTASI MURID TINGKATAN 5

TAHUN 2024

PERNIAGAAN

KERTAS 2

DUA JAM LIMA BELAS MINIT


JANGAN BUKA MODUL INI SEHINGGA DIBERITAHU

1. Modul ini mengandungi **tiga bahagian: Bahagian A, Bahagian B dan Bahagian C**
2. Jawab **lima** soalan daripada **Bahagian A**, **dua** soalan daripada **Bahagian B** dan **satu** soalan wajib dalam **Bahagian C**.
3. Jawapan hendaklah ditulis dalam helaian kertas yang disediakan/ dibenarkan bawa masuk
4. Sekiranya anda hendak menukar jawapan, batalkan dengan kemas jawapan yang telah dibuat. Kemudian tulis jawapan yang baharu.
5. Markah yang diperuntukkan bagi setiap soalan atau ceraihan soalan ditunjukkan dalam kurungan.
6. Anda dibenarkan menggunakan kalkulator saintifik.
7. Tuliskan nama anda pada kertas modul ini. Kertas soalan dan jawapan hendaklah diserahkan kepada guru bertugas pada akhir peperiksaan.

Modul ini mengandungi 24 halaman bercetak

Bahagian A
[50 markah]
Jawab mana-mana *lima* soalan.

1 Gambar 1 menunjukkan sebuah milikan perniagaan.



Gambar 1

(a) (i) Mengapakah keuntungan penting kepada perniagaan di atas? [4 markah]

(ii) Jelaskan prosedur pendaftaran yang perlu dipatuhi oleh perniagaan di 1(a)(i). [3 markah]

(b) Maklumat berikut berkaitan petikan perlindungan pengguna.

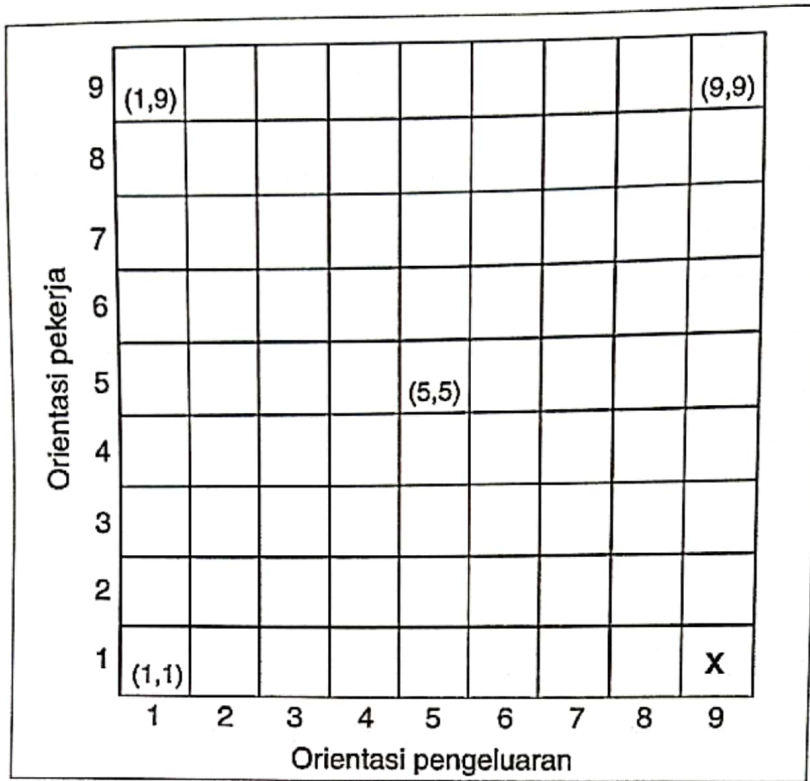
KUALA LUMPUR - Kerajaan memperhalusi segala undang-undang yang memberikan perlindungan kepada pengguna termasuk 'lemon laws' yang digunapakai di negara maju. Menteri Perdagangan Dalam Negeri dan Hal Ehwal Pengguna (KPDNHEP), Datuk Seri Alexander Nanta Linggi berkata, 'lemon laws' dilaksanakan di Amerika Syarikat untuk melindungi pembeli yang berdepan kerosakan kenderaan yang tidak boleh dibaiki atau punca kerosakan yang tidak diketahui. Tribunal Tuntutan Pengguna Malaysia (TTPM) menerima sebanyak 1,126 aduan berkenaan pembelian kereta baru dan terpakai antara Januari hingga Ogos lalu.

Sumber : Diubahsuai <http://sinarharian.com.my>, 30 Ogos 2022

Jelaskan tujuan kerajaan menggubal undang - undang tersebut.

[3 markah]

2 (a) Rajah 1 menunjukkan grid pengurusan sebuah perniagaan.



Rajah 1

(i) Apakah gaya pengurusan X?

[1 markah]

(ii) Jelaskan gaya pengurusan di 2(a)(i).

[4 markah]

3 (a) Gambar 2 berkaitan dengan sumber teknologi bagi sebuah perniagaan.



Gambar 2

Mengapakah sumber tersebut perlu diurus dengan baik?

[6 markah]

(b) Maklumat berikut berkaitan dengan sejenis pembiayaan.

Puan Nora menjalankan perniagaan sate sejuk beku. Beliau mengeluarkan cek bernilai RM 20 000 untuk menjelaskan hutang kepada pembekal daripada akaun semasa perniagaan yang hanya berbaki RM 15 000.

Jelaskan kelebihan pembiayaan yang digunakan oleh Puan Nora.

[4 markah]


4 (a) Maklumat berikut berkaitan dengan objektif perniagaan Syarikat Cocoa Delight Sdn. Bhd.

- Menetapkan sasaran pengeluaran minuman *cocoa oat* sebanyak 100 000 unit setiap bulan.
- Menduduki tempat ketiga tertinggi dalam jualan minuman berkhasiat di negeri Kedah untuk tempoh lima tahun.

Terangkan ciri-ciri objektif perniagaan tersebut.

[6 markah]

(b) Dialog berikut berkaitan dengan bahagian fungsian dalam sebuah perniagaan.



Jelaskan peranan Encik Zul.

[4 markah]

5 (a) Jelaskan nisbah untung.

[4 markah]

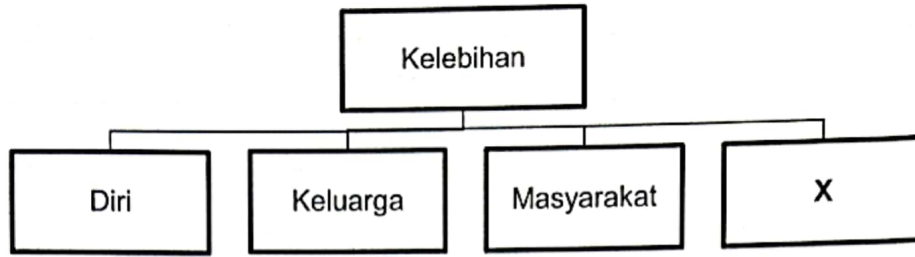
(b) Maklumat berikut berkaitan dengan dokumen perniagaan.

Tarikh	Butiran
05 Ogos 2024	Menerima dokumen X daripada pihak bank
23 Ogos 2024	Membeli alat tulis di Kedai Buku Maju dan menerima dokumen Y

Jelaskan dokumen X dan Y.

[6 markah]

6 (a) Rajah 2 menunjukkan kelebihan menjadi usahawan.



Rajah 2

Jelaskan X.

[4 markah]

.....

.....

.....

.....

.....

(b) Maklumat berikut berkaitan tanggungjawab seorang usahawan setelah mendaftarkan perniagaan.

Cik Sufiah menjalankan perniagaan Kedai Roti Sufi di Baling, Kedah. Beliau telah mempamerkan papan tanda perniagaannya mengikut spesifikasi yang telah ditetapkan oleh Majlis Daerah Baling.

Jelaskan tanggungjawab lain yang perlu dipatuhi oleh Cik Sufiah.

[6 markah]

.....

.....

.....

.....

.....

.....

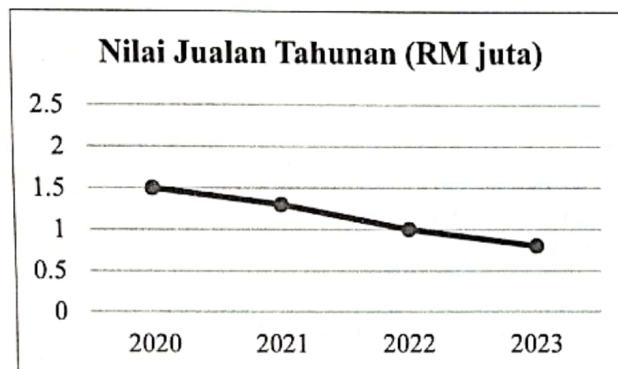
.....

Bahagian B

[30 markah]

Jawab mana-mana **dua** soalan daripada bahagian ini.

- 7 MF Digital Sdn. Bhd. merupakan sebuah syarikat menjual dan membaiki komputer yang beroperasi di Alor Setar, Kedah. Perniagaan ini telah ditubuhkan pada tahun 2013 dengan mempunyai tiga buah cawangan. Graf berikut menunjukkan trend perniagaan MF Digital Sdn. Bhd. dalam tempoh empat tahun.



Pemilik perniagaan mengambil perhatian serius terhadap trend semasa tersebut. Sebagai langkah permulaan, pemilik memutuskan untuk menjalinkan perkongsian strategik dengan Syarikat Digital International Berhad dari Singapura. Hasil perbincangan awal, kedua-dua pihak bersetuju untuk menjalankan kerjasama tersebut. Sejak kebelakangan ini, perniagaan telah menerima aduan daripada beberapa orang pelanggan tentang jurujual yang kurang pengetahuan mengenai spesifikasi komputer. Selain itu terdapat juga komputer yang masih rosak walaupun telah dibaiki.

- (a) Jelaskan faktor dalaman yang mempengaruhi trend perniagaan MF Digital Sdn. Bhd.

[5 markah]

- (b) Jelaskan kelebihan keputusan pemilik MF Digital Sdn. Bhd.

[5 markah]

- (c) Cadangkan tindakan yang boleh diambil oleh pemilik MF Digital Sdn. Bhd. untuk menangani masalah pekerjaanya.

[5 markah]

8 Maklumat berikut berkaitan dengan Perniagaan Kek & Pastrri Nona Manis.

Puan Ramona merupakan pemilik kedai Kek & Pastrri Nona Manis di Sungai Petani, Kedah. Perniagaan ini menghasilkan pelbagai jenis kek dan pastrri yang memenuhi citarasa pelanggan masa kini. Tempahan kek dan pastrri yang semakin meningkat menyebabkan beliau perlu menambahkan bahan mentah perniagaannya. Berikut adalah senarai harga bahan mentah terkini dari pembekal.

Butiran	Harga (RM)		
	Julai	Ogos	September
Tepung gandum (kg)	3.15	3.30	3.50
Gula (kg)	2.85	2.95	3.00
Telur gred A (papan)	13.50	13.60	13.80
Mentega (kg)	15.30	16.50	17.20

Melihat kepada situasi harga tersebut, beliau bimbang keuntungan perniagaannya akan terjejas. Hasil perbincangan, Puan Aini sebagai pengurus kewangan mencadangkan agar harga jualan dinaikkan. Namun, Encik Halim sebagai pengurus pemasaran tidak bersetuju dan mencadangkan agar perniagaan menumpukan kepada strategi produk dan promosi. Setelah Puan Ramona mempertimbangkan kedua-dua cadangan tersebut, beliau memilih untuk menerima cadangan Puan Aini.

- (a) Jelaskan masalah ekonomi yang dihadapi oleh Puan Ramona. [4 markah]
- (b) Bagaimanakah cadangan Encik Halim dapat membantu perniagaan Puan Ramona? [6 markah]
- (c) Jelaskan implikasi keputusan Puan Ramona kepada perniagaan. [5 markah]

9 Maklumat berikut berkaitan dengan pasaran barangan sukan.

Mega Sukan Enterprise merupakan sebuah perniagaan menjual pelbagai barangan sukan untuk pasaran tempatan. Perniagaan ini dimiliki oleh Puan Jamilah sebagai pengurus besar.

Dalam satu mesyuarat, Puan Jamilah telah meminta pengurus kewangan membentangkan laporan kewangan. Namun begitu Puan Jamilah tidak berpuas hati kerana analisis penyata kewangan tidak disediakan. Walau bagaimanapun, Puan Jamilah berpuas hati dengan laporan pengurus pemasaran tentang syer pasaran seperti berikut:

Nama perniagaan	Syer Pasaran
Mega Sukan Enterprise	45%
Teguh Sport Enterprise	35%
Cergas Enterprise	20%

Tonggak kejayaan Mega Sukan Enterprise terletak kepada kekuatan yang dimiliki oleh Puan Jamilah. Beliau bijak dalam membuat keputusan dan mempunyai kemahiran komunikasi yang baik dengan semua pihak dalam organisasi.

- (a) Mengapakah Puan Jamilah tidak berpuas hati apabila analisis penyata kewangan tidak disediakan? [6 markah]
- (b) Jelaskan syer pasaran perniagaan Mega Sukan Enterprise. [5 markah]
- (c) Anda berpendapat Puan Jamilah mempunyai kekuatan sebagai seorang usahawan. Berikan alasan anda. [4 markah]

Bahagian C
 [20 markah]
 Soalan ini **wajib** dijawab.

- 10 Perniagaan Butik Pengantin Inai Jejari merupakan sebuah perniagaan yang dimiliki oleh dua orang sahabat Cik Izurin dan Cik Nabila. Perniagaan ini beroperasi sejak tahun 2014 di Taman Seri Indah Sungai Petani, Kedah. Perniagaan ini menawarkan pelbagai pakej perkahwinan termasuk andaman pengantin, sewaan baju pengantin dan dekorasi pelamin.

Perniagaan Butik Pengantin Inai Jejari memiliki 10 orang pekerja yang telah bekerja sejak perniagaan mula beroperasi. Kesetiaan mereka disebabkan oleh persekitaran kerja yang positif dan harmoni.

Hasil kerja yang sentiasa memenuhi citarasa pelanggan menyebabkan butik menerima tempahan yang tinggi. Bagi mengembangkan perniagaan ini, Cik Izurin mencadangkan kepada Cik Nabila agar mereka mengikuti latihan yang dianjurkan oleh Perbadanan Usahawan Nasional Berhad (PUNB). Cik Nabila bersetuju dengan cadangan sahabatnya dan tertarik dengan kursus berikut:

PUNB

KURSUS ASAS KEUSAHAWANAN

**PENINGKATAN MAKSIMA
PERNIAGAAN**

KELEBIHAN

- ✓ Mahir menjalankan pemasaran secara online dan offline
- ✓ Membantu membaiki mutu produk
- ✓ Meningkatkan motivasi keusahawanan

DAFTAR SEGERA

 1300-13-7888
 www.punb.com

Baru-baru ini, Cik Izurin telah menyemak Penyata Aliran Tunai Butik Pengantin Inai Jejari yang disediakan oleh Cik Nabila selaku pengurus kewangan. Beliau terkejut kerana berlaku kurangan aliran tunai untuk tiga bulan berturut - turut. Berikut adalah penyata aliran tunai tersebut:

Penyata Aliran Tunai bagi 3 bulan berakhir 30 Jun 2024

Butiran	April RM	Mei RM	Jun RM
Baki awal	10 600	2 420	(8 010)
Jualan	22 700	23 200	24 540
Penerimaan daripada Penghutang	3 800	2 500	2 370
Jumlah penerimaan	26 500	25 700	26 910
Gaji	23 000	23 000	23 000
Belian	8 300	9 700	10 800
Belanja utiliti	480	530	620
Sewa	2 900	2 900	2 900
Jumlah pembayaran	X	36 130	37 320
Lebihan / kurangan	(8 180)	Y	(10 410)
Baki h/b	2 420	(8 010)	Z

Keadaan ini menyebabkan terjadinya perselisihan faham antara mereka. Cik Izurin menuduh Cik Nabila tidak mengurus kewangan secara bijak hingga berlakunya pembaziran perbelanjaan. Hubungan mereka mula menjadi renggang dan saling menyalahkan antara satu sama lain.

Berdasarkan situasi di atas, jawab soalan-soalan berikut:

- (a) Huraikan sektor perniagaan yang diceburi oleh Cik Izurin dan Cik Nabila. [3 markah]
- (b) Mengapakah kursus tersebut penting kepada Cik Nabila dan Cik Izurin? [5 markah]
- (c) (i) Hitungkan nilai X, Y dan Z. [3 markah]
 (ii) Cadangkan tindakan yang boleh diambil oleh Cik Izurin untuk membaiki aliran tunai perniagaannya. [5 markah]
- (d) Pada pendapat anda wajarkah perniagaan tersebut diteruskan? Beri alasan anda. [4 markah]

MODUL TAMAT

RUANGAN JAWAPAN
BAHAGIAN B

SOALAN 7

A series of 20 horizontal dashed lines for writing the answer to Question 7.

SOALAN 8

PLAID

A series of 20 horizontal dashed lines for writing, arranged in 10 pairs. Each pair consists of a solid top line and a dashed bottom line, with a gap in between for text entry.

SOALAN 9

A series of 20 horizontal dashed lines for writing.

RUANGAN JAWAPAN
BAHAGIAN C

SOALAN 10

A series of 20 horizontal dashed lines provided for writing the answer to the question.