



KEMENTERIAN PENDIDIKAN  
PEJABAT PENDIDIKAN DAERAH JASIN



# Modul Pentaksiran **INTERVENSI** **MASYHUR**

**PENAJA**

**Dr. Hayati binti Jaafar**  
Pakar Kanak - Kanak  
Hospital Pantai, Ayer Keroh. Melaka  
014 - 3157553

**SPM**  
**2024**

**EKONOMI**

# PENTAKSIRAN INTERVENSI MASYHUR

Edisi 1 : 2021

Edisi 2 : 2022

Edisi 3 : 2023

Edisi 4 : 2024

## @ Hak Cipta Terpelihara

Tidak dibenarkan mengeluarkan mana-mana bahagian rencana, ilustrasi dan isi kandungan bahan ini dalam apa jua bentuk dan dengan apa cara pun sama ada secara elektronik, fotokopi, mekanik, rakaman atau cara lain sebelum mendapat izin bertulis daripada penerbit. Tanggungjawab hak cipta tidak ada kena mengena dengan maklumat yang terkandung di dalam bahan ini.

## Penerbit:

### **PEJABAT PENDIDIKAN DAERAH JASIN**

Jalan Pegawai, 77000 Jasin. Melaka

## Tajaan Penerbitan:

### **DR. HAYATI BINTI JAAFAR**

Klinik Pakar Kanak-Kanak  
Hospital Pantai, Ayer Keroh. Melaka

## Suntingan Grafik oleh:

**Remy Azman bin Abdul Rashid**

**Siti Zainab binti Mat Nor**

**Nurul Fareha binti Rosli**

**Amiza binti Mad Zin**

**Mohammad Firdhaus bin Abu Bakar**

Pegawai Unit Sumber Teknologi Pendidikan  
Pejabat Pendidikan Daerah Jasin

## Dicetak oleh:

### **KHIDMAT JAYA ENT SDN. BHD**

No 24 Jalan Kerambit 5, Bandar Baru Sungai Udang  
76300 Melaka

Tel: 012-7215480

Email: [printing@khidmatjaya.com.my](mailto:printing@khidmatjaya.com.my)

## *Mutiara Kata Bingkisan Hati*

### **PEGAWAI PENDIDIKAN DAERAH JASIN**

Assalamualaikum WBT dan Salam Sejahtera.  
Salam Malaysia Madani.  
Pendidikan Berkualiti, Insan Terdidik, Negara Sejahtera.  
# ppdjasinBITARA



Alhamdulillah, bersyukur ke hadrat Allah SWT kerana dengan izin dan rahmatNya telah berjaya menerbitkan Pentaksiran Intervensi Masyhur.

Ribuan terima kasih dan setinggi-tinggi penghargaan saya titipkan kepada Dr. Hayati binti Jaafar, Pakar Kanak-Kanak, Hospital Pantai Ayer Keroh Melaka kerana menabur budi dan bekerjasama dengan Pejabat Pendidikan Daerah Jasin. Dr Hayati memperuntukkan dana dengan menaja Program Pentaksiran Intervensi Masyhur.

Beliau telah menaja penerbitan Pentaksiran Intervensi Masyhur bagi 15 subjek teras dan elektif edisi ke 4. Pentaksiran ini banyak membantu calon-calon Sijil Pelajaran Malaysia khususnya untuk melaksanakan aktiviti pengayaan dan pengukuhan sebelum menduduki peperiksaan. Penggunaan pentaksiran ini menyumbang kepada peningkatan Gred Purata Daerah saban tahun. Justeru itu, saya mengucapkan terima kasih dan tahniah kepada semua pihak terutama barisan penulis yang telah bertungkus lumus menghasilkan pentaksiran lengkap ini. Mudah-mudahan bahan pentaksiran ini akan terus dijadikan rujukan dan refleksi terhadap inisiatif guru untuk melonjakkan kualiti pendidikan di daerah Jasin

Melalui penerbitan Pentaksiran Intervensi Masyhur ini juga dapat dijadikan bahan untuk mengukuhkan lagi persediaan calon Sijil Pelajaran Malaysia dalam menghadapi peperiksaan. Pentaksiran ini merupakan dokumen yang komprehensif, dinamik dan realistik bagi memantapkan intelektual murid ke arah kecemerlangan yang mampan dan memberi impak tinggi dalam kemenjadian murid dan kecemerlangan sekolah.

Oleh itu, kejayaan dalam menghasilkan Pentaksiran Intervensi Masyhur ini diiringi dengan niat dan azam yang tinggi, dapat menggalas amanah dan tanggungjawab dalam membentuk modal insan cemerlang di dunia dan di akhirat. Sementelahan, diharapkan usaha murni ini dapat diteruskan agar melahirkan generasi masyarakat yang gemilang sesuai dengan agenda pendidikan negara.

Sekian, terima kasih.  
*Menjana Pendidikan Ke Aras Kecemerlangan Global*

**MOHD YUSOF BIN SAID B.C.M**  
**PEGAWAI PENDIDIKAN DAERAH JASIN**

## *Mengungkap Tinta Inspirasi Ilmu*

### **TIMBALAN SEKTOR PEMBELAJARAN**

Assalamualaikum wbt wrt dan Salam Sejahtera  
Salam Malaysia Madani  
Pendidikan Berkualiti, Insan Terdidik Negara Sejahtera.  
#ppdjasinBITARA



Alhamdulillah, dengan penuh rasa syukur ke hadrat Allah Taala, Modul Pentaksiran Intervensi Masyhur telah berjaya diterbitkan dengan jayanya. Kejayaan ini adalah hasil limpah rahmat dan inayah-Nya yang tiada terhingga.

Saya ingin merakamkan setinggi-tinggi penghargaan dan ucapan terima kasih kepada Dr. Hayati binti Jaafar, Pakar kanak-Kanak, Hospital Pantai Ayer Keroh Melaka kerana menabur budi dan memberikan kerjasama erat dengan Pejabat Pendidikan Daerah Jasin. Penerbitan modul Pentaksiran Intervensi Masyhur ini tidak mungkin direalisasikan tanpa sokongan dan komitmen jitu daripada pihak penaja yang terlibat.

Modul ini dirancang dengan tujuan yang jelas: untuk memperkasa para pendidik dalam melaksanakan penilaian yang berfokus dan berkualiti, serta mempamerkan pelbagai teknik dan alat pentaksiran yang boleh digunakan. Diharapkan bahan ini menjadi sumber rujukan yang berkesan dalam usaha meningkatkan mutu pendidikan dan pentaksiran di kalangan pendidik dan murid.

Pentaksiran Intervensi Masyhur bukan sekadar sebuah modul, tetapi merupakan alat penting dalam proses pengukuhan pembelajaran. Penggunaannya yang meluas merangkumi pelbagai mata pelajaran menjadikannya satu keperluan yang kritikal dalam dunia pendidikan. Keistimewaan modul ini terletak pada keseragaman dalam pentaksiran, di mana penulis merujuk kepada analisis data *Continuous Quality Improvement* (CQI@Jasin) sebagai petunjuk prestasi. Keseragaman ini memastikan keadilan dan ketelusan dalam proses pembelajaran, di mana murid dinilai berdasarkan standard yang sama.

Ribuan terima kasih juga diucapkan kepada semua pihak yang terlibat secara langsung mahupun tidak langsung dalam menjayakan penerbitan ini. Kepada panel penulis yang mencurahkan masa dan tenaga mereka untuk menghasilkan kandungan yang berkualiti, serta jawatankuasa kerja yang tidak mengenal lelah dalam memberikan sokongan logistik dan moral, jasa kalian amatlah dihargai.

Akhir kata, semoga Pentaksiran Intervensi Masyhur ini mampu menjadi alat yang efektif dalam meningkatkan kualiti pendidikan melalui pentaksiran yang berstruktur dan komprehensif, serta menyumbang kepada peningkatan prestasi kejayaan calon SPM.

Sekian, terima kasih.  
*Mengakselerasi Pendidikan Madani*

**DR. HAJI MOHD ALFOUZII BIN NASIR**  
**TIMBALAN SEKTOR PEMBELAJARAN**





**SULAIDE BIN SULAIMAN**  
PENYELARAS - SISC+ - PPD Jasin



**SARIZA BINTI RAHIM**  
KETUA PANEL - SMKA Tun Perak



**SITI SARAH BINTI MASLAN**  
SMK Simpang Bekoh



**FAZANA BINTI RUSLI**  
SMK Selandar



**SITI ADLIN DIANA BINTI OMAR**  
SMKA Tun Perak



**SUHANA BINTI MASHURI**  
SMK Dang Anum



**TAN BOON MOY**  
SMK Tan Sri Abdul Aziz Tapa



**NORZALINA BINTI MD DOM**  
SMK Dato' Abdul Rahman Ya'kub



**NUR NAZIRA BINTI NAZMAL**  
SMK Sungai Rambai



**MOHD KHAIRI BIN KABIL**  
SMK Tun Syed Zahiruddin



**NOR HAZILAH BINTI ABD HAMID**  
SMK Seri Mahkota



**SOALAN OBJEKTIF**  
**TINGKATAN 4**  
**BAB 1 : PENGENALAN KEPADA EKONOMI**

1. Ilmu ekonomi mengkaji tentang bagaimana manusia
  - A menggunakan wang bagi meningkatkan tabungan masa depan
  - B menyeimbangkan pelbagai kehendak dengan sumber ekonomi yang ada
  - C mengurangkan jurang perbezaan antara golongan kaya dengan golongan miskin
  - D menghasilkan keluaran dengan menggunakan faktor pengeluaran secara maksimum
  
2. Masalah pilihan dalam ekonomi berlaku kerana
  - A faktor pengeluaran dalam ekonomi adalah terhad
  - B kadar pertumbuhan penduduk yang tidak terkawal
  - C kehausan dan kepupusan sumber alam semulajadi
  - D faktor pengeluaran adalah tidak terhad dalam ekonomi
  
3. Pernyataan yang manakah **betul** tentang faktor pengeluaran?
  - A Tanah merupakan sumber yang penawarannya tidak terhad
  - B Modal merupakan alat ciptaan manusia yang mempunyai mobiliti yang tinggi
  - C Usahawan adalah individu yang menyumbangkan tenaga fizikal dan mental dalam proses pengeluaran
  - D Buruh merupakan individu yang menggabungkan sumber ekonomi untuk menghasilkan barang dan perkhidmatan
  
4. Apakah tujuan isi rumah membuat pilihan apabila membeli barangan?
  - A Memenuhi kehendak manusia
  - B Meminimumkan kos pengeluaran
  - C Memaksimumkan kepuasan pengguna
  - D Memaksimumkan kebajikan masyarakat
  
5. Pernyataan manakah yang merujuk kepada masalah kekurangan yang dihadapi oleh firma?
  - A Muhammad Ali seorang tukang masak professional sukar mendapatkan pisau pemotong daging yang berkualiti
  - B Puan Orkid mengambil tempahan pakaian di rumah tidak dapat menyiapkan tugas kerana masa yang suntuk
  - C Cik Rahmah yang mengajar tuisyen persendirian gagal mendapatkan pinjaman untuk menambah perabot rumahnya
  - D Encik Nizam belum menjelaskan yuran pengajian anaknya di sebuah kolej swasta terkemuka
  
6. Antara berikut yang manakah **betul**?
  - A Sebuah firma terpaksa membuat pilihan akibat kekurangan buruh mahir untuk mengeluarkan barang dan perkhidmatan
  - B Seorang suri rumah terpaksa membuat pilihan akibat kekurangan modal untuk berbelanja bagi keperluan keluarganya
  - C Seorang petani terpaksa membuat pilihan akibat kekurangan sumber pendapatan untuk menghasilkan keluaran pertanian
  - D Sebuah kerajaan negeri terpaksa membuat pilihan akibat kekurangan faktor pengeluaran untuk melaksanakan projek pembangunan



11. Mengapakah usahawan menerima pulangan untung?
- A Menanggung penggunaan input pada masa sekarang
  - B Meletakkan lebih modal dalam akaun pelaburan di bank
  - C Memiliki kecekapan dalam menggabungkan faktor pengeluaran
  - D Menyumbangkan tenaga fizikal dan mental dalam proses pengeluaran
12. Manakah yang berikut merupakan andaian dalam analisis keluk kemungkinan pengeluaran (KKP)?
- I Tingkat teknologi tetap
  - II Ekonomi mencapai guna tenaga penuh
  - III Ekonomi mengeluarkan tiga jenis barang sahaja
  - IV Sumber ekonomi yang dimiliki adalah pelbagai
- A I dan II
  - B I dan IV
  - C II dan III
  - D III dan IV
13. Antara berikut yang manakah **benar** tentang keluk kemungkinan pengeluaran?
- A Pengeluaran kedua-dua barang di sepanjang keluk kemungkinan pengeluaran dapat ditambah secara serentak dengan menggunakan semua sumber ekonomi
  - B Kombinasi pengeluaran yang tidak cekap berlaku pada salah satu titik di sepanjang keluk kemungkinan pengeluaran
  - C Sumber ekonomi yang tidak digunakan sepenuhnya akan menyebabkan masalah ketidakupayaan ekonomi
  - D Untuk menambah kuantiti pengeluaran suatu barang terpaksa mengorbankan kuantiti pengeluaran barang yang lain

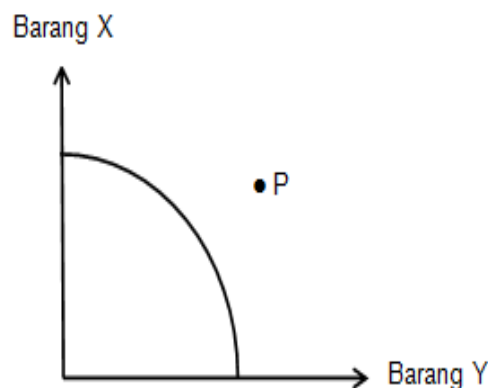
14. Jadual di bawah menunjukkan dua barang yang dikeluarkan oleh sesuatu firma.

Kaedah Pengeluaran	Meja (unit)	Kerusi (unit)
M	100	35
N	70	40
P	40	60
Q	20	75

Jika pihak pengurusan firma tersebut mengambil keputusan untuk mengubah kaedah pengeluaran daripada kaedah P kepada kaedah Q, berapakah unit meja yang terpaksa dilepaskan?

- A 15
- B 20
- C 30
- D 45

15. Rajah di bawah menunjukkan sebuah keluk kemungkinan pengeluaran.



Pilih pernyataan yang **benar** menggambarkan kombinasi pengeluaran di titik P.

- A Faktor pengeluaran tidak digunakan secara optimum
- B Tingkat pengeluaran berlaku pada tahap guna tenaga penuh
- C Faktor pengeluaran digunakan secara maksimum tanpa pembaziran
- D Tingkat pengeluaran barang tidak tercapai akibat kekurangan faktor pengeluaran

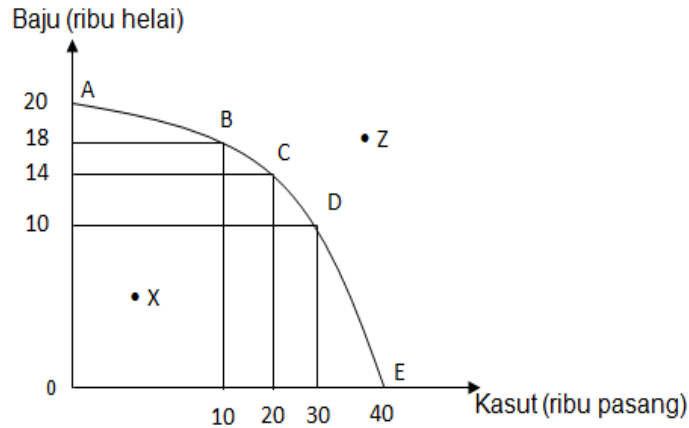




Pernyataan yang manakah menjelaskan kesan perubahan kombinasi pengeluaran titik A ke B?

- A Pengeluaran Y berkurang sebanyak 100 unit
- B Pengeluaran X bertambah sebanyak 400 unit
- C Tidak wujud masalah pilihan dan kos lepas
- D Ekonomi mencapai guna tenaga penuh

20. Rajah di bawah berkaitan dengan Keluk Kemungkinan Pengeluaran (KKP).



Pernyataan manakah yang **betul** berkaitan dengan KKP di atas?

- I Titik X menunjukkan kombinasi pengeluaran yang cekap
  - II Titik C menunjukkan berlaku kos lepas terhadap baju sebanyak 10 000 unit
  - III Titik Z menunjukkan ketidakupayaan ekonomi dalam mengeluarkan baju dan kasut
  - IV Titik ABCDE menunjukkan masalah pilihan di sepanjang KKP
- |             |              |
|-------------|--------------|
| A I dan II  | C II dan IV  |
| B I dan III | D III dan IV |

21. Syarikat Hazri Trading bercadang mengeluarkan 1 500 makanan ringan dengan menggunakan mesin yang diimport dari Australia.

Apakah masalah asas ekonomi lain yang perlu dipertimbangkan oleh Syarikat tersebut?

- A Untuk siapa dikeluarkan
- B Berapa hendak dikeluarkan
- C Apa yang hendak dikeluarkan
- D Bagaimana hendak dikeluarkan

22. Pernyataan berikut berkaitan dengan penyelesaian masalah asas ekonomi.

Barang dikeluarkan berdasarkan teknik pengeluaran yang cekap.

Apakah masalah asas ekonomi tersebut?

- A Apa yang hendak dikeluarkan
- B Berapa yang hendak dikeluarkan
- C Bagaimana hendak dikeluarkan
- D Untuk siapa dikeluarkan

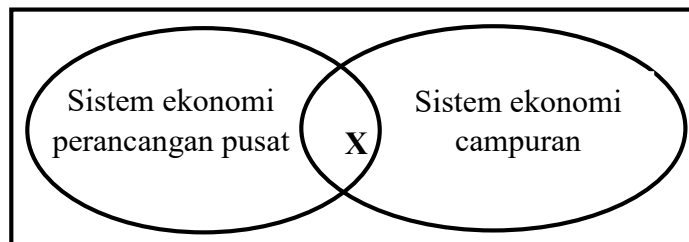
23. Maklumat berikut berkaitan dengan penyelesaian masalah asas ekonomi.

Kenaikan kos upah di sektor perindustrian telah menyebabkan firma bertukar kepada penggunaan mesin bagi memenuhi permintaan pasaran.

Pernyataan tersebut merujuk kepada

- A Jenis output
- B Kuantiti barang
- C Teknik pengeluaran
- D Corak agihan barang

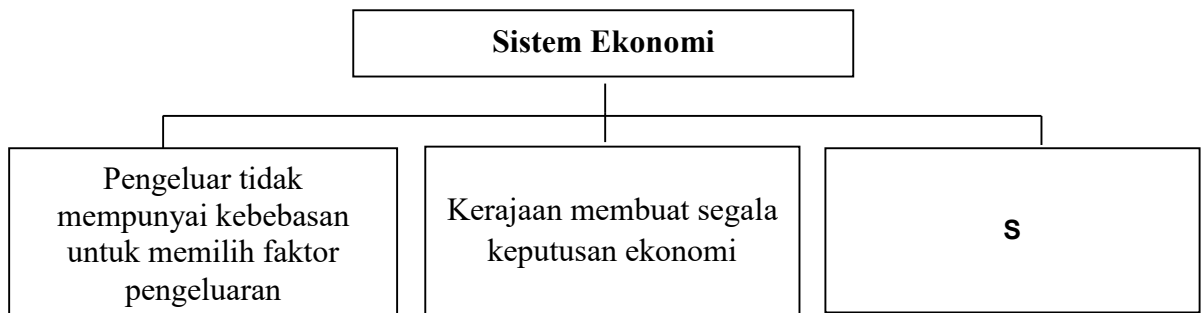
24. Rajah di bawah menunjukkan persamaan ciri bagi dua sistem ekonomi.



Apakah X ?

- A Memaksimumkan kepuasan
- B Mengawal harga barang keperluan
- C Kebebasan dalam membuat pilihan barangan
- D Harga barangan ditentukan melalui mekanisme harga

25. Maklumat di bawah menunjukkan ciri sistem ekonomi sebuah negara.



Pernyataan manakah yang mewakili S?

- A Wujud mekanisme harga
- B Kebajikan masyarakat diutamakan
- C Persaingan yang bebas antara pengeluar
- D Motif pengeluaran adalah memaksimumkan keuntungan

26. Pernyataan yang manakah merujuk kepada peranan kerajaan dalam sistem ekonomi di Malaysia?

- I Memaksimumkan untung dan kebajikan
  - II Mencapai kebahagiaan dunia dan akhirat
  - III Merapatkan jurang pendapatan pengguna
  - IV Mengawal harga barang dan perkhidmatan
- A I dan II
  - B I dan IV
  - C II dan III
  - D III dan IV

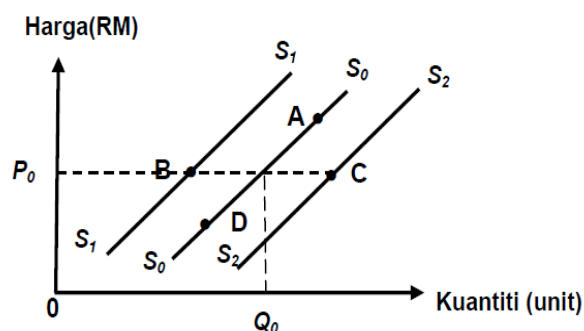


## BAB 2 : PASARAN

1. Pernyataan manakah yang **betul** tentang permintaan berkesan?
  - A Kehendak yang tidak terbatas
  - B Minat terhadap sesuatu barang
  - C Keperluan yang mesti dipenuhi
  - D Keinginan yang mampu dimiliki
2. Pernyataan manakah **benar** tentang hukum permintaan?
  - A Sofea akan membeli lebih banyak barang apabila harga barang jatuh
  - B Fauzan akan membeli lebih banyak barang apabila harga barang meningkat
  - C Syarikat Amir akan mengeluarkan lebih banyak barang apabila harga barang jatuh
  - D Syarikat Wafi akan mengeluarkan lebih banyak barang apabila harga barang meningkat
3. Pernyataan yang manakah **betul** tentang keluk permintaan individu?
  - A Kecerunan lebih landai daripada keluk permintaan pasaran
  - B Hubungan antara harga dan kuantiti diminta adalah negatif
  - C Menunjukkan keluk yang mencerun ke bawah dari kanan ke kiri
  - D Penurunan harga barang itu menyebabkan keluk beralih ke kanan
4. Pernyataan yang manakah **betul** berkaitan hukum penawaran?
  - A Keluk yang mencerun ke bawah dari kiri ke kanan
  - B Hubungan positif antara harga dan kuantiti ditawarkan
  - C Apabila harga turun, kuantiti ditawarkan akan meningkat
  - D Kuantiti meningkat kesan penggunaan teknologi moden
5. Situasi berikut berkaitan dengan satu penentu penawaran rumah.

Harga simen meningkat

Titik koordinat yang manakah menunjukkan kesan perubahan penentu penawaran tersebut?



6. Maklumat di bawah berkaitan dengan hubungan dua jenis barang.

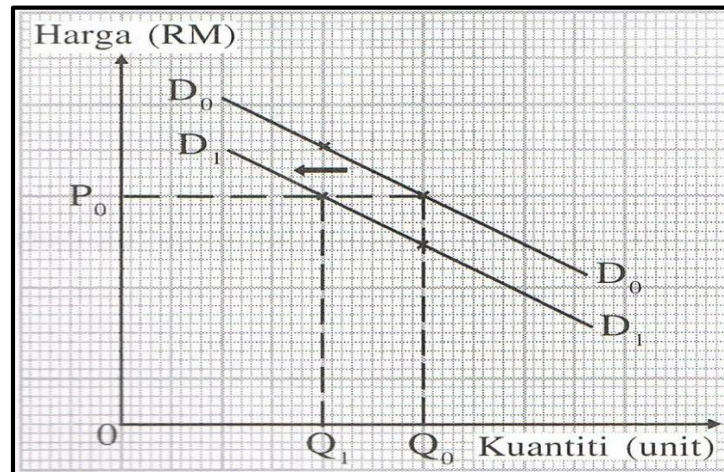
Kenaikan harga barang X akan menyebabkan kuantiti permintaan terhadap barang Y berkurangan

Apakah kemungkinan barang X dan barang Y

- |                                   |                                 |
|-----------------------------------|---------------------------------|
| A Kereta Honda dan kereta Persona | C Kasut dan stokin              |
| B Gula dan garam                  | D Telefon pintar dan televisyen |



7. Rajah di bawah menunjukkan permintaan pengguna terhadap tudung.



Apakah faktor yang menyebabkan perubahan keluk  $D_0D_0$  kepada  $D_1D_1$ ?

- A Iklan yang kurang berkesan
- B Pendapatan pengguna bertambah
- C Tambang pengangkutan awam meningkat
- D Kadar cukai pendapatan perseorangan menurun

8. Jadual di bawah menunjukkan harga dan kuantiti ditawarkan terhadap penghawa dingin.

Bulan	Harga (RM)	Kuantiti ditawarkan (unit)
Januari 2019	1500	5000
Mac 2019	1500	8000

Faktor manakah yang mempengaruhi keadaan tersebut?

- A Pengguna semakin suka menggunakan alat tersebut
- B Kerajaan memberi Bantuan Khas kepada penjawat awam
- C Berlaku fenomena El Nino di dalam negara
- D Penggunaan buruh mahir yang ramai

9. Jadual di bawah menunjukkan kuantiti penawaran seluar oleh tiga buah firma.

Harga (RM)	Kuantiti penawaran (helai)		
	Firma R	Firma S	Firma T
20	100	120	140
22	120	140	160
24	140	160	180
26	160	180	200

Jika kuantiti permintaan pasaran seluar ialah 480 helai, berapakah tingkat harga keseimbangan pasaran?

- A RM 20
- B RM 22
- C RM 24
- D RM 26





19. Antara berikut, barang yang manakah mempunyai pekali keanjalan harga penawaran kurang daripada satu?

- A Kereta
- B Komputer
- C Televisyen
- D Kelapa sawit

20. Maklumat di bawah mengenai barang Z.

Barang Z mempunyai keanjalan harga permintaan 2.5

Apakah implikasinya kepada pengeluar?

- A Meningkatkan harga untuk meningkatkan jumlah hasil
- B Menanggung beban cukai yang lebih kecil berbanding pengguna
- C Menurunkan harga untuk meningkatkan jumlah hasil
- D Menikmati subsidi yang lebih besar berbanding pengguna

21. Jadual di bawah menunjukkan peratus perubahan harga dan kuantiti diminta suatu barang.

Jenis Barang	Peratus Perubahan Harga	Peratus Perubahan Kuantiti
Q	12	10

Pernyataan yang manakah **betul** tentang barang tersebut?

- A Contoh barang ialah kereta mewah
- B Terdapat banyak pengganti dalam pasaran
- C Naikkan harga untuk tingkatan jumlah hasil
- D Pengguna lebih responsif terhadap perubahan harga

22. Jadual menunjukkan peratus perubahan harga dan kuantiti diminta bagi barang M.

Peratus Perubahan Harga	Peratus Perubahan Kuantiti Diminta
25	15

Apakah tindakan yang boleh dilakukan oleh pengeluar untuk meningkatkan hasil jualan bagi barang M?

- A Meningkatkan harga barang M
- B Menurunkan harga barang M
- C Meningkatkan teknologi dalam pengeluaran
- D Memohon subsidi daripada kerajaan

23. Seseorang pengeluar akan menggunakan strategi peningkatan harga barang jika

- A Tidak mempunyai banyak barang pengganti
- B Darjah ketagihan barang adalah rendah
- C Nisbah pendapatan yang dibelanjakan adalah besar
- D Jenis barang yang dikeluarkan adalah barang mewah

24. Apakah faktor yang mempengaruhi keanjalan harga permintaan suatu barang?

- A Jenis barangan
- B Tambahan kos
- C Mobiliti faktor pengeluaran
- D Ketersediaan stok atau inventori

25. Pengeluar perlu meningkatkan harga barang untuk memaksimumkan jumlah hasil jika barang tersebut

- A tidak mempunyai banyak barang pengganti
- B darjah ketagihan barang adalah rendah
- C nisbah pendapatan yang dibelanjakan adalah besar
- D jenis barang yang dikeluarkan adalah barang mewah









11. Situasi yang manakah menerangkan fungsi wang sebagai alat penyimpan nilai?
- Puan Fauziah membuat perbandingan harga komputer riba
  - Encik Baha mencarum ke akaun KWSP pada setiap bulan
  - Puan Meena membeli rantai emas di kedai Hasleena
  - Encik Faiz membayar RM10 000 sebagai deposit rumah barunya
12. Antara berikut, yang manakah berkaitan dengan fungsi bank pusat?
- Memberi pinjaman kepada orang ramai
  - Mengawal kestabilan nilai mata wang
  - Mengeluarkan mata wang asing
  - Menyediakan kemudahan overdraf kepada bank perdagangan
13. Antara yang berikut, manakah yang menerangkan ciri-ciri akaun semasa?
- Merupakan wang sah
  - Diberikan kemudahan overdraf
  - Dapat membuat bayaran dengan menggunakan cek
  - Semakin panjang tempoh simpanan, semakin tinggi kadar faedah
- I dan II
  - I dan IV
  - II dan III
  - III dan IV
14. Mengapakah bank pusat perlu mengawal kadar rizab berkanun bank perdagangan?
- Menjaga kepentingan para pendeposit
  - Mengawal penawaran wang dalam ekonomi
  - Mengawal margin keuntungan bank perdagangan
  - Meningkatkan kuasa beli masyarakat semasa inflasi
15. Apakah kelebihan menggunakan perkhidmatan overdraf dalam sesuatu urusanniaga?
- Boleh mengeluarkan wang tanpa had
  - Pendeposit di bank perdagangan layak ditawarkan kemudahan ini
  - Dapat digunakan oleh peniaga yang menghadapi masalah aliran tunai
  - Faedah yang dikenakan tidak tertakluk terhadap wang yang dikeluarkan
16. Pernyataan manakah menunjukkan persamaan antara deposit tabungan dengan deposit semasa di bank perdagangan?
- Disediakan buku akaun simpanan
  - Pengeluaran wang pada bila-bila masa
  - Kemudahan menggunakan kad ATM
  - Boleh memohon kemudahan overdraf
- I dan II
  - I dan IV
  - II dan III
  - III dan IV
17. Pernyataan yang manakah betul tentang kelebihan pemegang akaun semasa?
- Dikenakan caj perkhidmatan
  - Menerima faedah yang tinggi
  - Boleh mengeluarkan wang melebihi baki simpanan
  - Mendapat sijil simpanan yang boleh digunakan untuk mendapatkan pinjaman bank
18. Puan Aqilah memberi arahan kepada bank untuk membayar bil elektrik kedainya pada 28 hb pada setiap bulan.  
Apakah kemudahan tersebut?
- Draf bank
  - Debit langsung
  - Pindahan kredit
  - Perintah sedia ada

19. Maklumat di bawah berkaitan dengan perkhidmatan Skim Perbankan Islam.

Bank sebagai pengusaha akan melaburkan wang pelabur ke dalam pelaburan halal. Keuntungan yang diperolehi akan dibahagi mengikut nisbah yang dipersetujui. Pelabur akan menanggung semua kerugian jika projek tersebut gagal.

Prinsip yang digunakan ialah

- A Takjiri
- B Wadiah
- C Mudharabah
- D Bai Bithaman Ajil

20. Kegiatan ekonomi di sektor kedua ialah

- A Mengeluar hasil bumi mengikut bentuk asal
- B Menawar kegiatan sokongan kepada sektor lain
- C Menyiap bangunan rumah kediaman
- D Membekal barangan untuk Kebajikan masyarakat

21. Apakah faedah sampingan dalam pemilihan pekerjaan?

- A Kemudahan pinjaman beli kenderaan
- B Masa perjalanan yang singkat ke pejabat
- C Waktu bekerja yang fleksibel
- D Tempat kerja berhawa dingin

22. Encik Azman seorang jurutera di Syarikat Minyak dan Gas di Miri, Sarawak. Beliau memperoleh pendapatan bulanan sebanyak RM28 000.

Antara berikut, apakah faktor beliau memperoleh pendapatan sebanyak itu?

- I Risiko pekerjaan
  - II Kelayakan akademik
  - III Saiz firma
  - IV Jaminan kerja
- A I dan II
  - B I dan IV
  - C II dan III
  - D III dan IV

23. Maklumat berikut berkaitan dengan sejenis pendapatan individu.

Encik Waheed bekerja sebagai kerani kewangan di sebuah bank. Dia membuat pelaburan dalam Amanah Saham Bumiputra. Dia menyewa sebuah gerai untuk menjual cenderahati dengan kadar sewa RM400 sebulan.

Apakah jenis pendapatan yang diterima oleh Encik Waheed?

- I Upah
  - II Dividen
  - III Faedah
  - IV Sewa
- A I dan II
  - B I dan IV
  - C II dan III
  - D III dan IV

24. Maklumat di bawah berkaitan dengan Puan Jihan.

Puan Jihan memiliki sebuah kedai dua tingkat dan tiga buah rumah. Beliau bekerja sebagai kerani kewangan dengan gaji RM2 000 sebulan. Beliau menyewakan tiga buah rumah yang dimilikinya dengan RM400 sebuah rumah setiap bulan. Suaminya menguruskan perniagaan di kedai dua tingkat dan memperoleh keuntungan sebanyak RM5 700 sebulan.

Berapakah pendapatan bulanan yang diterima oleh keluarga Puan Jihan.

- A RM 6 900
- B RM 8 100
- C RM 8 900
- D RM 9 300

25. Maklumat di bawah berkaitan dengan suatu jenis pendapatan individu

Encik Azman memberikan isterinya RM800 setiap bulan untuk tujuan perbelanjaan keluarga.

Apakah jenis pendapatan yang diterima oleh isteri Encik Azman?

- A Upah
- B Faedah
- C Bayaran tanggungan
- D Bayaran pindahan

26. Pekerjaan manakah yang diwajibkan mencarum dalam Kumpulan Wang Simpanan Pekerja?

- A Juruteknik kilang
- B Peniaga di pasar
- C Pekebun kecil
- D Pemilik kedai tekstil

27. Maklumat berikut adalah mengenai Puan Aliya.

Pendapatan tahunan Puan Aliya ialah RM48 000. Daripada jumlah ini, RM5 280 dicarumkan kepada KWSP, RM600 untuk potongan cukai pendapatan dan RM300 untuk bayaran zakat.

Hitungkan perbelanjaan penggunaan Puan Aliya jika tabungan adalah RM 4 600.

- A RM37 220
- B RM37 520
- C RM41 820
- D RM43 400

28. Apakah kelebihan melakukan pembayaran secara tunai?

- A Pembayaran terhadap barang mewah mudah untuk dilakukan
- B Melahirkan sikap berbelanja secara berhemah
- C Dapat menikmati khidmat selepas jualan
- D Risiko kehilangan wang adalah rendah

29. Apakah kepentingan belanjawan peribadi?

- A Meningkatkan taraf hidup
- B Membolehkan individu membeli barang melebihi pendapatan
- C Mengelakkan kenaikan harga barang
- D Membantu individu melancong ke luar negara

30. Maklumat berikut berkaitan dengan langkah penyediaan belanjawan peribadi.

Langkah 1 – Menjumlahkan pendapatan boleh guna  
Langkah 2 – X  
Langkah 3 – Menyusun perbelanjaan mengikut keutamaan  
Langkah 4 – Mengimbangkan pendapatan boleh guna dengan

Apakah X?

- A Mengira jumlah potongan wajib
- B Mengira jumlah tabungan yang ada
- C Mencatat semua perbelanjaan yang hendak dilakukan
- D Menyusun semua potongan wajib mengikut keutamaan

## BAB 4 : PENGELUARAN

- Pernyataan manakah **benar** tentang input berubah dalam fungsi pengeluaran jangka pendek sesuatu barang?
  - Tidak wujud apabila output sifar
  - Wujud dalam jangka pendek sahaja
  - Contoh input berubah ialah tapak kilang
  - Tidak berubah secara langsung dengan tingkat keluaran
- Puan Umieda memerlukan ikan bilis, bawang, kualiti, periuk dan pekerja untuk membuat nasi lemak. Apakah input tetap yang terlibat dalam proses pengeluaran tersebut?
  - Ikan bilis, bawang dan kualiti
  - Pekerja dan kualiti
  - Ikan bilis, bawang dan pekerja
  - Kualiti dan periuk
- Pilih pernyataan yang **benar** mengenai hukum pulangan berkurangan dalam pengeluaran firma.
  - Berlaku kemajuan yang berterusan dalam tingkat teknologi pengeluaran
  - Jumlah keluaran firma semakin meningkat apabila penggunaan input bertambah
  - Jumlah keluaran semakin menurun jika input berubah ditambah berterusan ke atas input tetap
  - Gabungan yang paling cekap antara input berubah dan input tetap untuk menambah output
- Pilih pernyataan yang **benar** mengenai pengeluaran jangka panjang.
  - Semua input yang digunakan dalam pengeluaran ialah input tetap
  - Firma dapat mengubah tingkat output dengan menjalankan aktiviti R&D
  - Wujudnya sekurang-kurangnya satu input tetap dalam pengeluaran
  - Pertambahan output dapat dilakukan dengan menambah input tetap
- Manakah antara yang berikut berkaitan proses pengeluaran?
  - Kegiatan menghasilkan pelbagai faktor pengeluaran
  - Tindakan membekalkan input dalam aktiviti pengeluaran
  - Penggabungan sejumlah input untuk menghasilkan barangan
  - Kesediaan pengeluar menghadapi risiko ketidakpastian pasaran
- Pasangan maklumat manakah yang **betul**?

	Input berubah	Input tetap
A	Bayaran ke atas input dikenali sebagai kos tetap	Bayaran ke atas input dikenali sebagai kos berubah
B	Wujud pada tingkat keluaran sifar	Tidak wujud pada tingkat keluaran sifar
C	Berubah secara langsung dengan perubahan output	Tidak berubah mengikut perubahan output
D	Contoh input ialah tapak perniagaan	Contoh input ialah juruteknik mesin

- Maklumat berikut berkaitan dengan sejenis kos pengeluaran.

- ✓ Tidak perlu ditanggung apabila tiada keluaran
- ✓ Perubahan dalam keluaran akan mempengaruhi kos ini

Antara berikut, tindakan yang manakah merupakan contoh kos tersebut?

- Pembiayaan jentera dan mesin
- Pembelian premium insurans kilang
- Perbelanjaan terhadap upah buruh
- Pembayaran sewa bulanan premis












## BAB 1 TINGKATAN 5

1. Gambar di bawah menunjukkan sejenis barang yang disediakan oleh kerajaan.



Berikut adalah tujuan kerajaan menyediakan barang tersebut, **kecuali**

- A Kerajaan berperanan sebagai pengeluar barang awam
  - B Tiada pengecualian penggunaan
  - C Hanya dikenakan bayaran yang sedikit kepada golongan B40
  - D Merupakan sumbangan sosial kerajaan kepada rakyat
2. Manakah yang **betul** berkaitan dengan peranan kerajaan sebagai majikan?
- A Menyediakan faedah sampingan kepada penjawat awam
  - B Membekalkan barang awam untuk kepuasan rakyat
  - C Mengawal kestabilan harga barangan dalam pasaran
  - D Melaksanakan dasar harga minimum demi kebajikan pengguna
3. Tindakan kerajaan yang manakah dapat mengawal kesan eksternaliti negatif?
- A Memberi subsidi untuk mengurangkan kos pengeluaran
  - B Memusatkan kawasan perindustrian di luar kawasan perumahan
  - C Mengenakan cukai terhadap produk yang memudaratkan kesihatan
  - D Mengisytiharkan barang penggunaan sebagai barang kawalan
4. Antara berikut, padanan manakah yang **betul**?

	<b>Objektif makroekonomi</b>	<b>Strategi</b>
<b>A</b>	Guna tenaga penuh	Mengurangkan kadar pengangguran
<b>B</b>	Kestabilan harga	Kerajaan mengeluarkan barang keperluan
<b>C</b>	Pertumbuhan ekonomi	Mengawal pelaburan sektor swasta
<b>D</b>	Kestabilan imbalan pembayaran	Mengawal eksport negara

5. Manakah antara berikut akan menggalakkan pertumbuhan ekonomi sesebuah negara?
- A Penemuan sumber telaga minyak baru
  - B Perpindahan penduduk dari luar bandar ke bandar
  - C Pengurangan simpanan tabungan dalam kalangan isi rumah
  - D Pelaburan membina kilang di luar negara

6. Apakah kesan pelaksanaan cukai oleh kerajaan dalam mengawal selia pengeluaran?
- A Menggalakkan pengeluaran barang tertentu mengikut cadangan kerajaan
  - B Meningkatkan beban pengeluaran barang yang membahayakan kesihatan
  - C Menetapkan secara khusus kawasan perindustrian di lokasi tertentu
  - D Mencegah aktiviti pengeluaran yang mencemarkan alam sekitar
7. Bagaimanakah kerajaan dapat mencapai objektif guna tenaga penuh?
- I Menaikkan gaji minimum
  - II Menggunakan intensif modal
  - III Transformasi digital dalam ekonomi
  - IV Meningkatkan mobiliti kelayakan dan kemahiran
- A I dan II
  - B I dan IV
  - C II dan III
  - D III dan IV
8. Apakah peranan kerajaan dalam mengawal selia pengeluaran agar tidak mengeksploitasi pengguna?
- A Melaksanakan dasar harga maksimum untuk menjamin kebajikan masyarakat
  - B Menyediakan barang awam yang tidak mampu disediakan oleh pengeluaran
  - C Memberikan subsidi bagi menggalakkan penggunaan teknik yang lebih mesra alam
  - D Mewujudkan monopoli semulajadi bagi mengelakkan penguasaan pasaran oleh swasta
9. Antara berikut, yang manakah merupakan tindakan kerajaan untuk mengawal kesan eksternaliti negatif?
- I Menetapkan dasar harga minimum
  - II Menentukan penempatan perindustrian
  - III Menjalankan pemantauan aktiviti pengeluaran firma oleh agensi kerajaan
  - IV Mengisytiharkan sesetengah barang pengguna sebagai barang kawalan
- A I dan II
  - B I dan IV
  - C II dan III
  - D III dan IV
10. Maklumat di bawah menunjukkan keadaan sesebuah ekonomi.

Harga input yang digunakan dalam proses pengeluaran produk karipap frozen meningkat sebanyak 7% menyebabkan harga karipap frozen di pasaran juga meningkat sebanyak 10%.

- Antara yang berikut, jenis inflasi manakah yang berkaitan?
- A Inflasi bermusim
  - B Inflasi diimport
  - C Inflasi tolakan kos
  - D Inflasi tarikan permintaan
11. Situasi manakah yang menyebabkan pengangguran kitaran?
- A Pekerja yang menghadapi kekurangan kemahiran
  - B Pekerja yang hilang pekerjaan semasa kemelesetan ekonomi
  - C Pekerja yang hilang pekerjaan kerana terlalu memilih pekerjaan
  - D Pekerja yang meletak jawatan untuk mengharapkan pekerjaan lain
12. Mengapakah kerajaan ingin mencapai objektif tingkat guna tenaga penuh?
- I Mencapai kecekapan peruntukan sumber ekonomi
  - II Memaksimumkan jumlah kapasiti pengeluaran
  - III Menurunkan kuasa beli masyarakat
  - IV Mengurangkan daya saing negara
- A I dan II
  - B I dan IV
  - C II dan III
  - D III dan IV

13. Maklumat berikut berkaitan jenis sumber hasil kerajaan.

$$\text{Jumlah Hasil} = \text{Cukai langsung} + S + \text{Hasil bukan cukai}$$

Pernyataan yang manakah **betul** tentang S?

- A Bebanan boleh dipindah kepada pihak lain
- B Merapatkan jurang antara masyarakat
- C Sumbangan terbesar hasil kerajaan
- D Contonhnya ialah duti setem

14. Manakah merupakan hasil cukai langsung kerajaan?

- A Cukai jualan
- B Cukai pintu
- C Duti import
- D Duti eksais

15. Contoh yang manakah merupakan perbelanjaan pembangunan kerajaan?

- A Belanja menyiapkan klinik kesihatan di Manong, Kuala Kangsar
- B Agihan subsidi alat tangkapan ikan kepada nelayan di Pantai Remis
- C Membayar kos penyelenggaraan makmal komputer di SMK Selinsing
- D Serahan kepada kerajaan Perak untuk baik pulih jalan raya yang rosak di Taiping

16. Maklumat berikut menunjukkan satu contoh perbelanjaan pembangunan kerajaan.

Sebanyak RM 1.3 bilion diperuntukkan kepada Perbadanan Perumahan Rakyat 1 Malaysia (PRIMA) untuk pembinaan rumah bagi isi rumah berpendapatan sederhana antara RM 2 500 dan RM 10 000.

Apakah komponen perbelanjaan tersebut?

- A Bekalan dan perkhidmatan
- B Perkhidmatan ekonomi
- C Perkhidmatan sosial
- D Pentadbiran am

17. Pilih pasangan yang **betul**.

	<b>Butiran</b>	<b>Keterangan</b>
<b>A</b>	Emolumen	Gaji kakitangan awam dan swasta yang masih berkhidmat
<b>B</b>	Bekalan dan perkhidmatan	Perbelanjaan keraian pegawai kerajaan
<b>C</b>	Bayaran khidmat hutang	Bayaran balik pokok dan faedah secara sekaligus untuk menjelaskan hutang negara
<b>D</b>	Pemberian dan serahan kepada kerajaan negeri	Diberikan secara sama rata kepada setiap kerajaan negeri

18. Antara yang berikut, yang manakah **benar** tentang perbelanjaan mengurus?

- I Puan Siti Hajar menerima pencen bulanan sebanyak RM 2500
  - II Kerajaan membesarkan pelabuhan perikanan di Tok Bali, Kelantan
  - III Kementerian Pendidikan membina sebuah sekolah menengah di Taiping, Perak
  - IV Encik Ali bekerja sebagai kerani dan menerima gaji setiap bulan sebanyak RM 3500
- A I dan II
  - B I dan IV
  - C II dan III
  - D III dan IV

19. Pernyataan berikut berkaitan dengan perbelanjaan kerajaan.

Menyediakan prasarana untuk meningkatkan kualiti hidup rakyat Malaysia.

Perbelanjaan pembangunan sektor manakah yang berkaitan dengan maklumat di atas?

- A Sektor perkhidmatan ekonomi
- B Sektor perkhidmatan sosial
- C Sektor pentadbiran am
- D Sektor keselamatan

20. Antara berikut, yang manakah tindakan pengeluar mengeksploitasi pengguna yang akan menjejaskan kebajikan masyarakat?

- A Menetapkan harga barang keperluan pada paras yang tinggi
- B Menjual barang yang selamat dan mendapat pengiktirafan logo halal
- C Mengeluarkan barang yang berkualiti tinggi dengan harga yang berpatutan
- D Mengeluarkan barang dan perkhidmatan dalam kuantiti yang banyak supaya dapat bersaing di peringkat antarabangsa

21. Apakah kesan penurunan kadar faedah terhadap pengguna?

- A Kos pinjaman meningkat
- B Perbelanjaan pengguna dalam ekonomi meningkat
- C Pengguna akan mengurangkan jumlah pinjaman
- D Pengguna perlu menyediakan lebih wang semasa berbelanja

22. Maklumat berikut berkaitan dengan ketidakstabilan ekonomi.

Indeks Harga Pengguna (IHP) berada pada paras 3.9% dalam tempoh 8 bulan pertama 2017, berbanding 2.3% dalam tempoh masa yang sama tahun lalu.

Apakah tindakan yang sesuai diambil oleh kerajaan untuk mengawal keadaan tersebut?

	<b>Dasar fiskal</b>	<b>Kadar cukai</b>	<b>Perbelanjaan kerajaan</b>
<b>A</b>	Mengembang	Naik	Turun
<b>B</b>	Menguncup	Turun	Naik
<b>C</b>	Mengembang	Turun	Naik
<b>D</b>	Menguncup	Naik	Turun

23. Maklumat berikut berkaitan dengan dasar kerajaan.

Tindakan kerajaan menaikkan kadar dasar semalaman (OPR) iaitu kadar faedah pinjaman meningkat pada 11 Mei dan 6 Julai yang lalu adalah langkah mengawal inflasi ketika tempoh fasa peralihan ke endemik.

Pernyataan yang manakah menunjukkan kesan tindakan tersebut?

- A Kekurangan pendapatan
- B Harga barangan meningkat
- C Pengurangan jumlah pinjaman
- D Menambahkan perbelanjaan masyarakat

24. Bagaimanakah bank pusat mengawal peningkatan kadar pengangguran?

	Rizab berkanun	Syarat sewa beli	Kadar faedah
A	Diturunkan	Diketatkan	Dinaikkan
B	Diturunkan	Dilonggarkan	Diturunkan
C	Dinaikkan	Dilonggarkan	Dinaikkan
D	Dinaikkan	Diketatkan	Diturunkan

25. Pernyataan yang manakah **betul** tentang dasar kewangan mengembang?

- A Dapat meningkatkan kuasa beli pengguna
- B Bertujuan mengurangkan permintaan agregat
- C Boleh dilakukan dengan menaikkan kadar cukai
- D Dilaksanakan untuk mengatasi masalah inflasi dalam negara

26. Manakah yang **betul** tentang dasar fiskal menguncup?

- A Mengurangkan perbelanjaan pembangunan
- B Menurunkan kadar cukai pendapatan
- C Menambahkan bilangan tenaga kerja
- D Meningkatkan permintaan agregat

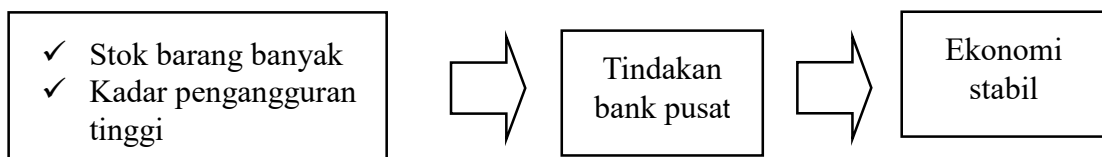
27. Maklumat berikut berkaitan dengan satu alat dasar kewangan.

Bank Negara Malaysia telah bertindak mengubah Kadar Dasar Semalaman (OPR) daripada 2.75% kepada 3.00%

Apakah kesan tindakan tersebut kepada firma?

- A Aktiviti penyelidikan dan pembangunan produk berkurang
- B Daya saing meningkat
- C Produktiviti bertambah
- D Pelaburan agregat meningkat

28. Maklumat di bawah menunjukkan tindakan bank pusat untuk mengawal ketidakstabilan ekonomi.



Pasangan yang manakah **betul** tentang pelaksanaan tindakan bank pusat tersebut?

	Dasar kewangan	Tindakan
A	Menguncup	Kurangkan nisbah rizab berkanun
B	Mengembang	Jual surat jaminan kerajaan
C	Menguncup	Longgarkan syarat sewa beli
D	Mengembang	Turunkan kadar faedah atas pinjaman





## BAB 2 TINGKATAN 5

1. Bagaimanakah kerajaan menggalakkan globalisasi?
  - A Pengecualian visa untuk pelancong negara tertentu
  - B Pelupusan duti import untuk semua barang import
  - C Pengecualian levi untuk pekerja asing di Malaysia
  - D Pelupusan duti setem untuk rakyat asing yang membeli hartanah di Malaysia
  
2. Manakah yang merupakan kepentingan perdagangan antarabangsa?
  - A Menimbulkan lambakan
  - B Mengurangkan mobiliti tenaga buruh
  - C Meneruskan kebergantungan terhadap sektor eksport
  - D Menggalakkan pemindahan dan penggunaan teknologi
  
3. Syarikat Multinasional Amerika Syarikat yang mengeluarkan peralatan komunikasi berpindah dari Malaysia ke China.  
Apakah faktor yang mendorong firma tersebut berpindah operasinya?
  - I Tenaga buruh yang lebih banyak di China
  - II Saiz pasaran yang lebih luas di China
  - III Upah yang lebih rendah di Malaysia
  - IV Kecekapan kemudahan asas di Malaysia

A I dan II	C II dan III
B I dan IV	D III dan IV
  
4. Maklumat yang berikut berkaitan dengan sebab wujudnya perdagangan antarabangsa.

New Zealand mengeluarkan dan mengeksport buah anggur ke Malaysia.

Apakah faktor tersebut?
  - A Harga faktor
  - B Iklim dan tanah
  - C Sumber semulajadi
  - D Tingkat kecekapan pengeluaran
  
5. Pernyataan manakah yang menggambarkan ciri-ciri globalisasi?
  - I Blok perdagangan tidak digalakkan
  - II Kaedah berkomunikasi melalui internet
  - III Perkembangan pasaran peringkat global
  - IV Liberalisasi perdagangan semakin tidak digalakkan

A I dan II	C II dan III
B I dan IV	D III dan IV
  
6. Antara berikut, manakah risiko yang paling mudah diatasi oleh syarikat multinasional?
  - A Perubahan politik
  - B Tenaga buruh tidak berkemahiran
  - C Kehilangan aset akibat peperangan
  - D Kesukaran mendapat balik keuntungan

7. Antara berikut, yang manakah merupakan faktor yang mempengaruhi globalisasi?
- A Kenaikan taraf perindustrian
  - B Perkembangan ekonomi
  - C Perkembangan teknologi maklumat
  - D Kenaikan kadar pertukaran mata wang asing
8. Sekatan bukan ekonomi dikenakan untuk menjamin keselamatan dan kesihatan rakyat negara. Apakah jenis produk yang akan dikenakan sekatan bukan ekonomi?
- A Produk yang tidak tahan lama dan mudah pecah
  - B Produk yang menepati piawaian dan mutu SIRIM
  - C Produk yang membahayakan kesihatan pengguna
  - D Produk yang mematuhi peraturan dan undang-undang

9. Maklumat berikut berkaitan dengan dua jenis cukai yang dikenakan oleh kerajaan.

- ✓ Tarif spesifik sebanyak RM300 dikenakan ke atas setiap unit mesin pemotong daging yang diimport.
- ✓ Tarif ad valorem sebanyak 10% dikenakan ke atas kasut sukan yang diimport.

Antara yang berikut, yang manakah tujuan cukai tersebut dikenakan?

- I Melindungi industri muda tempatan
  - II Meningkatkan kecekapan pengeluaran
  - III Menggalakkan pemindahan teknologi
  - IV Meningkatkan sumber hasil kerajaan
- A I dan II
  - B I dan IV
  - C II dan III
  - D III dan IV

10. Apakah kebaikan sekatan perdagangan antarabangsa kepada negara?

- A Mengurangkan eksport
- B Meningkatkan peluang pekerjaan
- C Menambahkan penawaran barangan import
- D Mengurangkan permintaan barangan tempatan

11. Kuota memberi kebaikan kepada negara kerana dapat

- A meningkatkan pendapatan negara
- B mempelbagaikan pilihan barangan kepada pengguna
- C menggalakkan persaingan yang sihat
- D memperbaiki imbalan pembayaran

12. Apakah tujuan kerajaan melaksanakan sekatan bukan ekonomi dalam perdagangan antarabangsa?

- A Menjamin keselamatan dan kesihatan rakyat Malaysia
- B Sumber hasil negara
- C Mengehadkan pembelian pertukaran asing
- D Menggalakkan perkembangan industri penggantian import negara

13. Maklumat berikut berkaitan dengan dua jenis cukai yang dikenakan oleh kerajaan.

- ✓ Tarif spesifik sebanyak RM300 dikenakan ke atas setiap unit mesin pemotong daging yang diimport.
- ✓ Tarif ad valorem sebanyak 10% dikenakan ke atas kasut sukan yang diimport.

Antara yang berikut, yang manakah tujuan cukai tersebut dikenakan?

- I Melindungi industri muda tempatan
- II Meningkatkan kecekapan pengeluaran
- III Menggalakkan pemindahan teknologi
- IV Meningkatkan sumber hasil kerajaan

- A I dan II
- B I dan IV
- C II dan III
- D III dan IV

14. Pernyataan manakah yang menerangkan kesan negatif pelaburan langsung asing?

- I Merapatkan jurang perbezaan pendapatan
- II Mewujudkan persaingan yang tidak adil kepada firma tempatan
- III Mengeksploitasi sumber alam berlebihan
- IV Meningkatkan pendapatan negara

- A I dan II
- B I dan IV
- C II dan III
- D III dan IV

15. Pasangan manakah yang **betul** tentang kesan pelaburan langsung asing kepada negara?

	<b>Kesan</b>	<b>Keterangan</b>
A	Negatif	Daya saing firma asing meningkat
B	Positif	Aliran untung ke luar negara bertambah
C	Negatif	Jumlah kemasukan modal asing dalam negara tinggi
D	Positif	Meningkatkan kemahiran modal insan

16. Pernyataan manakah yang menggambarkan liberalisasi?

- A Daya saing firma tempatan meningkat
- B Mobiliti sumber ekonomi lebih terbatas
- C Mewujudkan halangan bagi kemasukan barang import
- D Menafikan halangan bagi aliran barang merentasi sempadan

17. Perjanjian Kawasan Perdagangan Bebas Asean (AFTA) dilakukan dengan tujuan untuk

- A Menarik pelaburan langsung asing ke negara anggota
- B Mengurangkan pengangguran dalam kalangan negara anggota
- C Memperoleh barang dagangan dari negara maju dengan lebih murah
- D Mewujudkan monopoli dalam pengeluaran barang di negara anggota



23. Jadual di bawah berkaitan dengan perubahan kadar pertukaran asing antara mata wang Dolar Singapura dengan mata wang Ringgit Malaysia.

Tahun	Kadar Pertukaran Asing
2017	S\$1 = RM3.00
2016	S\$1 = RM3.20

Antara berikut, manakah yang betul bagi menerangkan kesan perubahan tersebut?

- I Import Malaysia naik
- II Jumlah eksport Malaysia bertambah
- III Imbangan dagangan menjadi positif
- IV Harga barang eksport menjadi lebih mahal
- A I dan II
- B I dan IV
- C II dan III
- D III dan IV

24. Seorang pelancong dari Amerika Syarikat ingin membeli seutas jam tangan yang berharga RM1000 di sebuah pasaraya di Pulau Langkawi. Berapakah harga jam tersebut dalam Dolar Amerika Syarikat sekiranya kadar pertukaran 1USD adalah seperti jadual di bawah.

Harga Jualan (RM)	Harga Belian (RM)
4.178	4.065

- A USD4178
- B USD4065
- C USD239.35
- D USD246

25. Pilih pasangan yang **betul**.

I	Kenaikan kadar pertukaran asing	Harga eksport mahal	Jumlah nilai eksport menurun
II	Penurunan kadar pertukaran asing	Harga import murah	Jumlah nilai import meningkat
III	Kenaikan kadar pertukaran asing	Harga eksport murah	Jumlah nilai eksport meningkat
IV	Penurunan kadar pertukaran asing	Harga import mahal	Jumlah nilai import menurun

- A I dan II
- B I dan IV
- C II dan III
- D III dan IV

26. Maklumat di bawah menunjukkan kadar pertukaran antara Ringgit Malaysia (RM) dengan Pound Sterling (£) dan Dolar Singapura (SGD).

£1.00 = RM6.00
SGD1.00 = RM3.00

Berapakah nilai satu Pound Sterling dalam mata wang Dolar Singapura?

- A £1.00 = SGD0.50
- B £1.00 = SGD1.50
- C £1.00 = SGD2.00
- D £1.00 = SGD4.50



**SOALAN STRUKTUR**  
**TINGKATAN 4**  
**BAB 1: PENGENALAN KEPADA EKONOMI**

1 (a) Maklumat berikut berkaitan dengan faktor pengeluaran

Maklumat A	Maklumat B
Individu mahir dan tidak mahir	Peralatan jentera dan bangunan kilang

Berdasarkan maklumat di atas, bandingkan faktor pengeluaran yang terlibat.

.....

.....

.....

.....

.....

.....

[5 markah]

1 (b) Maklumat berikut berkaitan dengan satu ciri sistem ekonomi bagi negara A.

**Mekanisme pasaran mempengaruhi pemilihan sama ada intensif buruh atau modal.**

.....

.....

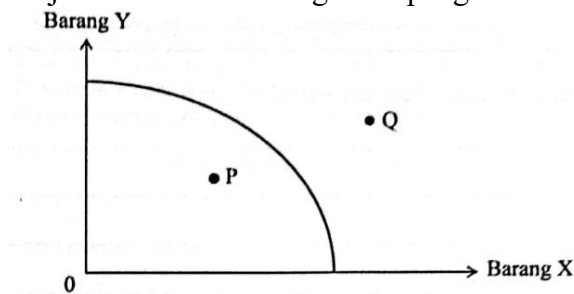
.....

.....

.....

[4 markah]

1 (c) Rajah di bawah menunjukkan keluk kemungkinan pengeluaran sebuah firma.



Jelaskan keadaan kombinasi pengeluaran pada titik P dan Q

.....

.....

.....

.....

.....

.....

[6 markah]

1(d) Persaingan yang adil dan saksama antara individu wujud dalam sistem ekonomi Islam. Jelaskan.

.....

.....

.....

.....

.....

.....

[5 markah]

**TINGKATAN 4**  
**BAB 2.1: KESEIMBANGAN PASARAN**

1 (a) Jadual menunjukkan permintaan terhadap roti.

Harga (RM)	Kuantiti Diminta (unit)	
	Ali	Ahmad
3	8	15
1	10	30

Dengan menggunakan kertas graf yang disediakan, lukiskan keluk permintaan pasaran tersebut. [6 markah]

1 (b) Jelaskan pembentukan keluk pasaran tersebut.

.....  
 .....  
 .....  
 .....  
 .....

[6 markah]

1 (c) Terangkan tiga penentu permintaan bukan harga barang itu.

.....  
 .....  
 .....  
 .....

[6 markah]

1 (d) Jelaskan hukum penawaran.

.....  
 .....

[2 markah]

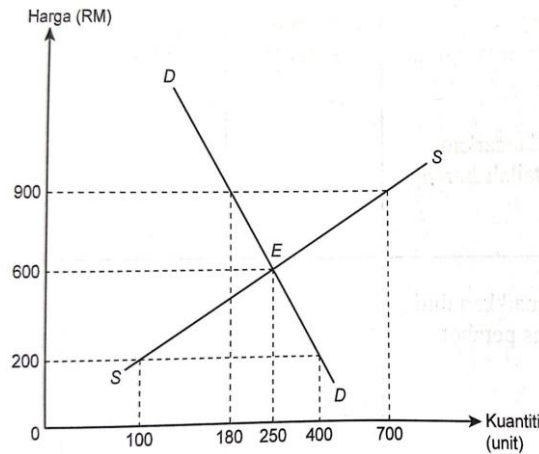
2 (a) Dengan bantuan jadual yang sesuai, jelaskan hukum permintaan bagi suatu barang.

.....  
 .....  
 .....  
 .....

[6 markah]



- 2 (b) Rajah di bawah menunjukkan keluk permintaan dan keluk penawaran pasaran untuk sesuatu barang.



Jelaskan keadaan pada tingkat harga berikut:

- i. RM600

.....  
 .....  
 [2 markah]

- ii. RM200

.....  
 .....  
 [2 markah]

- iii. RM900

.....  
 .....  
 [2 markah]

- 2 (c) Jadual menunjukkan permintaan dan penawaran pasaran bagi suatu jenama jersi sukan.

Harga (RM/helai)	Kuantiti Permintaan (ribu helai)	Kuantiti Penawaran	
		Firma A	Firma B
18	20	4	1
20	15	6	3
25	12	7	5
30	10	12	8

Jelaskan keadaan pasaran pada ketika harga RM25.

.....  
 .....  
 .....  
 .....  
 [4 markah]

- 2 (d) Jelaskan konsep yang berikut.

- i. Penguncupan penawaran

.....  
 .....  
 .....  
 [2 markah]

- ii. Pengembangan penawaran

.....  
 .....  
 .....  
 [2 markah]

**TINGKATAN 4**  
**BAB 2.1: KEANJALAN HARGA**

1 (a) Jadual di bawah menunjukkan peratus perubahan kuantiti diminta dan peratus perubahan harga bagi barang W.

Jenis barang	Peratus perubahan kuantiti diminta	Peratus perubahan harga
Barang W	9	30

i. Hitungkan nilai keanjalan harga permintaan bagi barang tersebut.  
 .....  
 .....  
 .....  
 [2 markah]

ii. Tafsirkan keanjalan harga permintaan di atas  
 .....  
 .....  
 .....  
 [2 markah]

iii. Maklumat yang berikut menunjukkan pekali keanjalan permintaan dua barang.

Jenis Barang	Pekali keanjalan harga permintaan
Barang X	0.7
Barang Y	2.5

Barang yang manakah merupakan barang mewah? Berikan alasan anda.  
 .....  
 .....  
 .....  
 .....  
 .....  
 .....  
 [5 markah]

1 (b) Jelaskan maksud keanjalan harga penawaran.  
 .....  
 .....  
 .....  
 [2 markah]

- 1 (c) Maklumat yang berikut berkaitan dengan Syarikat Win Win Sdn. Bhd. yang mengeluarkan beg sekolah pada tahun 2018 dan 2019.

Tahun 2018		Tahun 2019	
Harga (RM)	Kuantiti (unit)	Harga (RM)	Kuantiti (unit)
20	25 000	30	42 000

Terangkan tiga penentu yang menyebabkan perubahan output Syarikat Win Win Sdn. Bhd. pada tahun 2019.

.....

.....

.....

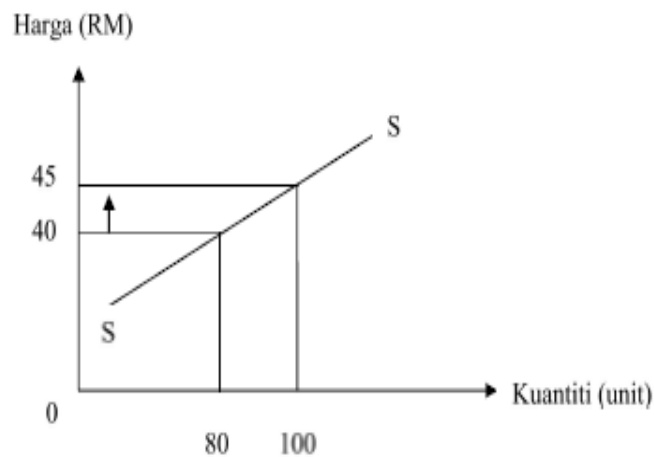
.....

.....

.....

[6 markah]

- 1 (d) Rajah di bawah menunjukkan keluk penawaran suatu barang.



Hitung nilai pekali keanjalan harga penawaran barang tersebut.

.....

.....

.....

.....

[3 markah]

**TINGKATAN 4**

**BAB 3: WANG, BANK DAN PENDAPATAN INDIVIDU**

1 (a) Terangkan fungsi bank pusat sebagai jurubank kepada kerajaan.

.....  
.....  
.....  
.....

[4 markah]

1 (b) Jelaskan kelebihan kaedah pembayaran secara kredit.

.....  
.....  
.....  
.....  
.....

[6 markah]

1 (c) Terangkan tiga kemudahan pembayaran yang disediakan oleh bank perdagangan atas arahan pelanggan.

.....  
.....  
.....  
.....  
.....

[6 markah]

1 (d) Terangkan penggunaan pendapatan boleh guna individu.

.....  
.....  
.....  
.....

[4 markah]

2 (a) Bezakan keperluan dan kehendak.

.....  
.....  
.....  
.....  
.....

[6 markah]

2 (b) Jelaskan dua faedah sampingan yang mempengaruhi pemilihan sesuatu pekerjaan.

.....  
.....  
.....  
.....  
.....

[4 markah]

2 (c) Jelaskan jenis pendapatan bagi individu yang tidak memberi sumbangan dalam proses pengeluaran.

.....  
.....  
.....  
.....  
.....

[4 markah]

2 (d) Huraikan kepentingan belanjawan peribadi.

.....  
.....  
.....  
.....  
.....  
.....

[6 markah]

**TINGKATAN 4**  
**BAB 4: PENGELUARAN**

1 (a) Terangkan konsep firma.

.....  
.....  
.....  
.....  
.....

[4 markah]

1 (b) Apakah definisi pengeluaran?

.....  
.....  
.....

[2 markah]

1 (c) Gambar di bawah ini menunjukkan aktiviti pengeluaran yang dijalankan di sebuah kilang.



i. Nyatakan 2 jenis input yang terdapat dalam gambar tersebut.

.....  
.....  
.....

[2 markah]

ii. Bandingkan kedua-dua jenis input tersebut.

.....  
.....  
.....  
.....  
.....

[5 markah]

1 (d) Maklumat yang berikut berkaitan dengan pengeluaran bagi Kilang Lazat Enak.

Kilang Lazat Enak telah mengeluarkan 5 000 biji pau dalam sehari dengan menggunakan 15 orang pekerja. Tambahan lima orang pekerja telah Berjaya meningkatkan pengeluaran pau sebanyak 6 000 biji pau sehari.

i. Hitung keluaran purata Kilang Lazat Enak pada pengguna 15 orang pekerja

.....  
.....  
.....

[2 markah]

ii. Hitung keluaran marginal pada penggunaan 20 orang pekerja

.....  
.....  
.....

[2 markah]

iii. Nyatakan **tiga** contoh input tetap yang terdapat pada kilang pau untuk pengeluaran jangka pendek.

.....  
.....  
.....

[3 markah]

2 (a) Jelaskan konsep kos pengeluaran.

.....  
.....  
.....  
.....  
.....

[5 markah]

2 (b) ZARA Global Enterprise merupakan pengeluar kain satin beroperasi dalam pengeluaran jangka pendek. Jadual di bawah ini menunjukkan kos yang ditanggung oleh syarikat tersebut pada bulan Oktober 2023.

<b>Butiran</b>	<b>Jumlah (RM)</b>
Sewa kilang	40 000
Upah buruh	30 000
Mesin	32 000
Bahan mentah	45 700
Bil utiliti	10 500
Insurans kilang	4 500

i. Hitung jumlah kos berubah.

.....  
.....

[2 markah]

ii. Hitung jumlah kos.

.....  
.....

[2 markah]

iii. Hitung kos purata jika jumlah jualan ialah 50 000 unit.

.....  
.....

[2 markah]

2 (c) Jadual di bawah ini menunjukkan fungsi kos pengeluaran jangka pendek Firma YY.

Buruh (Orang)	Jumah Kos (RM)	Kos Purata (RM)	Kos Marignal (RM)
0	0	-	-
1	10	10	10
2	X	25	35
3	80	Y	40
4	150	37.5	70
5	200	40	Z
6	200	33.3	0
7	170	24.3	30

i. Berapakah nilai X,Y dan Z

.....  
 .....  
 .....

[3 markah]

ii. Jelaskan hubungan antara kos purata dan kos marginal pada buruh yang berikut:

➤ 0 hingga 4 orang

.....  
 .....  
 .....

[3 markah]

➤ 5 hingga 7 orang

.....  
 .....  
 .....

[3 markah]



**TINGKATAN 5**

**BAB 1.0: EKONOMI DAN KERAJAAN**

**1.1: PERANAN KERAJAAN DALAM EKONOMI**

- 1 (a) Petikan berikut menunjukkan salah satu projek infrastruktur pengangkutan awam darat yang terbesar dilaksanakan Malaysia



MRT Lembah Klang (KVMRT) adalah satu projek infrastruktur pengangkutan awam darat yang terbesar di Malaysia setakat ini. Projek ini disenaraikan sebagai Projek Permulaan (EPP) di bawah Program Transformasi Ekonomi Greater Kuala Lumpur (GKL)/ Lembah Klang oleh Bidang Ekonomi Utama Negara (NKEA), akan mendorong integrasi dan kecekapan pengangkutan awam bandar.

*Sumber: Suruhanjaya Pengangkutan Awam Darat*

Jelaskan peranan yang dimainkan oleh kerajaan untuk menjaga kebajikan masyarakat dan kemakmuran negara.

.....  
.....  
.....  
.....  
.....

[6 markah]

- 1 (b) Kerajaan sebagai majikan menyediakan pelbagai faedah sampingan kepada penjawat awam. Jelaskan.

.....  
.....  
.....  
.....  
.....

[4 markah]

1 (c) Gambar di bawah menunjukkan satu projek yang dilaksanakan oleh kerajaan.



Jelaskan sebab kerajaan perlu melaksanakan projek tersebut.

.....  
.....  
.....  
.....  
.....

[5 markah]

1 (d) Jelaskan kepentingan pencapaian pertumbuhan ekonomi yang mampan kepada negara.

.....  
.....  
.....  
.....  
.....

[5 markah]

2 (a) Gambar di bawah menunjukkan sejenis barang dalam ekonomi.



Jelaskan barang tersebut.

.....  
.....  
.....  
.....  
.....

[6 markah]

2 (b)

Terdapat beberapa aduan daripada pengguna berkaitan dengan tindakan sesetengah pengeluar yang menaikkan harga barang kawalan semasa musim Hari Raya Aidilfitri baru-baru ini. Kementerian Perdagangan Dalam Negeri, Koperasi dan Kepenggunaan (KPDNKK) akan mengambil tindakan kepada pengeluar yang berkenaan.

i. Jelaskan barang kawalan

.....  
.....  
.....  
.....

[4 markah]

ii. Bagaimanakah kerajaan mengatasi masalah tersebut?

.....  
.....  
.....  
.....  
.....

[6 markah]

2 (c) Gambar di bawah menunjukkan kesan luaran akibat kegiatan firma.



Jelaskan peranan kerajaan mengatasi kesan tersebut?

.....  
.....  
.....  
.....

[4 markah]

**TINGKATAN 5**  
**1.2 :PENUNJUK EKONOMI**

1 (a) Maklumat berikut berkaitan dengan satu petunjuk ekonomi.

Indeks Harga Pengguna (IHP) telah berubah daripada 120 pada Ogos 2020 kepada 122.5 pada Ogos 2021.

*Sumber:ubah suai daripada sinaranharian.com.my, 24 September 2021*

Jelaskan kesan perubahan tersebut kepada isi rumah.

.....  
.....  
.....  
.....

[4 markah]

1 (b) Sekiranya keadaan ini berterusan. Jelaskan kesan terhadap:

i. Tabungan

.....  
.....  
.....  
.....

[4 markah]

ii. Eksport negara

.....  
.....  
.....  
.....

[4 markah]

1 (c) Maklumat berikut berkaitan dengan Keluaran Dalam Negara Kasar (KDNK)

KDNK Malaysia dijangka berkembang dengan mencatatkan sebanyak tiga mata peratusan kepada 6.1% tahun 2022

Sumber:diubah suai daripada [www.sinarharian.com.my](http://www.sinarharian.com.my), 14 Februari 2022

Maklumat tersebut memberi kebaikan kepada Kerajaan Malaysia. Jelaskan.

.....  
.....  
.....  
.....

[4 markah]

1 (d) Apakah faktor yang menyebabkan ekonomi sesebuah negara berkembang maju? Jelaskan.

.....  
.....  
.....  
.....

[4 markah]

2 (a) Maklumat berikut berkaitan dengan pengangguran.

**Pengangguran belia tinggi kekal cabaran utama**

Kuala Lumpur:Malaysia terus berdepan cabaran pengangguran golongan belia yang tinggi iaitu 10.8 peratus berikutan faktor ketidakseimbangan Kemahiran serta jurang struktur asas antara sistem pendidikan dan industri ,kata penganalisis.

Sumber: diubah suai daripada <http://www.bharian.com.my>,  
18 September 2018

Terangkan jenis pengangguran tersebut.

.....  
.....  
.....  
.....

[4 markah]

2 (b) Jelaskan kesan pengangguran tersebut terhadap masalah sosial negara.

.....  
.....  
.....  
.....  
.....  
.....

[6 markah]

2 (c) Petikan akhbar berikut berkaitan dengan inflasi

Inflasi dijangkakan meningkat 3% pada tahun 2024. Jangkaan ini dibuat berdasarkan penghapusan subsidi ke atas harga barangan terpilih,harga bahan api yang lebih tinggi, dan penyusutan ringgit yang menyebabkan kenaikan harga barang import yang lain.

Sumber: diubah suai daripada <http://www.bharian.com.my>,  
27 Mei 2024

i. Terangkan jenis inflasi tersebut.

.....  
.....  
.....  
.....

[4 markah]

ii. Bagaimanakah Kerajaan dapat mengatasi masalah tersebut?

.....  
.....  
.....  
.....  
.....

[6 markah]

**TINGKATAN 5**  
**1.3 DASAR KEWANGAN**

1 (a) Maklumat di bawah berkaitan dengan sumber hasil kerajaan.

<b>Cukai A</b>	<b>Cukai B</b>
Duti setem	Duti import

i) Namakan jenis Cukai A dan Cukai B

.....  
 .....

[2 markah]

ii) Bezakan antara Cukai A dan Cukai B

.....  
 .....  
 .....

[4 markah]

1 (b) Pernyataan berikut berkaitan dengan dasar ekonomi negara X.

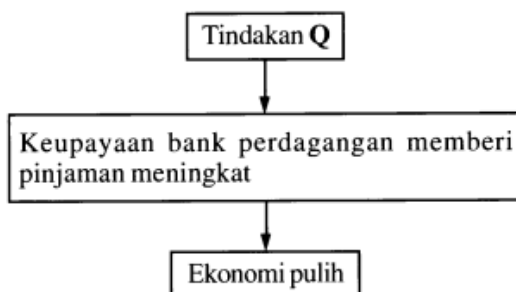
Kerajaan negara X telah menjalankan belanjawan lebih semasa inflasi
---

Bagaimanakah belanjawan lebih dapat mengatasi masalah tersebut?

.....  
 .....  
 .....  
 .....

[5 markah]

1 (c) Maklumat berikut berkaitan dengan tindakan bank pusat melalui alat dasar kewangan bagi mengatasi satu keadaan ketidakstabilan ekonomi.



i) Jelaskan konsep keadaan ketidakstabilan ekonomi tersebut

.....  
 .....

[2 markah]

ii) Apakah Tindakan Q?

.....  
 .....

[3 markah]

iii) Huraikan kesan terhadap tingkat harga umum apabila tindakan Q dilaksanakan

.....  
 .....  
 .....

[4 markah]

2(a) i) Terangkan kesan kenaikan kadar faedah terhadap firma.

.....  
.....  
.....  
.....

[4 markah]

ii) Bagaimanakah peningkatan kadar faedah atas pinjaman dapat mengatasi inflasi?

.....  
.....  
.....

[3 markah]

2 (b) Petikan akhbar di bawah ini berkaitan dengan Belanjawan Negara yang dibentangkan oleh Perdana Menteri Malaysia.

**Pembentangan Bajet 2018 oleh Perdana Menteri**  
Pembentangan Bajet 2018 oleh Perdana Menteri bertema “Memakmur ekonomi yang inklusif, mengimbang keunggulan duniawi dan ukhwrawi demi mensejahterakan kehidupan rakyat, menuju aspirasi TN50”  
*[Sumber: Berita Harian, Jumaat, 27 Okt 2017]*

i) Jelaskan tujuan belanjawan negara tersebut dibentangkan pada setiap tahun.

.....  
.....  
.....

[3 markah]

ii) Bagaimanakah belanjawan kurangan digunakan untuk mencapai kestabilan dalam ekonomi?

.....  
.....  
.....  
.....  
.....

[4 markah]

2 (c) Terangkan bagaimana penjualan surat jaminan kerajaan dapat mencapai objektif makroekonomi yang berikut:

i) Guna tenaga penuh

.....  
.....

[2 markah]

ii) Kestabilan harga

.....  
.....

[2 markah]

iii) Pertumbuhan ekonomi

.....  
.....

[2 markah]

**TINGKATAN 5**  
**BAB 2.0: MALAYSIA DAN EKONOMI GLOBAL**  
**2.1: GLOBALISASI**

1 (a)

Dalam persekitaran globalisasi, pergerakan trafik maritim dalam kalangan negara-negara benua Asia telah meningkat dengan mendadak sejak kebelakangan ini. Jumlah dagangan Intra-Asia sahaja telah mengatasi dagangan di antara Asia dan negara-negara barat dalam dekad lalu. Pelabuhan-pelabuhan Asia memproses hampir 50% dari jumlah pergerakan kontainer dunia di mana 25% dari jumlah ini membabitkan China 7%.

Jelaskan faktor-faktor yang mempengaruhi globalisasi selain faktor yang dinyatakan di atas?

.....  
.....  
.....  
.....  
.....

[4 markah]

1 (b) Huraikan ciri-ciri syarikat multinasional

.....  
.....  
.....  
.....  
.....

[4 markah]

1 (c) Jelaskan kesan positif pelaburan langsung asing terhadap:

i. Pertumbuhan ekonomi

.....  
.....

[2 markah]

ii. Pindahan teknologi

.....  
.....

[2 markah]

iii. Meningkatkan modal pelaburan

.....  
.....

[2 markah]



1 (d) Syarikat di atas merupakan salah satu firma yang menjalankan perniagaan di Malaysia



Jelaskan kesan negatif pelaburan langsung asing di Malaysia:

i) Ketidakseimbangan pendapatan

.....  
.....  
.....

[3 markah]

ii) Aliran untung ke luar negara

.....  
.....  
.....

[3 markah]

**TINGKATAN 5**  
**BAB 2.2 PERDAGANGAN ANTARABANGSA**

1 (a) Mengapakah Malaysia menjalankan perdagangan antarabangsa dengan negara yang lain?

.....  
.....  
.....  
.....  
.....

[5 markah]

1 (b) Terangkan kepentingan perdagangan antarabangsa kepada Malaysia.

.....  
.....  
.....  
.....  
.....

[5 markah]

1 (c) Jelaskan kesan terhadap pihak berikut akibat kemasukan barang import yang murah.  
(i) Pengeluar tempatan

.....  
.....  
.....

[3 markah]

(i) Pengguna

.....  
.....  
.....

[3 markah]

1 (d) Jelaskan 2 urusan jual beli barang dan perkhidmatan antara negara dalam perdagangan antarabangsa.

.....  
.....  
.....  
.....

[4 markah]

2(a) Jadual berikut berkaitan dengan dua sekatan perdagangan antarabangsa.

Sekatan A	Sekatan B
Malaysia mengenakan cukai sebanyak RM25 ke atas setiap unit pemotong daging yang diimport.	Malaysia menghadkan kuantiti beras yang diimport sebanyak 10 000 tan sebulan.

i. Kenalpasti kedua-dua sekatan perdagangan antarabangsa tersebut.

.....  
 .....

[2 markah]

ii. Bezakan antara sekatan A dengan sekatan B.

.....  
 .....  
 .....  
 .....

[4 markah]

2 (b) Jelaskan kesan penglibatan sesebuah negara dalam blok ekonomi.

.....  
 .....  
 .....  
 .....

[4 markah]

2 (c) Rajah berikut berkaitan dengan suatu perjanjian blok ekonomi.



i. Jelaskan kesan positif perjanjian di atas?

.....  
 .....  
 .....  
 .....

[4 markah]

ii. Jelaskan kesan negatif perjanjian tersebut.

.....  
 .....  
 .....  
 .....

[4 markah]

2 (d) Nyatakan jenis produk yang dikategorikan dalam sekatan bukan ekonomi.

.....  
 .....

[2 markah]

## TINGKATAN 5

### 2.3 IMBANGAN PEMBAYARAN

- 1 (a) Data berikut merupakan nilai eksport nampak dan import nampak bagi tiga buah negara.

<b>Butiran</b>	<b>Negara A (RM juta)</b>	<b>Negara B (RM juta)</b>	<b>Negara C (RM juta)</b>
Eksport nampak	500 000	500 000	300 000
Import nampak	600 000	300 000	300 000

Apakah yang dimaksudkan dengan akaun barangan?

.....  
.....

[2 markah]

- 1 (b) Hitung nilai akaun barangan bagi ketiga-tiga buah negara tersebut.

i. Negara A

.....  
.....

[2 markah]

ii. Negara B

.....  
.....

[2 markah]

iii. Negara C

.....  
.....

[2 markah]

- 1 (c) Nyatakan nama negara yang mencatatkan akaun barangan yang paling baik?  
Berikan sebabnya.

.....  
.....

[2 markah]

- 1 (d) Huraikan tiga komposisi eksport di bawah:

i. Barang nampak

.....  
.....  
.....  
.....  
.....

[5 markah]

ii. Barang tak nampak

.....  
.....  
.....  
.....  
.....

[5 markah]

2 (a) Apakah yang dimaksudkan dengan imbalan pembayaran?

.....  
.....

[2 markah]

2 (b) Maklumat di bawah berkaitan dengan akaun semasa imbalan pembayaran Malaysia pada tahun 2022.

<b>Butiran</b>	<b>RM juta</b>
Akaun barangan	800
Akaun perkhidmatan	(400)
Akaun pendapatan primer	(220)
Akaun pendapatan sekunder	(155)

i. Hitungkan dan tafsirkan kedudukan akaun semasa imbalan pembayaran Malaysia pada tahun 2022.

.....  
.....  
.....  
.....

[4 markah]

ii. Terangkan implikasi situasi tersebut kepada ekonomi Malaysia.

.....  
.....  
.....  
.....  
.....

[6 markah]

2 (c) Jadual di bawah menunjukkan Imbalan Akaun Semasa bagi United Kingdom dan Hong Kong pada tahun 2021.

<b>Tahun 2021</b>	<b>United Kingdom</b>	<b>Hong Kong</b>
Imbalan Akaun Semasa	-US\$90 billion	US\$265 billion

i. Tafsirkan imbalan akaun semasa bagi negara berikut?

United Kingdom

.....  
.....

[2 markah]

Hong Kong

.....  
.....

[2 markah]

2 (d) Huraikan mengapakah imbalan akaun semasa United Kingdom berbentuk sedemikian?

.....  
.....  
.....  
.....  
.....

[6 markah]

## TINGKATAN 5

### 2.4 KADAR PERTUKARAN ASING

- 1(a) Maklumat berikut menunjukkan perubahan kadar pertukaran asing antara Dolar Amerika Syarikat (USD) dengan Ringgit Malaysia (RM).

Tarikh	Kadar pertukaran asing
28 April 2023	USD 1 = RM 4.4620
31 Mei 2023	USD 1 = RM 4.6070

Pengimport Malaysia membeli mesin yang bernilai USD 350 000 dari Amerika Syarikat pada bulan April 2023, tetapi pembayaran dibuat pada bulan berikutnya.

- i. Hitung jumlah bayaran yang perlu dibuat oleh pengimport tersebut.

.....  
.....

[2 markah]

- ii. Berikan justifikasi berdasarkan jawapan di atas

.....  
.....

[2 markah]

Jelaskan faktor permintaan mata wang Ringgit Malaysia (RM).

.....  
.....  
.....  
.....  
.....  
.....

[5 markah]

- 1(b) Jadual berikut menunjukkan kadar pertukaran Ringgit Malaysia (RM) dengan Dolar Amerika (USD).

Tahun	Kadar Pertukaran Asing
Jun 2021	1 USD = RM 4.20
Julai 2021	1 USD = RM 4.31
Ogos 2021	1 USD = RM 4.29

- i. Jika seorang peniaga Malaysia berhutang sebanyak USD3000 dengan seorang pengeksport Amerika pada bulan Jun 2021 dan menjelaskan hutangnya pada bulan Ogos 2021, apakah kesan kepada peniaga tersebut?

.....  
.....  
.....  
.....

[3 markah]

ii. Jadual di bawah menunjukkan perubahan kadar pertukaran asing antara Baht Thailand (THB) berbanding Ringgit Malaysia (RM) bagi tempoh 3 tahun.

<b>Kadar pertukaran</b>	<b>2021</b>	<b>2022</b>	<b>2023</b>
RM bagi seunit THB	7.7180	7.9603	7.5539

Tentukan arah aliran kadar pertukaran Ringgit Malaysia (RM) berbanding Baht Thailand (THB).

.....  
.....  
.....  
.....

[2 markah]

iii. Jelaskan kesan perubahan kadar pertukaran Ringgit Malaysia (RM) pada tahun 2023 terhadap harga import dan harga eksport Malaysia.

.....  
.....  
.....  
.....  
.....  
.....

[5 markah]

## SOALAN ESEI

### TINGKATAN 4

1. Maklumat berikut berkaitan dengan Pakej Rangsangan Ekonomi Prihatin Rakyat.



- (a) Berdasarkan maklumat tersebut, jelaskan konsep unit ekonomi yang terlibat. [4 markah]
- (b) Ramalkan impak bantuan tersebut terhadap firma. [7 markah]
- (c) Kumpulan B40 adalah antara penerima bantuan terbesar dalam pakej prihatin kerajaan ini. Wajarkah golongan ini diberikan keutamaan oleh kerajaan? Kemukakan hujah anda. [9 markah]

### TINGKATAN 5

Maklumat berikut berkaitan dengan perbelanjaan kerajaan.

#### Projek Laluan Rel Pantai Timur dijangka Beroperasi Januari 2027

**KUALA LUMPUR:** Perkhidmatan Kereta Api Projek Laluan Rel Pantai Timur (ECRL) dijangka mula beroperasi seawal 1 Januari 2027 dan menjadi pemangkin pertumbuhan ekonomi wilayah itu serta negara bagi tempoh beberapa dekad akan datang. Timbalan Menteri Kewangan I, Datuk Abdul Rahim Bakri berkata projek ECRL yang dijadualkan siap pada akhir 2026, akan menghubungkan negeri-negeri Pantai Timur seperti Kelantan, Terengganu dan Pahang serta Negeri Sembilan, Wilayah Persekutuan Putrajaya dengan Lembah Klang.

Sumber : diubah suai daripada <http://www.bharian.com.my>

- (a) Huraikan jenis perbelanjaan kerajaan yang terlibat dalam petikan di atas [5 markah]
- (b) Projek kerajaan ini dijangka memberi impak ekonomi kepada negara. Bincangkan. [9 markah]
- (c) Jelaskan kos sosial yang timbul kesan daripada projek ini. [6 markah]



## PERATURAN PEMARKAHAN

### SOALAN OBJEKTIF

#### BAB 1 : PENGENALAN KEPADA EKONOMI

1	B	11	B	21	A
2	A	12	A	22	C
3	B	13	D	23	C
4	C	14	B	24	B
5	A	15	D	25	B
6	A	16	B	26	D
7	D	17	B	27	C
8	A	18	D	28	C
9	B	19	D	29	C
10	C	20	D	30	B

#### BAB 2 : PASARAN

1	D	11	A	21	C
2	A	12	A	22	A
3	B	13	B	23	A
4	B	14	D	24	A
5	B	15	C	25	A
6	C	16	D	26	A
7	A	17	B	27	A
8	D	18	B	28	D
9	C	19	D	29	A
10	A	20	C	30	B

#### BAB 3 : PENDAPATAN INDIVIDU

1	A	11	B	21	A
2	C	12	B	22	A
3	D	13	C	23	A
4	C	14	B	24	C
5	A	15	C	25	D
6	A	16	C	26	A
7	A	17	C	27	A
8	D	18	B	28	B
9	A	19	C	29	C
10	C	20	C	30	A

#### BAB 4 : PENGELUARAN

1	A	11	A	21	A
2	D	12	B	22	B
3	C	13	A	23	C
4	B	14	D	24	D
5	C	15	A	25	B
6	C	16	A	26	C
7	C	17	D	27	B
8	B	18	C	28	B
9	B	19	D	29	B
10	A	20	D	30	D

**SOALAN STRUKTUR**  
**TINGKATAN 4**  
**BAB 1: PENGENALAN KEPADA EKONOMI**

NO SOALAN	SKEMA JAWAPAN	MARKAH
1 (a)	Perbandingan buruh dan modal H1 Penawaran kedua-dua faktor pengeluaran adalah terhad H2 mempunyai mobiliti geografi yang tinggi  Perbezaan Buruh dan modal H3 Sumbangan tenaga buruh yang produktif dari segi fizikal dan mental dalam proses pengeluaran H4 Alat ciptaan manusia yang digunakan dalam proses pengeluaran H5 Menerima ganjaran upah H6 Menerima ganjaran faedah	1  1  1  1  1  (Maks 5 m)
1 (b)	Kelebihan sistem ekonomi H1 Sistem ekonomi Kapitalis / pasaran bebas H2 Kepuasan individu dan Masyarakat dapat dimaksimumkan H3 Firma bebas melakukan aktiviti ekonomi H4 Kecekapan dalam penggunaan sumber H5 Menggalakkan perkembangan teknologi dan inovasi	1 1 1 1 1 (Maks 4 m)
1(c)	H1 Titik P berada dalam keluk KKP H2 Kombinasi pengeluaran tidak cekap H3 Terdapat faktor pengeluaran tidak digunakan H4 Berlaku pembaziran factor pengeluaran H5 Titik Q di luar keluk KKP H6 Kombinasi pengeluaran yang tidak mampu dicapai oleh firma H7 Tingkat teknologi tidak boleh ditambah	1 1 1 1 1 1 1 (maks 6m)
1 (d)	H1 Individu dan pihak swasta bebas mencari kekayaan H2 demi kebajikan dan kesejahteraan di dunia dan di akhirat H3 Pengguna dan pengeluar berhak membuat Keputusan ekonomi H4 pengguna bebas memilih pekerjaan yang halal H5 Pengeluar bebas bersaing untuk mendapat keuntungan H6 Kerajaan mengawal kebebasan pengguna dan pengeluar melalui undang-undang dan peraturan	1 1 1 1 1 1 1 (maks 5m)

**TINGKATAN 4**  
**BAB 2.1 KESEIMBANGAN PASARAN**

NO SOALAN	SKEMA JAWAPAN	MARKAH
1 (a)	<p>H1 paksi menegak dan mendatar beserta label  H2 titik origin  H3 plotting dan keluk permintaan Ali  H4 plotting dan keluk permintaan Ahmad  H5 plotting dan keluk permintaan pasaran</p>	<p>2  1  1  1  1  1  (maks 6m)</p>
1 (b)	<p>H1 tingkat harga RM3, kuantiti diminta Ali ialah 8 unit dan kuantiti diminta Ahmad ialah 15 unit, maka permintaan pasaran 23 unit dan ditunjukkan oleh titik P</p> <p>H2 tingkat harga RM1, kuantitii diminta Ali ialah 10 unit dan kuantiti diminta Ahmad ialah 30 unit maka permintaan pasaran ialah 40 unit dan ditunjukkan oleh titik Q.</p> <p>H3 apabila titik P dan Q digabungkan terbentuklah keluk permintaan pasaran.</p> <p>H4 keluk permintaan pasaran mencerun ke bawah dari kiri ke kanan</p> <p>H5 hubungan antara harga dengan kuantiti diminta ialah negatif</p> <p>H6 keluk permintaan pasaran lebih landau dari keluk permintaan Ali dan Ahmad</p>	<p>1  1  1  1  1  1  (maks 6m)</p>

1 (c)	F1 Citarasa H1 apabila individu gemar terhadap sesuatu barang maka permintaan terhadap barang tersebut akan meningkat	1 1
	F2 Pendapatan H2 apabila jumlah pendapatan yang diterima oleh individu meningkat maka permintaan terhadap barang akan meningkat	1 1
	F3 Jangkaan harga masa depan H3 apabila harga sesuatu barang dijangka meningkat pada masa depan, maka permintaan terhadap barang pada masa sekarang akan meningkat.	1 1
	F4 Harga barang lain H4 apabila harga barang pengganti meningkat, maka permintaan akan menurun	1 1
	F5 Musim H5 apabila musim perayaan maka permintaan terhadap baju raya akan meningkat	1 1
	F6 Dasar kerajaan H6 apabila kerajaan mengumumkan pemberian bonus maka permintaan barang akan meningkat.	1 1
		1 (maks 6m)
1 (d)	H1 apabila harga meningkat kuantiti ditawarkan akan meningkat.	1
	H2 apabila harga menurun maka kuantiti ditawarkan akan menurun	1
	H3 hubungan antara harga dengan kuantiti ditawarkan adalah positif	1 (maks 2m)

NO SOALAN	SKEMA JAWAPAN	MARKAH						
2 (a)	Jadual permintaan <table border="1" data-bbox="416 241 1166 360" style="margin-left: auto; margin-right: auto;"> <thead> <tr> <th>Harga (RM)</th> <th>Kuantiti diminta (unit)</th> </tr> </thead> <tbody> <tr> <td>10</td> <td>50</td> </tr> <tr> <td>20</td> <td>20</td> </tr> </tbody> </table> <p>H1 semakin tinggi harga sesuatu barang semakin kurang kuantiti diminta</p> <p>H2 apabila harga meningkat dari RM10 ke RM20 kuantiti diminta jatuh dari 50 unit ke 20 unit</p> <p>H3 semakin rendah harga sesuatu barang semakin banyak kuantiti diminta</p> <p>H4 apabila harga jatuh dari RM20 ke RM10 kuantiti diminta meningkat dari 20 unit ke 50 unit</p> <p>H5 hubungan antara harga dengan kuantiti diminta adalah negatif</p>	Harga (RM)	Kuantiti diminta (unit)	10	50	20	20	2  1 1 1 1 1 (maks 6m)
Harga (RM)	Kuantiti diminta (unit)							
10	50							
20	20							
2 (b) (i)	H1 Berlaku keseimbangan pasaran H2 RM600 ialah harga keseimbangan H3 250 unit ialah kuantiti keseimbangan	1 1 1 (maks 2m)						
2 (b) (ii)	H1 berlaku lebih permintaan H2 lebih permintaan sebanyak 300 unit H3 harga akan cenderung untuk naik	1 1 1 (maks 2m)						
2 (b) (iii)	H1 berlaku lebih penawaran H2 lebih penawaran sebanyak 520 unit H3 harga cenderung untuk turun	1 1 1 (maks 2m)						
2 (c)	H1 kuantiti permintaan ialah 12 ribu helai H2 kuantiti penawaran ialah 12 ribu helai (7 ribu +5 ribu) H3 berlaku keseimbangan pasaran H4 harga tetap iaitu RM25 H5 keluk permintaan pasaran akan bersilang dengan keluk penawaran pasaran H6 tidak berlaku lebih penawaran / lebih permintaan	1 1 1 1 1 1 (maks 4m)						
2 (d) (i)	H1 berlaku apabila harga barang itu jatuh H2 titik bergerak ke bawah disepanjang keluk penawaran yang sama H3 keadaan ini menyebabkan kuantiti ditawarkan berkurang	1 1 1 (maks 2m)						
2 (d) (ii)	H1 berlaku apabila harga barang naik H2 titik bergerak ke atas di sepanjang keluk penawaran yang sama H3 keadaan ini menyebabkan kuantiti penawaran bertambah	1 1 1 (maks:2m)						

**TINGKATAN 4**  
**2.2 KEANJALAN HARGA**

NO SOALAN	SKEMA JAWAPAN	MARKAH
1 (a)(i)	H1 $E_d = \text{Peratus perubahan kuantiti diminta} / \text{peratus perubahan harga}$ H2 $E_d = 9 / 30$ H3 $E_d = 0.33$	1 1 1 <b>Max 2</b>
1 (a)(ii)	H1 Pekali keanjalan kurang daripada 1 / Keanjalan harga permintaan barang W ialah tidak anjal H2 Peratus perubahan kuantiti diminta lebih kecil daripada perubahan harga H3 Pengguna kurang responsif terhadap perubahan harga	1 1 1 <b>Max 2</b>
1(a)(iii)	H1 Barang Y ialah barang mewah H2 Ini kerana pekali keanjalan barang Y lebih daripada 1 H3 Menunjukkan barang Y adalah anjal H4 Bermaksud peratus perubahan kuantiti diminta lebih besar daripada peratus perubahan harga H5 Pengguna sangat responsif terhadap perubahan harga H6 Contohnya, apabila harga telefon bimbit turun 1%, permintaan telefon bimbit akan meningkat melebihi 1% H7 Keluk berbentuk landai H8 Pengeluar boleh menurunkan harga untuk meningkatkan keuntungan	1 1 1 1 1 1 1 1 <b>Max 5</b>
1 (b)	H1 Mengukur peratus perubahan kuantiti ditawar terhadap suatu barang akibat peratus perubahan harga barang itu H2 Merupakan nisbah peratus perubahan kuantiti ditawar dengan peratus perubahan harga H3 Rumus = peratus perubahan kuantiti ditawar / peratus perubahan harga H4 Tanda positif pada pekali keanjalan menunjukkan hubungan positif antara harga dengan kuantiti ditawar	1 1 1 1 <b>Max 2</b>
1 (c)	Faktor-faktor yang meningkatkan penawaran beg sekolah: F1 Harga barang itu sendiri H1 Apabila harga meningkat, kuantiti penawaran beg sekolah akan meningkat F2 Teknologi H2 Penggunaan teknologi yang canggih dalam pengeluaran akan meningkatkan penawaran beg sekolah F3 Harga input H3 Harga input seperti buruh atau bahan mentah yang rendah menyebabkan kos pengeluaran rendah sekaligus penawaran beg sekolah semakin meningkat F4 Dasar kerajaan H4 Apabila kerajaan memberi subsidi kepada pengeluar, penawaran beg sekolah akan meningkat	1 1 1 1 1 1 1 <b>Max 6</b>
1 (d)	H1 $E_s = \text{peratus perubahan kuantiti ditawar} / \text{peratus perubahan harga}$  H2 $E_s = [100 - 80 / 80 \times 100] / [45 - 40 / 40 \times 100]$ $= 25 / 12.5$ $= 2$	1  1 1 <b>Max 3</b>

**TINGKATAN 4**

**BAB 3: WANG, BANK DAN PENDAPATAN INDIVIDU**

<b>NO SOALAN</b>	<b>SKEMA JAWAPAN</b>	<b>MARKAH</b>
1 (a)	<p>Fungsi bank pusat sebagai jurubank kepada kerajaan:</p> <p>F1 mentadbir akaun negara H1 bank pusat menyimpan dan menguruskan akaun kerajaan H1a akaun kerajaan terdiri daripada akaun kewangan dan akaun pinjaman kewangan</p> <p>F2 memberi pendahuluan sementara H2 bank pusat bertanggungjawab memberikan pendahuluan sementara kepada kerajaan apabila kerajaan mengalami masalah kekurangan kewangan H2a kerajaan perlu membayar balik tidak lewat daripada 3 bulan setelah berakhirnya tahun kewangan kerajaan</p> <p>F3 Mengurus hutang negara H3 memperoleh pinjaman bagi pihak kerajaan daripada sumber dalam negeri dan luar negara</p> <p>F4 memberi nasihat pelaburan H4 bertindak sebagai penasihat dan ejen kerajaan untuk aktiviti pelaburan kerajaan di luar negara H4a mengkaji peluang projek pelaburan di luar negara yang berpotensi dan menguntungkan dari semasa ke semasa.</p> <p>F5 mengurus pertukaran asing H5 memastikan rizab antarabangsa sentiasa mencukupi H5a mengawal pertukaran asing dan memastikan bahawa nilai mata wang negara berada dalam keadaan stabil di pasaran kewangan antarabangsa.</p>	<p>1 1 1  1 1 1  1 1 1 1 1  1 1 1</p> <p>Maks: 4m</p>
1 (b)	<p>kelebihan kaedah pembayaran secara kredit</p> <p>H1 meringankan beban kewangan pembeli H2 dapat menikmati barangan walaupun harga penuh belum dijelaskan H3 meningkatkan taraf hidup pengguna H4 menggalakkan pembeli merancang perbelanjaan H5 barang yang dibeli dapat menghasilkan pendapatan atau memulakan perniagaan</p>	<p>1 1 1 1 1 1</p> <p>Maks: 6m</p>
1 (c)	<p>kemudahan pembayaran yang disediakan oleh bank perdagangan atas arahan pelanggan</p> <p>F1 debit langsung H1 pelanggan arahkan bank membuat bayaran yang tidak tetap jumlahnya pada tarikh tertentu kepada penerima bayaran seperti dinyatakan dalam bil</p> <p>F2 pindahan kredit</p>	<p>1 1 1</p>

	H2 kemudahan pembayaran gaji pekerja terus ke akaun penerima	1
	F3 perintah sedia ada	1
	H3 bank membuat bayaran tetap dan berulang pada tarikh yang tetap	1
	F4 draf bank	1
	H4 cek yang dikeluarkan oleh bank apabila diminta oleh pelanggan kepada pihak tertentu/ dikenakan caj perkhidmatan/contohnya membuat kiriman wang di dalam dan luar negara	1
	F5 kad juruwang elektronik	1
	H5 bertindak sebagai kad debit apabila membuat pembayaran untuk pembelian	1
	F6 kad kredit	1
	H6 bank membiayai perbelanjaan pemegang kad dikenakan yuran tahunan	1
		Maks:6m
1 (d)	penggunaan pendapatan boleh guna individu	
	F1 perbelanjaan terhadap barang tahan lama	1
	H1 tempoh penggunaan biasanya melebihi satu tahun/melibatkan perbelanjaan yang besar	1
	F2 perbelanjaan terhadap barang tidak tahan lama	1
	H2 tempoh penggunaan kurang daripada satu tahun/melibatkan perbelanjaan yang kecil	1
	F3 perbelanjaan terhadap perkhidmatan	1
	H3 penggunaan perkhidmatan seperti Internet, perubatan, pelancongan dan pengangkutan/ nilai yang berubah	1
		Maks: 4m



NO SOALAN	SKEMA JAWAPAN	MARKAH																
2 (a)	<p>perbezaan keperluan dan kehendak</p> <table border="1" data-bbox="368 208 1118 808"> <thead> <tr> <th data-bbox="368 208 746 248">Keperluan</th> <th data-bbox="746 208 1118 248">Kehendak</th> </tr> </thead> <tbody> <tr> <td data-bbox="368 248 746 322">Perkara asas yang mesti dipenuhi</td> <td data-bbox="746 248 1118 322">Perkara yang tidak semestinya dipenuhi</td> </tr> <tr> <td data-bbox="368 322 746 396">Untuk meneruskan kehidupan</td> <td data-bbox="746 322 1118 396">Untuk hidup lebih selesa</td> </tr> <tr> <td data-bbox="368 396 746 436">Bilangan terhad</td> <td data-bbox="746 396 1118 436">Bilangan tidak terhad</td> </tr> <tr> <td data-bbox="368 436 746 477">Mudah dipenuhi</td> <td data-bbox="746 436 1118 477">Sukar dipenuhi</td> </tr> <tr> <td data-bbox="368 477 746 551">Harga barang keperluan dikawal oleh kerajaan</td> <td data-bbox="746 477 1118 551">Harga barang tidak dikawal oleh kerajaan</td> </tr> <tr> <td data-bbox="368 551 746 696">Perlu dipenuhi oleh semua orang dan tidak dipengaruhi oleh saiz pendapatan</td> <td data-bbox="746 551 1118 696">Tidak perlu dipenuhi oleh semua orang dan dipengaruhi oleh saiz pendapatan</td> </tr> <tr> <td data-bbox="368 696 746 808">Contohnya makanan, pakaian, tempat tinggal</td> <td data-bbox="746 696 1118 808">Contohnya kereta, pakej pelancongan, telefon bimbit</td> </tr> </tbody> </table>	Keperluan	Kehendak	Perkara asas yang mesti dipenuhi	Perkara yang tidak semestinya dipenuhi	Untuk meneruskan kehidupan	Untuk hidup lebih selesa	Bilangan terhad	Bilangan tidak terhad	Mudah dipenuhi	Sukar dipenuhi	Harga barang keperluan dikawal oleh kerajaan	Harga barang tidak dikawal oleh kerajaan	Perlu dipenuhi oleh semua orang dan tidak dipengaruhi oleh saiz pendapatan	Tidak perlu dipenuhi oleh semua orang dan dipengaruhi oleh saiz pendapatan	Contohnya makanan, pakaian, tempat tinggal	Contohnya kereta, pakej pelancongan, telefon bimbit	<p>1+1</p> <p>1+1</p> <p>1+1</p> <p>1+1</p> <p>1+1</p> <p>1+1</p> <p>1+1</p> <p>1+1</p> <p>Maks: 6m</p>
Keperluan	Kehendak																	
Perkara asas yang mesti dipenuhi	Perkara yang tidak semestinya dipenuhi																	
Untuk meneruskan kehidupan	Untuk hidup lebih selesa																	
Bilangan terhad	Bilangan tidak terhad																	
Mudah dipenuhi	Sukar dipenuhi																	
Harga barang keperluan dikawal oleh kerajaan	Harga barang tidak dikawal oleh kerajaan																	
Perlu dipenuhi oleh semua orang dan tidak dipengaruhi oleh saiz pendapatan	Tidak perlu dipenuhi oleh semua orang dan dipengaruhi oleh saiz pendapatan																	
Contohnya makanan, pakaian, tempat tinggal	Contohnya kereta, pakej pelancongan, telefon bimbit																	
2 (b)	<p>dua faedah sampingan yang mempengaruhi pemilihan sesuatu pekerjaan</p> <p>H1 insentif diberikan oleh majikan kepada pekerja</p> <p>H2 lebih bermotivasi dan kekal bekerja</p> <p>H3 contohnya tempat tinggal/pakej percutian/ faedah persaraan/skim insurans/ kemudahan penjagaan anak/</p> <p>H4 diskaun pembelian barang syarikat/ kemudahan melanjutkan pelajaran/ pinjaman rumah atau kenderaan cuti dan elaun</p>	<p>1</p> <p>1</p> <p>1</p> <p>1</p> <p>Maks:4m</p>																
2 (c)	<p>jenis pendapatan bagi individu yang tidak memberi sumbangan dalam proses pengeluaran.</p> <p>H1 bayaran pindahan</p> <p>H2 tidak memberi sumbangan dalam proses pengeluaran</p> <p>H3 ganjaran kepada factor tidak produktif</p> <p>H4 contohnya pesara yang mendapat pencen</p> <p>H5 pelajar menerima wang saku</p> <p>H6 pelajar menerima biasiswa</p>	<p>1</p> <p>1</p> <p>1</p> <p>1</p> <p>1</p> <p>1</p> <p>Maks:4</p>																
2 (d)	<p>Kepentingan belanjawan peribadi</p> <p>F1 membolehkan individu mendahulukan perkara penting</p> <p>H1 barang keperluan seperti makanan sebelum membeli barang kehendak</p> <p>F2 membantu individu menabung</p> <p>H2 sebahagian daripada pendapatan disimpan untuk tujuan kecemasan seperti kemalangan</p> <p>F3 membantu menyelaraskan perbelanjaan mengikut pendapatan</p> <p>H3 supaya tidak membazir dan boros</p> <p>F4 mengelakkan hutang</p> <p>H4 individu berbelanja tidak melebihi pendapatan</p> <p>F5 mengelakkan kenaikan harga barang (inflasi)</p> <p>H5 mengawal perbelanjaan</p>	<p>1</p> <p>1</p> <p>1</p> <p>1</p> <p>1</p> <p>1</p> <p>1</p> <p>1</p> <p>1</p> <p>1</p> <p>Maks:4m</p>																

**TINGKATAN 4**  
**BAB 4: PENGELUARAN**

NO SOALAN	SKEMA JAWAPAN	MARKAH								
1 (a)	Konsep firma H1 Unit ekonomi yang produktif yang merancang dan menggabungkan faktor pengeluaran yang terhad untuk menghasilkan barang dan perkhidmatan H2 Firma mempunyai pelbagai saiz dan bentuk H3 Terdapat firma awaam dan firma swasta H4 Objektif firma awam untuk memaksimumkan kebajikan masyarakat H5 Objektif firma swasta untuk memaksimumkan keuntungan H6 Firma meminta faktor pengeluaran daripada isi rumah	1 1 1 1 1 1 1 Maks:4m								
1 (b)	Maksud pengeluaran -Suatu proses yang menggabungkan faktor pengeluaran seperti tanah , buruh , modal dan usahawan - untuk menghasilkan barang dan perkhidmatan	1 1 1 Maks: 2m								
1 (c) i.	- input berubah - input tetap	1 1								
1 (c) ii.	Persamaan H1 Kedua-dua input tersebut digunakan dalam jangka masa pendek H2 Kedua-duanya mempunyai penawaran yang terhad. H3 kedua-duanya mempunyai kos pengeluaran  Perbezaan <table border="1" data-bbox="395 1236 1145 1646"> <thead> <tr> <th data-bbox="395 1236 772 1279">Input Tetap</th> <th data-bbox="772 1236 1145 1279">Input Berubah</th> </tr> </thead> <tbody> <tr> <td data-bbox="395 1279 772 1391">Kuantiti input tetap adalah tetap pada sebarang Tingkat output</td> <td data-bbox="772 1279 1145 1391">Input yang kuantitinya berubah mengikut Tingkat output</td> </tr> <tr> <td data-bbox="395 1391 772 1536">Input tetap hanya berlaku dalam jangka masa pendek</td> <td data-bbox="772 1391 1145 1536">Input berubah wujud dalam jangka masa pendek dan jangkamasa panjang</td> </tr> <tr> <td data-bbox="395 1536 772 1646">Perlu dibayar penggunaan walaupun pada output sifar</td> <td data-bbox="772 1536 1145 1646">Tidak perlu dibayar pada output sifar</td> </tr> </tbody> </table>	Input Tetap	Input Berubah	Kuantiti input tetap adalah tetap pada sebarang Tingkat output	Input yang kuantitinya berubah mengikut Tingkat output	Input tetap hanya berlaku dalam jangka masa pendek	Input berubah wujud dalam jangka masa pendek dan jangkamasa panjang	Perlu dibayar penggunaan walaupun pada output sifar	Tidak perlu dibayar pada output sifar	1 1 1  1 + 1  1 + 1  1 + 1 Maks:5m
Input Tetap	Input Berubah									
Kuantiti input tetap adalah tetap pada sebarang Tingkat output	Input yang kuantitinya berubah mengikut Tingkat output									
Input tetap hanya berlaku dalam jangka masa pendek	Input berubah wujud dalam jangka masa pendek dan jangkamasa panjang									
Perlu dibayar penggunaan walaupun pada output sifar	Tidak perlu dibayar pada output sifar									
1 (d) i.	$= \frac{5000}{15}$ $= 333.33 \text{ unit}$	1  1								
ii.	Keluaran marginal $= \frac{6\,000 - 5\,000}{5}$ $= 200 \text{ unit}$	1 1								
iii.	- Kilang pau - Mesin pembuat pau - Tanah	1 1 1								

NO SOALAN	SKEMA JAWAPAN	MARKAH
2 (a)	<ul style="list-style-type: none"> <li>- Segala perbelanjaan terhadap input yang digunakan dalam proses pengeluaran</li> <li>- Dalam jangka masa pendek kos tetap dan kos berubah</li> <li>- Dalam jangka masa panjang semua kos berubah</li> <li>- Kos tetap ialah bayaran yang dilakukan terhadap penggunaan input tetap</li> <li>- Contoh kos tetap ialah sewa kilang</li> <li>- Kos berubah ialah bayaran yang dilakukan terhadap penggunaan input berubah</li> <li>- Contoh kos berubah ialah bil elektrik</li> </ul>	<p style="text-align: center;">1</p> <p style="text-align: center;">1</p> <p style="text-align: center;">1</p> <p style="text-align: center;">1</p> <p style="text-align: center;">1</p> <p style="text-align: center;">1</p> <p style="text-align: center;">1</p>
2 (b) i.	<p>Kos berubah = upah buruh + bahan mentah + bil utiliti</p> <p>= 30000 + 45700 + 10500</p> <p>= 86200</p>	<p style="text-align: center;">1</p> <p style="text-align: center;">1</p>
2 (b) ii.	<p>Jumlah kos = sewa kilang + upah buruh + mesin + bahan mentah + bil utiliti + insurans kilang</p> <p>= 40000 + 30000 + 32000 + 45700 + 10500 + 4500</p> <p>= 162700</p>	<p style="text-align: center;">1</p> <p style="text-align: center;">1</p>
2 (b) iii.	<p>Kos purata = <math>\frac{\text{jumlah kos}}{\text{Jumlah output}}</math></p> <p>= <math>\frac{162700}{50000}</math></p> <p>= RM 3.25</p>	<p style="text-align: center;">1</p> <p style="text-align: center;">1</p>
2 (c) i.	<p>X = RM30 + RM10</p> <p>= RM50</p> <p>Y = <math>\frac{\text{RM80}}{3}</math></p> <p>= RM26.70</p> <p>Z = <math>\frac{\text{RM200} - \text{RM150}}{5 - 4}</math></p> <p>= RM50</p>	<p style="text-align: center;">1</p> <p style="text-align: center;">1</p> <p style="text-align: center;">1</p>
2 (c) ii.	<p>0 hingga 4 orang</p> <ul style="list-style-type: none"> <li>- Kos purata semakin meningkat</li> <li>- Kos marginal semakin meningkat</li> <li>- Kos marginal mencapai maksimum pada buruh ke-4 orang 5 hingga 7 orang</li> <li>- Kos purata semakin menurun</li> <li>- Kos marginal sifar pada buruh ke-6 orang</li> <li>- Kos marginal negatif pada buruh ke-7 orang</li> </ul>	<p style="text-align: center;">1</p> <p style="text-align: center;">1</p> <p style="text-align: center;">1</p> <p style="text-align: center;">1</p> <p style="text-align: center;">1</p> <p style="text-align: center;">1</p>

**TINGKATAN 5****BAB 1.0: EKONOMI DAN KERAJAAN****1.1: PERANAN KERAJAAN DALAM EKONOMI**

<b>NO SOALAN</b>	<b>SKEMA JAWAPAN</b>	<b>MARKAH</b>
1 (a)	Jelaskan peranan yang dimainkan oleh kerajaan untuk menjaga kebajikan masyarakat dan kemakmuran negara.  H1 Peranan kerajaan sebagai pengeluar barang awam dan barang sosial H2 Dapat meningkatkan taraf hidup rakyat H3 Dapat menarik masuk pelaburan asing H4 Peranan kerajaan sebagai majikan dapat mencipta peluang pekerjaan akan mengurangkan kadar pengangguran/hampir mencapai guna tenaga penuh H5 Peranan kerajaan mengawal selia pengeluar dan eksternaliti negatif melalui undang-undang dan peraturan H6 Dapat mengurangkan kadar pencemaran H7 Memelihara kesejahteraan rakyat H8 Peranan kerajaan campur tangan dalam ekonomi dapat mengawal kuasa pasaran	1 1 1 1 1 1 1 1 1 1 Maks:6m
1 (b)	Kerajaan sebagai majikan menyediakan pelbagai faedah sampingan kepada penjawat awam H1 Elaun perumahan dan elaun sara hidup (COLA) H2 Imbuhan tetap perkhidmatan awam H3 Cuti tahun mengikut kelayakan H4 Kemudahan pinjaman perumahan dan kenderaan H5 Pencen selepas bersara H6 Cuti bersalin	1 1 1 1 1 1 Maks: 4m
1 (c)	Jelaskan sebab kerajaan perlu melaksanakan projek tersebut. H1 Pengeluaran barang awam oleh kerajaan menjadi tanggungjawab H2 Barang awam dikeluarkan untuk meningkatkan kebajikan rakyat maka ia perlu dikeluarkan oleh kerajaan H3 Barang awam ditawarkan secara percuma H4 Hospital/penyediaan rawatan membantu menurunkan kos sara hidup rakyat H5 Penyediaan barang awam membantu meningkatkan peluang pekerjaan bagi rakyat H6 Barang awam dibekalkan kepada semua tanpa memilih kasih H7 Kos menyediakan barang awam adalah mahal tetap ia ditawarkan secara percuma/ bayaran minimum H8 Barang awam disediakan melalui pungutan cukai/hasil cukai H9 Kerajaan menjadi pengeluar barang awam dan barang sosial yang lengkap supaya setanding dengan negara maju	1 1 1 1 1 1 1 1 1 1 Maks:5

1 (d)	<p>Jelaskan kepentingan pencapaian pertumbuhan ekonomi yang mampan kepada negara</p> <p>H1 Peningkatan /pertambahan peluang pekerjaan</p> <p>H2 Berlaku pertambahan dalam pendapatan negara (KDNK)</p> <p>H3 Pengangguran menurun/ produktiviti meningkat</p> <p>H4 Eksport negara meningkat/ nilai imbalan pembayaran meningkat/nilai RM naik</p> <p>H5 Pertambahan dalam guna tenaga/pelaburan asing bertambah</p> <p>H6 Pertambahan kuasa beli dan permintaan agregat</p> <p>H7 Taraf hidup masyarakat meningkat akibat pertambahan pendapatan per kapita</p> <p>H8 Kadar kemiskinan dalam negara menurun/imej negara naik</p> <p>H9 Mendapat gelaran negara maju</p>	<p>1</p> <p>1</p> <p>1</p> <p>1</p> <p>1</p> <p>1</p> <p>1</p> <p>1</p> <p>1</p> <p>Maks: 5m</p>
-------	--	--

NO SOALAN	SKEMA JAWAPAN	MARKAH
2 (a)	Gambar di bawah menunjukkan sejenis barang dalam ekonomi. Jelaskan barang tersebut H1 Barang awam H2 Disediakan oleh kerajaan H3 Barang yang dapat digunakan oleh seorang individu tanpa mengurangkan faedah penggunaan individu lain H4 Semua orang boleh menggunakannya H5 Tidak dikenakan bayaran/ bayaran minimum H6 Penawaran terhad H7 Mempunyai kos lepas H8 Untuk memaksimumkan kebajikan rakyat H9 Meningkatkan taraf keselamatan rakyat	1 1 1 1 1 1 1 1 1 1 Maks:6m
2 (b) (i)	Jelaskan barang kawalan H1 Harga di kawal oleh kerajaan H2 Tujuan dikawal bagi memastikan semua rakyat mampu membelinya H3 Ada yang diberi subsidi oleh kerajaan H4 Menyebabkan harganya lebih murah daripada harga pasaran H5 Disediakan oleh firma H6 Merupakan barang keperluan H7 Contoh beras/ tepung/gula/minyak masak	1 1 1 1 1 1 1 Maks:4m
2 b (ii)	Bagaimanakah kerajaan mengatasi masalah tersebut? H1 Mengawal melalui undang-undang/Akta kawalan harga barang/Akta anti percaturan 2011 H2 Kerajaan menyediakan barang awam H3 Mewujudkan kedai Rakyat 1 Malaysia H4 Memberi subsidi kepada pengeluar/ penjual H5 Menetapkan harga maksimum untuk dijual H6 Menetapkan harga minimum pengeluar	1 1 1 1 1 1 Maks:6m
2 (c)	Jelaskan peranan kerajaan mengatasi kesan tersebut? H1 Melalui undang-undang dan peraturan H2 Akta kualiti alam sekeliling 1974 H3 Pengenaan kompaun/denda/penjara H4 Menghadkan pemberian lesen/menarik balik lesen H5 Menentukan kawasan perindustrian/ perumahan/ industri ringan/industri berat H6 Melakukan pemantauan dari semasa ke semasa H7 Bantuan kewangan yang diberikan oleh kerajaan kepada sesuatu perniagaan/setor ekonomi H8 Memberi subsidi untuk kaedah pengeluaran mesra alam H9 Pengenaan cukai atas pengeluaran barang yang mencemarkan alam sekitar	1 1 1 1 1 1 1 1 1 1 Maks: 4m

**TINGKATAN 5**  
**1.2 PENUNJUK EKONOMI**

NO SOALAN	SKEMA JAWAPAN	MARKAH
1 (a)	H1 Kenaikan IHP/Tingkat harga umum /inflasi H2 kadar inflasi 2.08% H3 Pendapatan benar merosot H4 Nilai mata wang merosot H5 Kos sara hidup meningkat H6 Kuasa beli jatuh H7 Jumlah perbelanjaan meningkat H8 Taraf hidup merosot H9 Tidak dapat menabung H10 Pinjaman meningkat	1 1 1 1 1 1 1 1 1 1 1 Maks: 4m
1 (b) (i)	H1 Tabungan berkurangan H2 Perbelanjaan penggunaan meningkat H3 Pengguna terpaksa mengeluarkan simpanan bagi menampung kos sara hidup H4 Individu cenderung membelanjakan wang daripada menabung H5 Nilai mata wang merosot H6 Kuasa beli jatuh H7 Mengalami kerugian jika menabung	1 1 1 1 1 1 1 Maks: 4m
1 (b)(ii)	H1 Kos pengeluaran meningkat H2 kos pengangkutan naik H3 Harga barangan eksport secara relative lebih mahal berbanding negara lain H4 Daya saing barangan eksport jatuh H5 Jumlah eksport jatuh H6 Aliran masuk wang jatuh H7 Pendapatan eksport rendah H8 Jejas Imbangan Dagangan H9 Jejas industry berorientasikan eksport H10 Permintaan RM jatuh	1 1 1 1 1 1 1 1 1 1 Maks: 4m
1 (c)	H1 Pertumbuhan ekonomi meningkat H2 Pembangunan negara semakin pesat H3 Pendapatan negara meningkat H4 Pelaburan asing meningkat H5 kadar pengangguran berkurangan H6 Melahirkan ramai golongan usahawan H7 Aktiviti R&D dijalankan dengan pesat H8 Produktiviti negara meningkat H9 mewujudkan peluang pekerjaan H10 merapatkan jurang pendapatan negara	1 1 1 1 1 1 1 1 1 1 Maks: 4m

NO SOALAN	SKEMA JAWAPAN	MARKAH
1 (d)	H1 Sumber alam semula jadi H2 contoh tanah/iklim/hasil hutan/hasil laut H3 menarik pelabur asing H4 Jumlah penduduk/tenaga buruh bertambah H5 Permintaan terhadap barangan /perkhidmatan bertambah H6 Kemajuan teknologi H7 Peningkatan kecekapan pengeluaran H8 Pendapatan negara bertambah H9 Pelaburan dalam aktiviti ekonomi meningkat H10 sikap Masyarakat yang positif/sikap terbuka H11 Memberi keyakinan kepada pelabur tempatan/asing	1 1 1 1 1 1 1 1 1 1 1 Maks: 4m
2 (a)	F1 Pengangguran Berstruktur H1a disebabkan perubahan struktur ekonomi H1b kekurangan mobiliti dari segi kelayakan dan kemahiran  F2 Pengangguran Geseran H2a Berlaku perpindahan pekerjaan H2b Kurang mobiliti H2c Kurang maklumat H2d pengangguran jangka pendek	1 1 1 1 1 1 Maks: 4m
2 (b)	H1 Kadar kemiskinan meningkat H2 Tidak mempunyai punca pendapatan akibat kehilangan pekerjaan H3 Masalah kekeluargaan meningkat H4 berlaku konflik/pergaduhan akibat tekanan H5 kadar jenayah bertambah H6 Kehilangan keyakinan diri H7 Kemahiran/pengetahuan sedia ada akan ketinggalan H8 Masalah Kesihatan meningkat	1 1 1 1 1 1 1 1 Maks: 6m
2 (c) (i)	F1 Inflasi tolakan kos H1a Harga bahan api yang lebih tinggi H1b Kerajaan menghapuskan subsidi ke atas harga barangan terpilih/peningkatan kos perniagaan H1c pengeluar memindahkan beban peningkatan kos kepada pengguna H1d Harga barang/perkhidmatan akan meningkat F2 Inflasi diimport H2a kejatuhan nilai mata wang RM dalam pertukaran wang asing/penyusutan nilai RM H2b Harga import secara relatifnya lebih mahal H2c Tingkat harga barang yang menggunakan komponen/bahan yang diimport akan meningkat	1 1 1 1 1 1 1 1 1 1 Maks: 4m



2 (c) (ii)	H1 Melaksanakan dasar kewangan menguncup/dasar fiscal menguncup	1
	H2 Mengurangkan bekalan wang dalam ekonomi	1
	H3 menjual surat jaminan Kerajaan/menaikkan nisbah rizab berkanun/rizab tunai/menaikkan kadar faedah/	
	mengetatkan syarat sewa beli	1
	H4 meningkatkan kadar cukai/mengurangkan perbelanjaan Kerajaan	1
	H5 pendapatan turun	1
	H6 kuasa beli pengguna turun/Permintaan jatuh	1
	H7 Permintaan agregat/perbelanjaan agregat menurun	1
	H8 Tingkat harga umum turun	1
	H9 Kerajaan mengawal seli pengeluar	1
	H10 Melaksanakan Akta Kawalan dan Anti pencatutan 2011	1
	H11 mengisytiharkan barang kawalan	1
	H12 Peniaga tidak dibenarkan menaikkan harga barang kawalan	1
	H13 melaksanakan dasar harga maksimum	1
	H14 Agensi kerajaan/KPDNHEP melaksanakan pemantauan harga secara berterusan	1
H15 memperkenalkan aplikasi untuk aduan kenaikan harga EzAdu/price checker	1	
	Maks: 6m	

**TINGKATAN 5**

**1.3 ALAT DASAR KEWANGAN**

<b>NO SOALAN</b>	<b>SKEMA JAWAPAN</b>	<b>MARKAH</b>						
1(a) (i)	H1 Cukai A – cukai langsung H2 Cukai B - cukai tak langsung	1 1 Maks: 2m						
1 (a) (ii)	<table border="1" style="width: 100%; border-collapse: collapse;"> <thead> <tr> <th style="width: 50%; text-align: center;">Cukai A</th> <th style="width: 50%; text-align: center;">Cukai B</th> </tr> </thead> <tbody> <tr> <td>H1 Beban cukai tidak dapat dipindah kepada pihak lain</td> <td>H1 Beban cukai tidak dapat dipindah kepada pihak lain</td> </tr> <tr> <td>H2 Dikenakan atas individu atau firma</td> <td>H2 Dikenakan atas barang dan perkhidmatan</td> </tr> </tbody> </table>	Cukai A	Cukai B	H1 Beban cukai tidak dapat dipindah kepada pihak lain	H1 Beban cukai tidak dapat dipindah kepada pihak lain	H2 Dikenakan atas individu atau firma	H2 Dikenakan atas barang dan perkhidmatan	1 + 1  1 + 1  Maks: 4m
Cukai A	Cukai B							
H1 Beban cukai tidak dapat dipindah kepada pihak lain	H1 Beban cukai tidak dapat dipindah kepada pihak lain							
H2 Dikenakan atas individu atau firma	H2 Dikenakan atas barang dan perkhidmatan							
1 (b)	H1 Kerajaan akan meningkatkan cukai H2 Mengurangkan perbelanjaan kerajaan, mengurus dan pembangunan H3 Tindakan ini akan memperlambatkan pertumbuhan ekonomi H4 Pendapatan boleh guna pengguna berkurang H5 kuasa beli menurun H6 Permintaan terhadap barang berkurang H7 Tingkat harga umum akan jatuh H8 Inflasi dapat distabilkan	1 1 1 1 1 1 1 1 Maks: 5m						
1 (c) (i)	F1 Kemelesetan ekonomi H1 Kemelesetan ekonomi boleh diatasi dengan menambahkan bekalan wang kepada Masyarakat untuk meningkatkan kegiatan ekonomi	1 1 Maks:2m						
ii)	H1 Menurunkan nisbah rizab berkanun H2 Menurunkan nisbah rizab tunai H3 Menurunkan kadar faedah	1 1 1 Maks: 3m						
iii)	H1 Keupayaan bank perdagangan untuk memberi pinjaman dan penciptaan kredit meningkat H2 Bekalan wang dalam ekonomi bertambah H3 Kuasa beli masyarakat meningkat H4 Permintaan agregat akan meningkat H5 Tingkat harga umum cenderung meningkat	1 1 1 1 1 Maks: 4m						

<b>NO SOALAN</b>	<b>SKEMA JAWAPAN</b>	<b>MARKAH</b>
2 (a)	H1 kos pinjaman akan meningkat H2 Firma akan mengurangkan jumlah pinjaman H3 Modal kewangan firma akan berkurangan H4 Firma mungkin menghadapi masalah kecairan tunai H5 Keadaan ini akan mengehendkan pelaburan yang dibuat oleh firma H6 Pelaburan agregat dalam ekonomi akan berkurang H7 Daya saing firma akan menurun	1 1 1 1 1 1 1 Maks: 4m
(b) i)	H1 untuk memastikan peruntukan dikawal agar jumlah perbelanjaan tidak melebihi pendapatan. H2 untuk menjaga kebajikan masyarakat H3 untuk mencapai matlamat bagi melaksanakan aktiviti ekonomi negara.	1 1 1 Maks: 3m
ii)	H1 Belanjawan ini dilaksanakan semasa ekonomi menghadapi masalah pengangguran / kemelesetan ekonomi. H2 Kerajaan akan meningkatkan perbelanjaan kerajaan H2a Peningkatan perbelanjaan kerajaan akan mencipta peluang pekerjaan kepada masyarakat dan H2b menambahkan pendapatan individu serta negara. H2c Kesannya, kuasa beli masyarakat meningkat dan keadaan pengangguran / kemelesetan dapat dipulihkan. H3 Kerajaan akan mengurangkan cukai. H3a Kesannya, pendapatan boleh guna dan kuasa beli masyarakat akan meningkat. H3b Permintaan terhadap barang dan perkhidmatan dalam pasaran turut meningkat dan H3c menggalakkan pertumbuhan aktiviti ekonomi sehingga keadaan kemelesetan ekonomi dapat dipulihkan.	1 1 1 1 1 1 1 1 1 Maks: 4m
(c) i)	H1 Guna tenaga menurun. H2 Firma kurangkan penggunaan pekerja. H3 Pengurangan modal dalam pelaburan.	1 1 1 Maks: 2m
ii)	H1 Tingkat harga umum menurun H2 Wang dalam pasaran berkurang H3 Kuasa beli pengguna menurun	1 1 1 Maks: 2m
iii)	H1 Pertumbuhan ekonomi semakin perlahan H2 Kegiatan ekonomi akan merosot. H3 Pendapatan negara menurun	1 1 1 Maks: 2m

**TINGKATAN 5**  
**2.1 GLOBALISASI**

<b>NO SOALAN</b>	<b>SKEMA JAWAPAN</b>	<b>MARKAH</b>
2 (a)	H1 Meluaskan pasaran untuk mendapatkan lebih ramai pelanggan H2 Perlindungan perdagangan seperti kadar cukai yang lebih rendah berbanding produk yang diimport daripada luar negara H3 Tenaga buruh dan Kemahiran khusus kerana terdapat negara-negara yang mempunyai tenaga buruh berkemahiran dengan kos yang rendah H4 Bahan mentah atau hasil bumi yang unik dapat mengatasi masalah kekurangan sumber bahan mentah.	1 1 1 1 Maks: 4m
2 (b)	<b>Ciri Syarikat multinasional</b> H1 Firma besar yang mempunyai cawangan di seluruh negara H2 Pemindahan teknologi yang canggih antara cawangan di negara yang berbeza H3 Semua cawangan dikawal oleh firma induk di negara asing H4 Contoh Syarikat SimeDarby Berhad, Axiata Group	1 1 1 1 Maks: 4m
2 (c)	<b>Kesan positif terhadap pelaburan langsung asing</b> i) Pertumbuhan ekonomi H1 Peningkatan keupayaan pengeluaran barang dan perkhidmatan H2 Produktiviti pekerja meningkat disebabkan peningkatan Kemahiran serta penggunaan kaedah pengeluaran yang lebih baharu ii) Pindahan teknologi H3 Pelaburan langsung asing membawa masuk teknologi yang canggih H4 Kemudahan mesin dan teknologi baharu memudahkan dan meningkatkan produktiviti kerja iii) Meningkatkan modal pelaburan H5 Lebih banyak modal dapat dibawa masuk ke negara Malaysia dan menggalakkan pertumbuhan aktiviti pengeluaran H6 Pemilikan ekuiti asing dalam firma Malaysia membantu firma menghadapi masalah pembiayaan modal	1 1 1 1 1 1 1 1 1 Maks: 6m
2 (d)	<b>Kesan negatif pelaburan langsung asing</b> i) <b>Ketidakseimbangan pendapatan</b> H1 Pekerja di firma asing memiliki pendapatan yang lebih tinggi berbanding individu yang bekerja di firma tempatan H2 Persaingan yang sengit dengan firma tempatan H3 Menjejaskan pendapatan firma tempatan H4 Jurang pendapatan yang besar ii) <b>Aliran untung ke luar negara</b> H5 Firma luar berhak membawa keluar untung ke negara asal H6 Negara sukar mengawal keuntungan keluar ke negara asal pelabur H6 Menjejaskan kadar pertukaran asing sesebuah negara H7 Menjejaskan imbalan pembayaran negara	1 1 1 1 1 1 1 1 Maks: 6m

**TINGKATAN 5**

**2.2 PERDAGANGAN ANTARABANGSA**

NO SOALAN	SKEMA JAWAPAN	MARKAH						
1(a)	H1 Sumber semula jadi yang berbeza H2 Iklim dan jenis tanah yang berbeza H3 Tingkat kecekapan pengeluaran yang berbeza H4 Cita rasa yang berbeza H5 Harga faktor yang murah H6 Budaya masyarakat yang berbeza	1 1 1 1 1 1 Maks:5m						
1 (b)	H1 Memperoleh barang yang tidak dikeluarkan dalam negara H2 Meluaskan pasaran H3 Menambah pendapatan negara H4 Menggalakkan permindahan dan penggunaan teknologi H5 Menikmati barang dengan harga yang lebih murah H6 Menawarkan pilihan pengguna yang pelbagai H7 Meningkatkan kecekapan pengeluaran H8 Menambah peluang pekerjaan H9 Menambah pelaburan	1 1 1 1 1 1 1 1 1 Maks: 5m						
1 (c) (i)	H1 Persaingan dengan barang import H2 Keuntungan yang berkurangan H3 Mengurangkan pekerja H4 Tutup operasi	1 1 1 1 Maks: 3m						
1 (c) (ii)	H1 Pilihan yang pelbagai H2 Menikmati barang import dengan harga yang lebih murah H3 Kuasa beli pengguna meningkat H4 Taraf hidup meningkat H5 Kepuasan meningkat	1 1 1 1 1 Maks: 3m						
1 (d)	F1 Import H1 Membeli barabg dan perkhidmatan dari negara lain F2 Entrepot H2 Membeli barang dari luar negara dan menjual semula kepada negara lain F3 Eksport H3 Menjual barang dan perkhidmatan kepada negara lain	1 1 1 1 1 1 Maks: 4m						
2(a)(i)	F1 Sekatan A : Tarif / tarif spesifik F2 Sekatan B : kouta	1 1						
2 (a) (ii)	<table border="1" style="width: 100%; text-align: center;"> <thead> <tr> <th style="width: 50%;">Sekatan A</th> <th style="width: 50%;">Sekatan B</th> </tr> </thead> <tbody> <tr> <td>Harga barang import meningkat</td> <td>Tiada kenaikan harga terhadap barang import</td> </tr> <tr> <td>Cukai yang dikenakan ke atas barang import</td> <td>Had maksimum yang dibenarkan</td> </tr> </tbody> </table>	Sekatan A	Sekatan B	Harga barang import meningkat	Tiada kenaikan harga terhadap barang import	Cukai yang dikenakan ke atas barang import	Had maksimum yang dibenarkan	1 1
Sekatan A	Sekatan B							
Harga barang import meningkat	Tiada kenaikan harga terhadap barang import							
Cukai yang dikenakan ke atas barang import	Had maksimum yang dibenarkan							

2 (b)	H1	Menggalakkan pemindahan teknologi dan kepakaran	1
	H2	Peluasan pasaran	1
	H3	Mobiliti modal dan tenaga kerja	1
	H4	Penjagaan alam sekitar	1
	H5	Peningkatan pelaburan asing	1
	H6	Perkongsian sumber tenaga dan bahan mentah	1
	H7	Pertambahan peluang pekerjaan	1
	H8	Peningkatan daya saing dan kualiti barang	1
			Maks: 4m
2 (c) (i)	H2	Perluasan pasaran	1
	H3	Mobiliti modal dan tenaga kerja	1
	H4	Peningkatan pelaburan langsung asing	1
	H5	Pertambahan peluang pekerjaan	1
	H6	Peningkatan daya saing negara dan kualiti barangan	1
2 (c) (ii)	H1	Kegawatan ekonomi	1
	H2	Ancaman kepada industri muda tempatan	1
	H3	Harga barang naik	1
	H4	Pencemaran terhadap budaya tempatan	1
	H5	Kos sara hidup meningkat	1
	H6	Masalah lambakan barang import	1
	H7	Kekayaan sumber ekonomi dikaut oleh pemodal asing	1
			Maks: 4m
2 (d)	F1	Produk yang memudaratkan pengguna	1
	F2	Produk yang tidak menepati piawaian dan mutu	1
	F3	Produk yang tidak mematuhi peraturan dan undang-undang kesihatan	1
			Maks: 2m

**TINGKATAN 5**

**2.3 IMBANGAN PEMBAYARAN**

NO SOALAN	SKEMA JAWAPAN	MARKAH
1 (a)	H1 Akaun barangan bermaksud merekodkan jumlah nilai eksport barang nampak dengan jumlah nilai import barang nampak. H2 Perbezaan antara jumlah nilai eksport barang Nampak dengan jumlah nilai import barang Nampak dikenal sebagai imbalan dagangan.	1  1
1 (b)	Negara A H1 RM 500 000 – RM 600 000 H2 = - RM100 000  Negara B H1 RM 500 000 – RM 300 000 H2 = RM 100 000  Negara C H1 RM 300 000 – RM 300 000 H2 = RM 0	1 1  1 1  1 1  Maks: 6m
1 (c)	H1 Negara B H2 Berlaku lebih akaun barangan	1 1
1 (d)(i)	F1 Pertanian H1 Hasil keluaran daripada sektor pertanian dan perladangan  F2 Perlombongan H2 Hasil keluaran daripada sektor perlombongan  F3 Pembuatan H3 Hasil keluaran sektor perkilangan	1 1  1 1  1 1
1 (d)(ii)	F1 Perkhidmatan pelancongan H1 Perbelanjaan pelancong, pelajar, ahli sukan dan pesakit asing di Malaysia.  F2 Perkhidmatan pengangkutan H2 Bayaran tambang yang diterima oleh firma perkapalan tempatan, tambang penumpang, bayaran kemudahan lapangan terbang dan bayaran parker pesawat serta bayaran perkhidmatan pos dan kurier daripada firma asing atau rakyat asing.  F3 Perkhidmatan telekomunikasi, komputer dan maklumat H3 Perkhidmatan pembinaan yang dilaksanakan oleh rakyat Malaysia atau firma Malaysia di luar negara termasuk pembinaan bangunan, pemasangan jentera serta perkhidmatan penyewaan peralatan pembinaan.	1 1  1 1  1 1

NO SOALAN	SKEMA JAWAPAN	MARKAH
2 (a)	H1 Imbangan pembayaran bermaksud satu rekod sistematik tentang jumlah permintaan dan jumlah pembayaran kewangan sesebuah negara dengan negara lain dalam tempoh setahun. H2 Penerimaan kewangan di catat di bahagian kredit H4 Pembayaran kewangan di catat di bahagian debit	1    1 1 <b>Max 2</b>
2 (b)(i)	H1 = $800 + (-400) + (-220) + (-155)$ H2 = RM25 juta  H1 Lebihan akaun semasa H2 Merekodkan semua penerimaan dan pembayaran negara dalam akaun barangan, perhidmatan dan pendapatan H3 Jumlah penerimaan kewangan lebih besar daripada jumlah pembayaran kewangan akaun semasa	1 1  1 1  1
2 (b) (ii)	F1 Peningkatan dalam pendapatan negara H1 Peningkatan permintaan untuk eksport barang dan perkhidmatan  F2 Peningkatan guna tenaga H2 Peningkatan permintaan untuk barang eksport akan mewujudkan lebih banyak peluang pekerjaan  F3 Peningkatan taraf Hidup H3 Kewujudan lebih banyak peluang pekerjaan akan meningkatkan pendapatan masyarakat dan seterusnya meningkatkan kuasa beli dan taraf hidup penduduk  F4 Inflasi H4 Harga barang dan perkhidmatan juga meningkat  F5 Peningkatan kadar pertukaran asing H5 Permintaan terhadap mata wang tempatan di pasaran luar negara bertambah	1 1  1 1  1 1  1 1  1 1
2 c(i)	United Kingdom H1 Imbangan akaun semasa defisit H2 Penerimaan kewangan dari luar negara kurang daripada pembayaran kewangan ke luar negara  Hong Kong H1 Imbangan akaun semasa lebihan H2 Penerimaan kewangan dari luar negara melebihi pembayaran kewangan ke luar negara	1 1  1 1



2 (d)	F1 Permintaan yang rendah untuk eksport	
	H1 Kenaikan nilai mata wang tempatan	1
	H2 Harga barang eksport relatifnya lebih mahal	1
	H3 Penurunan pendapatan di negara rakan dagang	1
	F2 Permintaan yang tinggi untuk eksport	1
	H1 Kecenderungan rakuat tempatan untuk membeli barang import	1
	H2 Peningkatan import barang perantaraan dan barang modal	1
	H3 Kenaikan nilai mata wang	1
	F3 Penurunan produktiviti	1
	H1 Kaedah pengeluaran yang kurang cekap	1
	H2 Produktiviti rendah/ daya saing merosot	1
		<b>Max 6</b>

**TINGKATAN 5**

**2.4 KADAR PERTUKARAN ASING**

<b>NO SOALAN</b>	<b>SKEMA JAWAPAN</b>	<b>MARKAH</b>
1 (a)(i)	<p>Pada 31 Mei 2023 :</p> <p>USD 1 = RM 4.6070</p> <p>= <math>\frac{\text{USD } 350\,000}{\text{USD } 1} \times \text{RM } 4.6070</math></p> <p>= RM 1 612 450</p>	<p>1</p> <p>1</p> <p>1</p> <p><b>Max 2</b></p>
1 (a)(ii)	<p>H1 Rugi</p> <p>H2 Nilai RM jatuh</p> <p>H3 Harga barang import menjadi lebih mahal</p> <p>H4 Jumlah bayaran akan menjadi lebih tinggi</p> <p>H5 RM 1 612 450 – RM 1 561 700</p> <p>H6 Pengimport Malaysia membuat bayaran lebih / banyak / tinggi</p> <p>H7 Sebanyak RM 50 750</p> <p>H8 Kemampuan pengimport Malaysia / kuasa beli terhadap barang dan perkhidmatan dari Amerika Syarikat telah menurun</p>	<p>1</p> <p>1</p> <p>1</p> <p>1</p> <p>1</p> <p>1</p> <p>1</p> <p>1</p> <p><b>Max 3</b></p>
1 (a)(iii)	<p>H1 Jumlah eksport meningkat, maka permintaan RM meningkat</p> <p>H2 Kadar faedah simpanan dalam negara meningkat, maka permintaan RM meningkat</p> <p>H3 Citarasa pengguna luar negara terhadap barangan Malaysia meningkat, maka permintaan RM meningkat</p> <p>H4 Nilai RM dijangka meningkat pada masa depan, maka permintaan RM pada masa kini meningkat</p> <p>H5 Rakyat tempatan yang bekerja di luar negara, mengirimi wang ke Malaysia, maka permintaan RM meningkat</p> <p>H6 Kemasukan pelaburan langsung asing ke Malaysia, maka permintaan RM meningkat</p>	<p>1</p> <p>1</p> <p>1</p> <p>1</p> <p>1</p> <p>1</p> <p><b>Max 5</b></p>
1 (b)(i)	<p>(i)</p> <p><b>Jun 2021</b></p> <p>H1 = USD3000 X RM4.20</p> <p>H2 = RM 12 600</p> <p><b>Ogos 2021</b></p> <p>H3 = USD3000 X RM4.29</p> <p>H4 = RM 12 870</p> <p>H5 Hutang telah bertambah</p> <p>H6 Terpaksa membayar lebih / tambahan kos</p>	<p>1</p> <p>1</p> <p>1</p> <p>1</p> <p>1</p> <p>1</p> <p><b>Max 3</b></p>

1 (b) (ii)	1 Arah aliran RM turun dan naik H2 Berlaku penurunan RM dari tahun 2021 ke 2022 H3 Menurun dari 7.7180 kepada 7.9603 H4 Berlaku peningkatan dari tahun 2022 ke 2023 H5 Meningkatkan dari 7.9603 kepada 7.5539	[1m] [1m] [1m] [1m] <b>Max 2</b>
1 (b) (iii)	H1 RM naik H2 Harga barang eksport lebih mahal H3 Pengimport membeli barang atau perkhidmatan dari Malaysia dengan bayaran yang tinggi H4 Jumlah eksport / kuantiti eksport berkurangan H5 Harga barang import lebih murah H6 Pengimport Malaysia membuat bayaran lebih rendah H7 Jumlah import / kuantiti import meningkat H8 Nilai import melebihi nilai eksport H9 Imbangan dagangan negatif / defisit	1 1 1 1 1 1 1 1 1 <b>Max 5</b>

**SOALAN ESEI  
TINGKATAN 4**

<b>NO SOALAN</b>	<b>SKEMA JAWAPAN</b>	<b>MARKAH</b>
1(a)	H1 Isi rumah H2 Seorang individu / sekumpulan individu H3 Tinggal dalam rumah H4 Membuat keputusan ekonomi bersama H5 Kekurangan pendapatan H6 Matlamat pilihan : memaksimumkan kepuasan	1 1 1 1 1 1
(b)	H1 Keuntungan meningkat H2 Peluang pekerjaan meningkat H3 Kadar pengangguran menurun H4 Penawaran barang/ perkhidmatan meningkat H5 Wujud pelaburan baharu H6 R&D baharu H7 Kecekapan firma meningkat H8 Imej syarikat naik H9 Menggalakkan penggunaan teknologi H10 Tingkatkan kemahiran buruh *terima mana-mana jawapan yang sesuai	1 1 1 1 1 1 1 1 1 1
(c)	Jawapan murid	

**TINGKATAN 5**

<b>NO SOALAN</b>	<b>SKEMA JAWAPAN</b>	<b>MARKAH</b>
(a)	F1 Perbelanjaan pembangunan H1 Perbelanjaan pelaburan kerajaan H2 Perbelanjaan sektor perkhidmatan ekonomi H3 Menyediakan infrastruktur/kemudahan awam H4 Belanja semasa yang tidak berulang H5 Meningkatkan pembentukan modal negara H6 Meningkatkan guna tenaga H7 Meningkatkan pendapatan negara	1 1 1 1 1 1 1
(b)	Jawapan murid	
(c)	Kos sosial pembinaan ECRL: H1 Menjejaskan ekosistem H2 Kemusnahan hutan simpan dan anak-anak sungai H3 Memusnahkan habitat hidupan liar H4 Pergerakan hidupan liar semakin terbatas H5 Berlaku konflik antara manusia dan hidupan liar H6 Risiko kemalangan jalan raya yang melibatkan haiwan liar H7 Pemburuan haram akan berleluasa H8 Kerajaan terpaksa menanggung kos yang tinggi untuk urusan memindahkan hidupan liar yang terancam H9 Risiko banjir kilat atau tanah runtuh H10 Pencemaran sungai H11 Menimbulkan keresahan penduduk kampung kerana tanah mereka akan diambil	1 1 1 1 1 1 1 1 1 1 1



*Hadirnya Sebuah Inspirasi...Apresiasi Buat Dermawan Dalam Dunia Literasi*

Kami ingin mengucapkan setinggi-tinggi penghargaan dan terima kasih atas kemurahan hati **Dr. Hayati binti Jaafar** dalam usaha memperkasakan **Modul Pentaksiran Intervensi Masyhur**. Sumbangan ini menjadi penyuntik semangat panel penulis agar terus berkarya. Sumbangan yang dihulurkan merupakan tanda keihklasan dan keprihatinan yang tidak ternilai, menjadikan impian penerbitan modul ini satu kenyataan.

Dengan sumbangan dan komitmen ini, kami dapat memanfaatkan ilmu, idea, dan halaman-halaman yang terkandung dalam modul ini untuk faedah warga pendidikan dan pelajar. Kerjasama ini tidak terhad dalam aspek penerbitan, namun memupuk usaha membentuk pemikiran, mencorak masa depan, dan menyebarkan ilmu dengan matlamat memberi impak yang berkekalan.

Terima kasih sekali lagi, semoga segala amalan baik yang diberikan dibalas dengan ganjaran kebaikan di sisi Allah S.W.T.

Sekalung Penghargaan Dari Kami,  
Warga Pejabat Pendidikan Daerah Jasin.