

# Ticket to Victory Ekonomi



**TERBITAN:**

SEKTOR PEMBELAJARAN  
JABATAN PENDIDIKAN NEGERI PERAK

2022



KEMENTERIAN PENDIDIKAN  
JABATAN PENDIDIKAN NEGERI PERAK

Jabatan Pendidikan Negeri Perak dengan kerjasama panel penggubal, guru cemerlang dan jurulatih utama mata pelajaran telah menghasilkan modul Ticket to Victory yang disediakan berdasarkan Kurikulum Standard Sekolah Menengah (KSSM) Tingkatan 4 dan 5. Penghasilan modul ini adalah hasil sumbangan tenaga guru - guru berpengalaman negeri Perak. Modul ini mengandungi contoh soalan mengikut topik dan skema jawapan bagi 21 mata pelajaran teras dan elektif terpilih berdasarkan format baharu peperiksaan Sijil Pelajaran Malaysia mulai tahun 2022.

Modul Ticket to Victory disediakan dalam format "pdf" dan boleh digunakan semasa pengajaran dan pembelajaran (PdP) atau digunakan sebagai bahan latihan pengukuhan, pengayaan dan ulangkaji di rumah. Bahan ini juga boleh dijadikan panduan kepada guru-guru untuk membina soalan mengikut format SPM. Justeru itu, diharap modul Ticket to Victory dapat dimanfaatkan sebaik mungkin demi kecemerlangan SPM di negeri Perak bertepatan dengan slogan Jabatan Pendidikan Negeri Perak iaitu "We Deliver".

Sektor Pembelajaran,  
Jabatan Pendidikan Negeri Perak  
Jalan Tawas Baru Utara,  
Tasek Damai,  
30010, Ipoh,  
Perak Darul Ridzuan  
Tel: 05-292 2745 / 05- 292 3603  
Faks : 05 – 292 3851  
2022

## PRAKATA PENGARAH PENDIDIKAN



Assalamualaikum warahmatullahi wabarakatuh dan salam sejahtera.

Setinggi-tinggi syukur ke hadrat Allah SWT kerana dengan izin-Nya, Modul Ticket To Victory ini berjaya dihasilkan untuk edisi kedua.

Modul ini dihasilkan oleh Sektor Pembelajaran, Jabatan Pendidikan Negeri Perak dengan kolaboratif panel penggubal, guru cemerlang dan jurulatih utama mata pelajaran yang berpengalaman. Modul ini mengandungi 21 mata pelajaran teras dan elektif terpilih merangkumi sukatan tingkatan 4 dan 5.

Pembinaan modul ini adalah seiring dengan perubahan format peperiksaan SPM bermula tahun 2021 berasaskan Kurikulum Standard Sekolah Menengah (KSSM). Modul ini juga diharapkan dapat membantu guru-guru dan calon-calon SPM menjalankan latihan berfokus agar mereka lebih bersedia untuk menghadapi peperiksaan SPM nanti.

Bagi pihak jabatan, saya ingin merakamkan setinggi-tinggi penghargaan kepada Sektor Pembelajaran JPN dan PPD serta guru-guru yang bergabung tenaga dan idea menghasilkan modul ini. Setinggi-tinggi penghargaan juga diucapkan kepada Yayasan Perak atas sumbangan dan sokongan yang berterusan dalam menjayakan pembinaan modul ini.

Akhir kata, semoga Allah SWT sentiasa memberkati usaha yang kita lakukan ini dan pendidikan di negeri Perak akan terus cemerlang.

Sekian. Terima kasih.

AZNAN BIN ALIAS, AMP

Pengarah Pendidikan Negeri Perak



## PRAKATA TIMBALAN PENGARAH PENDIDIKAN

Assalamualaikum warahmatullahi wabarakatuh kepada semua warga pendidik dan semua calon SPM negeri Perak.

Alhamdulillah, saya memanjatkan setinggi-tinggi kesyukuran ke hadrat Allah SWT dengan berkat izin dan limpah kurnia-Nya, Modul Ticket To Victory ini dapat direalisasikan untuk edisi kedua. Modul ini melibatkan 21 mata pelajaran teras dan elektif terpilih merangkumi sukatan tingkatan 4 dan 5.

Saya ingin mengucapkan terima kasih kepada semua bidang di Sektor Pembelajaran, JPN Perak dan semua panel penggubal modul yang terdiri daripada guru cemerlang, jurulatih utama mata pelajaran dan guru berpengalaman yang telah bertungkus lumus mengorbankan masa, tenaga dan buah fikiran sehingga berjaya menghasilkan modul ini mengikut masa yang ditetapkan.

Penghasilan Modul Ticket To Victory ini adalah salah satu inisiatif Jabatan Pendidikan Perak untuk menyediakan sumber pembelajaran dan latihan kepada calon-calon SPM. Pemilihan item soalan adalah merangkumi pelbagai aras kesukaran bagi setiap mata pelajaran. Soalan - soalan telah disusun berdasarkan format terkini peperiksaan SPM seiring dengan Kurikulum Standard Sekolah Menengah.

Modul pembelajaran ini akan disebarluaskan kepada guru-guru melalui blog Anjung Ilmu Guru Perak. Saya amat yakin penggunaan modul ini dan juga komitmen semua yang terlibat akan memberikan impak yang besar kepada kecemerlangan murid di negeri Perak dalam peperiksaan Sijil Pelajaran Malaysia nanti.

Sekian. Terima kasih.

  
PUAN HAJAH RAHIMAH BINTI MOHAMED, AMP

Timbalan Pengarah Pendidikan, Sektor Pembelajaran  
Jabatan Pendidikan Negeri Perak

# Penghargaan

Bidang TVET, Sektor Pembelajaran Jabatan Pendidikan Negeri Perak  
merakamkan jutaan penghargaan dan terima kasih atas sumbangan

## PENASIHAT

YBRS. EN. AZNAN BIN ALIAS, A.M.P.  
Pengarah Pendidikan Negeri Perak

## KETUA PROJEK

PN. HJH. RAHIMAH BINTI MOHAMED, A.M.P.  
Timbalan Pengarah Pendidikan Negeri Perak

## PENYELARAS

PN. A'ISAH BINTI MOHAMAD  
Ketua Penolong Pengarah Kanan  
Bidang TVET

## PENOLONG PENYELARAS

EN. ABD RAZAK BIN MOHD YUSOF  
Ketua Penolong Pengarah  
Bidang TVET

## AHLI JAWATANKUASA

EN. MOHD AZRIL BIN MOHD AZLAN  
CIK NURIZATUL IRMA BINTI MOHD YAZID  
EN. YANG SHAHRIN BIN AB AZIZ  
Penolong Pengarah  
Bidang TVET

## PANEL PENGGUBAL MODUL

### KETUA PANEL



TN. HJ. RASHID BIN SAID  
SMK Seri Budiman, Gerik



PN. SITI NUR HIDAYAH BINTI SAHDAN  
SMK Convent, Taiping

### AHLI PANEL



PN. SARIPAH BINTI ISHAK  
SMK Kamunting,  
Kamunting



EN. MOHD SHUKRI BIN ABU SAHDAN  
SMK Selinsing, Semanggol



PN. ZAIMAH BINTI IBRAHIM  
SMKA Sultan Azlan Shah,  
Bota



EN. ANAFIAH BIN ZAMRI @  
SALLEHUDDIN  
SMK Bukit Merchu, Kuala Kangsar



PN. ZURIDA BINTI MOHAMED  
SMK Kg Dato Ahmad Said,  
Ipoh



PN. NORFARINA BINTI JAAFAR  
SMK Hua Lian, Taiping



EN. AKIL HUSAINI BIN ABDUL MANAN  
SMK Gunung Rapat, Ipoh



PN. NOR MELATI BINTI YAKOP  
SMK Tat Beng, Trong



PN. SITI SADRIMAH BINTI RAMLI  
SMK Kamunting,  
Kamunting



PN. DELIMA SHARMILEE BINTI FARID  
EL HARIRI  
SMK Raja Permaisuri Bainun,  
Ipoh

# ISI KANDUNGAN

## KANDUNGAN

SET 1 – KERTAS 1

SET 1 – KERTAS 2

SET 2 – KERTAS 1

SET 2 – KERTAS 2

SET 3 – KERTAS 1

SET 3 – KERTAS 2

SKEMA JAWAPAN

## MUKA SURAT

1 - 16

17 - 31

32 - 48

49 - 59

60 - 74

75 - 89

90 - 141



**SET 01**  
**KERTAS 1**

JADUAL SPESIFIKASI ITEM KERTAS 1

SET 1

NO SOALAN	SUB SOALAN	TOPIK	SUBTOPIK (STANDARD PEMBELAJARAN)	MENGETAHUI			MEMAHAMI			MENGAPLIKASI			MENGANALISIS			MENILAI			MENCIPTA			JUALAH			CATATAN	
				R	S	T	R	S	T	R	S	T	R	S	T	R	S	T	R	S	T	R	S	T		
1		T4: BAB 1	1.1.3 Mendefinisikan faktor pengeluaran iaitu tanah, buruh, modal dan usahawan	1																						
2		T4: BAB 1	1.1.5 Menganalisis sesuatu situasi untuk menerangkan kos lepas (pengiraan kos lepas)						1																	
3		T4: BAB 1	1.1.6 Menilai implikasi pilihan yang dibuat oleh kerajaan dari aspek kos lepas dengan menggunakan contoh						1																KBAT	
4		T4: BAB 1	1.1.7 Menganalisis keluk kemungkinan pengeluaran untuk menunjukkan kos lepas						1																KBAT	
5		T4: BAB 1	1.2.1 Menghuraikan masalah asas ekonomi iaitu apa, berapa, bagaimana dan untuk siapa barang dikeluarkan						1																	
6		T4: BAB 1	1.2.3 Membincangkan penyelesaian masalah asas ekonomi oleh sistem ekonomi campuran						1																	
7		T4: BAB 2	2.1.3 Menghuraikan penentu permintaan	1																						
8		T4: BAB 2	2.1.4 Menjelaskan dengan gambarajah perubahan haiga mengakibatkan perubahan dalam kuantiti diminta						1																KBAT	
9		T4: BAB 2	2.1.2 Menjelaskan permintaan pasaran	1																						
10		T4: BAB 2	2.1.14 Menjelaskan kesan pengurangan penawaran kepada keseimbangan pasaran (rajah)						1																KBAT	
11		T4: BAB 2	2.1.11 Menrangkai konsep keseimbangan pasaran.						1																KBAT	
12		T4: BAB 2	2.1.3 Menjelaskan kesan lebihan permintaan atau lebihan penawaran ke atas harga dan kuantiti berdasarkan jadual dan rajah						1																KBAT	
13		T4: BAB 2	2.2.2 Membuat pengiraan mudah keanjalan harga permintaan	1																						
14		T4: BAB 2	2.2 Menjelaskan keanjalan harga permintaan anjal dan keanjalan harga permintaan tak anjal	1																						
15		T4: BAB 3	3.1.1 Menjelaskan fungsi wang.																						KBAT	
16		T4: BAB 3	3.1.2 Menjelaskan fungsi bank pusat sebagai jurubank kepada kerajaan						1																	
17		T4: BAB 3	3.1.3 Menjelaskan fungsi bank perdagangan dalam menerima dan membuat bayaran						1																KBAT	
18		T4: BAB 3	3.1.3 Menjelaskan fungsi bank perdagangan dalam memberi pinjaman	1																						
19		T4: BAB 4	3.3.1 Menjelaskan konsep pendapatan boleh guna (pengiraan PBG)						1																KBAT	
20		T4: BAB 4	4.1.1 Menjelaskan konsep pengeluaran (tiput berubah)						1																	
21		T4: BAB 4	4.1.6 Menjelaskan konsep hasil dan untung						1																	
22		T4: BAB 4	4.1.7 Pengiraan jumlah hasil dan untung (kos implisit)						1																	
23		T5: BAB 5	5.1.3 Menjelaskan peranan kerajaan dalam mengawal selia pengeluaran dan eksternaliti negatif	1																						
24		T5: BAB 5	5.1.2 Menjelaskan peranan kerajaan untuk mencapai objektif makro ekonomi negara	1																						
25		T5: BAB 5	5.2.8 Menganalisis sebab dan akibat pertumbuhan ekonomi						1																KBAT	
26		T5: BAB 5	5.2.3 Menganalisis kesan inflasi (kesan positif)	1																						
27		T5: BAB 5	5.3.2 Mengklasifikasi dan menjelaskan jenis hasil kerajaan iaitu cukai langsung, cukai tidak langsung dan hasil bukan cukai						1																	
28		T5: BAB 5	5.2.5 Menganalisis jenis pengangguran geseran.																						KBAT	
29		T5: BAB 5	5.3.5 Menganalisis kesan belanjawan defisit dan belanjawan lebihan terhadap ekonomi negara						1																	
30		T5: BAB 6	6.2.3 Menghuraikan bentuk dan tujuan sekatan perdagangan antarabangsa						1																	
31		T5: BAB 6	6.2.4 Menganalisis kesan tarif, subsidi dan kuota ke atas perdagangan antarabangsa						1																KBAT	
32		T5: BAB 6	6.3.5 Menganalisis sebab lebihan dalam akaun semasa. (Sebab imbalan dagangan positif)						1																KBAT	
33		T5: BAB 6	6.3.3 Menjelaskan struktur akaun semasa dalam imbalan pembayaran Malaysia						1																KBAT	
34		T5: BAB 6	6.4.2 Mengira kadar pertukaran asing berdasarkan harga jualan dan harga belian mata wang asing						1																KBAT	
35	(i)	T5: BAB 6	6.4.3 Menjelaskan faktor yang mempengaruhi permintaan dan penawaran mata wang asing	1																						
36	(i)	T4: BAB 1	1.1.2 Menjelaskan konsep kekurangan dan pilihan berasaskan sumber ekonomi terhadap dan terhadap tidak terhadap (masalah kekurangan dan pilihan kerajaan)						1																	
37	(ii)	T4: BAB 1	1.2.2 Mengenal pasti ciri-ciri utama Sistem Ekonomi Perancangan Pusat (mekanisme harga)						1																	
38	(i)	T5: BAB 5	5.1.1 Menjelaskan peranan kerajaan sebagai pengeluar (barang awam dan sosial)						1																	
39	(ii)	T5: BAB 6	6.3.1 Mengenal pasti komposisi dagangan dan arah aliran perdagangan Malaysia						1																	
40	(i)	T5: BAB 6	6.4.5 Menerangkan kesan perubahan kadar pertukaran asing ke atas harga eksport dan import						1																KBAT	
			JUMLAH	8	2	3	10	11	6	0	0	0	0	0	0	0	0	0	0	0	0	0	0	20	12	8
			RUMUSAN:																							
			Soalan Tahap Rendah (R)																							
			Soalan Tahap Sederhana (S)																							
			Soalan Tahap Tinggi (T)																							
			Peratus dan Bilangan Soalan KBAT																							
			BILANGAN PERATUS																							
			20																							
			12																							
			8																							
			15																							
			37.5																							
			*soalan 36 - 40 pernyataan betul/salah																							



Arahan : Jawab semua soalan.

1. Pernyataan manakah yang menggambarkan faktor pengeluaran berikut?



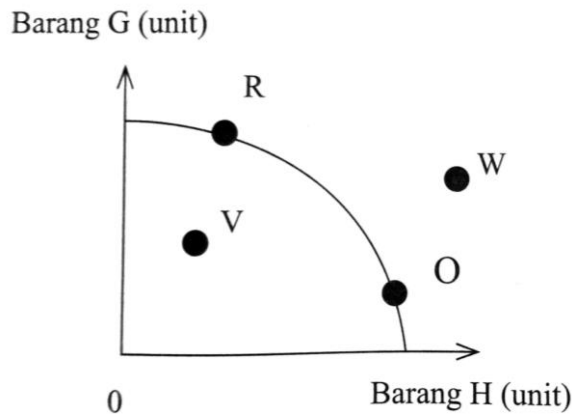
- A** Mempunyai mobiliti kegunaan untuk pelbagai tujuan
  - B** Menggunakan tenaga buruh untuk mengusahakannya
  - C** Memerlukan individu kreatif untuk mengubah hasilnya
  - D** Mudah dipindahkan dari satu tempat ke tempat yang lain
2. Jadual di bawah berkaitan dengan pengeluaran Syarikat Suria.

Teknik pengeluaran	Kuantiti kasut (pasang)	Kuantiti baju (helai)
<b>A</b>	80	20
<b>B</b>	65	45
<b>C</b>	40	55
<b>D</b>	25	70

Apakah kos lepas jika Syarikat Suria menukarkan teknik pengeluaran daripada **B** ke **C**?

- A** 10 helai baju
- B** 25 helai baju
- C** 25 pasang kasut
- D** 40 pasang kasut

3. Mengapakah Syarikat Midia hanya dapat melaksanakan projek pelaburan di bandar X dan terpaksa menangguhkan projek pelaburan di bandar Y?
- A Pendapatan adalah terhad
  - B Kehendak manusia yang terhad
  - C Modal dan buruh yang dimiliki terhad
  - D Peruntukan sumber hasil kerajaan terhad
4. Rajah di bawah menunjukkan masalah pilihan dan kos lepas dalam pengeluaran.



Titik yang manakah menunjukkan masalah pilihan dan kos lepas dalam pengeluaran?

- A Titik W dan O
- B Titik W dan R
- C Titik R dan O
- D Titik R dan V

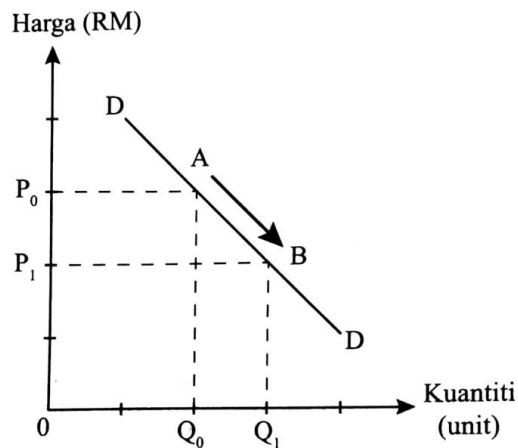
5. Maklumat di bawah berkaitan dengan masalah asas ekonomi yang dihadapi oleh Kedai Bakeri Sri Manis.

Kedai Bakeri Sri Manis telah mengeluarkan pelbagai jenis pastri, kek dan biskut. Pekerja yang bekerja di kedai tersebut terdiri daripada 3 orang wanita tempatan.

Apakah masalah asas ekonomi yang belum diselesaikan oleh firma tersebut?

- I Apa yang hendak dikeluarkan
  - II Bagaimana hendak dikeluarkan
  - III Berapa yang hendak dikeluarkan
  - IV Untuk siapa dikeluarkan
- A** I dan II
  - B** I dan IV
  - C** II dan III
  - D** III dan IV
6. Bagaimanakah sistem ekonomi campuran menjalankan fungsinya dalam menyelesaikan masalah asas ekonomi?
- I Menstabilkan ekonomi
  - II Mengawal harga barang dan perkhidmatan
  - III Mengagihkan faktor-faktor pengeluaran
  - IV Menentukan jenis barang yang diperlukan masyarakat
- A** I dan II
  - B** I dan IV
  - C** II dan III
  - D** III dan IV

7. Antara berikut, yang manakah mempengaruhi permintaan bagi ayam?
- A Perubahan cuaca
  - B Harga daging jatuh
  - C Harga makanan ayam naik
  - D Perubahan teknologi penternakan
8. Rajah menunjukkan pergerakan A ke B di sepanjang keluk permintaan (DD).



Apakah faktor yang menyebabkan pergerakan dari titik A ke B?

- A Kenaikan harga barang pengganti
- B Kejatuhan harga barang pengganti
- C Kenaikan harga barang itu
- D Kejatuhan harga barang itu

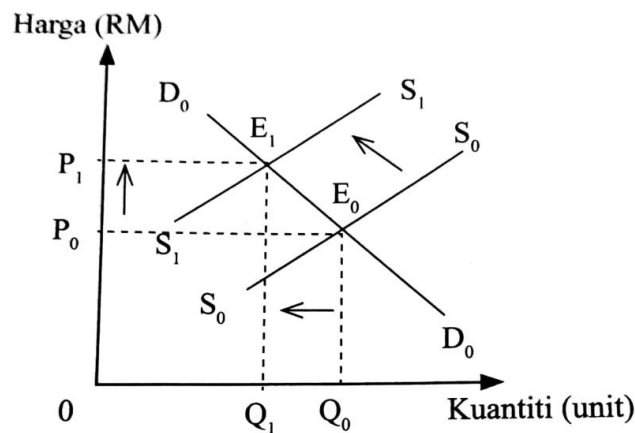
9. Jadual di bawah berkaitan dengan permintaan individu dalam pasaran.

Harga (RM)	Kuantiti diminta (unit)	
	Individu A	Individu B
8	50	80
10	40	X
12	30	40
16	20	20

Berapakah nilai X jika jumlah permintaan pasaran tingkat harga RM10 seunit ialah 100?

- A 40 unit
- B 60 unit
- C 100 unit
- D 130 unit

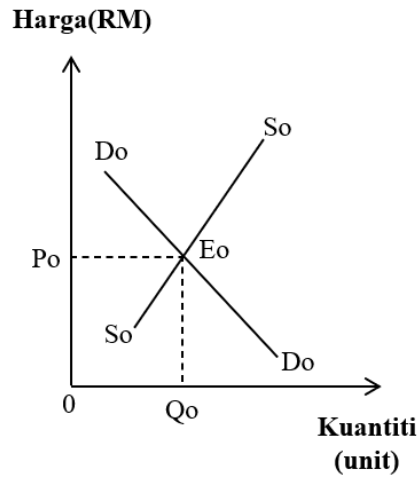
10. Rajah di bawah menunjukkan keluk permintaan dan keluk penawaran buah pisang.



Apakah faktor yang menyebabkan pergerakan titik keseimbangan dari  $E_0$  ke  $E_1$ ?

- A Penurunan citarasa pengguna
- B Keadaan cuaca yang buruk
- C Kenaikan harga barang pengganti
- D Penurunan harga faktor pengeluaran

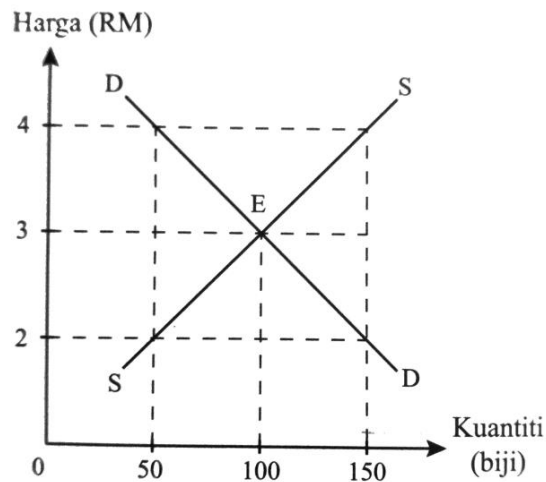
11. Rajah di bawah berkaitan dengan keluk keseimbangan pasaran.



Apakah kesan jika harga berada di bawah  $P_0$ ?

- A Kuantiti ditawarkan melebihi kuantiti diminta
- B Tingkat harga cenderung untuk meningkat
- C Tingkat harga tidak berubah
- D Kuantiti diminta kurang dari kuantiti ditawarkan

12. Rajah di bawah menunjukkan keluk keseimbangan pasaran buah jambu.



Apakah kesannya jika harga naik daripada RM2 kepada RM3?

- I Keseimbangan pasaran berlaku
- II Harga tidak cenderung untuk berubah
- III Berlaku lebih penawaran sebanyak 100 biji
- IV Berlaku lebih permintaan sebanyak 100 biji

- A I dan II
- B I dan III
- C II dan III
- D III dan IV

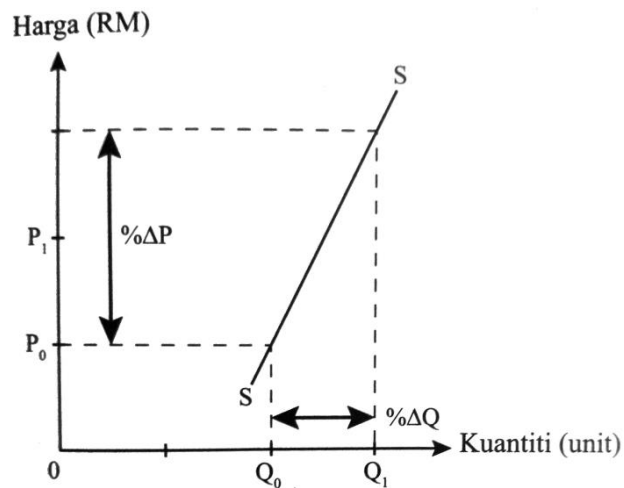
13. Jadual di bawah menunjukkan harga dan kuantiti diminta bagi suatu barang.

Harga (RM)	Kuantiti diminta (unit)
10	5
20	4

Hitung keanjalan harga permintaan jika harga berubah dari RM10 kepada RM20.

- A 0.20
- B 0.25
- C 0.40
- D 0.50

14. Rajah di bawah menunjukkan keluk permintaan suatu barang.



Pernyataan manakah yang betul?

- A Peratus perubahan harga kurang daripada peratus perubahan kuantiti
- B Keluk permintaan bagi barang keperluan
- C Keluk permintaan bagi barang kehendak
- D Keluk permintaan bagi barang anjal

15. Mengapakah wang boleh digunakan sebagai alat bayaran tertunda?
- A Wang mempunyai nilai yang stabil
  - B Wang merupakan alat pertukaran yang sah
  - C Wang boleh digunakan untuk pembahagian nilai
  - D Wang dapat mengatasi masalah keperluan dan kehendak serentak
16. Maklumat berikut berkaitan fungsi bank pusat sebagai jurubank kepada kerajaan.

- Bertanggungjawab mendapatkan pinjaman bagi pihak kerajaan
- Menerbitkan sijil pelaburan
- Menjual surat jaminan kerajaan untuk pinjaman antarabangsa

Apakah fungsi yang tepat berdasarkan maklumat di atas?

- A Mentadbir akaun negara
  - B Mengurus hutang negara
  - C Memberi nasihat pelaburan
  - D Mengurus pertukaran asing
17. Pasangan manakah yang **tidak** benar?

	Kad Debit	Kad Kredit
A	Penggunaan adalah setakat baki dalam akaun simpanan	Penggunaan adalah terhad kepada nilai kredit yang diberikan oleh bank
B	Boleh digunakan dalam pembelian barang dan perkhidmatan	Boleh digunakan dalam pembelian barang dan perkhidmatan
C	Urusan pembayaran adalah secara tunai	Urusan pembayaran adalah secara kredit
D	Dikenakan kadar faedah yang tinggi	Dikenakan faedah yang rendah



18. Antara berikut, padanan yang manakah tepat mengenai pinjaman bank perdagangan?

	Pinjaman	Huraian
<b>A</b>	Pinjaman bercagar	Dikenakan faedah yang tinggi tanpa cagaran atau penjamin
<b>B</b>	Pinjaman kenderaan	Kegagalan membayar balik menyebabkan cagaran akan dilelong
<b>C</b>	Pinjaman peribadi	Tidak memerlukan cagaran tetapi memerlukan penjamin
<b>D</b>	Mendiskaunkan bil pertukaran	Digunakan untuk mengatasi masalah aliran tunai

19. Maklumat yang berikut berkaitan dengan pendapatan Encik Afzan pada tahun 2021.

Pendapatan dan Potongan	RM
Gaji	18 000
KWSP	11%
Insurans Nyawa	400
Cukai pendapatan	150
Zakat	180

Hitung pendapatan boleh guna Encik Afzan.

- A** RM15 190
- B** RM15 290
- C** RM15 690
- D** RM17 270

20. Persamaan yang berikut merupakan satu rumus dalam ekonomi.

$$W = (\text{Gaji} + \text{Sewa} + \text{Dividen}) - (\text{Caruman KWSP} + \text{Zakat}) - \text{Tabungan}$$

Antara yang berikut, manakah yang menerangkan tentang W?

- I Menjelaskan cukai pendapatan
  - II Membayar cukai jalan
  - III Membayar sewa
  - IV Membayar zakat
- A** I dan II
  - B** I dan IV
  - C** II dan III
  - D** III dan IV

21. Maklumat berikut menunjukkan beberapa kos pengeluaran untuk membuat kek.

- Ketuhar
- Tepung kek
- Mentega
- Bangunan kedai
- Serbuk koko

Manakah merupakan input berubah?

- A** Ketuhar, tepung kek dan serbuk koko
- B** Tepung kek, mentega dan serbuk koko
- C** Ketuhar, mentega dan bangunan kedai
- D** Tepung kek, serbuk koko dan bangunan kedai

22. Antara berikut manakah merupakan kos implisit?
- I Gaji pemilik perniagaan
  - II Faedah atas modal yang dimiliki sendiri
  - III Bayaran ansuran pinjaman
  - IV Bil air dan elektrik yang digunakan dalam proses pengeluaran
- A** I dan II
  - B** I dan IV
  - C** II dan III
  - D** III dan IV
23. Bagaimanakah cara kerajaan mengawal kesan eksternaliti negatif?
- I Undang-undang dan peraturan
  - II Subsidi dan cukai
  - III Dasar harga maksimum
  - IV Dasar harga minimum
- A** I dan II
  - B** II dan III
  - C** I dan IV
  - D** III dan IV
24. Apakah objektif makroekonomi negara yang ingin dicapai oleh kerajaan?
- A** KDNK meningkat
  - B** Pertumbuhan ekonomi
  - C** Imbangan pembayaran defisit
  - D** Tingkat harga umum meningkat

25. Antara faktor berikut, yang manakah menggalakkan pertumbuhan ekonomi negara?
- I Sumber alam semula jadi yang banyak
  - II Kadar kelahiran yang menurun
  - III Agihan pendapatan yang seimbang
  - IV Insentif pelaburan dalam ekonomi
- A** I dan II
  - B** I dan IV
  - C** II dan III
  - D** III dan IV
26. Pernyataan manakah yang merujuk kepada kesan positif inflasi sederhana kepada masyarakat dan negara?
- A** Tingkat harga naik
  - B** Guna tenaga meningkat
  - C** Tabungan akan bertambah
  - D** Imbangan pembayaran positif
27. Situasi manakah berkaitan dengan cukai tak langsung?
- I Encik Abu membayar cukai kepada Majlis Perbandaran Taiping atas perkhidmatan pembersihan di kawasan kediamannya.
  - II Puan Manis membayar RM450 kepada Lembaga Hasil Dalam Negeri atas pendapatannya
  - III Syarikat ShuSin membayar cukai kepada Jabatan Kastam atas pembelian barang-barang makanan dari Korea
  - IV Puan Tati dikenakan bayaran tambahan 16% daripada bayaran penginapan di Hotel Legend
- A** I dan II
  - B** I dan III
  - C** II dan IV
  - D** III dan IV

28. Pengangguran geseran berlaku disebabkan
- A** Firma mengecilkan skala pengeluaran
  - B** Kekurangan mobiliti dari segi kelayakan
  - C** Berlaku perubahan struktur ekonomi negara
  - D** Sedang mencari pekerjaan yang dikehendaknya
29. Apakah mekanisme yang digunakan oleh kerajaan untuk memastikan agihan pendapatan yang adil dalam masyarakat?
- A** Menaikkan kadar faedah
  - B** Menaikkan kadar cukai agresif
  - C** Menaikkan jumlah wang dalam ekonomi
  - D** Menaikkan kadar cukai jualan
30. Mengapakah kerajaan mengenakan sekatan bukan ekonomi terhadap barang import?
- A** Untuk meningkatkan hasil negara
  - B** Untuk meningkatkan permintaan terhadap barang tempatan
  - C** Untuk mengurangkan kos pengeluaran pengeluar tempatan
  - D** Untuk menjamin keselamatan dan kesihatan rakyat
31. Bagi mengawal kemasukan barang import secara berlebihan, kerajaan mengenakan
- A** Tarif
  - B** Subsidi
  - C** Sekatan bukan ekonomi
  - D** Kawalan pertukaran asing
32. Situasi manakah yang menyebabkan imbalan dagangan cenderung menjadi positif
- A** Pelaburan langsung asing ke luar negara meningkat
  - B** Pelancong asing ke Malaysia meningkat
  - C** Jumlah eksport kelapa sawit ke Turki meningkat
  - D** Bilangan pelajar Malaysia di luar negara meningkat

33. Antara berikut manakah butiran Akaun Semasa?
- A Pendapatan primer
  - B Pelaburan langsung
  - C Pindahan modal
  - D Pelaburan portfolio
34. Maklumat dibawah menunjukkan kadar pertukaran antara Ringgit Malaysia (RM) dengan Dolar Amerika Syarikat (USD).

<b>USD1= RM4.18</b>
---------------------

- Berapa yang perlu dibayar jika Puan Asmah membeli bag tangan yang berharga USD80 melalui sebuah portal atas talian?
- A RM358.40
  - B RM350.00
  - C RM334.40
  - D RM300.00
35. Situasi manakah yang menyebabkan berlaku permintaan ke atas Ringgit Malaysia?
- I Kemasukan pelaburan Australia ke Malaysia
  - II Jepun membeli petroleum mentah dari Malaysia
  - III Syarikat Malaysia melabur di China
  - IV Malaysia memberi bantuan kemanusiaan kepada pelarian Palestin
- A I dan II
  - B I dan IV
  - C II dan III
  - D III dan IV

Soalan 36 hingga Soalan 40 berdasarkan pilihan jawapan seperti jadual di bawah.

Pilihan	Pernyataan I	Pernyataan II
A	Betul	Salah
B	Salah	Betul
C	Betul	Betul
D	Salah	Salah

36. I Kerajaan menghadapi masalah kekurangan faktor pengeluaran untuk menghasilkan barang dan perkhidmatan.  
 II Kerajaan membuat pilihan untuk memaksimumkan kebajikan masyarakat.
37. I Mekanisme harga ialah interaksi kuasa permintaan dan kuasa penawaran dalam pasaran.  
 II Mekanisme harga merupakan cara penentuan harga dalam Sistem Ekonomi Perancangan Pusat.
38. I Barang awam ialah barang yang dapat digunakan oleh seseorang individu tanpa mengurangkan faedah penggunaan individu lain.  
 II Barang sosial ialah barang atau perkhidmatan yang membawa manfaat terbesar kepada semua masyarakat.
39. I Kemasukan pelancong asing menurun, kesan daripada wabak Covid-19 yang merupakan eksport tak nampak Malaysia.  
 II Syarikat Ai Sdn. Bhd mengimport peralatan komputer dari Amerika Syarikat yang merupakan import nampak Malaysia.
40. I Apabila nilai Ringgit Malaysia meningkat, maka harga eksport Malaysia meningkat.  
 II Apabila nilai Ringgit Malaysia meningkat , berlaku imbalan pembayaran dagangan lebihan.

**KERTAS SOALAN TAMAT**



**SET 01**  
**KERTAS 2**



JADUAL SPESIFIKASI ITEM KERTAS 2

SET 1

NO	SUB SOALAN	TOPIK	SUBTOPIK	MENGETAHUI & MEMAHAMI (OP1)			KEMAHIRAN MENGAPLIKASI (OP2)			KEMAHIRAN MENGANALISIS (OP3)			KEMAHIRAN MENILAI (OP4)			KEMAHIRAN KUANTITATIF (OP5)			MARKAH
				R	S	T	R	S	T	R	S	T	R	S	T	R	S	T	
1	(a)	BAB 1	1.1.3 Sumber ekonomi	1														4	
1	(b)	BAB 1	1.2.3 Membanding beza cara penyelesaian masalah asas ekonomi Sistem Ekonomi Pasaran Bebas dan Perancangan Pusat.	1														4	
1	(c)	BAB 2	2.1.4 dan 2.1.5 Menjelaskan perbezaan antara perubahan dalam kuantiti diminta dengan perubahan permintaan				1											6	
1	(d)	BAB 2	2.2.3 Menerangkan cara pengeluaran boleh meningkatkan keuntungan bagi barang dijual dan tidak dijual				1											6	
2	(a)	BAB 3	3.1.3 Fungsi bank perdagangan - menerima dan membuat bayaran.				1											20	
2	(b)(i)	BAB 3	3.3.6 Pengiraan ansuran bulanan pembelian secara kredit													1		4	
2	(b)(ii)	BAB 3	3.3.6 Mengenal pasti kelebihan kaedah pembayaran secara kredit.				1											3	
2	(c)(i)	BAB 4	3.3.13 bentuk pelaburan	1														3	
2	(c)(ii)	BAB 4	3.3.13 Menerangkan konsep risiko dan pulangan dalam pelaburan.													1		3	
2	(d)	BAB 4	4.2.5 Menilai faedah sosial dan kos sosial berdasarkan contoh yang sesuai.													1		6	
3	(a)	BAB 5	5.1.3 Menjelaskan peranan kerajaan sebagai pengeluar dan majikan (Monopoli semulajadi)				1											20	
3	(b)	BAB 5	5.3.2 Menjelaskan jenis hasil kerajaan iaitu cukai langsung (cukai tanah)													1		4	
3	(c)	BAB 6	6.1.4 Menilai kesan pelaburan langsung asing ke atas ekonomi negara.													1		6	
3	(d)	BAB 6	6.3.4 Menjelaskan konsep defisit dan lebihan dalam akaun semasa													1		6	
4	(a)	BAB 3	<b>PETIKAN AKHBAR - MUSIM TENGGUOH DI UTARA SEMENANJUNG MALAYSIA</b> 3.2.1 Mengklasifikasikan jenis-jenis pekerjaan mengikut sektor ekonomi													1		4	
4	(b)	BAB 2	2.1.14 Menganalisis kesan perubahan permintaan atau perubahan penawaran ke atas keseimbangan pasaran.													1		7	
4	(c)	BAB 2	6.1.4 Menilai kesan pelaburan langsung asing ke atas ekonomi negara.													1		9	
5	(a)	BAB 3	<b>ARTIKEL - Praktik gaya hidup baharu dalam perbelanjaan harian</b> 3.3.5 Mengenal pasti dan menjelaskan faktor yang mempengaruhi corak perbelanjaan - Kos sara hidup													1		20	
5	(b)	BAB 2	Kemilikan kos sara hidup memberi kesan kepada golongan isi rumah yang berpendapatan rendah dan sederhana. Jelaskan.															4	
5	(c)	BAB 2	6.1.4 Menilai kesan pelaburan langsung asing ke atas ekonomi negara.													1		7	
6	(a)	BAB 6	<b>ARTIKEL - Gaji pekerja di Malaysia semakin kurang pasca COVID-19</b> 6.3.3 Menjelaskan jenis-jenis pendapatan individu iaitu upah, sewa, faedah, dividen, untung dan bayaran pindahahan															20	
6	(b)	BAB 6	Jelaskan kesan pengurangan gaji ke atas pasaran barang.															4	
6	(c)	BAB 6	6.1.4 Menilai kesan pelaburan langsung asing ke atas ekonomi negara.													1		7	
7	(a)	BAB 6	<b>PETIKAN BERKAITAN DENGAN SUBSIDI KERAJAAN</b> RCEP dijangka dapat menarik syarikat asing yang berminat memasuki pasaran ASEAN.															20	
7	(b)	BAB 6	6.1.4 Menilai kesan pelaburan langsung asing ke atas ekonomi negara.													1		4	
7	(c)	BAB 6	Tindakan kerajaan tersebut memberikan kesan kepada ekonomi negara. Berikan alasan.															7	

**Bahagian A**

[60 markah]

Jawab **semua** soalan di bahagian ini

1. (a) Gambar berikut menunjukkan salah satu sumber ekonomi.



Jelaskan sumber ekonomi sebagai satu proses pengeluaran.

.....

.....

.....

.....

.....

.....

.....

.....

[4 markah]

- (b) Maklumat berikut berkaitan dengan ciri sistem ekonomi di Negara P dan Negara R.

Negara P	Negara R
Pengguna dan pengeluar berhak dalam membuat keputusan ekonomi.	Segala keputusan ekonomi dibuat oleh kerajaan melalui badan perancangan pusat.

Bezakan cara penyelesaian masalah asas ekonomi Negara P dan Negara Q

.....

.....

.....

.....

.....

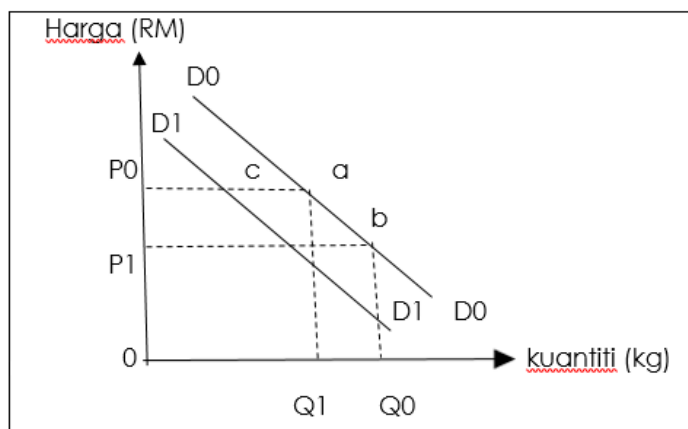
.....

.....

.....

[4 markah]

- (c) Rajah dibawah menunjukkan permintaan terhadap barang M. Keluk permintaan asal ialah D<sub>0</sub>D<sub>0</sub> dan titik asal ialah a.



Bezakan antara perubahan titik a ke titik b dengan perubahan titik a ke titik c.

.....

.....

.....

.....

.....

.....

.....

.....

.....

.....

.....

.....

.....

.....

.....

.....

.....

.....

.....

.....

.....

.....

.....

.....

.....

[6 markah]

(d) Jadual dibawah menunjukkan nilai pekali keanjalan harga permintaan bagi dua jenis barang.

<b>Barang K</b>	<b>Barang L</b>
0.75	1.05

Bagaimanakah pengeluar dapat meningkatkan jumlahnya

.....

.....

.....

.....

.....

.....

.....

.....

.....

.....

.....

.....

.....

.....

.....

.....

.....

.....

.....

[6 markah]

2 (a)

En. Raikhal seorang pengurus Syarikat Kayangan Holding, hal ini menyebabkan beliau kesuntukan masa dalam menguruskan dan menjelaskan bil air, bil elektrik dan sewa kilang malahan juga bil-bil rumah dalam masa yang ditetapkan.

Huraikan kemudahan pembayaran yang disediakan oleh bank perdagangan untuk menyelesaikan masalah pembayran bil En. Raikhal.

.....

.....

.....

.....

.....

.....

.....

.....

.....

[4 markah]

(b) Maklumat berikut berkaitan dengan kaedah pembayaran

 <p>PERODUA MYVI 1.5 ADVANCE AUTO <b>RM56,034.51</b></p>	<p>Pendahuluan :RM10 000 Kadar faedah : 2.8 % setahun</p>
---	---

(i) Hitungkan bayaran ansurans bulanan sekiranya pengguna memilih ansurans selama 5 tahun.

.....

.....

.....

.....

.....

[3 markah]

(ii) Jelaskan kelebihan kaedah pembayaran tersebut.

.....

.....

.....

.....

.....

[3 markah]

(c) Maklumat berikut berkaitan dengan aktiviti pelaburan.

Puan Melur telah menggunakan RM 360 000 ribu untuk membeli sebuah rumah Semi D di Ipoh, Perak

(i) Apakah jenis pelaburan yang dilakukan oleh Puan Melur.

.....  
.....

[1 markah]

(ii) Huraikan aspek kecairan, risiko dan pulangan untuk pelaburan di atas.

.....  
.....  
.....  
.....  
.....  
.....  
.....

[3 markah]



(d) Berdasarkan gambar dibawah berkaitan dengan eksternaliti



Terangkan kos sosial dan faedah sosial kesan daripada projek pembinaan di atas

.....

.....

.....

.....

.....

.....

.....

.....

.....

.....

.....

.....

.....

.....

.....

[6 markah]

- 3 (a) Maklumat di bawah berkaitan dengan syarikat berkaitan kerajaan (Government Link Company, GLC) milik kerajaan.



Jelaskan ciri syarikat GLC tersebut.

.....

.....

.....

.....

.....




.....

.....

.....

[4 markah]

(b)

 PEJABAT TANAH SEBERANG PERAI UTARA PULAU PINANG CUKAI TANAH, PARIT DAN TALIAIR TAHUN 2008		 990012794066	 070206H5000011786
NAMA : PEJABAT SETIAUSAHA KERAJAAN N. PULAU PG. ALAMAT : TINGKAT 25, KOMTAR PULAU PINANG 10000		K.P : NO. AKAUN : <b>990012294066</b> <i>* Enter the account number without space or any character.</i>	
(SILA BAWA BIL INI SEMASA MEMBUAT PEMBAYARAN DAN PASTIKAN LOT ADALAH BETUL. SILA ABAIKAN BIL INI SEKIRANYA PEMBAYARAN TELAH DIBUAT) BAYARAN DIAMBIL KIRA SEHINGGA 28 NOV			
DAERAH	MUKIM / PECAHAN BANDAR	NOMBOR LOT	JENIS & NOMBOR SURAT HAKMILIK
SPU 02	Mukim 06	Lot 0005585	HSD 0001786
PERKARA	TANAH	PARIT	TALIAIR
LUAS	Meter Persegi 530		
CUKAI PENGURANGAN AM	117.00		
CUKAI DIKENAKAN KREDIT TUNGGAKAN	1.00		
DENDA LEWAT DAHULU KUTIPAN KURANG			
JUMLAH	1.00		0.00
JUMLAH BAYARAN YANG DIKENAKAN			
DENDA LEWAT SEMASA	0.00	Dikenakan selepas 31hb. Mei	1.00
DENDA NOTIS	50.00	Dikenakan jika notis 6A dikeluarkan	1.00
Tolak PENGURANGAN KHAS		Yang baru dituluskan	51.00

Jelaskan ciri-ciri cukai di atas.

.....

.....

.....

.....

.....

.....

.....

.....

.....

.....

.....

.....

.....

.....

.....

.....

.....

.....

.....

.....

[4 markah]

- (c) Keratan akhbar di bawah berkaitan mengenai pelaburan langsung asing

**MALAYSIA TERIMA PELABURAN ASING RM48.1 BILION TAHUN LALU**

*Berita Harian, Jun 17,2022*

PUTRAJAYA: Pelaburan langsung asing (FDI) di Malaysia merekodkan aliran masuk bersih RM48.1 bilion pada 2021 berbanding RM13.3 bilion pada tahun sebelumnya, manakala pelaburan langsung Malaysia di luar negeri (DIA) mencatatkan RM19.7 bilion berbanding RM10.2 bilion pada 2020. Sehingga akhir 2021, FDI terkumpul di Malaysia mencatatkan nilai yang lebih tinggi sebanyak RM788.8 bilion.

Ketua Perangkawan Malaysia, Datuk Seri Dr Mohd Uzir Mahidin, berkata aktiviti ekonomi mulai pulih secara perlahan-lahan selepas terkesan daripada pandemik COVID-19.

Jelaskan kesan situasi di atas terhadap ekonomi Malaysia.

.....

.....

.....

.....

.....

.....

.....

.....

.....

.....

.....

.....

.....

.....

.....

.....

.....

.....

.....

.....

.....

[6 markah]

- (d) Maklumat di bawah berkaitan dengan akaun semasa imbalan pembayaran Malaysia pada tahun 2020.

Butiran (bersih)	RM bilion
Barangan	41.5
Perkhidmatan	-13.3
Pendapatan primer	-9.2
Pendapatan sekunder	-7.1

Hitung dan tafsirkan kedudukan akaun semasa imbalan pembayaran Malaysia pada tahun 2020.

.....

.....

.....

.....

.....

.....

.....

.....

.....

.....

.....

.....

.....

.....

.....

.....

.....

.....

.....

.....

.....

[6 markah]

**Bahagian B**  
[40 markah]

Jawab mana-mana **dua** soalan daripada bahagian ini

4. Maklumat di bawah berkaitan fenomena di Malaysia.

Musim tengkujuh yang melanda beberapa negeri utara memberi impak kepada nelayan yang tidak dapat turun ke laut seperti biasa. Tempiasnya bekalan ikan kini semakin berkurangan sehingga orang ramai terpaksa berebut-rebut untuk membelinya

**Sumber :** *Ubahsuai Sinar Harian 18 Disember 2020*

- (a) Jelaskan sektor ekonomi yang terlibat dalam petikan di atas. [4 markah]
- (b) Jelaskan kesan situasi tersebut terhadap pasaran ikan. [7 markah]
- (c) Cadangkan tindakan yang perlu anda lakukan bagi menangani situasi di atas? [9 markah]

5. Maklumat berikut berkaitan dengan kos sara hidup masyarakat.

**Praktik gaya hidup baharu dalam perbelanjaan harian**

Wabak Covid-19 memberi implikasi kepada perubahan cara hidup dan corak perbelanjaan isi rumah bagi mengurangkan tekanan terhadap kos sara hidup masyarakat.

**Sumber :** *Ubah suai daripada Berita Harian, 22 Disember 2020.*

- (a) Jelaskan punca-punca peningkatan kos sara hidup masyarakat. [4 markah]
- (b) Kenaikan kos sara hidup memberi kesan kepada golongan isi rumah yang berpendapatan rendah dan sederhana. Jelaskan. [7 markah]
- (c) Cadangkan tindakan yang perlu anda laksanakan bagi menangani kesan pada 4(b). [9 markah]

6. Maklumat di bawah berkaitan dengan gaji pekerja di Malaysia.

**Gaji pekerja di Malaysia semakin kurang pasca COVID-19**

KUALA LUMPUR : Kebanyakan pekerja di Malaysia berdepan pemotongan dan penurunan bonus, selain gaji dikurangkan susulan krisis COVID-19, demikian menurut platform pencarian pekerja JobStreet.

Berdasarkan kaji selidik JobStreet, satu daripada tiga pekerja yang diselidik melaporkan pengurangan gaji lebih daripada 30 peratus.

Firma itu berkata, disebabkan perubahan itu, kebanyakan pekerja kini bimbang dengan perkara yang dikaitkan dengan kewangan dan jaminan pekerjaan.

*[Sumber : BH Online Jun 24, 2020]*

- (a) Huraikan konsep pendapatan di atas. [4 markah]
- (b) Jelaskan kesan pengurangan gaji ke atas pasaran barang. [7 markah]
- (c) Bagaimanakah golongan yang terjejas tersebut menyesuaikan diri? [9 markah]

7. Maklumat berikut berkaitan dengan perdagangan antarabangsa.

Tindakan kerajaan dalam memberikan subsidi terhadap pengusaha padi dapat membantu industri beras tempatan.

- (a) Bagaimanakah tindakan kerajaan dapat membantu industri tersebut. [4 markah]
- (b) Jelaskan kesan tindakan tersebut terhadap pasaran beras tempatan [7 markah]
- (c) Tindakan kerajaan tersebut memberikan kesan kepada ekonomi negara. Berikan alasan. [9 markah]



**SET 02**  
**KERTAS 1**





Arahan : Jawab semua soalan.

1. Manakah yang **betul** tentang ilmu ekonomi?
  - A Menggunakan sumber ekonomi terhad tanpa halangan
  - B Mendapatkan kesejahteraan dunia dan akhirat
  - C Mengagihkan sumber ekonomi yang terhad untuk memenuhi kehendak yang tidak terhad
  - D Memenuhi kehendak yang terhad dengan menggunakan sumber ekonomi yang tidak terhad
  
2. Gambar berikut menunjukkan sejenis faktor pengeluaran.



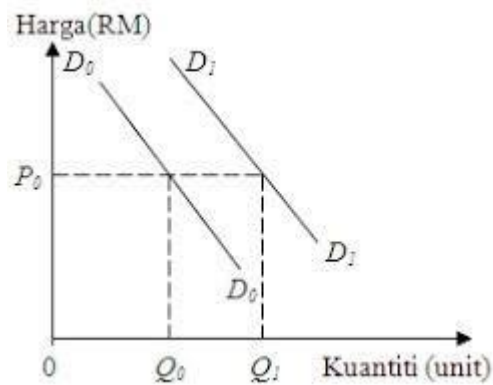
Pernyataan manakah yang menggambarkan faktor pengeluaran tersebut?

- A Input produktif yang dicipta oleh manusia yang membantu dalam proses pengeluaran
- B Berperanan menyelaras dan menggabungkan faktor pengeluaran
- C Sumber semulajadi yang mempunyai penawaran terhad
- D Membenarkan orang lain menguruskan untungnya

3. Apakah kelebihan sistem ekonomi campuran berbanding dengan sistem ekonomi pasaran bebas?
- A Firma dapat membantu kerajaan menyediakan barang awam
  - B Keadilan agihan pendapatan
  - C Tiada persaingan antara firma
  - D Keuntungan firma lebih tinggi
4. Apakah kelebihan sistem ekonomi campuran berbanding dengan sistem ekonomi pasaran bebas?
- A Firma dapat membantu kerajaan menyediakan barang awam
  - B Keadilan agihan pendapatan
  - C Tiada persaingan antara firma
  - D Keuntungan firma lebih tinggi
5. Maklumat yang berikut berkaitan dengan Puan Nabiela.
- Puan Nabiela telah berjaya mendapat pinjaman sebanyak RM 50 000. Dia membuat keputusan untuk menggunakan tanah seluas satu ekar bagi mengusahakan kolam ternakan ikan air tawar dengan dibantu oleh dua orang pekerja tempatan.*
- Antara berikut, masalah asas ekonomi manakah yang telah diselesaikan oleh Puan Nabiela?
- I Untuk siapa dikeluarkan
  - II Apa yang hendak dikeluarkan
  - III Bagaimana hendak dikeluarkan
  - IV Berapa yang hendak dikeluarkan

- A I dan II
- B I dan IV
- C II dan III
- D III dan IV

6. Rajah di bawah menunjukkan keluk permintaan bagi sesuatu barang.



Peralihan keluk dari  $D_0D_0$  ke  $D_1D_1$  disebabkan oleh?

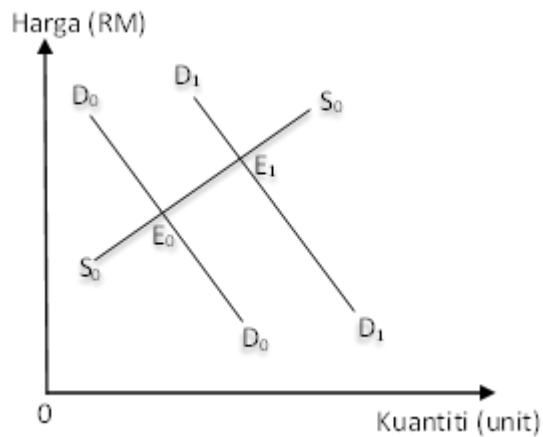
- I cukai pendapatan meningkat
  - II pendapatan pengguna meningkat
  - III harga barang pengganti meningkat
  - IV jangkaan harga akan turun pada masa depan
- A I dan II
  - B I dan IV
  - C II dan III
  - D III dan IV

7. Jadual di bawah berkaitan dengan permintaan individu dalam pasaran.

Harga (RM)	Kuantiti diminta (unit)	
	Individu A	Individu B
8	50	80
10	40	60
12	30	40
16	20	20

Berapakah jumlah permintaan pasaran pada tingkat harga RM 12 seunit barang?

- A 40 unit
  - B 70 unit
  - C 100 unit
  - D 130 unit
8. Apakah implikasi yang akan timbul apabila berlaku lebihan penawaran dalam pasaran?
- I Tingkat harga barang akan menurun
  - II Tingkat harga barang akan meningkat
  - III Kuantiti diminta barang akan menurun
  - IV Kuantiti diminta barang akan meningkat
- A I dan II
  - B I dan IV
  - C II dan III
  - D III dan IV
9. Rajah di bawah menunjukkan keseimbangan dalam pasaran barangan.



Mengapakah perubahan tersebut berlaku?

- A Cukai pendapatan meningkat
- B Pendapatan individu menurun
- C Harga barang pengganti meningkat
- D Tingkat teknologi berkembang maju

10. Jadual di bawah menunjukkan harga dan kuantiti diminta bagi suatu barang.

Harga (RM)	Kuantiti diminta (unit)
4	100
3	X

Keanjalan harga permintaan ialah 2. Berapakah nilai X apabila harga berubah daripada RM 4 kepada RM 3?

- A 200 unit
- B 150 unit
- C 120 unit
- D 115 unit

11. Mengapakah permintaan sesuatu barang dikatakan tidak anjal?

- A Kerajaan menaikkan cukai untuk barang tersebut
- B Barang tersebut tidak mempunyai permintaan yang tinggi
- C Barang tersebut tidak mempunyai pengganti yang hampir
- D Pengeluar membuat promosi besar-besaran untuk barang tersebut
12. Situasi manakah menerangkan fungsi wang sebagai alat bayaran tertunda.
- A Cikgu Ayuni mengunjungi lebih daripada tiga kedai peralatan komputer untuk membandingkan harga mesin pencetak
- B Cik Aliffa membeli rantai emas pada harga diskaun 40% sempena Sambutan Hari Ibu di Kedai Emas Sayangku
- C Encik Faris memperuntukkan wang sebanyak RM 500 untuk akaun tabungan di Tabung Haji
- D Damia membayar RM 550 setiap bulan untuk keretanya selama sembilan tahun
13. Maklumat di bawah berkaitan dengan perkhidmatan perbankan Islam.
- Akaun pelaburan am**  
**Akaun pelaburan khas**
- Apakah prinsip perbankan Islam yang berkaitan dengan perkhidmatan bank di atas?
- A Takjiri
- B Wadiah
- C Mudharabah
- D Bai Bithaman Ajil
14. Antara jenis pekerjaan yang berikut, yang manakah tergolong dalam sektor ketiga?

- I Pengurus kilang
  - II Kaunselor sekolah
  - III Tukang masak hotel
  - IV Pekerja ladang getah
  - A I dan II
  - B I dan IV
  - C II dan III
  - D III dan IV
15. Petikan di bawah berkaitan dengan faktor pemilihan pekerjaan.  
*Permintaan terhadap kursus jururawat di institusi pengajian tinggi swasta mendapat sambutan hangat dalam kalangan remaja kini. Ini berikutan skim perjawatan yang telah di naik taraf, waktu bekerja yang fleksibel, cuti tahunan yang lebih Panjang serta terdapat pelbagai kemudahan pinjaman.*
- Mengapakah situasi ini berlaku?
- A Pengaruh keluarga
  - B Faedah sampingan
  - C Kelayakan akademik
  - D Keadaan ekonomi semasa
16. Jadual di bawah menunjukkan pendapatan Puan Wawa pada bulan Januari
-



2020.

Butiran	RM
Upah	2 000
Sewa diterima	300
Bantuan anak melanjutkan ke IPT	1 000
Bantuan awal persekolahan	100
Pemberian anak	180

Berapakah pendapatan faktor produktif Puan Wawa pada bulan tersebut?

- A RM 2 300
  - B RM 3 300
  - C RM 3 480
  - D RM 3 580
17. Cik Athirah merupakan graduan perakaunan dan telah menolak tawaran bekerja sebagai akauntan dengan sebuah bank di ibu kota dengan gaji RM3500. Sebaliknya, dia menerima tawaran bekerja sebagai guru tadika di kampung halamannya di Terengganu. Apakah faktor yang mungkin dipertimbangkan oleh beliau dalam pemilihan pekerjaan tersebut?
- I Upah wang
  - II Waktu bekerja
  - III Kepuasan kerja
  - IV Kelayakan akademik
- A I dan II
  - B I dan IV
  - C II dan III
  - D III dan IV

18. Logo di bawah berkaitan dengan sebuah institusi kewangan di Malaysia.



Apakah peranan institusi kewangan tersebut?

- A Menyediakan faedah persaraan kepada ahlinya
  - B Memberi perlindungan keselamatan
  - C Mengagihkan wang bantuan kepada golongan kurang kemampuan
  - D Memberi pinjaman pendidikan kepada pelajar yang berkelayakan
19. Antara yang berikut, yang manakah merupakan pasangan pernyataan yang tepat?

	<b>Keperluan</b>	<b>Kehendak</b>
A	Harga barang keperluan biasanya dikawal oleh kerajaan	Harga barang kehendak ditentukan oleh kuasa permintaan dan penawaran pasaran
B	Barang keperluan mempunyai banyak pilihan	Barang kehendak adalah terhad kepada beberapa jenis barang sahaja
C	Barang keperluan adalah penting untuk mencapai kehidupan yang selesa dan mewah	Barang kehendak bertujuan untuk mencapai keselesaan hidup yang minimum
D	Dipengaruhi oleh tingkat pendapatan individu	Tidak dipengaruhi oleh tingkat pendapatan individu

20. Jadual di bawah menunjukkan kos pengeluaran sebuah firma.

Output	Jumlah kos (RM)
0	120
4	320
10	800

Jika kos berubah firma ialah RM 780, berapakah kos purata untuk output ke-12?

- A RM 60
  - B RM 66
  - C RM 75
  - D RM 90
21. Petikan di bawah menunjukkan kos pengeluaran sebuah firma.

*Kos pengeluaran yang ditanggung oleh Syarikat QHM bagi menghasilkan 180 unit output adalah sebanyak RM 1 860. Apabila firma menambahkan output menjadi 240 unit, kos pengeluaran firma meningkat sebanyak 20%.*

Berapakah kos marginal firma bagi output yang ke-240 unit?

- A RM 5.80
  - B RM 6.20
  - C RM 7.40
  - D RM 10.60
22. Maklumat di bawah mengenai perniagaan Encik Danish.

*Encik Danish telah memulakan perniagaan kedai runcit setelah meletak jawatan sebagai pengurus pasar raya. Sebelum ini, beliau menerima gaji sebanyak RM 3 000 sebulan. Beliau telah menggunakan simpanan bank sebanyak RM 15 000 dibayar faedah 4% setahun untuk dijadikan modal perniagaan. Kos-kos bulanan yang terlibat dalam perniagaan ialah kos bahan mentah sebanyak RM 3 000, upah buruh sebanyak RM 900 dan bil elektrik dan air sebanyak RM 1 000.*

Jika hasil perniagaan bulanan Encik Danish ialah RM 10 000, berapakah untung ekonomi yang diterima oleh beliau?

- A RM 1 350
- B RM 1 500
- C RM 2 050
- D RM 2 100

23. Apakah faktor yang mempengaruhi peningkatan dalam produktiviti?
- A Inventori diuruskan secara santai
  - B Gaya kepimpinan pengurusan yang autokratik
  - C Pekerja ditempatkan mengikut keperluan firma
  - D Penyelenggaraan kelengkapan modal secara berjadual

24. Maklumat di bawah merupakan ciri ciri suatu pasaran.

Keluaran tiada pengganti  
Tiada kebebasan keluar masuk industri  
Penentu harga pasaran

Antara yang berikut, syarikat manakah menepati ciri-ciri di atas?

- A Sime Darby Berhad
  - B Tenaga Nasional Berhad
  - C Malayan Banking Berhad
  - D Maxis Communication Berhad
25. Peningkatan pertumbuhan ekonomi di Malaysia akan membawa kepada
- I peningkatan kadar inflasi
  - II peningkatan infrastruktur fizikal
  - III peningkatan taraf pendidikan penduduk
  - IV peningkatan bilangan kakitangan awam
- A I dan II
  - B I dan IV
  - C II dan III
  - D III dan IV

26. Dasar fiskal mengembang akan menyebabkan
- A penurunan kadar pengangguran
  - B pertumbuhan ekonomi perlahan
  - C penurunan perbelanjaan kerajaan
  - D penurunan tingkat harga umum di pasaran
27. Jadual di bawah menunjukkan sebahagian sumber hasil kerajaan pada tahun 2015.

Hasil cukai	RM juta
Cukai pendapatan individu	26 321
Duti eksport	1 039
Duti import	2 732
Cukai pendapatan koperasi	80
Cukai barang dan perkhidmatan	27 012
Cukai pendapatan syarikat	63 679

(Sumber: Kementerian Kewangan Malaysia, tahun 2017)

Hitungkan jumlah cukai tak langsung kerajaan pada tahun tersebut.

- A RM 29 773 juta
  - B RM 30 783 juta
  - C RM 89 990 juta
  - D RM 117 092 juta
28. Tindakan bank pusat yang manakah dapat mengurangkan pengangguran dalam ekonomi?
- A Meningkatkan kadar faedah
  - B Menurunkan nisbah rizab tunai
  - C Menjual surat jaminan kerajaan
  - D Memendekkan tempoh bayaran balik pinjaman

29. Maklumat di bawah mengenai sebuah syarikat multinasional.

*Nestlé merupakan pengilang terbesar dunia untuk produk makanan dan minuman. Beribu pejabat di Switzerland, Nestlé kini berada di **191 buah negara** di seluruh dunia.*

Manakah antara berikut merupakan faktor pendorong syarikat berkenaan membuka cawangan di luar negara?

- I Kekurangan pasaran di negara asal
  - II Upah buruh rendah di negara asal
  - III Sekatan perdagangan oleh negara asal
  - IV Kekurangan bahan mentah di negara asal
- A I dan II
  - B I dan IV
  - C II dan III
  - D III dan IV

30. Antara berikut, pernyataan manakah yang **betul** tentang peningkatan pelaburan langsung asing ke Malaysia?

- A Pengurangan peluang pekerjaan
- B Pemilikan ekuiti asing bertambah
- C Penawaran Ringgit Malaysia bertambah
- D Keseimbangan upah pekerja firma tempatan dan asing

31. Mengapakah perdagangan antarabangsa penting kepada Malaysia?

- I Pengkhususan yang berlebihan
  - II Meningkatkan peluang pekerjaan
  - III Menjalin hubungan sosial dan ekonomi
  - IV Mewujudkan persaingan kepada industri muda
- A I dan II
  - B I dan IV
  - C II dan III
  - D III dan IV

32. Maklumat berikut berkaitan suatu jenis sekatan perdagangan antarabangsa.

*Kementerian Kesihatan Malaysia melalui Bahagian Keselamatan dan Kualiti Makanan bertanggung jawab memastikan produk makanan di pasaran tempatan dan diimport mematuhi Akta Makanan 1983.*

Apakah bentuk sekatan perdagangan di atas?

- A Tarif
- B Kuota
- C Embargo
- D Sekatan bukan ekonomi

33. Manakah merupakan kesan negatif blok ekonomi ke atas negara-negara membangun?

- A Perkongsian sumber tenaga dan bahan mentah tempatan dengan negara luar.
- B Persaingan antara barang import berharga mahal dengan keluaran tempatan.
- C Terdapat sekatan mobiliti modal dan tenaga kerja tempatan ke negara luar.
- D Pasaran keluaran tempatan sukar menembusi pasaran negara luar.

34. Situasi manakah yang boleh menyebabkan imbalan akaun perkhidmatan cenderung bertambah baik?

- A Persatuan bolasepak di Malaysia mengambil lebih ramai pemain luar negara
- B Syarikat pengeksport Malaysia mengambil insurans perkapalan dari Amerika Syarikat
- C Ramai pelancong Taiwan menggunakan kapal terbang Air Asia untuk ke Malaysia
- D Lembaga Tabung Haji menyewa kapal terbang Arab Saudi untuk membawa jemaah haji ke Mekah

35. Firma FAC dari Malaysia telah membeli sebuah jentera kilang yang berharga US\$180 800 dari Amerika Syarikat. Kadar pertukaran asing adalah seperti yang berikut:

Unit	Mata wang	Harga belian (RM)	Harga jualan (RM)
1	USD	4.40	4.50

Berapakah jumlah Ringgit Malaysia yang diperlukan untuk pembayaran tersebut?

- A RM 40 178
  - B RM 41 091
  - C RM 795 520
  - D RM 813 600
36. Pertukaran asing diperlukan oleh sesebuah negara untuk tujuan
- I membiayai import
  - II mendapatkan pinjaman dari luar negara
  - III mendapatkan pelaburan langsung asing
  - IV mempertahankan nilai mata wang negara
- A I dan II
  - B I dan IV
  - C II dan III
  - D III dan IV

Bagi **soalan 36 hingga 40**, anda dikehendaki memilih jawapan seperti di dalam jadual di bawah:

Pilihan	Pernyataan I	Pernyataan II
A	Betul	Salah
B	Salah	Betul
C	Salah	Salah
D	Betul	Betul

- 36
- I Keluk kemungkinan pengeluaran sebuah negara menunjukkan ekonomi telah mencapai tingkat guna tenaga penuh
  - II Tingkat teknologi adalah sentiasa berubah bagi keluk kemungkinan pengeluaran sebuah negara



- 37
- I Penurunan dalam kuantiti diminta adalah disebabkan oleh kenaikan harga barang itu.
  - II Kecerunan keluk permintaan barang mewah adalah lebih landai.
- 38
- I Jangka masa panjang membolehkan firma mengubah kuantiti semua faktor pengeluaran yang digunakan.
  - II Input pengeluaran jangka masa pendek terdiri daripada input tetap dan input berubah.
- 39
- I Dasar belanjawan lebihan digunakan untuk mengatasi masalah pengangguran
  - II Pendapatan boleh guna menurun apabila dasar belanjawan lebihan dilaksanakan
- 40
- I Perubahan nilai Ringgit Malaysia daripada RM 4.59 kepada RM 4.30 bagi seunit Pound Sterling (£) meunjukkan bahawa nilai Ringgit Malaysia telah menurun.
  - II Kejatuhan nilai Ringgit Malaysia menyebabkan harga barang eksport secara relatif lebih murah

**KERTAS SOALAN TAMAT**



**SET 02**  
**KERTAS 2**

JADUAL SPESIFIKASI ITEM KERTAS 2

SET 2

NO	SUB SOALAN	TOPIK	SUBTOPIK	MENGETAHUI & MEMAHAMI (OP1)			KEMAHIRAN MENGAPLIKASI (OP2)			KEMAHIRAN MENGANALISIS (OP3)			KEMAHIRAN MENILAI (OP4)			KEMAHIRAN KUANTITATIF (OP5)			MARKAH
				R	S	T	R	S	T	R	S	T	R	S	T	R	S	T	
1	(a)		1.1.3 Mendefinisikan faktor pengeluaran iaitu modal	1															4
1	(b)		1.2.3 Penyelesaian Masalah Asas Ekonomi oleh Sistem Ekonomi					1											6
1	(c)		2.1.5 Penentu permintaan bukan harga menyebabkan perubahan dalam permintaan.							1									4
1	(d)		2.1.1.3 Ketidakeimbangan pasaran										1						6
																			20
2	(a) i		3.1.1 Fungsi wang							1									4
2	(b)		3.2.4 Jenis-jenis Perbelanjaan Individu			1													6
2	(c)		4.1.1 Input tetap dan Input Berubah						1										6
2	(d) i		4.1.2 Fungsi Pengeluaran Jangka Pendek											1					2
2	(d) ii		4.1.2 Fungsi Pengeluaran Jangka Pendek													1			2
																			20
3	(a)		1.1.3 Peranan kerajaan Dalam Mengawal Selia Pengeluar dan Eksternaliti Negatif							1									6
3	(b) i		2.4.2 Pengiraan kadar pertukaran asing				1												2
3	(b) ii		2.4.5 Kesan perubahan Kadar pertukaran Asing Terhadap Eksport dan Import											1					6
3	(c) i		2.4.5 Kesan perubahan Kadar pertukaran Asing Terhadap Eksport dan Import							1									3
3	(c) ii		2.4.5 Kesan perubahan Kadar pertukaran Asing Terhadap Eksport dan Import									1							3
																			20
4	(a)		<b>MAKLUMAT YANG MENUNJUKKAN PENGELUARAN YANG DILAKUKAN OLEH SEBUAH FIRMA / USAHAWAN</b> 1.2.1 Menghuraikan masalah asas ekonomi yang telah diselesaikan.																4
4	(b)		1.1.5 Menganalisis sesuatu situasi untuk menerangkan kos lepas.						1										7
4	(c)		Bagaimanakah usahawan dapat memastikan perniagaan dapat terus dijalankan ketika Perintah Kawalan Pergerakan (PKP) dilaksanakan.											1					9
																			20
5	(a)		<b>ARTIKEL : MORATORIUM AUTOMATIK SELAMA 6 BULAN</b> 5.2.4 Mendefinisikan pengangguran ( deflasi)			1													5
5	(b)		5.3.7 Menjelaskan alat dasar kewangan yang digunakan oleh bank pusat untuk mengawal ekonomi						1										6
5	(c)		5.3.9 Menilai kesan yang berbeza ke atas objektif makro ekonomi negara dengan penggunaan alat-alat dasar ekonomi. (impak positif Moratorium kepada ekonomi)											1					9
																			20
6	(a)		<b>ARTIKEL : ALIRAN WANG KELUAR OLEH PEKERJA ASING.</b> 6.3.3 Menjelaskan struktur akaun semasa dalamimbangan pembayaran Malaysia ( akaun pendapatan).				1												5
6	(b)		Bincangkan kesan kebergantungan kepada pekerja asing											1					9
6	(c)		Langkah kerajaan untuk mengatasi defisit akaun semasa.											1					6
																			20
7	(a)		<b>ARTIKEL : PELAKSANAAN GAJI MINIMUM RM1,500</b> kesan pelaksanaan gaji minimum terhadap penjawat awam.										1						4
7	(b)		2.1.1.4 Menganalisis kesan perubahan permintaan atau perubahan penawaran ke atas keseimbangan pasaran. (Kesan pelaksanaan gaji minimum terhadap pasaran)									1							7
7	(c)		Kesan pelaksanaan gaji minimum terhadap firma dan negara.											1					9
																			20

**Bahagian A**

[60 markah]

Jawab **semua** soalan daripada bahagian ini.

- 1 (a) Berikut adalah salah satu faktor pengeluaran yang diperlukan oleh Miaffin Coffee dalam perniagaan mereka.



Jelaskan faktor pengeluaran di atas.

.....  
.....  
.....  
.....  
.....  
.....

[4 markah]

- (b) Bagaimana sistem ekonomi di Malaysia dapat menyelesaikan masalah asas ekonomi?

.....  
.....  
.....  
.....  
.....  
.....

[6 markah]

(c) Terangkan **tiga** penentu permintaan bukan harga barang itu.

.....

.....

.....

.....

.....

.....

.....

.....

[6 markah]

(d) Jadual di bawah menunjukkan permintaan pasaran dan penawaran pasaran bagi barang X pada pelbagai tingkat harga.

Harga (RM)	Kuantiti Barang (unit)	
	Permintaan Pasaran	Penawaran Pasaran
3	16	4
4	13	7
5	7	13

Terangkan keadaan pasaran pada harga RM3

.....

.....

.....

.....

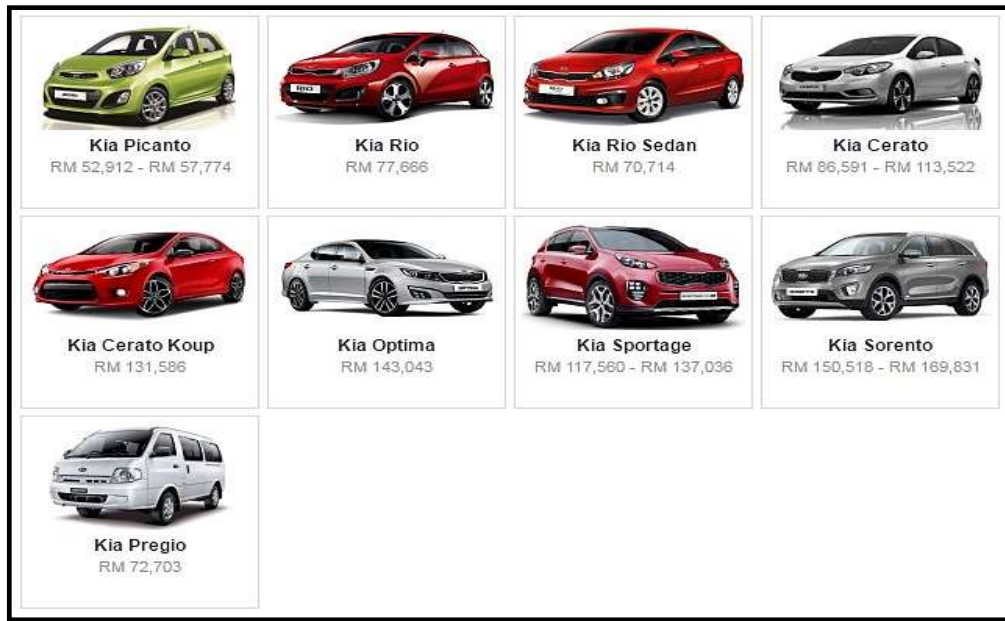
.....

.....

.....

[4 markah]

2 (a) Gambar di bawah menunjukkan sebuah iklan kereta.



Jelaskan fungsi wang yang berkaitan dengan gambar di atas.

.....

.....

.....

.....

.....

.....

.....

[4 markah]

(b) Terangkan jenis-jenis perbelanjaan individu.

.....

.....

.....

.....

.....

.....

.....

[6 markah]

(c) Bandingkan input tetap dan input berubah.

.....

.....

.....

.....

.....

.....

.....

.....

[6 markah]

(d) Jadual di bawah menunjukkan fungsi pengeluaran sebuah firma yang mengeluarkan minuman ringan.

Input tetap (unit)	Input berubah (unit)	Jumlah keluaran (unit)	Keluaran purata (unit)	Keluaran sut (unit)
2	0	0	-	-
2	1	1	1	1
2	2	4	2	3
2	3	11	3.67	7
2	4	17	4.25	6
2	5	20	<b>R</b>	3
2	6	20	3.33	0
2	7	16	2.29	<b>T</b>

(i) Apakah jenis jangka masa pengeluaran firma tersebut? Berikan alasan an

.....

.....

.....

[2 markah]



(ii) Tentukan nilai R dan T.

.....

.....

.....

.....

.....

.....

.....

.....

.....

[2 markah]





- 3 (a) Kerajaan berperanan menjaga kebajikan masyarakat dan meningkatkan kemakmuran Negara dengan mengawal eksternaliti negatif.

Jelaskan.

.....

.....

.....

.....

.....

.....

.....

.....

[6 markah]

- (b) Maklumat berikut merupakan kadar pertukaran antara Ringgit Malaysia (RM) berbanding dengan Dolar Amerika Syarikat (USD) pada bulan Mei 2021 dan Julai 2022.

Tarikh	Dollar Amerika (USD)	Ringgit Malaysia (RM)
1 Mei 2021	USD 1	RM 4.17
1 Julai 2022	USD 1	RM 4.42

Syarikat Dobi Green Tub membuat pembelian 10 unit mesin daripada Amerika Syarikat dengan harga USD 8000 seunit pada Mei 2021.

- (i) Hitung nilai seunit mesin yang perlu dibayar oleh Syarikat Dobi Green Tubi berdasarkan kepada kadar tukaran wang asing pada bulan Mei 2021.

.....

.....

.....

[2 markah]

- (ii) Sekiranya pembayaran dibuat pada 1 Julai 2022, apakah situasi yang telah dihadapi oleh syarikat tersebut?  
Jelaskan.

.....

.....

.....

.....

.....

.....

.....

.....

.....

.....

[6 markah]

- (c) Jelaskan kesan peristiwa berikut terhadap kadar pertukaran asing iaitu Ringgit Malaysia:

- (i) Pelancong dari Thailand ke Malaysia meningkat sebanyak 32.5% pada tahun 2022.

.....

.....

.....

.....

.....

[3 markah]

- (ii) Malaysia mengurangkan jumlah import peralatan kereta dari Jepun.

.....

.....

.....

.....

.....

[3 markah]

**Bahagian B**

[40 markah]

Jawab **DUA** soalan daripada bahagian ini.

- 4 Syarikat Hero merupakan syarikat pengeluaran barangan elektrik yang beroperasi di Ipoh, Perak. Syarikat ini mensasarkan golongan masyarakat kumpulan pertengahan iaitu golongan M40 yang berpendapatan RM4 851 hingga RM10 970 sebagai pelanggan utama syarikat mereka. Permintaan alat penyaman udara yang semakin menggalakkan mendorong Syarikat Hero lebih mengutamakan pengeluaran penyaman udara. Syarikat Hero mempunyai modal sebanyak RM500 000 untuk operasi pengeluaran kedua – dua produk itu, manakala kos yang diperlukan untuk pengeluaran barangan tersebut adalah seperti berikut:

Cadangan produk yang hendak dikeluarkan:	
Penapis air Hero	Penyaman udara Hero
RM 260 000	RM270 000

- (a) Jelaskan masalah asas ekonomi yang telah diselesaikan oleh Syarikat Hero. [4 markah]
- (b) Jelaskan masalah ekonomi kos lepas berdasarkan pemilihan pengeluaran yang telah dipilih oleh Syarikat Hero. [7 markah]
- (c) Syarikat Hero masih dapat mengekalkan hasil jualan dan keuntungan perniagaan walaupun Perintah Kawalan Pergerakan (PKP) dilaksanakan oleh kerajaan di seluruh negara.

Setujukah anda dengan pernyataan tersebut.

Berikan alasan anda.

[9 markah]

- 5 Petikan di bawah berkaitan dengan tindakan kerajaan dalam mengatasi kesan pandemik Covid -19 kepada ekonomi negara.

KUALA LUMPUR: Pelaksanaan moratorium dan bantuan kewangan bersasar akan bermula pada Oktober sebagai langkah mengatasi ketidakseimbangan ekonomi kesan pandemik Covid -19. Malaysia adalah satu-satunya negara di dunia melaksanakan moratorium automatik pada skala yang besar dengan lebih 90 peratus peminjam mengambil moratorium automatik itu.

Sumber: Ubahsuai BH Online, 16 Ogos 2020

- (a) Jelaskan ketidakstabilan ekonomi yang berlaku. [5 markah]
- (b) Jelaskan dasar kewangan yang dijalankan oleh kerajaan berdasarkan petikan di atas. [6 markah]
- (c) Tindakan bank pusat memberikan moratorium memberi impak positif kepada perkembangan ekonomi negara. Kemukakan hujah anda. [9 markah]

- 6 Maklumat berikut berkaitan dengan masalah ekonomi yang melanda negara.

Pekerja asing mewakili 14% daripada jumlah tenaga buruh di Malaysia iaitu kira-kira 2.1 juta orang. Setiap tahun berbilion Ringgit dibawa keluar dari Malaysia yang sepatutnya mengalir semula dalam kitaran ekonomi tempatan.

Sumber: <https://theoutlook.asia>

- (a) Jelaskan kesan masalah di atas kepada struktur akaun semasa negara Malaysia. [5 markah]
- (b) Bincangkan kesan kebergantungan kepada pekerja asing terhadap ekonomi negara. [9 markah]
- (c) Terangkan langkah yang boleh diambil oleh kerajaan bagi mengatasi defisit dalam akaun semasa. [6 markah]

- 7 Maklumat berikut berkaitan dengan peranan kerajaan ke atas penjawat awam.

KUALA LUMPUR: Pelaksanaan gaji minimum RM1,500 berkuat kuasa 1 Mei ini sudah diwartakan semalam.

Warta Kerajaan Persekutuan bertarikh 27 April 2022 itu dikeluarkan oleh Menteri Sumber Manusia, Datuk Seri M Saravanan dan disiarkan di laman web rasmi Pejabat Peguam Negara hari ini.

**Sumber: Ubahsuai BH Online, 28 April 2022**

- (a) Jelaskan kesan pelaksanaan gaji minimum terhadap penjawat awam. [4 markah]
- (b) Pelaksanaan tersebut memberi kesan ke atas pasaran barangan tempatan. Jelaskan. [7 markah]
- (c) Bagaimanakah tindakan kerajaan tersebut memberi kesan kepada firma dan negara? [9 markah]

## KERTAS SOALAN TAMAT



**SET 03**  
**KERTAS 1**

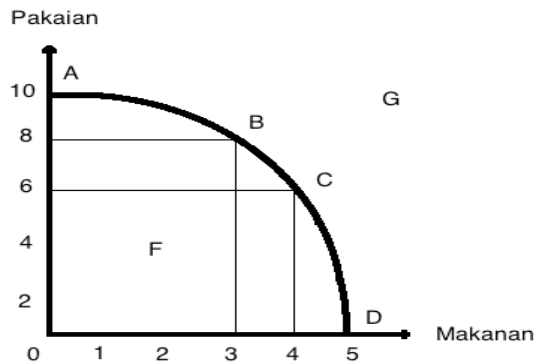
JADUAL SPESIFIKASI ITEM KERTAS 1

SET 3

NO SOALAN	SUB SOALAN	TOPIK	SUBTOPIK (STANDARD PEMBELAJARAN)	MENGETAHUI				MEMAHAMI				MENGAPLIKASI				MENGANALISIS				MENILAI				MENCIPTA				JUMLAH	CATATAN
				R	S	T	R	S	T	R	S	T	R	S	T	R	S	T	R	S	T	R	S	T	R	S	T		
1		T4: BAB 1	1.1.2 Menjelaskan konsep kekurangan dan pilihan berasaskan sumber ekonomi terhadap dan kehendak tidak terhadap.	1																					1				
2		T4: BAB 1	1.1.7 Menganalisis keluk kemungkinan pengeluaran untuk menunjukkan kos lepas.			1																			1				
3		T4: BAB 1	1.2.2 Mengenal pasti ciri-ciri utama sistem ekonomi pasaran bebas, sistem ekonomi perancangan pusat dan sistem ekonomi campuran.	1																					1				
4		T4: BAB 1	1.2.3 Membincangkan penyelesaian masalah asas ekonomi di setiap sistem ekonomi tersebut.								1														1	KBAT			
5		T4: BAB 2	2.1.4 Menjelaskan dengan gambar rajah perubahan harga mengakibatkan perubahan dalam kuantiti diminta.							1															1				
6		T4: BAB 2	2.1.10 Menjelaskan dengan gambar rajah penentu penawaran bukan harga menyebabkan perubahan dalam penawaran.							1															1				
7		T4: BAB 2	2.1.14 Menganalisis kesan perubahan permintaan /perubahan penawaran ke atas keseimbangan pasaran.													1									1	KBAT			
8		T4: BAB 2	2.1.3 Menghuraikan penentu permintaan iaitu harga barang itu, harga barang lain, cita rasa, pendapatan, musim, jangkaan harga masa depan dan dasar kerajaan.														1								1	KBAT			
9		T4: BAB 2	2.2.5 Menjelaskan konsep keanjalan harga penawaran dan membuat pengiraan mudah.								1														1				
10		T4: BAB 2	2.2.2 Menjelaskan keanjalan harga permintaan anjaldan keanjalan harga permintaan tak anjal berdasarkan rajah dan pekali keanjalan.							1															1				
11		T4: BAB 3	3.1.2 Menjelaskan fungsi bank pusat mengawal kestabilan nilai mata wang, jurubank kepada kerajaan dan jurubank kepada bank perdagangan.	1																					1				
12		T4: BAB 3	3.1.1 Menjelaskan fungsi wang.							1															1				
13		T4: BAB 3	3.1.3 Menjelaskan fungsi bank perdagangan dalam menerima deposit, memberi pinjaman, menerima dan membuat bayaran dan perkhidmatan lain.	1																					1				
14		T4: BAB 3	3.1.3 Menjelaskan fungsi bank perdagangan dalam menerima deposit, memberi pinjaman, menerima dan membuat bayaran dan perkhidmatan lain.								1														1				
15		T4: BAB 3	3.2.1 Mengklasifikasikan jenis-jenis pekerjaan mengikut sektor ekonomi	1																					1				
16		T4: BAB 3	3.1.3 Menjelaskan fungsi bank perdagangan dalam menerima deposit, memberi pinjaman, menerima dan membuat bayaran dan perkhidmatan lain.								1														1	KBAT			
17		T4: BAB 3	3.3.2 Mengenal pasti pelbagai jenis potongan wajib ke atas gaji dari segi tujuan dan kesannya terhadap pendapatan semasa dan pendapatan masa hadapan pekerja.							1															1				
18		T4: BAB 3	3.3.3 Menjelaskan perbezaan antara keperluan dan kehendak.	1																					1				
19		T4: BAB 4	4.1.4 Membuat pengiraan mudah kos tetap, kos berubah, jumlah kos, kos purata dan kos marginal berdasarkan jadual.							1															1				
20		T4: BAB 4	4.1.2 Menjelaskan fungsi pengeluaran jangka pendek secara deskriptif dengan menggunakan jadual.							1															1				
21		T4: BAB 4	4.1.4 Membuat pengiraan mudah kos tetap, kos berubah, jumlah kos, kos purata dan kos marginal berdasarkan jadual.													1									1				
22		T4: BAB 4	4.1.2 Menjelaskan fungsi pengeluaran jangka pendek secara deskriptif dengan menggunakan jadual.								1														1				
23		T4: BAB 4	4.1.7 Membuat pengiraan mudah jumlah hasil dan untung.													1									1				
24		T4: BAB 4	4.2.5 Menilai faedah sosial dan kos sosial berdasarkan contoh yang sesuai.																						1	KBAT			
25		T5: BAB 5	5.3.1 Menjelaskan maksud dasar fiskal.													1									1				
26		T5: BAB 5	5.2.2 Menerangkan jenis inflasi.																						1				
27		T5: BAB 5	5.3.2 Mengklasifikasi dan menjelaskan jenis hasil kerajaan iaitu cukai langsung, cukai tidak langsung dan hasil bukan cukai.														1								1				
28		T5: BAB 5	5.2.5 Menganalisis jenis pengangguran iaitu kiliran, berstruktur dan geseran.														1								1				
29		T5: BAB 5	6.2.2 Menjelaskan kepentingan perdagangan antarabangsa kepada ekonomi Malaysia.	1																					1				
30		T5: BAB 6	6.3.1 Mengenal pasti komposisi dagangan dan arah aliran perdagangan Malaysia.																						1	KBAT			
31		T5: BAB 6	6.3.2 Menerangkan maksudimbangan pembayaran.														1								1				
32		T5: BAB 6	6.4.1 Mendefinisikan kadar pertukaran asing.														1								1				
33		T5: BAB 6	6.4.2 Mengira kadar pertukaran asing berdasarkan harga jualan dan harga belian mata wang asing.																						1				
34		T5: BAB 6	6.4.5 Menerangkan kesan perubahan kadar pertukaran asing ke atas harga eksport dan import.																						1				
35	(i)	T4: BAB 1	1.1.6 Menilai implikasi pilihan yang dibuat oleh individu, kerajaan atau masyarakat dari aspek kos lepas dengan menggunakan contoh.																						1	KBAT			
	(ii)	T5: BAB 5	5.1.1 Menjelaskan peranan kerajaan sebagai pengeluar dan majikan.																										
36	(i)	T4: BAB 2	2.1.6 Menerangkan hukum penawaran.	1																					1				
	(ii)	T4: BAB 2	2.1.6 Menerangkan hukum penawaran.																										
37	(i)	T4: BAB 3	3.1.3 Menjelaskan fungsi bank perdagangan dalam menerima deposit, memberi pinjaman, menerima dan membuat bayaran dan perkhidmatan lain.																						1				
	(ii)	T4: BAB 3	3.1.3 Menjelaskan fungsi bank perdagangan dalam menerima deposit, memberi pinjaman, menerima dan membuat bayaran dan perkhidmatan lain.																						1				
38	(i)	T4: BAB 4	3.1.1 Menjelaskan fungsi wang.	1																					1				
	(ii)	T4: BAB 4	3.1.1 Menjelaskan fungsi wang.																										
39	(i)	T5: BAB 6	6.4.3 Menjelaskan faktor yang mempengaruhi permintaan dan penawaran mata wang asing.																						1	KBAT			
	(ii)	T5: BAB 6	6.4.3 Menjelaskan faktor yang mempengaruhi permintaan dan penawaran mata wang asing.																										
40	(i)	T5: BAB 5	5.3.2 Mengklasifikasi dan menjelaskan jenis hasil kerajaan iaitu cukai langsung, cukai tidak langsung dan hasil bukan cukai.																						1				
	(ii)	T5: BAB 5	5.3.2 Mengklasifikasi dan menjelaskan jenis hasil kerajaan iaitu cukai langsung, cukai tidak langsung dan hasil bukan cukai.																										
JUMLAH				6	4	2	6	8	2	4	3	0	2	1	2	0	0	0	0	0	0	0	0	0	17	16	7		
RUMUSAN:				BILANGAN				PERATUS																					
Soalan Tahap Rendah (R)				17				43																					
Soalan Tahap Sederhana (S)				16				40																					
Soalan Tahap Tinggi (T)				7				18																					
Peratus dan Bilangan Soalan KBAT				3				8																					

Arahan : Jawab semua soalan.

1. Apakah matlamat kerajaan membuat pilihan apabila melaksanakan sesuatu projek pembangunan?
  - A Memenuhi kehendak rakyat
  - B Mengurangkan masalah pembaziran sumber
  - C Meminimumkan kos pengeluaran
  - D Memaksimumkan kebajikan masyarakat
  
2. Rajah 1 menunjukkan keluk kemungkinan pengeluaran (KKP) bagi dua keluaran bagi firma Essemkay



Rajah 1

Pernyataan manakah yang benar?

- I Masalah kekurangan berlaku di titik G
  - II Masalah pilihan berlaku di titik-titik A, B, C dan D
  - III Masalah ketidakupayaan berlaku di titik F
  - IV Guna tenaga penuh berlaku di titik F
- A I dan II
  - B I dan III
  - C II dan IV
  - D III dan IV



3. Maklumat berikut berkaitan dengan suatu sistem ekonomi

- Pengguna tiada pilihan
- Harga ditentukan oleh kerajaan

Apakah sistem ekonomi tersebut?

- A Sistem Pasaran Bebas
- B Sistem Ekonomi Campuran
- C Sistem Ekonomi Perancangan Pusat
- D Sistem Ekonomi Islam

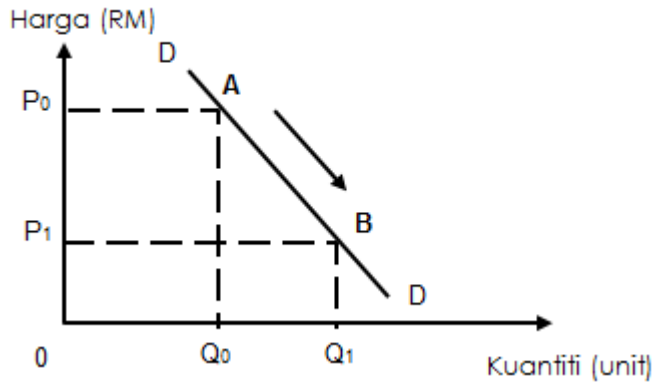
4. Pernyataan di bawah berkaitan dengan teknologi moden dalam pembuatan makanan.

Penggunaan teknologi moden dalam pengeluaran produk tenusu membolehkan penghasilan makanan yang bermutu tinggi.

Pernyataan tersebut berkaitan dengan masalah asas ekonomi

- A Apa dan untuk siapa dikeluarkan
- B Bagaimana dan untuk siapa dikeluarkan
- C Apa dan bagaimana hendak dikeluarkan
- D Berapa dan bagaimana hendak dikeluarkan

5. Rajah 2 di bawah berkaitan dengan keluk permintaan terhadap kereta.

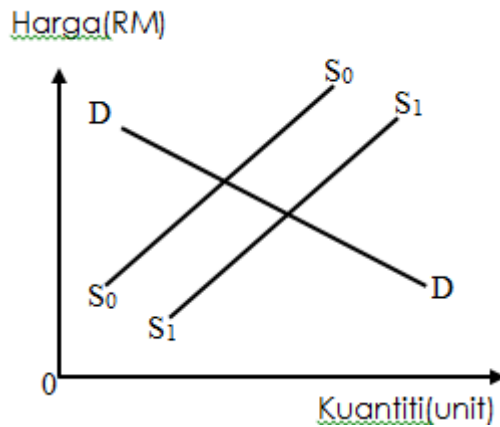


Rajah 2

Antara yang berikut, yang manakah menerangkan keluk di atas?

- A Penurunan harga kereta
- B Jangkaan harga kereta akan menurun bulan depan
- C Kenaikan kadar cukai pendapatan individu
- D Pendapatan individu jatuh

6. Rajah 3 di bawah menunjukkan perubahan penawaran bagi kasut.

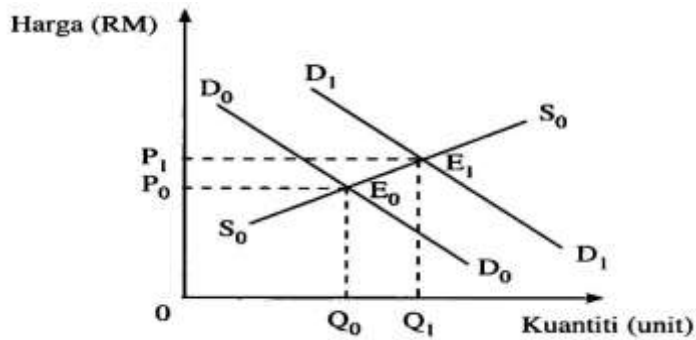


Rajah 3

Antara yang berikut, pernyataan yang manakah benar tentang perubahan keluk penawaran daripada  $S_0$  ke  $S_1$ ?

- A Pengurangan subsidi oleh kerajaan
- B Peningkatan harga faktor pengeluaran
- C Peningkatan dalam tingkat teknologi
- D Peningkatan pendapatan individu

7. Rajah 4 menunjukkan perubahan keseimbangan pasaran ikan tempatan



Rajah 4

Apakah yang menyebabkan titik keseimbangan  $E_0$  beralih ke  $E_1$ ?

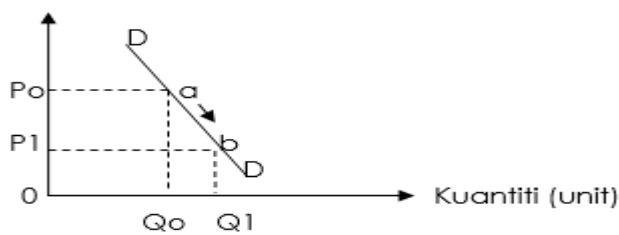
- A Peningkatan pendapatan individu
- B Penggunaan teknologi baharu
- C Harga keseimbangan jatuh
- D Kerajaan menaikkan kadar cukai pendapatan individu

8. Maklumat berikut berkaitan dengan satu penentu permintaan bagi rumah.

Jangkaan harga rumah pada masa depan akan naik

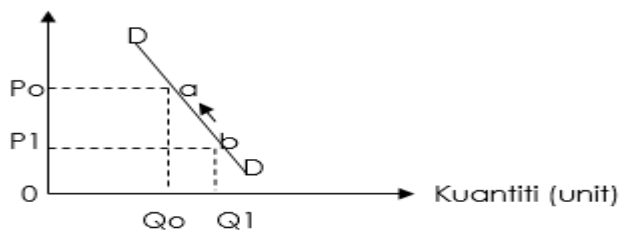
Rajah yang manakah menunjukkan kesan perubahan penentu permintaan tersebut terhadap permintaan rumah pada masa sekarang?

A. Harga (RM)

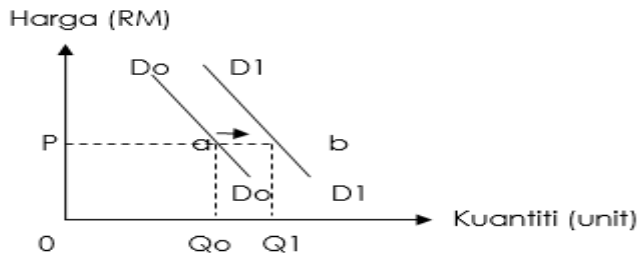


B.

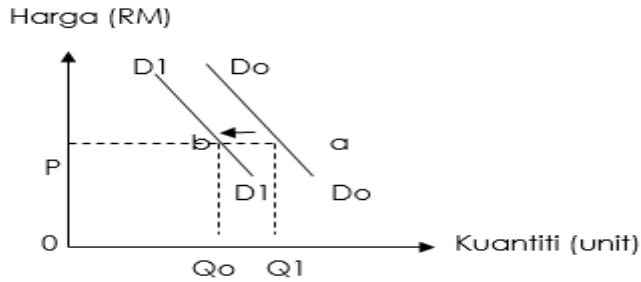
Harga (RM)



C.



D.



9. Jadual 1 menunjukkan hubungan antara tingkat harga dengan kuantiti ayam ditawarkan.

Harga (RM)	Kuantiti Ditawar(Kg)
1	40
2	50
3	60

Jadual 1

Berapakah nilai keanjalan harga penawaran apabila harga berubah daripada RM2 ke RM1?

- A 0.40
- B 0.50
- C 0.60
- D 6.00

10. Ciri yang manakah benar tentang keanjalan harga permintaan tidak anjal?

- A Kecerunan keluk permintaan adalah lebih curam
- B Pekali keanjalan harga permintaan lebih dari satu
- C Pengeluar menaikkan harga untuk meningkatkan hasil jualan
- D Peratus perubahan kuantiti diminta lebih besar daripada peratus perubahan harga

11. Antara yang berikut, manakah menunjukkan fungsi bank pusat sebagai jurubank kepada bank perdagangan?
- A Menawarkan pendahuluan
  - B Sumber pinjaman terakhir
  - C Menguruskan pertukaran mata wang asing
  - D Menjual dan membeli surat jaminan kerajaan
12. Pn Dhia mempunyai deposit tetap berjumlah RM100 000 di sebuah bank perdagangan. Apakah fungsi wang dalam pernyataan itu?
- A Alat ukuran nilai
  - B Alat simpanan nilai
  - C Alat bayaran tertunda
  - D Alat perantaraan pertukaran
13. Antara berikut yang manakah merupakan kemudahan yang diberikan kepada pemegang akaun deposit semasa?
- I Mendapat pinjaman overdraf
  - II Mendapat faedah yang tinggi
  - III Diberi sijil simpanan premium
  - IV Boleh membuat pembayaran menggunakan cek
- A I dan II
  - B I dan IV
  - C II dan III
  - D III dan IV

14. Maklumat berikut berkaitan dengan prinsip perbankan Islam.

- Pihak bank membeli barang yang diingini oleh pelanggan.
- Pihak bank menjual barang tersebut pada harga yang lebih tinggi.

Apakah prinsip yang di

- A At Takjiri
- B Mudharabah
- C Musyarakah
- D Bai Bithaman Ajil

15. Apakah aktiviti ekonomi yang tergolong dalam sektor utama?

- A Penanaman padi
- B Doktor gigi
- C Pembuatan kereta
- D Perbankan

16. En Zikri menghadapi masalah untuk membayar semua bil seperti bil air, bil eleterik dan bil telefon pada hujung bulan. Cara pembayaran yang manakah yang sesuai digunakan oleh En Zikri untuk menyelesaikan masalah beliau?

- A Kad kredit
- B Debit langsung
- C Pindahan kredit
- D Perintah sedia ada

17. Antara berikut yang manakah potongan wajib?

- A Premium insuran nyawa
- B Kumpulan Wang Simpanan Pekerja
- C Cukai pintu
- D Ansuran kereta

18. Antara berikut, yang manakah berkaitan dengan ciri barang kehendak?

- I Harga dikawal oleh kerajaan
  - II Diperlukan untuk kehidupan lebih selesa
  - III Mesti dipenuhi
  - IV Banyak barang pengganti
- A I dan II
  - B II dan IV
  - C I dan III
  - D III dan IV

19. Antara yang berikut, yang manakah benar tentang jumlah kos pengeluaran jangka pendek?

- I Jumlah kos meningkat apabila input tetap bertambah
  - II Jumlah kos ialah kos per unit bagi pelbagai tingkat keluaran
  - III Jumlah kos ialah kos tetap tambah kos berubah
  - IV Jumlah kos sama dengan kos tetap pada output sifar
- A I dan II
  - B I dan IV
  - C I dan III
  - D III dan IV

20. Pernyataan manakah yang benar tentang input tetap?

- A Wujud dalam jangka masa pendek dan panjang
- B Tetap wujud walaupun pada output sifar
- C Penggunaan tenaga pekerja mahir dan tidak mahir
- D Berhubung secara langsung dengan tingkat output

21. Jadual 2 menunjukkan hubungan antara tingkat keluaran dengan kos.

Tingkat keluaran (unit)	Kos tetap (RM)	Kos berubah (RM)
1	100	30
2	100	60
3	100	90

Jadual 2

Berapakah kos purata pada tingkat keluaran 3 unit?

- A RM30.00
- B RM33.33
- C RM60.00
- D RM63.33

22. Jumlah keluaran firma Habsah meningkat dari 52 unit kepada 64 unit apabila buruh meningkat dari 10 orang kepada 15 orang. Berapakah keluaran marginal pada buruh ke 15?

- A 2.4
- B 4.0
- C 5.2
- D 8.0

23. Maklumat di bawah berkaitan dengan Firma LIMAPA.

Firma Limapa menjual payung plastik dengan harga RM25 seunit. Jumlah kos adalah RM400 000.

Hitungkan keuntungan sekiranya firma menjual 40 000 unit payung plastik.

- A RM280 000
- B RM600 000
- C RM720 000
- D RM100 000



24. Maklumat berikut berkaitan tentang eksternaliti.

Timbalan Ketua Pengarah Penyelidikan dan Pembangunan Teknologi berkata Agensi Nuklear Malaysia sedang berbincang tentang cadangan untuk membina loji nuklear di negara ini.

Sumber: disesuaikan [http://www.bharian.com.my/Rabu/4 Februari](http://www.bharian.com.my/Rabu/4%20Februari)

Apakah kesan eksternaliti yang wujud jika projek tersebut dibina?

- I Membuka peluang pekerjaan
  - II Sumber tenaga baru
  - III Kesesakan lalulintas akan berlaku
  - IV Masalah kesihatan akibat pencemaran radioaktif
- A I dan II
  - B I dan IV
  - C II dan III
  - D III dan IV

25. Maklumat berikut berkaitan dengan ketidakstabilan ekonomi.

Kadar pengangguran kembali meningkat. Ketua perangkawan Malaysia berkata kadar pengangguran meningkat kepada 4.8% berbanding 4.5% pada Mei 2021

Sumber : disesuaikan <https://www.bharian.com.my/bisnes/lain-lain/2021>

Apakah tindakan yang sesuai diambil oleh kerajaan untuk mengawal keadaan tersebut

	<b>Dasar Fiskal</b>	<b>Kadar Cukai</b>	<b>Perbelanjaan Kerajaan</b>
A	Mengembang	Naik	Turun
B	Menguncup	Turun	Naik
C	Mengembang	Turun	Naik
D	Menguncup	Naik	Turun

26. Antara berikut yang manakah berkaitan dengan inflasi tarikan permintaan?

- A Kenaikan harga akibat kenaikan kos
- B Kenaikan harga akibat kenaikan permintaan
- C Kenaikan harga akibat kenaikan harga barang import
- D Kenaikan harga akibat kenaikan harga barang eksport

27. Jadual 3 menunjukkan hasil kerajaan persekutuan bagi tempoh satu tahun.

Sumber hasil	RM (juta)
Cukai pendapatan individu	7 984
Duti eksport	1 156
Lesen/permit	5 708
Cukai pendapatan koperasi	86
Duti import	3 919
Bayaran perkhidmatan	708
Duti eksais	10 369

Jadual 3

Berapakah jumlah hasil kerajaan daripada sumber hasil cukai tidak langsung pada tahun tersebut?

- A. RM8 725 juta
  - B. RM15 444 juta
  - C. RM18 237 juta
  - D. RM20 546 juta
28. Pengangguran kitaran berlaku disebabkan
- A Firma mengecilkan skala pengeluaran
  - B Berlaku kemeseletan ekonomi yang teruk
  - C Para graduan baru sahaja tamat pengajian di universiti
  - D Penganggur sedang mencari pekerjaan yang diminati

29. Pernyataan yang manakah menjelaskan kepentingan perdagangan antarabangsa terhadap pertumbuhan ekonomi negara?
- A Memperoleh barang yang tidak dikeluarkan dalam negara
  - B Mewujudkan hubungan baik dengan rakan dagang
  - C Menikmati barang dengan harga lebih murah
  - D Menggalakkan pemindahan dan penggunaan teknologi
30. Antara berikut yang manakah merupakan import tak nampak Malaysia?
- A Syarikat Malaysia menjual getah asli ke China
  - B Syarikat Malaysia membeli buah kurma daripada Tunisia
  - C Syarikat Malaysia mendapat dividen hasil pelaburan di Bangladesh
  - D Syarikat Malaysia menggunakan kapal terbang Indonesia untuk menghantar juru latih badminton dari Indonesia.
31. Imbangan dagangan cenderung menjadi positif disebabkan oleh pertambahan
- A barang eksport ke luar negara
  - B pelaburan langsung asing di luar negara
  - C kiriman wang pekerja asing ke negaranya
  - D kemasukan pelancong luar negara ke Malaysia
32. Mengapakah pertukaran asing penting kepada Malaysia?
- A Membiayai eksport ke luar negara
  - B Mempertahankan nilai mata wang negara
  - C Membuat pelaburan di dalam negara
  - D Memberi subsidi kepada pengeluar tempatan

33. Jadual 4 menunjukkan kadar pertukaran Ringgit Malaysia berbanding negara Finland

Mata Wang	Harga Belian (RM)	Harga Jualan (RM)
1 Euro	4.9258	4.9795

Jadual 4

Seorang pelancong dari Finland ingin menukarkan 400 Euro kepada Ringgit Malaysia. Berapakah Ringgit Malaysia yang diterima olehnya?

- A RM1315.88
- B RM1991.80
- C RM1596.00
- D RM1970.32

34. Maklumat berikut merupakan kadar pertukaran Ringgit Malaysia (RM) berbanding Dolar Amerika (USD).

Tahun	Pertukaran
Januari 2020	USD1 = RM4.20
Januari 2021	USD1 = RM4.50

Sumber : [www.anm.gov.my](http://www.anm.gov.my)

Pernyataan yang manakah betul tentang perubahan kadar pertukaran pada 2021 berbanding 2020?

- A Eksport negara Malaysia akan berkurang
- B Imbangan dagangan Malaysia menjadi positif
- C Kemasukan pelancong dari Amerika Syarikat akan berkurang
- D Rakyat tempatan boleh membeli lebih banyak barang keluaran Amerika Syarikat

Soalan 35 hingga Soalan 40 berdasarkan pilihan jawapan seperti jadual di bawah.

Pilihan	Pernyataan I	Pernyataan II
<b>A</b>	Betul	Salah
<b>B</b>	Salah	Betul
<b>C</b>	Betul	Betul
<b>D</b>	Salah	Salah

35. I. Implikasi daripada sesuatu pilihan adalah kos lepas  
 II. Contoh projek pembangunan ialah Balai Raya Kg Expo Tambahan
36. I. Hubungan antara harga dan kuantiti ditawarkan adalah songsang  
 II. Hubungan songsang ini digambarkan oleh keluk penawaran yang mencerun ke bawah dari kiri ke kanan
37. I. Overdraf adalah kemudahan pinjaman yang diberi kepada pemegang semasa  
 II. Overdraf adalah pinjaman jangka panjang
38. I. Fungsi wang dapat mengatasi masalah kehendak serentak dalam sistem barter  
 II. Fungsi wang sebagai alat ukuran nilai dapat membandingkan harga dua jenis barang
39. I. Permintaan ke atas Ringgit Malaysia berhubung secara langsung dengan permintaan ke atas eksport negara  
 II. Apabila nilai ekport meningkat, nilai Ringgit Malaysia cenderung naik
40. I Hasil kerajaan merupakan semua jenis pendapatan yang diperolehi oleh kerajaan dalam bentuk hasil cukai dan hasil bukan cukai  
 II Cukai Eksais adalah cukai yang dikenakan atas barangan import dari luar negara

**KERTAS PEPERIKSAAN TAMAT**



**SET 03**  
**KERTAS 2**

JADUAL SPESIFIKASI ITEM KERTAS 2

SET 3

NO	SUBSOALAN	TOPIK	SUBTOPIK	MENGETAHUI & MEMAHAMI (OP1)			KEMAHIRAN MENGAPLIKASI (OP2)			KEMAHIRAN MENGANALISIS (OP3)			KEMAHIRAN MENILAI (OP4)			KEMAHIRAN KUANTITATIF (OP5)			MARKAH
				R	S	T	R	S	T	R	S	T	R	S	T	R	S	T	
1	(a)	BAB 1	1.1.2 Menjelaskan konsep kekurangan dan pilihan berasaskan sumber ekonomi terhad dan kehendak tidak terhad							1									4
1	(b)		1.1.7 Menganalisis keluk kemungkinan pengeluaran untuk menunjukkan kos lepas.								1								
1	(c)	BAB 2	2.1.6 Menerangkan hukum penawaran.					1											6
1	(d)		2.2.3 Menjelaskan penentu keanjalan permintaan.			1													
																			20
2	(a)	BAB 3	3.1.2 Menjelaskan fungsi bank pusat mengawal kestabilan nilai mata wang, jurubank kepada kerajaan dan jurubank kepada bank perdagangan.			1													4
2	(b) (i) (ii) (iii)	BAB 3	3.1.3 Menjelaskan fungsi bank perdagangan dalam menerima deposit, memberi pinjaman, menerima dan membuat bayaran dan perkhidmatan lain.		1														6
2	(c)	BAB 4	4.1.1 Menjelaskan konsep pengeluaran.							1									6
2	(d)	BAB 4	4.2.2 Menjelaskan faktor-faktor yang mempengaruhi produktiviti iaitu tanah, buruh, modal dan usahawan.							1									4
																			20
NO	SUBSOALAN	TOPIK	SUBTOPIK	MENGETAHUI & MEMAHAMI (OP1)			KEMAHIRAN MENGAPLIKASI (OP2)			KEMAHIRAN MENGANALISIS (OP3)			KEMAHIRAN MENILAI (OP4)			KEMAHIRAN KUANTITATIF (OP5)			MARKAH
				R	S	T	R	S	T	R	S	T	R	S	T	R	S	T	
3	(a)	BAB 5	5.1.1 Menjelaskan peranan kerajaan sebagai pengeluar dan majikan.							1									5
3	(b)	BAB 5	5.1.3 Menjelaskan peranan kerajaan dalam mengawal selia pengeluar dan eksternaliti negatif.			1													4
3	(c)	BAB 6	6.4.1 Mendefinisikan kadar pertukaran asing.	1															4





7	(b)	6.2.4 Menganalisis kesan subsidi ke atas perdagangan antarabangsa. (Pemansuhan subsidi minysk msdsk botol. Bincangkan)												1					9
7	(c)	6.2.4 Menganalisis kesan subsidi ke atas perdagangan antarabangsa. (Pemansuhan subsidi minysk msdsk botol)								1									5
																		<b>20</b>	

**BAHAGIAN A**

**[ 60 Markah ]**

Arahan : Jawab **semua** soalan

1. a) Bezakan masalah ekonomi yang dihadapi antara isi rumah dan firma?

---

---

---

---

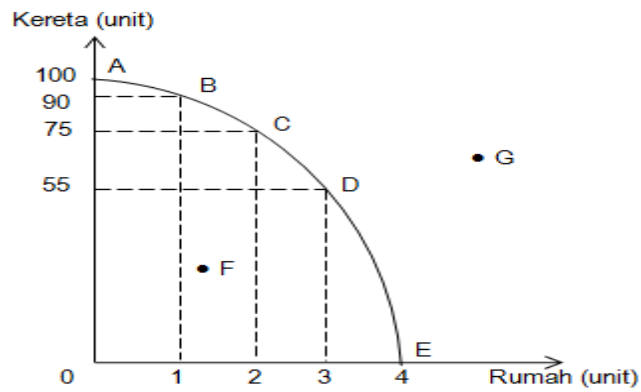
---

---

---

[4 markah]

b) Rajah di bawah ini menunjukkan keluk kemungkinan pengeluaran sebuah firma.



Jelaskan bagaimana titik G boleh dicapai oleh firma.

---



---



---



---



---



---



---



---

[4 markah]

c) Dengan gambar rajah yang sesuai, jelaskan konsep penawaran.

---

---

---

---

---

---

---

---

---

---

[6 markah]

(d) Jelaskan 3 penentu keanjalan harga permintaan tidak anjal?

---

---

---

---

---

---

---

---

---

---

---

---

---

---

---

---

---

---

---

---

---

---

---

---

[6 markah]

2. (a) Bagaimana kerajaan mengawal kestabilan nilai mata wang dalam ekonomi?

---

---

---

---

---

---

---

---

[4 markah]

(b). Terangkan kemudahan pembayaran yang disediakan oleh bank perdagangan yang berikut;

i. Perintah sedia ada

---

---

---

---

(2 markah)

ii. Pindahan kredit

---

---

---

---

(2 markah)

iii. Debit Langsung

---

---

---

---

(2 markah)

(c) Gambar 1 dan gambar 2 merupakan dua jenis input pengeluaran.



Gambar 1



Gambar 2

Bandingkan jenis input dalam gambar 1 dengan gambar 2 dari konsep ekonomi.

---

---

---

---

---

---

---

---

[6 markah]

(d) Bagaimana seseorang usahawan yang berjaya meningkatkan produktiviti sesebuah firma?

---

---

---

---

---


---

---

---

(4 markah)

3. (a). Gambar 3 berkaitan dengan jenis barang dalam ekonomi.



**Gambar 3**

Jelaskan tujuan kerajaan menyediakan barang tersebut kepada masyarakat?

---



---



---



---



---



---



---

(5 markah)

b). Jelaskan 2 cara kerajaan mengawal selia pengeluar dan eksternaliti negatif.

---



---



---



---



---

(4 markah)



c) Nyatakan kepentingan pertukaran asing. (4 markah)

---



---



---



---

d) Maklumat di bawah, menunjukkan kadar pertukaran RM berbanding USD.

Tahun	Kadar Pertukaran Asing
2020	USD 1.00 = RM4.00
2021	USD 1.00 = RM4.20

i. Syarikat Damai Indah di Malaysia mengimport jentera dari Amareka Syarikat yang bernilai USD18 000. Berapakah jumlah Ringgit Malaysia yang perlu di bayar oleh syarikat itu pada tahun 2020?

---



---



---

(2 markah)

ii. Jelaskan kesan perubahan kadar pertukaran asing terhadap imbangan dagangan negara pada tahun 2021? (5 markah)

---



---



---



---



---

**BAHAGIAN B****[ 60 MARKAH ]**

Jawab mana-mana **dua** soalan daripada bahagian ini.

Petikan akhbar berikut berkaitan dengan jenis pendapatan individu.

## Bantuan Keluarga Malaysia

KUALA LUMPUR: Kerajaan akan menyalurkan Bayaran Bantuan Keluarga Malaysia (BKM) membabitkan 8.6 juta penerima dengan peruntukan berjumlah RM2 bilion. Perdana Menteri berkata penerima akan menerima bayaran sebanyak RM100 hingga RM300 berdasarkan kelayakan masing-masing. Pembayaran ini juga bagi meringankan beban kewangan rakyat.

Sumber : diubahsuai daripada <https://www.bharian.com.my>

- a) Jelaskan jenis pendapatan individu tersebut. [ 4 markah ]
- b) Jelaskan kesan pemberian bantuan tersebut ke atas pasaran barangan dalam ekonomi. [ 7 markah ]
- c) Setujukan anda pemberian bantuan kewangan tersebut memberi banyak kebaikan kepada pengeluar tempatan?  
Kemukakan alasan anda.

4. Maklumat di bawah berkaitan dengan pasaran buruh di Malaysia.

### **Kadar pengangguran di Malaysia meningkat**

PUTRAJAYA: Pengangguran di Malaysia meningkat kepada 772,900 orang pada kadar 4.8 peratus pada Disember 2020, demikian menurut perangkaan terkini Jabatan Perangkaan Malaysia (DOSM).

Bilangan penduduk bekerja yang tidak bekerja meningkat kepada 146,200 orang berbanding November 2020 (142,000 orang) disebabkan pelaksanaan kawalan pergerakan sepanjang bulan itu serta cuti persekolahan dan cuti perayaan yang singkat.

Sumber : disesuaikan daripada <https://www.bharian.com.my>

- (a) Jelaskan kesan situasi di atas terhadap ekonomi negara ? [ 5 markah ]
- (b) Pengangguran di atas ialah pengangguran kitaran. Jelaskan. [ 7 markah ]
- (c) Setujukah anda pelaksanaan kawalan pergerakan di atas memberi lebih banyak kebaikan kepada aspek sosial penduduk.  
Kemukakan hujah anda. [ 9 markah ]

6. Maklumat berikut berkaitan dengan dasar ekonomi negara.

**BANK NEGARA MALAYSIA (BNM) TURUNKAN KADAR FAEDAH**

KUALA LUMPUR – Pandemik Covid-19 telah memberikan kesan yang ketara ke atas ekonomi global. Keadaan ekonomi global terus lemah dengan pertumbuhan global diunjurkan negatif pada tahun ini. Menurut BNM, pengurangan kadar faedah memberikan rangsangan untuk mempercepat kadar pemulihan ekonomi.

*Sumber diubahsuai: Berita Harian Online, 7 Julai 2020*

- (a) Jelaskan dasar kewangan yang digunakan oleh Bank Negara Malaysia dalam petikan di atas. [4 markah]
- (b) Wajarkah tindakan Bank Negara Malaysia tersebut untuk merangsang dan mempercepatkan pertumbuhan ekonomi? Beri alasan anda. [ 9 markah ]
- (c) Bagaimanakah kerajaan melalui Dasar Fiskal mengatasi keadaan ekonomi di(a)? [7 markah]

7. Maklumat berikut berkaitan dengan tindakan kerajaan dalam ekonomi.

**KERAJAAN MEMANSUHKAN SUBSIDI MINYAK MASAK TULEN BERBOTOL**

PUTRAJAYA: Subsidi minyak masak tulen berbotol akan dikurangkan bermula 1 Julai ini, kata Menteri Perdagangan Dalam Negeri dan Hal Ehwal Pengguna (KPDNHEP). Keputusan itu menyebabkan harga minyak masak tulen botol mengalami kenaikan.

Walau bagaimanapun subsidi minyak masak paket yang bermula sejak Jun 2007 masih dilaksanakan kerajaan hari ini dan tidak ditarik balik bagi kegunaan domestik.

*Sumber diubahsuai: Astro Awani Online, 21 Jun 2022*

- (a) Jelaskan kesan tindakan pemansuhan oleh kerajaan tersebut ke atas pasaran minyak masak tulen botol di pasaran tempatan. [ 6 markah ]
- (b) Pemansuhan subsidi minyak masak keluaran tempatan memberi kesan kepada ekonomi.  
Bincangkan. [ 9 markah ]
- (c) Jelaskan kesan jika pemansuhan tersebut dikenakan kepada pengeluar barang eksport utama negara. [ 5 markah ]

**KERTAS PEPERIKSAAN TAMAT**



# SKEMA JAWAPAN

TICKET TO VICTORY  
EKONOMI KERTAS 1 – SET 1

JAWAPAN :

Soalan	JAWAPAN
1.	A
2.	B
3.	C
4.	C
5.	D
6.	A
7.	C
8.	D
9.	B
10.	B
11.	B
12.	A
13.	A
14.	B
15.	A
16.	B
17.	D
18.	C
19.	C
20.	C

Soalan	JAWAPAN
21.	B
22.	A
23.	A
24.	B
25.	B
26.	B
27.	D
28.	D
29.	D
30.	D
31.	A
32.	C
33.	A
34.	C
35.	C
36.	B
37.	A
38.	C
39.	A
40.	D

**TICKET TO VICTORY  
EKONOMI KERTAS 1 – SET 2  
SKEMA JAWAPAN**

- |       |       |       |       |
|-------|-------|-------|-------|
| 1. C  | 11. D | 21. C | 31. D |
| 2. A  | 12. C | 22. A | 32. D |
| 3. B  | 13. C | 23. B | 33. C |
| 4. C  | 14. B | 24. C | 34. C |
| 5. C  | 15. A | 25. A | 35. A |
| 6. B  | 16. C | 26. B | 36. A |
| 7. B  | 17. A | 27. B | 37. D |
| 8. C  | 18. A | 28. B | 38. D |
| 9. B  | 19. C | 29. B | 39. B |
| 10. C | 20. B | 30. C | 40. B |



**TICKET TO VICTORY  
EKONOMI KERTAS - SET 3**

- |       |       |       |       |
|-------|-------|-------|-------|
| 1. C  | 11. D | 21. C | 31. D |
| 2. A  | 12. C | 22. A | 32. D |
| 3. B  | 13. C | 23. B | 33. C |
| 4. C  | 14. B | 24. C | 34. C |
| 5. C  | 15. A | 25. A | 35. A |
| 6. B  | 16. C | 26. B | 36. A |
| 7. B  | 17. A | 27. B | 37. D |
| 8. C  | 18. A | 28. B | 38. D |
| 9. B  | 19. C | 29. B | 39. B |
| 10. C | 20. B | 30. C | 40. B |

SET 1

PERATURAN PEMARKAHAN

soalan	Butiran			Markah
1a	F	Buruh		1
	H1a	Individu yang menyumbangkan tenaga fizikal/mental dalam proses pengeluaran		1
	H1b	Menerima ganjaran upah		1
	H1c	Terdiri buruh mahir dan buruh tidak mahir/ buruh mahir berpendidikan tinggi/ memiliki kemahiran professional tertentu/ buruh tidak mahir memiliki pendidikan rendah/ tidak		1
	H1d	memiliki kemahiran profesional Mempunyai mobiliti pekerjaan/mobiliti geografi/ mudah bertukar pekerjaan/mudah bergerak dari satu tempat ketempat yang lain		1 1
				[Mak.4m]
1b	Masalah Asas Ekonomi	Negara P Sistem Ekonomi Campuran	Negara Q Sistem Ekonomi Perancangan Pusat	
	Apa yang hendak dikeluarkan	H1a Barang ekonomi melalui mekanisme pasaran, barang awam oleh kerajaan	H1b Kerajaan	1+1
	Berapa hendak dikeluarkan	H2a Barang ekonomi melalui mekanisme pasaran, barang awam mengikut keperluan rakyat	H2b Kerajaan	1+1
	Bagaimana hendak dikeluarkan	H3a Barang ekonomi yang dapat	H3b Ditentukan oleh Kerajaan /biasanya kaedah intensif	1+1

	memaksimumkan keuntungan, barang awam yang memaksimumkan kebajikan masyarakat	buruh digunakan													
Untuk siapa dikeluarkan	H4a Barang ekonomi berdasarkan corak agihan pendapatan, barang awam untuk semua masyarakat	H4b Diagihkan secara adil kepada semua individu dalam masyarakat	1+1  [Mak. 4m]												
	<table border="1"> <thead> <tr> <th>Titik a ke b</th> <th>Titik a ke c</th> </tr> </thead> <tbody> <tr> <td>Perubahan dalam kuantiti diminta</td> <td>Perubahan permintaan</td> </tr> <tr> <td>Pengembangan permintaan</td> <td>Pengurangan permintaan</td> </tr> <tr> <td>Disebabkan oleh harga barang itu sendiri</td> <td>Disebabkan oleh faktor-faktor lain contoh citarasa/pendapatan</td> </tr> <tr> <td>Harga barang turun/jatuh/ P0 ke P1</td> <td>Harga barang tetap</td> </tr> <tr> <td>Berlaku pergerakan titik atas keluk yang sama</td> <td>Pergerakan keluk ke kiri dari D0D0 ke D1D1</td> </tr> </tbody> </table>	Titik a ke b	Titik a ke c	Perubahan dalam kuantiti diminta	Perubahan permintaan	Pengembangan permintaan	Pengurangan permintaan	Disebabkan oleh harga barang itu sendiri	Disebabkan oleh faktor-faktor lain contoh citarasa/pendapatan	Harga barang turun/jatuh/ P0 ke P1	Harga barang tetap	Berlaku pergerakan titik atas keluk yang sama	Pergerakan keluk ke kiri dari D0D0 ke D1D1		1+1 1+1 1+1 1+1 1+1 [Mak. 6m]
Titik a ke b	Titik a ke c														
Perubahan dalam kuantiti diminta	Perubahan permintaan														
Pengembangan permintaan	Pengurangan permintaan														
Disebabkan oleh harga barang itu sendiri	Disebabkan oleh faktor-faktor lain contoh citarasa/pendapatan														
Harga barang turun/jatuh/ P0 ke P1	Harga barang tetap														
Berlaku pergerakan titik atas keluk yang sama	Pergerakan keluk ke kiri dari D0D0 ke D1D1														

1d		Barang K	
	H1a	Naikkan harga barang	1
	H1b	Permintaan tak anjal	1
	H1c	Barang keperluan	1
	H1d	Harga barang naik sedikit, kuantiti yang diminta akan berkurangan sedikit	1
	H1e	Jika harga naik 1%, kuantiti akan menurun sebanyak 0.75%	1
		Barang L	
	H2a	Turun harga barang	1
	H2b	Permintaan anjal	1
	H2c	Barang mewah	1
	H2d	Harga barang turun dengan sedikit, kuantiti yang diminta akan meningkat dengan banyak	1
	H2e	Jika harga turun 1%, kuantiti yang diminta akan meningkat sebanyak 1.05%	1
			[mak. 4m]

2a	F1	Debit langsung	1
	H1a	Mengarah bank membuat bayaran yang tidak tetap pada tarikh tertentu	1
	H1b	Contoh bayaran bil air	1
	F2	Perintah sedia ada	1
	H2a	Membuat bayaran secara tetap dan berulang	1
	H2b	Tarikh/jumlah yang tetap	1
	H2c	Contoh bayaran sewa kilang	1
			[Mak. 4m]
2b(i)		Jumlah pinjaman = harga belian – bayaran pendahuluan = RM56 034.51 – RM10 000 = RM46 034.51	1
		Faedah untuk 5 tahun = RM46 034.51 X 2.8 % X 5 tahun = RM6 444.83	1
		Jumlah yang dikenakan = RM 46 034.51 + RM6 444.83 = RM 52 479.34	1
		Bayaran ansuran = <u>RM 52 479.34</u> 60 bulan = RM874.66 sebulan	1
		Nota : Jawapan akhir tepat BOD 3m	[Mak. 3m]
2(bii)	H1	Meringgankan beban kewangan pembeli	1
	H2	Dapat menikmati barang walaupun harga penuh belum	1
	H3	dijelaskan	1
	H4	Meningkatkan taraf hidup	1
	H5	Dapat merancang pembelian	1
		Dapat menggunakan barang tersebut	[Mak. 3m]

2c(i)		Pelaburan Hartanah/aset tetap	1m
2c(ii)		Kecairan	
	H1a	Rendah	1
	H1b	sukar ditukarkan kepada wang tunai apabila diperlukan	1
		Risiko	
	H2a	Tahap risiko sederhana/rendah	1
	H2b	harga hartanah bergantung kepada keadaan ekonomi/ pasaran hartanah sentiasa berubah	1
	H3a	Pulangan	1
	H3b	Dalam bentuk pendapatan semasa/bayaran sewa Keuntungan modal/kenaikan harga hartanah	1
			[Mak. 3m]
2d	F1	Kos sosial	1
	H1a	Pencemaran udara/pencemaran bunyi	1
	H1b	Masalah kesihatan/asma	1
	H1c	Masyarakat menanggung kos perubatan	1
	H1d	Peningkatan kos sara hidup	1
	F2	Faedah sosial	1
	H2a	Peluang pekerjaan meningkat/pengangguran berkurang	1
	H2b	Pendapatan meningkat	1
	H2c	Kuasa beli meningkat	1
	H2d	Kemudahan infrastruktur meningkat	1
	H2e	Pendapat negara meningkat	1
	H2f	Produktiviti meningkat	1
			[Mak. 6m]

3a	H1	Hanya satu firma sahaja mengeluarkan barang/	1
	H2	perkhidmatan	1
	H3	Keluaran tidak ada pengganti/ barang keluaran firma tidak dikeluarkan oleh firma lain	1
	H4	Kerajaan menentukan harga barang/perkhidmatan yang dikeluarkan	1
	H5	Tiada kebebasan keluar masuk industri/ wujud halangan atas kebebasan firma untuk keluar masuk pasaran	1
		Halangan dari segi perlindungan undang-undang/pemilikan faktor pengeluaran/ keperluan kos modal yang tinggi	[5m]
3b	H1	Cukai langsung	1
	H2	Beban cukainya tidak boleh dipindahkan kepada pihak lain	1
	H3	Dikenakan atas pemilik tanah	1
	H4	Bayaran cukai tanah adalah berbeza mengikut lokasi dan jenis tanah	1
			[Mak. 4m]
3c	H1	Pertumbuhan ekonomi meningkat	1
	H2	Penggunaan teknologi yang canggih	1
	H3	Produktiviti pekerja meningkat/ peningkatan kemahiran/ penggunaan kaedah pengeluaran yang baru	1
	H4	Pindahan teknologi yang canggih meningkatkan produktiviti	1
	H5	Meningkatkan pengeluaran	1
	H6	Meningkatkan kemahiran modal insan/ menyediakan program latihan	1
	H7	Meningkatkan modal pelaburan/ lebih banyak modal dibawa masuk ke Malaysia	1
	H8	Menggalakkan pertumbuhan aktiviti pengeluaran	1
	H9	Peningkatan pendapatan negara	1
	H10	Daya saing firma tempatan dapat ditingkatkan	1
			[Mak. 6m]

3d		<p>Imbangan akaun semasa</p> <p>H1 = Akaun barangan + Akaun perkhidmatan + Akaun</p> <p>H2 pendapatan</p> <p>H3 = <math>41.5 + (-13.3) + (-9.2) + (-7.1)</math> = RM11.9billion</p> <p>H4 Tafsir:</p> <p>H5 Lebihan akaun semasa</p> <p>Jumlah penerimaan kewangan lebih besar daripada jumlah pembayaran kewangan</p>	<p>1</p> <p>1</p> <p>1</p> <p>1</p> <p>1</p> <p>[5m]</p>
----	--	--	--

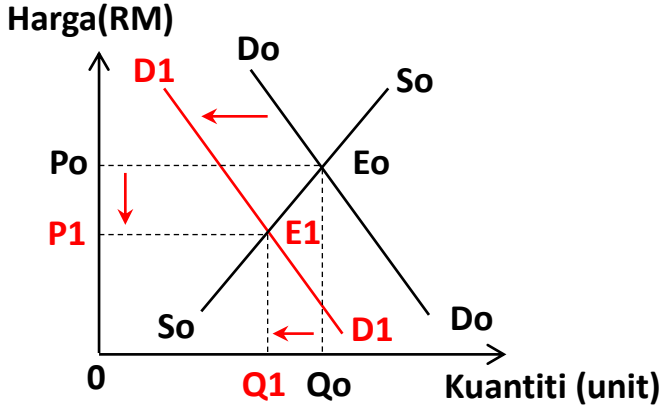


Soalan	Butiran	Markah	
4(a)	H1	Sektor utama / primer	1
	H2	Bidang Perikanan	1
	H3	Berasaskan sumber semulajadi	1
	H4	Contoh aktiviti Pembalakan, pertanian, perlombongan dan kuiri	1
	H5	Sokongan kepada sektor kedua	1
	H6	Tidak melibatkan pemprosesan	1
	H7	Peluang pekerjaan terhad	1
		Maks : 4m	
4(b)	<p>The graph shows a downward-sloping demand curve <math>D_0</math> and two upward-sloping supply curves, <math>S_0</math> and <math>S_1</math>. <math>S_1</math> is to the left of <math>S_0</math>, as indicated by an arrow. The initial equilibrium <math>E_0</math> is at the intersection of <math>D_0</math> and <math>S_0</math>, with price <math>P_0</math> and quantity <math>Q_0</math>. The new equilibrium <math>E_1</math> is at the intersection of <math>D_0</math> and <math>S_1</math>, with a higher price <math>P_1</math> and a lower quantity <math>Q_1</math>. Dashed lines connect these points to the axes.</p>	3m	
	H1	Disebabkan faktor musim / tengkujuh	1
H2	Keseimbangan asal $E_0$ / Harga $P_0$ / Kuantiti $Q_0$	1	
H3	Keluk $S_0S_0$ beralih ke $S_1S_1$ / beralih ke kanan	1	
H4	Berlaku lebihan DD / kekurangan SS	1	
H5	Keseimbangan baru $E_1$ / Harga baru $P_1$	1	
H6	Harga meningkat ke $P_1$	1	
H7	Kuantiti penawaran berkurang	1	
		7 markah	
	Nota : 1. Rajah lengkap tanpa huraian – 3m 2. Huraian tanpa rajah - maksimum 3m		

Soalan	Butiran	Markah
4(c)	<p><b>Tahap 1</b></p> <ul style="list-style-type: none"> <li>• Pengetahuan yang terhad tentang teori atau konsep ekonomi</li> <li>• Penjelasan umum dan terhad</li> <li>• Menyenaikan fakta sahaja / fakta tidak dijelaskan</li> <li>• Tidak menyatakan huraian / contoh relevan</li> </ul> <p><b>Tahap 2</b></p> <ul style="list-style-type: none"> <li>• Dapat menjelaskan / menghubungkait teori dan konsep ekonomi dengan situasi yang diberi dengan betul</li> <li>• Huraian / keterangan yang relevan</li> <li>• Boleh menghubungkait isu yang diberi tetapi kurang relevan</li> <li>• Huraian terhad</li> </ul> <p><b>Tahap 3</b></p> <ul style="list-style-type: none"> <li>• Fakta + huraian tentang tindakan / cadangan untuk mengatasi situasi lengkap dan mendalam</li> <li>• Keterangan betul, tepat, sangat jelas dan matang</li> <li>• Mengemukakan idea yang bernas, kreatif dan rasional</li> <li>• Boleh menghubungkait isu yang diberi dengan contoh yang betul / tepat</li> </ul> <p><b>Contoh Jawapan :</b></p> <ul style="list-style-type: none"> <li>- Tidak beli ikan</li> <li>- Membeli barang pengganti</li> <li>- Contohnya daging / ayam / telur</li> <li>- Ternak / pelihara ikan sendiri</li> <li>- Contoh ternak ikan keli /talipia dalam kolam / bekas yang sesuai</li> <li>- Menggunakan makanan ikan diproses sendiri</li> <li>- Kos lebih rendah</li> <li>- Ternak / Pelihara ayam untuk menggantikan ikan</li> <li>- Permintaan ikan berkurang</li> <li>- Penawaran melebihi permintaan</li> <li>- Harga akan menurun</li> <li>- Kerajaan kawal harga ikan (barang kawalan)</li> <li>- Membuat pemantauan harga</li> <li>- Menyediakan saluran aduan untuk masyarakat</li> <li>- Mengenakan denda / kopmaun kepada pembekal yang menaikkan harga ikan</li> </ul>	<p>[1 – 3 m]</p> <p>[4 – 6 m]</p> <p>[7 – 9 m]</p>

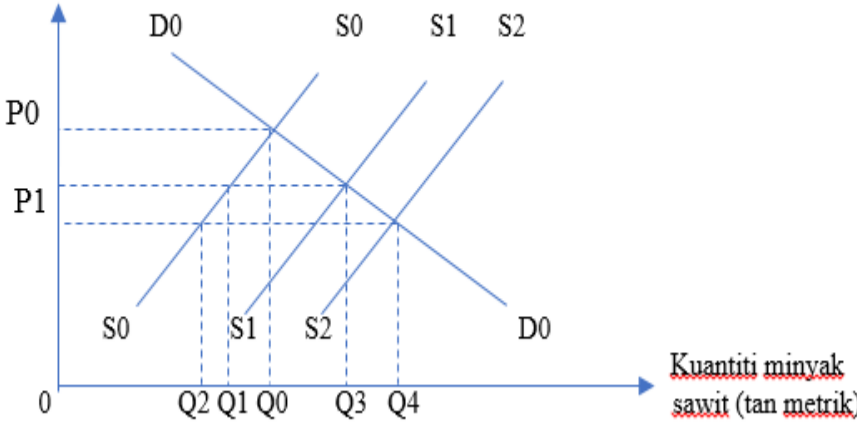


Soalan	Butiran	Markah
	<p><b>Tahap 3</b></p> <ul style="list-style-type: none"> <li>• Huraian yang sangat jelas dan terperinci tentang tindakan untuk mengatasi kenaikan kos sara hidup golongan berpendapatan rendah dan sederhana</li> <li>• Fakta yang dikemukakan sangat tepat, jelas dan mengaitkan dengan situasi ekonomi / mengaitkan kesan tindakan yang dilakukan dengan jelas dan terperinci</li> <li>• Mengemukakan contoh / bukti yang betul dan tepat serta dikaitkan dengan isu ekonomi yang dinyatakan.</li> </ul> <p>Contoh :</p> <ul style="list-style-type: none"> <li>- <b>Mengubah cara hidup</b></li> <li>- Mengikut kesesuaian keadaan semasa yang serba mahal.</li> <li>- mengubah kadar perbelanjaan bersesuaian dengan kemampuan dan keperluan hidup.</li> <li>- Contohnya, jika hobi seseorang yang minat menunggang motosikal, demi penjimatan kini hanya jarang-jarang "ride" menunggang motosikal bersiar mengunjungi sesuatu tempat.</li> <li>- <b>Perbelanjaan berhemah dan berjimat cermat</b></li> <li>- Melakukan perbelanjaan secara berhemah dengan cara membeli barang mengikut keperluan dan mengurangkan pembelian barang kehendak.</li> <li>- Mengurangkan perbelanjaan yang tidak perlu</li> <li>- Memastikan perbelanjaan tidak melebihi pendapatan</li> <li>- Menukar simpanan wang kepada matawang yang lebih kukuh atau aset yang lebih kukuh seperti emas</li> <li>- <b>Membuat tabungan</b></li> <li>- Disiplinkan diri dengan membina sikap menabung untuk masa depan sebagai pelaburan dan bekalan dana kecemasan.</li> <li>- Apabila tabungan meningkat, maka perbelanjaan penggunaan akan berkurang.</li> <li>- Individu akan memperoleh faedah atau dividen daripada tabungan tersebut dan meningkatkan pendapatan.</li> <li>- Contoh : faedah tabungan atau pelaburan saham amanah</li> <li>- <b>Membuat kerja sampingan / perniagaan on line</b></li> <li>- Kerja sampingan online adalah satu cara menambah pendapatan bagi menangani peningkatan kos sara hidup kerana ia boleh dilakukan di rumah tanpa sebarang kos.</li> <li>- Contoh perniagaan on line dan kesan positif perniagaan on line kepada individu</li> </ul>	<p>[7 – 9 m]</p>

Soalan	Butiran	Markah
6(a)	<p>H1 Ganjaran yang diterima oleh individu yang bekerja dengan majikan / orang lain</p> <p>H2 Upah boleh dibayar mengikut jam atau bilangan hari bekerja</p> <p>H3 Kadar upah yang dibayar bergantung kepada pengalaman kerja / kemahiran yang dimiliki / kelayakan akademik / risiko pekerjaan / kesatuan sekerja</p> <p>H4 Merupakan pendapatan yang produktif</p> <p>H5 Upah terbahagi kepada dua iaitu upah wang dan upah nominal</p>	<p>1</p> <p>1</p> <p>1</p> <p>1</p> <p>Maks: 4 m</p>
5(b)	 <p>H5 berlaku pengurangan permintaan</p> <p>H6 keluk permintaan beralih ke kiri iaitu dari <math>D_0D_0</math> ke <math>D_1D_1</math></p> <p>H7 keseimbangan pasaran berubah dari <math>E_0</math> ke <math>E_1</math></p> <p>H8 harga keseimbangan menurun dari <math>P_0</math> ke <math>P_1</math></p> <p>H9 kesannya harga keseimbangan menurun sebanyak <math>P_0P_1</math></p> <p>H10 kuantiti keseimbangan menurun dari <math>Q_0</math> ke</p> <p>H11 kesannya kuantiti keseimbangan menurun sebanyak <math>Q_0Q_1</math></p> <p>H12 bila berlaku pengurangan permintaan tetapi</p> <p>H13 penawaran tetap, maka lebihan penawaran berlaku</p>	<p>Rajah lengkap = 4m</p> <p>1</p> <p>1</p> <p>1</p> <p>1</p> <p>1</p> <p>1</p> <p>1</p> <p>1</p> <p>1</p>

Soalan	Butiran	Markah
6(c)	<p><b>Tahap 1</b></p> <ul style="list-style-type: none"> <li>• Pengetahuan yang terhad tentang tujuan kerajaan memberi insentif</li> <li>• Fakta tidak dijelaskan</li> <li>• Jawapan secara umum</li> </ul> <p><b>Tahap 2</b></p> <ul style="list-style-type: none"> <li>• Berupaya mengaplikasi fakta, teori dan prinsip asas ekonomi dengan jelas berkaitan dengan tujuan kerajaan memberi insentif</li> <li>• Maklumat dijelaskan dengan agak teratur</li> <li>• Idea disampaikan adalah logik dan berkaitan</li> <li>• Jawapan satu sisi (Hanya jelaskan 1 unit ekonomi sahaja)</li> </ul> <p><b>Tahap 3</b></p> <ul style="list-style-type: none"> <li>• Mengemukakan idea yang bernas, kreatif dan rasional berkaitan tujuan kerajaan memberi insentif</li> <li>• Fakta yang dikemukakan sangat jelas, tepat dan berkaitan</li> <li>• Mengemukakan bukti/ccontoh/rajah yang betul dan tepat</li> </ul> <p><u>Contoh Jawapan:</u></p> <ul style="list-style-type: none"> <li>- Individu terpaksa menyediakan belanjawan peribadi yang baharu dalam menghadapi pengurangan gaji.</li> <li>- Membantu pengguna menyelaraskan pendapatan dengan perbelanjaan mengikut pendapatan yang baharu.</li> <li>- Perbelanjaan akan dibuat mengikut kemampuan dan tiada pembaziran.</li> <li>- Mengutamakan keperluan dahulu.</li> <li>- Berbelanja secara berhemah</li> <li>- Dapat mengelakkan inflasi.</li> <li>- Contoh belanjawan peribadi sebelum dan selepas pengurangan gaji.</li> <li>- Membuat perbandingan harga barang di pasaran.</li> <li>- Boleh membandingkan harga barang secara dalam talian memandangkan masalah Covid19 yang melanda Malaysia.</li> <li>- Menjimatkan kos pengangkutan.</li> <li>- Bekerja sambilan / lebih masa.</li> <li>- Membuka perniagaan menjual nasi lemak / jualan atas talian.</li> <li>- Dapat menjana keuntungan.</li> <li>- Berbelanja apabila ada potongan harga / diskaun.</li> <li>- Dapat menjimatkan wang.</li> <li>- Tidak membeli di restoran makanan segera seperti KFC,</li> </ul>	<p>[1 – 3 m]</p> <p>[4 – 6m]</p> <p>[4 – 6m]</p>

	<p>McDonalds, Starbuck dan lain-lain.</p> <ul style="list-style-type: none"> <li>- Amalan bercucuk tanam sayur-sayuran seperti kobis, kangkung dan ubi kayu sedikit sebanyak menjimatkan perbelanjaan.</li> <li>- Lebihan hasil sayur-sayuran dapat dijual untuk menjana keuntungan.</li> </ul>	
--	---	--

Soalan	Butiran	Markah
7(a)	H1 Mengurangkan kos pengeluaran H2 Harga barang keluaran tempatan / eksport lebih murah H3 Lebih berdaya saing di pasaran antarabangsa H4 Permintaan terhadap barang keluaran tempatan akan meningkat H5 penawaran barang oleh pengeluar tempatan akan meningkat H6 Jumlah barang diimport akan berkurang H7 Keuntungan pengeluar tempatan meningkat	1  1 1  1 1 Maks : 4 m
7(b)	<p data-bbox="327 678 464 712">Harga (RM)</p>  <p data-bbox="1013 1097 1204 1164">Kuantiti minyak sawit (tan metrik)</p> <p data-bbox="319 1198 1276 1926">                         H1 Sebelum berlaku perdagangan antarabangsa, keseimbangan pasaran dicapai pada titik E0                          H2 Keluk permintaan D0D0 bersilang dengan keluk penawaran S0S0                          H3 Tingkat harga dan kuantiti keseimbangan masing-masing dicapai pada P0 dan Q0                          H4 Selepas berlaku perdagangan antarabangsa, keluk penawaran baharu ialah S1S1.                          H5 Titik keseimbangan berubah ke E1                          H6 Harga keseimbangan menurun ke P1 dan kuantiti keseimbangan bertambah ke Q3                          H7 Jumlah penawaran minyak sawit dalam negara sebanyak 0Q1                          H8 Jumlah minyak sawit import sebanyak Q1Q3                          H9 Selepas pemberian subsidi, keluk penawaran beralih ke S2S2.                          H10 Titik keseimbangan berubah ke E2                          H11 Harga keseimbangan menurun ke P2 dan kuantiti keseimbangan bertambah ke Q4.                          H12 Jumlah minyak masak yang diimport berkurang menjadi.Q2Q                     </p>	<p data-bbox="1324 952 1452 1097">Rajah lengkap = 3m</p> <p data-bbox="1372 1198 1396 1892">1 1 1 1 1 1 1 1 1 1</p>



	<p>H13 Jumlah minyak sawit yang diimport selepas subsidi Q2Q0 adalah lebih kecil jika dibandingkan dengan sebelum pemberian subsidi, Q1Q3</p> <p>Nota : Rajah lengkap mengandungi:</p> <ul style="list-style-type: none"> <li>- Paksi x, paksi y, titik asalan – 1m</li> <li>- Keluk keseimbangan asal – 1m</li> <li>- Keseimbangan selepas p.a – 1m</li> <li>- Keseimbangan selepas subsidi – 1m</li> </ul>	<p>1</p> <p>Huraian = max 4m Total = 7m</p>
<p>7(c)</p>	<p><b>Tahap 1</b></p> <ul style="list-style-type: none"> <li>• Pengetahuan yang terhad tentang tujuan kerajaan memberi insentif</li> <li>• Fakta tidak dijelaskan</li> <li>• Jawapan secara umum</li> </ul> <p><b>Tahap 2</b></p> <ul style="list-style-type: none"> <li>• Berupaya mengaplikasi fakta, teori dan prinsip asas ekonomi dengan jelas berkaitan dengan tujuan kerajaan memberi insentif</li> <li>• Maklumat dijelaskan dengan agak teratur</li> <li>• Idea disampaikan adalah logik dan berkaitan</li> </ul> <p><b>Tahap 3</b></p> <ul style="list-style-type: none"> <li>• Mengemukakan idea yang bernas, kreatif dan rasional berkaitan tujuan kerajaan memberi insentif</li> <li>• Fakta yang dikemukakan sangat jelas, tepat dan berkaitan</li> <li>• Mengemukakan bukti/ccontoh/rajah yang betul dan tepat</li> </ul>	<p>[1 – 3m]</p> <p>[4 – 6m]</p> <p>[7 - 9m]</p>

Soalan	Butiran	Markah
	<p><b>Contoh jawapan:</b></p> <p>Saya bersetuju dengan pernyataan tersebut di mana pemberian subsidi akan menguntungkan semua pihak iaitu isi rumah, firma dan kerajaan.</p> <p>Bagi isi rumah, akan berlaku penjimatan perbelanjaan barang keperluan disebabkan harga beras yang semakin rendah. Tabungan isi rumah akan meningkat. Peluang pekerjaan meningkat menyebabkan taraf hidup juga akan meningkat.</p> <p>Bagi firma pula, kos pengeluaran menurun menyebabkan penawaran beras oleh pengeluar tempatan akan meningkat. Hasil dan keuntungan firma akan bertambah kerana berlaku peningkatan dalam permintaan isi rumah terhadap beras tempatan. Firma turut menambah peluang pekerjaan untuk meningkatkan pengeluaran.</p> <p>Bagi pihak kerajaan, beban kerajaan berkurangan disebabkan peningkatan guna tenaga dalam negara. Oleh itu kadar pengangguran dalam negara akan menurun. Hasil negara akan bertambah, KDNK berkembang akibat daripada kutipan cukai pendapatan individu dan pendapatan syarikat.</p> <p><b>Isi Rumah</b></p> <ul style="list-style-type: none"> <li>- harga beras tempatan menurun</li> <li>- secara relative lebih rendah dari beras import</li> <li>- permintaan terhadap beras tempatan meningkat</li> <li>- kos sara hidup jatuh/ kuasa beli meningkat</li> <li>- taraf hidup meningkat/pinjaman peribadi jatuh</li> <li>- tabungan meningkat</li> </ul> <p><b>Firma beras tempatan</b></p> <ul style="list-style-type: none"> <li>- kos pengeluaran jatuh</li> <li>- pengeluaran meningkat/ penawaran meningkat</li> <li>- Peluang pekerjaan bertambah</li> <li>- daya saing meningkat</li> <li>- keuntungan meningkat</li> <li>- Cukai pendapatan syarikat meningkat</li> </ul> <p><b>Kerajaan</b></p> <ul style="list-style-type: none"> <li>- Perbelanjaan kerajaan meningkat</li> <li>- hasil negara meningkat/kutipan cukai pendapatan syarikat meningkat/cukai pendapatan individu meningkat</li> <li>- Pengangguran berkurang</li> <li>- imbalan pembayaran menjadi positif/lebih/import beras berkurang</li> <li>- Aliran wang keluar berkurang</li> <li>- imej negara bertambah baik</li> </ul>	

**SKEMA JAWAPAN  
EKONOMI KERTAS 2 – SET 2**

Soalan	Jawapan		Skor
<b>1a</b>	F2	Modal	1
	H2	Alat ciptaan manusia yang digunakan untuk mengeluarkan barang dan perkhidmatan	1
	H2a	Contoh modal ialah bangunan / kilang / peralatan / mesin	1
	H2b	Pemilik modal mendapat ganjaran faedah	1
			<b>[Mak. 4 m]</b>
<b>1b</b>	F1	Apa yang hendak dikeluarkan	1
	H1a	Barang ekonomi melalui mekanisme harga	1
	H1b	Barang awam oleh kerajaan	1
	F2	Berapa yang hendak dikeluarkan	1
	H2a	Barang ekonomi melalui mekanisme pasaran	1
	H2b	Barang awam mengikut keperluan rakyat	1
	F3	Bagaimana hendak dikeluarkan	1
	H3a	Barang ekonomi cara yang dapat memaksimumkan untung	1
	H3b	Barang awam cara yang dapat memaksimumkan kebajikan masyarakat	1
	F4	Untuk siapa dikeluarkan	1
	H4a	Barang ekonomi corak agihan pendapatan wang	1
	H4b	Barang awam, untuk semua masyarakat	1
			<b>[Mak. 6 m]</b>
<b>1c</b>	F1	Harga barang lain	1
	H1a	Barang penganap/pengganti	1
	H1b	Contoh barang	1
	F2	citarasa	1
	H2a	Fesyen, kesedaran kesihatan, iklan	1
	H2b	contoh	1
	F3	Pendapatan	1
	H3	Perdapatan meningkat dd meningkat dan sebaliknya	1
	F4	Musim	1
	H4	Musim perayaan, cuti sekolah	1
	F5	Jangkaan harga masa depan	1
	H5	Harga dijangka naik dd masa kini naik dan sebaliknya	1
	F6	Dasar kerajaan	1
	H6	Laksanakan cukai dan undang-undang	1
			<b>[Mak. 6 m]</b>
<b>1d</b>	H1	Permintaan melebihi penawaran	1
	H2	Lebih permintaan 12 unit	1
	H3	Harga dibawah harga keseimbangan	1
	H4	Harga akan cenderung naik	1

<b>2a</b>	H5	Permintaan akan berkurangan	1
	H6	Penawaran akan naik	1
			<b>[Mak. 4 m]</b>
<b>2a</b>	F1	Alat perantaraan pertukaran	
	H1a	Wang memudahkan urusan jual beli dijalankan kerana wang diterima umum sebagai medium pertukaran	
	H1b	H1b Contohnya wang diperlukan untuk membeli kereta kia spotage	
	F2	F2 Alat pengukur nilai	
	H2a	H2a Nilai sesuatu barang dapat diukur dengan sebutan harga / RM	
	H2b	Contohnya harga kereta Kia Optima ialah RM 143,043	
			<b>[Mak. 4 m]</b>
<b>2b</b>	F1	Barang tahan lama	1
	H1a	Tempoh penggunaan melebihi setahun	1
	H1b	Melibatkan perbelanjaan yang besar	1
	F2	Barang tidak tahan lama	1
	H2a	Tempoh penggunaan kurang setahun	1
	H2b	Melibatkan perbelanjaan yang kecil	1
	F3	Perkhidmatan	1
	H3a	Mempunyai nilai yang hamper tetap setiap bulan	1
	H3b	Internet, pengangkutan, kesihatan, pelancongan, bil elektrik	1
			<b>[Mak. 6 m]</b>
<b>2c</b>	Persamaan : kedua-dua input digunakan dalam proses pengeluaran		
	Perbezaan :		
	Input tetap	Input berubah	
	Kuantiti tetap pada setiap tingkat output	Kuantiti berubah mengikut output	
	Wujud walau pada tingkat output sifar	Tidak wujud pada output sifar	
	Jangka pendek	Jangka pendek dan panjang	
Contoh: mesin , bangunan kilang dan tanah	Contoh : bahan mentah dan buruh		
			<b>[Mak. 6 m]</b>
<b>2d(i)</b>	F1	Merupakan pengeluaran jangka masa pendek	1
	H1	Ini kerana terdapat input tetap dan input berubah	1
			<b>[Mak. 2 m]</b>

<b>2d(ii)</b>		<p>Nilai R (Keluaran purata) = Jumlah keluaran / Input berubah = 20 / 5 = 4 unit [1m]</p> <p>Nilai T (Keluaran sut) = Perubahan jumlah keluaran / Perubahan Input berubah = (16-20) / (7-6) = -4 unit [1m]</p>	1
			1
			<b>[Mak. 2m]</b>
<b>3a(i)</b>	H1	= USD8000 X RM4.17	
	H2	= RM 33, 360.00	
			<b>[Mak. 2 m]</b>
<b>3a(ii)</b>	H1	<p>Julai 2022 = USD8000 X RM4.42</p>	1
	H2	RM 35,360.	1
	H3	Perbezaan = RM 35,360.00 – RM 33, 360.00 = RM 2000.00	1
	H4	Terpaksa membayar lebih / tambahan kos	1
	H5	Kerana nilai RM turun	1
	H6	Kerana nilai RM turun	1
	H7	Harga import secara relatif menjadi mahal	1
	H8	Lebih menguntungkan sekiranya bayaran dibuat pada Mei 2021	1
			<b>[Mak. 6 m]</b>
<b>3b(i)</b>	H1	Permintaan RM meningkat	
	H2	Penawaran RM tetap	
	H3	Wujud lebih permintaan terhadap RM	
	H4	Nilai RM akan meningkat	
			<b>[Mak. 3 m]</b>
<b>3b(ii)</b>	H1	Penawaran RM meningkat	1
	H2	Permintaan RM tetap	1
	H3	Wujud lebih penawaran terhadap RM	1
	H4	Nilai RM akan menurun	1
			<b>[Mak. 3 m]</b>
<b>3c(i)</b>	H1	Lebih akaun semasa	1
			<b>[Mak. 1 m]</b>

<b>3c(ii)</b>	F1	Peningkatan dalam pendapatan negara	1
	H1	Peningkatan permintaan untuk eksport barang dan perkhidmatan	1
	F2	Peningkatan guna tenaga	1
	H2	Peningkatan permintaan untuk barang eksport akan mewujudkan lebih banyak peluang pekerjaan	1
	F3	Peningkatan taraf Hidup	1
	H3	Kewujudan lebih banyak peluang pekerjaan akan meningkatkan pendapatan masyarakat dan seterusnya meningkatkan kuasa beli dan taraf hidup penduduk	1
	F4	Inflasi	1
	H4	Harga barang dan perkhidmatan juga meningkat	1
	F5	Peningkatan kadar pertukaran asing	1
	H5	Permintaan terhadap mata wang tempatan di pasaran luar negara bertambah	1
			<b>[Mak. 5 m]</b>
<b>4a</b>	F1	Apa yang hendak dikeluarkan	1
	H1	Pengeluaran penyaman udara	1
	F2	Untuk siapa hendak dikeluarkan	1
	H2	Golongan M40/pertengahan	1
			<b>[Mak. 4 m]</b>
<b>4b</b>	F1	Kekurangan	1
	H1a	Kekurangan modal	1
	H1b	Hanya mempunyai RM 500 000	1
	H1c	Untuk mengeluarkan penapis air dan penyaman udara serentak	1
	F2	Pilihan	1
	H2a	Firma memilih untuk mengeluarkan penyaman udara	1
	H2b	Penyaman udara lebih memaksimumkan keuntungan	1
	F3	Kos lepas	1
	H3a	Output/keluaran kedua terbaik yang terpaksa dilepaskan	1
	H3b	Kos lepasnya ialah penyaman udara	1
			<b>[Mak. 7 m]</b>
<b>4c</b>	<b>Tahap 1 [1 – 3 m]</b>		
	<ul style="list-style-type: none"> <li>Menyata pendirian secara umum/pendirian jelas</li> </ul>		

- Menyenaikan fakta / isi sahaja tanpa huraian
- Penjelasan tindakan firma sangat terhad dan kurang difahami

**Tahap 2 [4 – 6 m]**

Menyata pendirian dengan jelas

- Fakta + huraian / idea masih tepat/ logik/ berkaitan
- Keterangan bercampur – tepat dan kurang tepat
- Bukti - Rajah umum/ tidak lengkap
- Huraian rajah terhad
- Huraian tindakan firma Hero masih tepat

**Tahap 3 [7 – 9 m]**

Mempunyai pendirian yang jelas

- Fakta + huraian dan kesan kepada ekonomi adalah sangat tepat
- Keterangan betul, sangat jelas, matang dan mendalam tentang tindakan firma Hero
- Bukti - Rajah lengkap/ tepat/ bersesuaian
- Huraian rajah lengkap
- Mengemukakan kesimpulan/ dapatan/ rumusan sendiri
- Mengemukakan idea/ pandangan yang bernas, kreatif dan rasional

**Contoh Jawapan**

- Setuju
- Permintaan meningkat/sebab tinggal di rumah
- Perniagaan secara online
- Promosi
- Strategi harga
- Perkhimatan penghantaran
- Perkhidmatan selepas membeli/service
- Mendapatkan bantuan kerajaan
- R&D
  
- Tak setuju
- Kekurangan pekerja
- Pengeluaran menurun
- Pergerakan pelanggan terkawal
- Pendapatan isi rumah berkurangan /jimat
- Jualan berkurang
- Mementingka barang keperluan
- 

<b>5a</b>	H1	Deflasi/ kemelesetan ekonomi	1

	H2	Pengangguran tinggi	1
	H3	Terdapat buruh yang sanggup bekerja tetapi tidak mendapat pekerjaan	1
	H4	Kadar pengangguran melebihi 4%	1
	H5	Lebihan penawaran buruh	1
	H6	Pembaziran faktor ekonomi/ merugikan negara	1
	H7	Pendapatan isi rumah menurun	1
	H8	Kuasa beli menurun	1
	H9	Permintaan agregat menurun	1
	H10	Stok barang berlebihan	1
	H11	Firma kerugian	1
	H12	Aktiviti ekonomi perlahan	1
			<b>[Mak. 5 m]</b>
<b>5b</b>	H1	Dasar kewangan mengembang	1
	H2	Melonggarkan syarat sewa beli	1
	H3	Tempon bayaran balik pinjaman dipanjangkan	1
	H4	Menambah bekalan wang dalam pasaran	1
	H5	Penawaran wang bertambah	1
	H6	Untuk mengatasi masalah pengangguran/kemelesetan ekonomi	1
	H7	Aktiviti pelaburan meningkat	1
	H8	Peluang pekerjaan meningkat	1
	H9	Kadar pengangguran menurun	1
	H10	Pendapatan masyarakat meningkat	1
	H11	Kuasa beli pengguna meningkat	1
	H12	Perintaan agregat meningkat	1
	H13	Tingkat harga umum meningkat	1
			<b>[Mak. 6 m]</b>
<b>5c</b>		<p><b>Tahap 1 [1 – 3 m]</b></p> <ul style="list-style-type: none"> <li>• Menyata pendirian secara umum</li> <li>• Menyenaikan fakta / isi sahaja tanpa huraian</li> <li>• Penjelasan kesan moratorium terhadap ekonomi sangat terhad dan kurang difahami</li> </ul> <p><b>Tahap 2 [4 – 6 m]</b></p> <ul style="list-style-type: none"> <li>• Menyata pendirian</li> <li>• Fakta + huraian / idea masih tepat/ logik/ berkaitan</li> <li>• Keterangan bercampur – tepat dan kurang tepat</li> <li>• Bukti - Rajah umum/ tidak lengkap</li> <li>• Huraian rajah terhad</li> </ul> <ul style="list-style-type: none"> <li>• Huraian kesan moratorium terhadap ekonomi masih tepat</li> </ul>	



		<p><b>Tahap 3 [7 – 9 m]</b></p> <ul style="list-style-type: none"> <li>• Mempunyai pendirian yang jelas</li> <li>• Fakta + huraian dan kesan kepada ekonomi adalah sangat tepat</li> <li>• Keterangan betul, sangat jelas, matang dan mendalam tentang kesan moratorium terhadap ekonomi</li> <li>• Bukti - Rajah lengkap/ tepat/ bersesuaian</li> <li>• Huraian rajah lengkap</li> <li>• Mengemukakan kesimpulan/ dapatan/ rumusan sendiri</li> <li>• Mengemukakan idea/ pandangan yang bernas, kreatif dan rasional</li> </ul> <p><b>Contoh Jawapan</b></p> <ul style="list-style-type: none"> <li>• Meningkatkan pendapatan boleh guna</li> <li>• Meringankan beban kewangan</li> <li>• Meningkatkan kuasa beli</li> <li>• Boleh berbelanja /barang keperluan</li> <li>• Mengurangkan kos sara hidup</li> <li>• Boleh menabung</li> <li>• Modal berniaga</li> <li>• Kurangkan hutang</li> <li>• Tingkatkan kepuasan</li> <li>• Memperoleh barang lebih berkualiti</li> <li>• Aliran wang bertambah</li> <li>• Permintaan naik</li> <li>• Penawaran meningkat</li> <li>• Guna tenaga bertambah</li> <li>• Keuntungan firma naik</li> <li>• Firma kembangkan perniagaan/ pelaburan</li> <li>• Peluang pekerjaan bertambah</li> <li>• Pendapatan negara meningkat</li> <li>• Pertumbuhan ekonomi/ ekonomi stabil</li> <li>• Guna tenaga bertambah/kurangkan pengangguran</li> </ul>	
<b>6a</b>	H1	Defesit akaun semasa	1
	H2	Nilai import pendapatan bertambah	1
	H3	Pembayaran pendapatan ke negara luar akan bertambah	1
	H4	Jumlah pembayaran pendapatan melebihi jumlah penerimaan pendapatan	1
	H5	Defesit akaun pendapatan	1

	H6	Bayaran upah akan mengalir kepada warga asing dalam pendapatan rimer	1
	H7	Kiriman wang oleh pekerja asing ke luar negara untuk akaun sekunder	1
			<b>[Mak. 5 m]</b>
<b>6b</b>		<p><b>Tahap 1 [1 – 3 m]</b></p> <ul style="list-style-type: none"> <li>• Pengetahuan tentang kesan kemasukan buruh asing sangat terhad</li> <li>• Menyenaraikan fakta / isi sahaja tanpa huraian</li> <li>• Huraian kesan kemasukan pekerja asing tidak dijelaskan dengan baik dan kurang difahami</li> </ul> <p><b>Tahap 2 [4 – 6 m]</b></p> <ul style="list-style-type: none"> <li>• Fakta + huraian / idea masih tepat/ logik/ berkaitan</li> <li>• Keterangan huraian kesan masih tepat/ relevan</li> <li>• Bukti - Rajah umum/ tidak lengkap</li> <li>• Huraian rajah terhad</li> <li>• Huraian kesan <b>satu sisi</b> sahaja</li> </ul> <p><b>Tahap 3 [7 – 9 m]</b></p> <ul style="list-style-type: none"> <li>• Fakta + huraian dan kesan kebergantungan kepada pekerja asing yang betul dan jelas</li> <li>• Keterangan betul, sangat jelas, matang dan mendalam dan matang</li> <li>• Bukti - Rajah lengkap/ tepat/ bersesuaian</li> <li>• Huraian rajah lengkap</li> <li>• Mengemukakan kesimpulan/ dapatan/ rumusan sendiri</li> <li>• Mengemukakan idea/ pandangan yang bernas, kreatif dan rasional</li> </ul> <p>• Huraian kesan <b>dua sisi</b></p>	

7c		<p><b>Kesan Positif</b></p> <ul style="list-style-type: none"> <li>• Mempercepat pembinaan projek pembangunan / sektor pembinaan</li> <li>• Bekalan tenaga buruh mencukupi</li> <li>• Kos tenaga buruh lebih rendah</li> <li>• Keuntungan firma meningkat</li> <li>• Sektor perladangan/pertanian bekembang maju</li> <li>• Pendapatan negara naik/ levi</li> <li>• Aktiviti ekonomi berkembang/penawaran naik</li> <li>• KDNK negara meningkat</li> <li>• Pertumbuhan ekonomi</li> </ul> <p><b>Kesan Negatif</b></p> <ul style="list-style-type: none"> <li>• Bayaran upah akan mengalir ke luar</li> <li>• Kiriman wang oleh pekerja asing ke luar negara</li> <li>• Imbangan pembayaran defesit</li> <li>• Saingan kepada pekerja tempatan</li> <li>• Masalah jenayah</li> <li>• Kesihatan/ penyakit</li> <li>• PATI/ setingan/ kos pengurusan meningkat</li> <li>• Imej negara terjejas</li> </ul>	
	H1	Meningkat pelaburan kemudahan infrastruktur	1
	H1a	Bina lapangan terbang/pelabuhan	1
	H1b	Meningkatkan industri berorientasi eksport	1
	H2	Tingkatkan pelaburan dan peruntukan dalam pendidikan	1
		Latihan Menaikkan produktiviti sumber manusia / kemahiran/daya saing buruh	1
	H3	Tingkatkan pelaburan dan peruntukan sektor kesihatan	1
	H3a	Kesihatan yang baik menaikkan produktiviti sumber manusia	1
	H6	Mengurangkan import	1
	H7	Sekatan perdagangan/tarif/kuota	1
	H8	Kempen guna barang tempatan/ permintaan barang tempatan meningkat	1

	H9	Insentif pelaburan kepada pelaburan asing	1
	H10	Pelepasan cukai kepada pelaburan asing	1
	H11	Memberi subsidi eksport	1
	H12	Kelonggaran visa pelancong asing ke Malaysia	1
	H13	R&D/ meningkatkan daya produk tempatan/berdaya saing di peringkat antarabangsa	1
			<b>[Mak. 6 m]</b>
<b>7a</b>	H1	Pendapatan meningkat	1
	H2	Dapat menampung perbelanjaan semasa	1
	H3	Kadar kemiskinan berkurangan	1
	H4	Kebajikan penjawat awam terjaga	1
	H5	Tabungan meningkat	1
	H6	Permintaan/ Kuasa beli meningkat	1
	H7	Taraf hidup meningkat	1
	H8	Mengurangkan penghijrahan ke sektor swasta	1
	H9	Kos hidup/ beban hidup berkurang	1
	H10	Mempercepatkan mencapai cita-cita tertentu	1
			<b>[Mak. 4 m]</b>
<b>7b</b>		<p>The graph shows a supply curve (S) and two demand curves (D0 and D1). The vertical axis is labeled 'Harga (RM)' and the horizontal axis is 'Kuantiti (unit)'. The initial equilibrium is at E0 with price P0 and quantity Q0. A rightward shift in demand to D1 results in a new equilibrium at E1 with a higher price P1 and a higher quantity Q1. Arrows indicate the shift in the demand curve and the resulting changes in price and quantity.</p>	
	H1	Rajah lengkap	
	H2	Ada perubahan DD tetapi label tidak lengkap	1+1+1
	H3	Rajah keseimbangan asal sahaja dan lengkap dengan label	1+1
	H4	Rajah keseimbangan asal sahaja tetapi tidak lengkap	1
	H5	Pendapatan meningkat	1
	H6	Kesannya permintaan terhadap barang meningkat	1

	<p>H7 Keluk permintaan beralih ke kanan/ dari DoDo ke D1D1</p> <p>H8 Berlaku lebihan permintaan</p> <p>H9 Berlaku perubahan keseimbangan dari Eo ke E1</p> <p>H10 Harga keseimbangan meningkat dari P0 ke P1/</p> <p>H11 Kuantiti keseimbangan bertambah dari Q0 ke Q1</p>	<p>1</p> <p>1</p> <p>1</p> <p>1</p> <p>1</p>
	<p>Nota : Huraian tanpa rajah maksimum 3 markah</p>	<p>[Mak. 7 m]</p>
7c	<p><b>Tahap 1 [1 – 3 m]</b></p> <ul style="list-style-type: none"> <li>• Menyenaikan fakta / isi sahaja tanpa huraian</li> <li>• Pernyataan / keterangan umum</li> <li>• Penjelasan kesan terhadap firma dan kerajaan adalah kurang jelas/ tidak difahami</li> </ul> <p><b>Tahap 2 [4 – 6 m]</b></p> <ul style="list-style-type: none"> <li>• Fakta + huraian / idea masih tepat/ logik/ berkaitan</li> <li>• Keterangan bercampur – tepat dan kurang tepat</li> <li>• Bukti - Rajah umum/ tidak lengkap</li> <li>• Huraian rajah terhad</li> <li>• Huraian hanya dari satu sudut iaitu firma atau kerajaan (1 sisi)</li> </ul> <p><b>Tahap 3 [7 – 9 m]</b></p> <ul style="list-style-type: none"> <li>• Fakta + huraian dan kesan kepada firma dan kerajaan yang mendalam</li> <li>• Keterangan betul, sangat jelas, matang dan mendalam</li> <li>• Bukti - Rajah lengkap/ tepat/ bersesuaian</li> <li>• Huraian rajah lengkap</li> <li>• Mengemukakan kesimpulan/ dapatan/ rumusan sendiri</li> <li>• Mengemukakan idea/ pandangan yang bernas, kreatif dan rasional berkaitan tindakan oleh kedua pihak iaitu firma dan kerajaan</li> <li>• Huraian kesan kepada firma dan negara dengan tepat dan matang (2 sisi)</li> </ul> <p><b>Firma</b></p> <ul style="list-style-type: none"> <li>• Terpaksa bayar gaji lebih tinggi</li> <li>• Kos pengeluaran meningkat</li> <li>• Keuntungan berkurang</li> <li>• Penawaran barang akan dikurangkan</li> <li>• Pengambilan pekerja baru dikurangkan</li> <li>• Mengecilkan operasi</li> <li>• Ambil pekerja asing untuk kurangkan kos</li> </ul>	
	<ul style="list-style-type: none"> <li>• Imej firma terjejas</li> <li>• Daya saing firma terjejas</li> </ul>	

	<ul style="list-style-type: none"> <li>• Bayaran cukai keuntungan lebih rendah</li> <li>• Dalam jangka panjang permintaan barangan firma bertambah kerana pendapatan masyarakat bertambah</li> </ul> <p><b>Negara/kerajaan</b></p> <ul style="list-style-type: none"> <li>• Permintaan agregat masyarakat bertambah</li> <li>• Peningkatan aktiviti ekonomi</li> <li>• Peningkatan pendapatan negara</li> <li>• Kerajaan mampu biayai projek pembangunan</li> <li>• Pertumbuhan ekonomi meningkat</li> </ul> <ul style="list-style-type: none"> <li>• Wujud pelbagai industri baru</li> <li>• Aktiviti pelaburan meningkat</li> <li>• Pertumbuhan ekonomi meningkat</li> </ul> <p>Nota : terima mana – mana jawapan yang sesuai</p>	
--	---	--

**PERATURAN PEMARKAHAN**  
**TICKET TO VICTORY EKONOMI SPM SET 3**

SOALAN	BUTIRAN		MARKAH
1(a)	<b>Isi rumah</b>	<b>Firma</b>	1+1
	<ul style="list-style-type: none"> <li>• Isi rumah menghadapi masalah kekurangan pendapatan</li> </ul>	<ul style="list-style-type: none"> <li>• Firma menghadapi masalah kekurangan sumber ekonomi/ factor pengeluaran / modal/ buruh</li> </ul>	1+1
	<ul style="list-style-type: none"> <li>• Isi rumah membuat pilihan untuk memaksimumkan kepuasan</li> </ul>	<ul style="list-style-type: none"> <li>• Firma membuat pilihan untuk memaksimumkan keuntungan</li> </ul>	1+1
	<ul style="list-style-type: none"> <li>• Kos lepas adalah barang kedua yang terbaik terpaksa dilepaskan</li> </ul>	<ul style="list-style-type: none"> <li>• Kos lepas adalah output kedua yang terbaik terpaksa dilepaskan</li> </ul>	1+1
_____			Mak 4m
1(b)	H1	meningkatkan sumber ekonomi / modal / buruh / tanah / bahan mentah dll	1
	H2	Buat pinjaman di bank/institusi kewangan / MARA / dll	1
	H3	Mendapatkan bantuan subsidi dari kerajaan	1
	H4	Contoh dapat bantuan kewangan / mesin / Jentera/dll	1
	H5	Jual saham syarikat	1
	H6	Akan meningkatkan sumber kewangan	1
	H7	Menyediakan kursus kemahiran/latihan kepada pekerja(buruh)	1
	H8	Tambah mesin/jentera/buruh/tanah(bahan mentah) dll	1
	H9	Tarik pelabur untuk melabur ke dalam firma/ tambah rakan kongsi	1
_____			Mak 4m

SOALAN	BUTIRAN	MARKAH
1(c)	<div style="text-align: center;"> </div> <p>H1 Penawaran merujuk kepada kuantiti sesuatu barang yang sanggup dan mampu dikeluarkan oleh pengeluar atau firma pada suatu tingkat harga tertentu dalam tempoh masa tertentu</p> <p>H2 Firma menawarkan barang berdasarkan harga barang tersebut</p> <p>H3 Jika harga meningkat, kuantiti ditawarkan meningkat / apabila harga turun, kuantiti ditawarkan menurun</p> <p>H4 Jika harga meningkat dari RM2 ke RM3, kuantiti ditawarkan meningkat dari 10 unit ke 15 unit</p> <p>H5 Jika harga turun dari RM4 ke RM3, kuantiti turun dari 20 unit ke 15 unit</p> <p>H6 Hubungan antara harga dan kuantiti penawaran adalah positif</p> <p>H7 Keluk penawaran mencerun ke atas dari kiri ke kanan</p> <p style="text-align: center;">Rajah maksimum 3m Tiada keluk maksimum 2 markah</p>	<p>Rajah lengkap dengan anak panah maks 3m</p> <p>1</p> <p>1</p> <p>1</p> <p>1</p> <p>1</p> <p>1</p> <p>1</p> <p>_____</p> <p>Mak 6m</p>



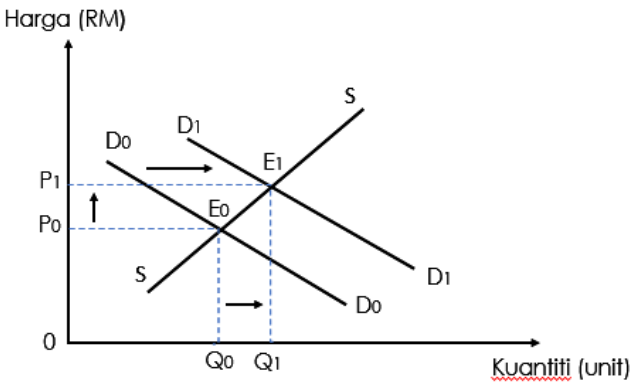
SOALAN	BUTIRAN	MARKAH
1(d)	<b>F1 Jenis Barangan</b>	1
	H1 Permintaan tak anjal berlaku jika sesuatu barang tidak boleh ditangguhkan/penting/ iaitu barang keperluan seperti pakaian dll	1
	<b>F2 Bilangan barang pengganti</b>	1
	H2 Permintaan tak anjal jika suatu barang sukar mencari barang pengganti	1
	<b>F3 Nisbah perbelanjaan dengan pendapatan</b>	1
	H3 Permintaan tak anjal berlaku jika perbelanjaan terhadap suatu barang hanya melibatkan peratusan yang kecil daripada pendapatan	1
	<b>F4 Faktor jangka masa</b>	1
	H4 Permintaan tak anjal berlaku dalam jangka masa pendek kerana pengguna tidak mempunyai masa yang cukup untuk mengubah corak penggunaan barang tersebut	1
	<b>F5 Kepentingan sesuatu barang</b>	1
	H5 Permintaan tidak anjal berlaku jika sesuatu barang itu penting kepada pengguna	1
	<b>F6 Bilangan kegunaan</b>	1
	H6 Permintaan tak anjal berlaku jika sesuatu barang mempunyai kegunaannya yang terhad	1
	<b>F7 Ketagihan</b>	1
	H7 Permintaan tak anjal mendatangkan ketagihan yang tinggi kepada pengguna terhadap sesuatu barang. Contoh dadah/rokok/kopi dll	1
	<b>F8 Ketahanan barang</b>	1
	H8 Permintaan tak anjal jika sesuatu barang itu tidak tahan lama/ cepat rosak seperti sayur-sayuran	1

SOALAN	BUTIRAN	MARKAH
2(a)	<p>H1 Mewujudkan sandaran minimum</p> <p>H2 dalam bentuk rizab antarabangsa</p> <p>H3 Campur tangan dalam pasaran pertukaran asing</p> <p>H4 dengan membeli atau menjual pertukaran asing bagi mempengaruhi nilai ringgit malaysia</p> <p>H5 Mengawal inflasi</p> <p>H6 dengan menggunakan alat-alat kewangan</p>	<p>1</p> <p>1</p> <p>1</p> <p>1</p> <p>1</p> <p>1</p> <p>_____</p> <p>Mak 4m</p>
2(b)(i)	<p>H1 • Arahan oleh pemegang akaun semasa/ akaun tabungan kepada bank</p> <p>H2 • untuk membuat bayaran tetap yang berulang pada tarikh-tarikh tertentu.</p> <p>H3 • Contohnya : bayaran premium insurans, ansuran bulanan rumah / kereta dll</p>	<p>1</p> <p>1</p> <p>1</p>
2(b)(ii)	<p>H1 • Arahan pemegang akaun semasa / tabungan kepada bank perdagangan</p> <p>H2 • Untuk membuat bayaran terus ke dalam akaun penerima</p> <p>H3 • Contohnya : pembayaran gaji, bonus, dividen</p>	<p>1</p> <p>1</p>
2(b)(iii)	<p>H1 • Arahan oleh pemegang akaun semasa/ akaun tabungan kepada bank</p> <p>H2 • untuk membuat bayaran yang tidak tetap pada tarikh pembayaran yang tidak tetap</p> <p>H3 • Contohnya : bayaran bil elektrik dan telefon dll</p>	<p>1</p> <p>1</p> <p>_____</p> <p>6m</p>





SOALAN	BUTIRAN	MARKAH
3(c)	H1 Membiayai import	1
	H2 Membayar balik pinjaman luar negara	1
	H3 Membuat pelaburan di luar negara	1
	H4 Mempertahankan nilai mata wang tempatan	1
3(d)(i)	18 000 X RM4	1
	= RM52 000	BOD 2 markah
	** wajib ada RM	
2(d)(ii)	H1 Nilai RM jatuh	1
	H2 Harga eksport Malaysia lebih murah	1
	H3 Jumlah/nilai eksport Malaysia ke Amerika Syarikat bertambah	1
	H4 Harga import dari Amerika Syarikat lebih mahal	1
	H5 Jumlah/nilai import berkurang	1
	H6 Imbangan dagangan positif / lebihan	_____
		Mak 5m

SOALAN	BUTIRAN	MARKAH
4(a)	H1 Bayaran pindahan H2 Pendapatan diterima tanpa menyumbang tenaga fizikal / mental / bekerja H3 Pendapatan tidak produktif H4 Kepada golongan B40 H5 Tidak perlu dibayar balik H6 Tidak dikenakan cukai pendapatan H7 Komponen perbelajaan mengurus kerajaan H8 Boleh meningkatkan jumlah pendapatan boleh guna / Meningkatkan kuasa beli rakyat / meningkatkan permintaan	1 1 1 1 1 1 1 1 ----- Mak 4m
4(b)	 <p>H1 Permintaan meningkat                      H2 Keluk beralih dari <math>D_0D_0</math> ke <math>D_1D_1</math> / beralih dari kiri ke kanan                      H3 Disebabkan peningkatan pendapatan /PBG/ kuasa beli                      H4 Berlaku lebih permintaan                      H5 Kesannya harga barangan akan meningkat dari <math>P_0</math> ke <math>P_1</math>                      H6 Titik keseimbangan akan berubah dari <math>E_0</math> ke <math>E_1</math>                      H7 Kuantiti meningkat / <math>Q_0</math> ke <math>Q_1</math></p>	Rajah lengkap label dan anak panah maks 4m 1 1 1 1 1 1 1 ----- Mak 7m

SOALAN	BUTIRAN	MARKAH
4(c)	<p><b>Tahap 1</b></p> <ul style="list-style-type: none"> <li>• Pengetahuan yang terhad tentang teori dan konsep ekonomi</li> <li>• Penjelasan umum dan terhad</li> <li>• Menyenaraikan fakta sahaja / fakta tidak dijelaskan</li> <li>• Tiada pendirian</li> </ul> <p><b>Tahap 2</b></p> <ul style="list-style-type: none"> <li>• Dapat menjelas / mengaplikasi teori dan konsep ekonomi</li> <li>• Huraian / keterangan relevan</li> <li>• Boleh menghubungkait isu yang diberi tetapi kurang relevan</li> <li>• Huraian rajah terhad</li> <li>• Pendirian tidak jelas</li> </ul> <p><b>Tahap 3</b></p> <ul style="list-style-type: none"> <li>• Kehendak soalan difahami sepenuhnya dengan menggunakan contoh / rajah yang betul berdasarkan situasi / tanpa situasi</li> <li>• Konsep / teori / prinsip berkaitan ekonomi difahami secara mendalam , digunakan, dianalisis dan dinilai</li> <li>• Huraian / keterangan / contoh . rajah / jadual yang diberi adalah betul dan tepat</li> <li>• Boleh menghubungkait isu yang diberi dengan contoh yang betul / tepat</li> <li>• Menyatakan pendirian dengan jelas</li> <li>• Membuat rumusan / kesimpulan yang relevan</li> </ul>	
	<p>Contoh</p> <p>Setuju</p> <ul style="list-style-type: none"> <li>• Pemberian BKH menyebabkan pendapatan individu meningkat / PBG meningkat</li> <li>• Individu akan meningkatkan pembelian</li> <li>• Permintaan berkesan meningkat</li> <li>• Stok firma berkurang</li> <li>• Keuntungan firma meningkat</li> </ul>	

	<ul style="list-style-type: none"> <li>• Peningkatan permintaan mengalakkan pengeluaran besar-besaran</li> <li>• Kos pengeluaran seunit dikurangkan</li> <li>• Keuntungan meningkat</li> <li>• Firma meningkatkan teknologi pengeluaran</li> <li>• Lebihan barangan boleh diekspot</li> <li>• Meluaskan pasaran</li> <li>• Keuntungan meningkat</li> <li>• Imej firma meningkat</li> <li>• Mengekalkan kewujudan firma</li> </ul>	
--	---	--



SOALAN	BUTIRAN	MARKAH
5(a)	H1 Pendapatan negara sebenar kurang daripada pendapatan negara potensi	1
	H2 Kerana faktor buruh sedia ada dalam negara tidak digunakan sepenuhnya	1
	H3 Penganggur tidak membayar cukai pendapatan	1
	H4 Pendapatan negara berkurang / merosot	1
	H5 Ketidakcekapan dalam pengeluaran	1
	H6 Pembaziran sumber ekonomi / faktor buruh	1
	H7 Menghalang pertumbuhan ekonomi	1
	H8 Taraf hidup rakyat menurun / merosot	1
		_____
		Mak 5m
5(b)	H1 Pengangguran kitaran berlaku kerana ekonomi negara dalam keadaan lembap	1
	H2 Negara melaksanakan PKP / semua negara	1
	H3 firma terpaksa memberhentikan operasi	1
	H4 Penduduk tidak bekerja / tidak boleh bekerja	1
	H5 Permintaan aggregate berkurang	1
	H6 Stok firma meningkat	1
	H7 Eksport/Import barangan tidak dibenarkan atas factor keselamatan	1
	H8 Pengeluaran firma berkurang / tiada	1
	H9 Firma mengurangkan bilangan buruh / memberhentikan buruh	1
	H10 Pengangguran meningkat	1
		_____
		Mak 6m

SOALAN	BUTIRAN	MARKAH
5(c)	<p><b>Tahap 1</b></p> <ul style="list-style-type: none"> <li>• Pengetahuan yang terhad tentang teori dan konsep ekonomi</li> <li>• Penjelasan umum dan terhad</li> <li>• Menyenaraikan fakta sahaja / fakta tidak dijelaskan</li> <li>• Tiada pendirian</li> </ul> <p><b>Tahap 2</b></p> <ul style="list-style-type: none"> <li>• Dapat menjelas / mengaplikasi teori dan konsep ekonomi</li> <li>• Huraian / keterangan relevan</li> <li>• Boleh menghubungkan isu yang diberi tetapi kurang relevan</li> <li>• Pendirian tidak jelas</li> </ul> <p><b>Tahap 3</b></p> <ul style="list-style-type: none"> <li>• Kehendak soalan difahami sepenuhnya dengan menggunakan contoh berdasarkan situasi / tanpa situasi</li> <li>• Konsep / teori / prinsip berkaitan ekonomi difahami secara mendalam , digunakan, dianalisis dan dinilai</li> <li>• Huraian / keterangan / contoh yang diberi adalah betul dan tepat</li> <li>• Boleh menghubungkan isu yang diberi dengan contoh yang betul / tepat</li> <li>• Menyatakan pendirian dengan jelas</li> <li>• Membuat rumusan / kesimpulan yang relevan</li> </ul>	
	<p>Contoh jawapan</p> <ul style="list-style-type: none"> <li>• Melahirkan pekerja yang berdisiplin</li> <li>• Meneroka ilmu baharu (BDR)</li> <li>• Merapatkan hubungan kekeluargaan</li> <li>• Meningkatkan literasi komputer</li> <li>• Sesi pembelajaran di rumah (PdPr)</li> <li>• Merapatkan hubungan murid dengan ibu bapa</li> <li>• Meningkatkan kemahiran mengajar / belajar secara online</li> <li>• Rehat yang mencukupi</li> <li>• Pemakanan yang sihat</li> <li>• Sikap bersederhana dalam pemakanan</li> </ul>	

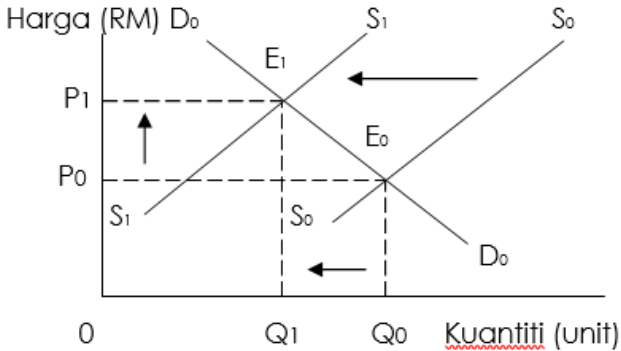
	<ul style="list-style-type: none"> <li>• Mengurangkan penularan virus COVID-19</li> <li>• Peningkatan kesedaran tentang kesihatan</li> <li>• Masyarakat lebih kreatif / inovatif</li> <li>• Masyarakat lebih harmoni / tolong menolong</li> </ul>	
--	---	--

SOALAN	BUTIRAN	MARKAH
6(a)	H1 keadaan kemelesetan ekonomi	1
	H2 akibat pelaksanaan PKP / penularan covid19	1
	H3 dasar kewangan mengembang	1
	H4 mengurangkan kadar faedah	1
	H5 tujuan untuk meningkatkan bekalan wang dalam ekonomi	1
	H6 kos pinjaman menurun / beban pinjaman berkurang	1
	H7 Kesannya jumlah pinjaman meningkat	1
	H8 Kuasa beli meningkat	1
	H9 Permintaan meningkat	1
	H10 Kemelesetan ekonomi dapat diatasi	1
		<hr/> Mak 5m

SOALAN	BUTIRAN	MARKAH
6(b)	<p><b>Tahap 1</b></p> <ul style="list-style-type: none"> <li>• Pengetahuan yang terhad tentang teori dan konsep ekonomi</li> <li>• Penjelasan umum dan terhad</li> <li>• Menyenaraikan fakta sahaja / fakta tidak dijelaskan</li> <li>• Tiada pendirian</li> </ul> <p><b>Tahap 2</b></p> <ul style="list-style-type: none"> <li>• Dapat menjelas / mengaplikasi teori dan konsep ekonomi</li> <li>• Huraian / keterangan relevan</li> <li>• Boleh menghubungkan isu yang diberi tetapi kurang relevan</li> <li>• Pendirian tidak jelas</li> </ul> <p>Tahap 3</p> <ul style="list-style-type: none"> <li>• Kehendak soalan difahami sepenuhnya dengan menggunakan contoh berdasarkan situasi / tanpa situasi</li> <li>• Konsep / teori / prinsip berkaitan ekonomi difahami secara mendalam , digunakan, dianalisis dan dinilai</li> <li>• Berupaya mengaplikasikan fakta berkaitan kadar faedah dengan betul, tepat dan jelas</li> <li>– Menganalisis kesan penurunan kadar faedah secara mendalam</li> <li>• Huraian / keterangan / contoh yang diberi adalah betul dan tepat</li> <li>• Boleh menghubungkan isu yang diberi dengan contoh yang betul / tepat</li> <li>• Menyatakan pendirian dengan jelas</li> <li>• Membuat rumusan / kesimpulan yang relevan</li> </ul>	
	<p>Contoh jawapan</p> <ul style="list-style-type: none"> <li>• Apabila kadar faedah diturunkan, kos pinjaman akan menurun</li> <li>• Individu / firma dapat meningkatkan pinjaman</li> <li>• Bekalan wang dalam ekonomi meningkat</li> </ul>	

	<ul style="list-style-type: none"> <li>• Meringankan beban kewangan masyarakat</li> <li>• Meningkatkan kuasa beli / permintaan terhadap barang dan perkhidmatan</li> <li>• Tabungan meningkat / ASB</li> <li>• Modal firma meningkat</li> <li>• Perniagaan skala besar</li> <li>• Untung meningkat</li> <li>• Eksport meningkat</li> <li>• Hasil kerajaan meningkat</li> <li>• Projek pembangunan meningkat</li> <li>• Kemudahan infrastruktur meningkat</li> <li>• Menggalakkan pelaburan yang dibuat oleh firma</li> <li>• Peruntukan untuk membuat R&amp;D akan bertambah</li> <li>• Lebih banyak inovasi dalam pengeluaran dapat dihasilkan</li> <li>• Daya saing firma akan meningkat</li> <li>• meningkatkan produktiviti atau mengembangkan operasi</li> <li>• Contohnya kemasukan mesin atau teknologi baharu</li> <li>• Pelaburan asing meningkat</li> <li>• Mengalakkan pertumbuhan ekonomi</li> </ul>	
--	--	--

SOALAN	BUTIRAN	MARKAH
6(c)	H1 • Dasar Fiskal Mengembang	1
	H2 • Bertujuan untuk meningkatkan permintaan / permintaan agregat	1
	H3 • Meningkatkan perbelanjaan pembangunan kerajaan	1
	H4 • Contohnya kerajaan membina lebih banyak hospital	1
	H5 • peluang pekerjaan meningkat	1
	H6 • Contohnya jururawat / doktor / contoh lain	1
	H7 • Pendapatan masyarakat meningkat	1
	H8 • mengurangkan kadar cukai pendapatan	1
	H9 • meningkatkan pendapatan boleh guna	1
	H10 • Kuasa beli / permintaan agregat meningkat	1
	H11 • Pengeluaran firma meningkat untuk memenuhi permintaan	1
	H12 • Peluang pekerjaan meningkat	1
	H13 • Pengangguran berkurang	1
	H14 • Taraf hidup masyarakat meningkat	1
	H15 • Kemelesetan dapat diatasi	1
		_____
		Mak 6m

SOALAN	BUTIRAN	MARKAH
7(a)	 <p>The graph shows a downward-sloping demand curve <math>D_0</math> and two upward-sloping supply curves, <math>S_0</math> and <math>S_1</math>. <math>S_1</math> is to the left of <math>S_0</math>, with an arrow pointing left between them. The initial equilibrium <math>E_0</math> is at the intersection of <math>D_0</math> and <math>S_0</math>, with price <math>P_0</math> and quantity <math>Q_0</math>. The new equilibrium <math>E_1</math> is at the intersection of <math>D_0</math> and <math>S_1</math>, with price <math>P_1</math> and quantity <math>Q_1</math>. Dashed lines connect these points to the axes. An upward arrow on the price axis indicates the increase from <math>P_0</math> to <math>P_1</math>. A leftward arrow on the quantity axis indicates the decrease from <math>Q_0</math> to <math>Q_1</math>.</p> <p>H1 Subsidi diberi kepada pengeluar minyak masak tulen tempatan 1</p> <p>H2 Penawaran minyak masak tulen botol berkurang 1</p> <p>H3 Keluk penawaran beralih ke kiri / dari <math>S_0S_0</math> ke 1</p> <p>H4 <math>S_1S_1</math> 1</p> <p>H5 Berlaku perubahan keseimbangan dari <math>E_0</math> ke <math>E_1</math> 1</p> <p>H6 Harga keseimbangan meningkat 1</p> <p>H7 Harga keseimbangan ialah <math>P_1</math> 1</p> <p>H8 Kuantiti keseimbangan ialah <math>Q_1</math> 1</p> <p>Harga keseimbangan meningkat sebanyak <math>P_0P_1</math></p> <p>Rajah lengkap = maks 4m</p>	<p>Rajah lengkap dengan label dan anak panah 4m</p> <hr/> <p>mak 6 m</p>

SOALAN	BUTIRAN	MARKAH
7(b)	<p><b>Tahap 1</b></p> <ul style="list-style-type: none"> <li>• Pengetahuan yang terhad tentang teori dan konsep ekonomi</li> <li>• Penjelasan umum dan terhad</li> <li>• Menyenaikan fakta sahaja / fakta tidak dijelaskan</li> <li>• Tiada pendirian</li> </ul> <p><b>Tahap 2</b></p> <ul style="list-style-type: none"> <li>• Dapat menjelas / mengaplikasi teori dan konsep ekonomi</li> <li>• Huraian / keterangan relevan</li> <li>• Boleh menghubungkan isu yang diberi tetapi kurang relevan</li> <li>• Pendirian tidak jelas</li> </ul> <p><b>Tahap 3</b></p> <ul style="list-style-type: none"> <li>• Kehendak soalan difahami sepenuhnya dengan menggunakan contoh berdasarkan situasi / tanpa situasi</li> <li>• Konsep / teori / prinsip berkaitan ekonomi difahami secara mendalam , digunakan, dianalisis dan dinilai</li> <li>• Mengemukakan idea / pandangan yang bernas, kreatif dan rasional berkaitan kesan pemberian subsidi terhadap ekonomi negara</li> <li>• Keterangan betul, sangat jelas, matang dan mendalam</li> <li>• Mengemukakan kesimpulan / dapatan / rumusan sendiri</li> <li>• Menghubungkan teori ekonomi dengan pelbagai tajuk (cross topic)</li> <li>• Jawapan 2 sisi (kesan positif dan kesan negatif pemansuhan subsidi)</li> <li>• Membuat rumusan / kesimpulan yang relevan</li> </ul>	
	<p>Contoh jawapan</p> <p><b>Kesan negatif pemansuhan subsidi</b></p>	



	<ul style="list-style-type: none"> <li>• Apabila subsidi dimansuhkan, harga minyak masak menjadi semakin mahal</li> <li>• Pengguna terpaksa membayar lebih untuk mendapatkan minyak masak</li> <li>• Meningkatkan perbelanjaan pengguna</li> <li>• Memberi kesan besar kepada golongan B40</li> <li>• Kuasa beli menurun</li> <li>• Kos sara hidup semakin meningkat</li> <li>• Taraf hidup rakyat terjejas</li> <li>• Pengurangan dalam permintaan menyebabkan firma mengurangkan pengeluaran</li> <li>• Untuk menampung kos pengeluaran yang semakin tinggi</li> <li>• Keuntungan firma merosot / jatuh</li> <li>• Firma terpaksa mengurangkan jumlah pekerja / pemberhentian pekerja</li> <li>• Kadar pengangguran meningkat</li> <li>• Firma tidak dapat meningkatkan pelaburan</li> <li>• Mengurangkan daya saing firma</li> <li>• Eksport berkurang</li> <li>• Imbangan pembayaran merosot</li> <li>• Pendapatan negara menurun</li> <li>• Pertumbuhan ekonomi terjejas</li> </ul> <p><b>Kesan positif pemansuhan subsidi</b></p> <ul style="list-style-type: none"> <li>• Mengurangkan perbelanjaan mengurus kerajaan</li> <li>• Kerajaan dapat menggunakan wang peruntukan untuk subsidi bagi perbelanjaan lain</li> <li>• Contohnya perbelanjaan pembangunan / prasarana / contoh membina sekolah / membaiki jalan raya</li> <li>• membuka lebih banyak peluang pekerjaan</li> <li>• meningkatkan kebajikan masyarakat</li> <li>• mengurangkan kebergantungan pengeluar minyak masak kepada subsidi / kerajaan</li> <li>• Pengeluar akan berusaha untuk meningkatkan kecekapan</li> </ul>	
--	--	--

	<ul style="list-style-type: none"> <li>• Menguruskan sumber ekonomi dengan lebih cekap</li> <li>• Meningkatkan R &amp; D</li> <li>• Meningkatkan inovasi produk</li> <li>• Mengurangkan monopoli dalam pengeluaran minyak masak</li> <li>• Meningkatkan persaingan dalam kalangan pengeluar minyak masak</li> <li>• Hasil pengeluaran lebih berkualiti</li> <li>• Memberi manfaat kepada pengguna / menikmati kepuasan dalam penggunaan</li> </ul>	
7(c)	<p>H1 • Pemansuhan subsidi ke atas barangan eksport utama negara menyebabkan kos pengeluaran meningkat</p> <p>H2 • harga barang eksport negara secara relatifnya menjadi mahal</p> <p>H3 • Permintaan barang eksport negara berkurang</p> <p>H4 • jumlah eksport berkurang</p> <p>H5 • keuntungan firma berkurang</p> <p>H6 • Imbangan pembayaran merosot</p> <p>H7 • Pendapatan negara merosot</p>	<p>1</p> <p>1</p> <p>1</p> <p>1</p> <p>1</p> <p>1</p> <p>1</p> <hr/> <p>Mak 5 m</p>



### Hak Cipta Terpelihara.

Tidak dibenarkan mengeluarkan mana - mana bahagian artikel, ilustrasi dan isi kandungan modul ini dalam apa juga bentuk dan cara sama ada secara elektronik, fotokopi, mekanik rakaman atau cara lain sebelum mendapat izin bertulis daripada Jabatan Pendidikan Negeri Perak.

Penerbit :  
©Sektor Pembelajaran,  
Jabatan Pendidikan Negeri Perak  
Jalan Tawas Baru Utara, Tasek Damai,  
30010, Ipoh, Perak Darul Ridzuan  
Tel: 05-292 2745 / 05- 292 3603  
Faks : 05 – 292 3851  
2022

---

