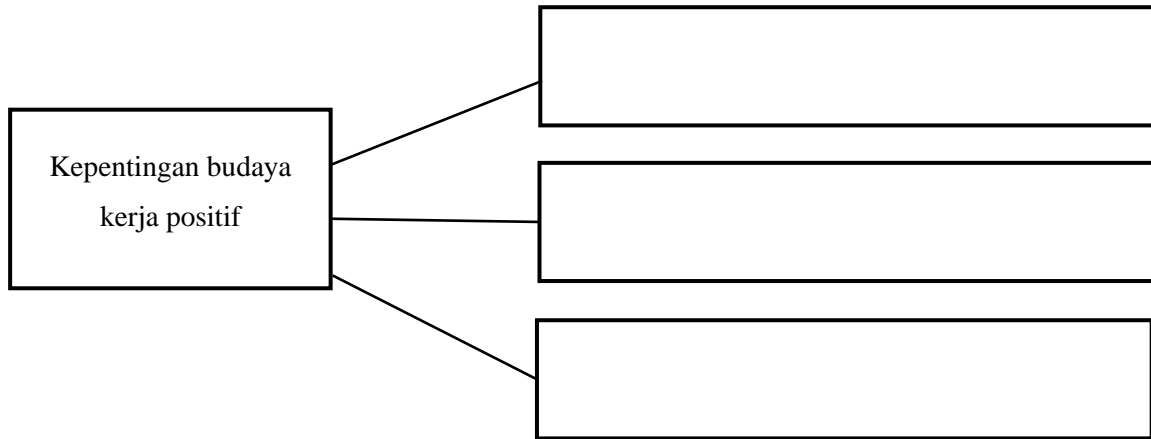


**Bahagian A**

(50 markah)

Jawab semua soalan.

1. Lengkapkan peta minda berikut dengan menyatakan kepentingan budaya kerja positif.



[ 3 markah ]

2. Maklumat berikut adalah maksud bagi suatu istilah dalam kerja sepasukan.

Penglibatan individu yang saling bekerjasama antara satu sama lain, berkongsi matlamat, misi dan visi yang sama

Berdasarkan pernyataan di atas, apakah istilah itu?

.....

[ 1 markah ]

3. Nyatakan kaedah mendapatkan maklum balas Peningkatan Kendiri



i. ....

ii. ....

[ 2 markah ]

4. Rajah 1 menunjukkan gambarajah contoh sumber manusia.

Berdasarkan gambarajah, nyatakan contoh sumber keluarga tersebut.

Gambarajah	Contoh sumber manusia
	<p>i. ....</p>
	<p>ii. ....</p>

Rajah 1

[ 2 markah ]

5. Jadual 1 menunjukkan beberapa situasi yang sering berlaku dalam keluarga.

Nyatakan punca konflik pada situasi itu di ruang jawapan yang disediakan.

Situasi	Punca
<p>Ibubapa Tila sering bergaduh menyebabkan dia melarikan diri dari rumah.</p>	
<p>Chen dan adiknya sering bertengkar kerana perbezaan pendapat.</p>	
<p>Wani merasa sangat tertekan kerana ibubapanya tidak mampu membayar yuran pengajiannya di universiti.</p>	

Jadual 1

[ 3 markah ]

6. Jadual 2 menunjukkan ciri bagi jenis fabrik gentian asli.

Ciri fabrik	A	B
Kekonduksian Haba	Pengalir haba yang baik	Penebat haba yang baik

Jadual 2

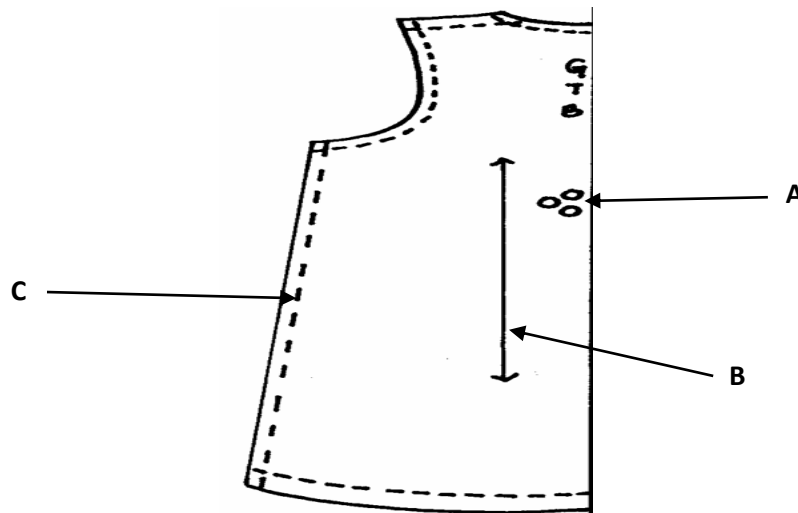
Berdasarkan Jadual 2 di atas, nyatakan jenis gentian fabrik tersebut.

A : .....

B : .....

[ 2 markah ]

7. Rajah 2 menunjukkan pola badan belakang badan.



Rajah 2

Berdasarkan Rajah 2 di atas, nyatakan tanda pola tersebut,

A : .....

B : .....

C : .....

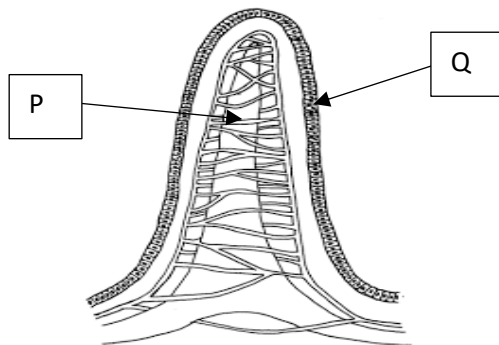
[ 3 markah ]

8. Susun nombor dengan urutan yang betul . Langkah-langkah menjahit rompi. Langkah 2,4, 5 dan 6 telah diberi.

Proses jahitan	Langkah
Sediakan lapik hadapan dan lapik belakang	2
Cantumkan lapik lengan pada garis lubang lengan rompi	5
Jahit lisu cekung bahagian belakang	
Tetapkan lapik lengan	
Jahit kelim rusuk	4
Jahit lapik ke garisan dan siapkan belah berlapik	
Trim basi kelim	6

[ 3 markah ]

9. Rajah 3 menunjukkan keratan vilus.



Rajah 3

Namakan bahagian berlabel :

P : .....

Q : .....

[ 2 markah ]

10. Maklumat berikut adalah biodata tentang Puan Fazilah.

- |  |
|--|
| <ul style="list-style-type: none"><li>• Bekerja sebagai pembantu tadbir</li><li>• Berusia 48 tahun</li><li>• Menghidap penyakit kencing manis dan darah tinggi</li><li>• Gemar memasak dan menjamu rakan</li></ul> |
|--|

Berdasarkan maklumat tersebut, nyatakan **tiga** faktor yang mempengaruhi diet Puan Fazilah.

- (i) .....
- (ii) .....
- (iii) .....

[ 3 markah ]

11. Jadual 3 menunjukkan maklumat tentang Alya yang berusia 18 tahun.

Tinggi	170 cm
Berat	73 kg

Jadual 3

Berdasarkan Jadual 3 , hitungkan Indeks Jisim badan ( BMI) bagi Alya

[ 2 markah ]

12. Jadual 4 menunjukkan maklumat tentang milikan perniagaan.

Milikan X	Milikan Y	Milikan Z
<ul style="list-style-type: none"> <li>• Pemiliknya terdiri dari ahli yang membeli saham dan bilangan ahli sekurang- kurangnya 100 orang</li> <li>• Liabiliti terhad</li> </ul>	<ul style="list-style-type: none"> <li>• Dimiliki oleh seorang pemilik</li> <li>• Liabiliti tidak terhad</li> </ul>	<ul style="list-style-type: none"> <li>• Dimiliki oleh 2-20 orang rakan kongsi</li> <li>• Liabiliti tidak terhad</li> </ul>

Jadual 4

Nyatakan milikan

**X** : .....

**Y** : .....

**Z** : .....

[ 3 markah ]

13. Situasi berikut telah menyebabkan berlaku kemalangan di tempat kerja.

<p><b>S</b> : Rina terlupa menanggalkan kepala hos gas setelah selesai menggunakan dapur memasak.</p> <p><b>T</b> : Haris tergelincir dan kakinya terseliuh kerana terpijak tumpahan minyak di atas lantai</p>
--


Nyatakan punca berlaku kemalangan di tempat kerja berdasarkan maklumat diberi.

**S** : .....

**T** : .....

[ 2 markah ]

14. Rajah 5 menunjukkan satu kemalangan di tempat kerja



Rajah 5

Nyatakan **empat** langkah bagi mencegah kemalangan tersebut.

- (i) .....
- (ii) .....
- (iii) .....
- (iv) .....

[ 4 markah ]

15. Pernyataan berikut adalah tentang satu istilah amalan menjaga kebersihan dan keselamatan makanan.

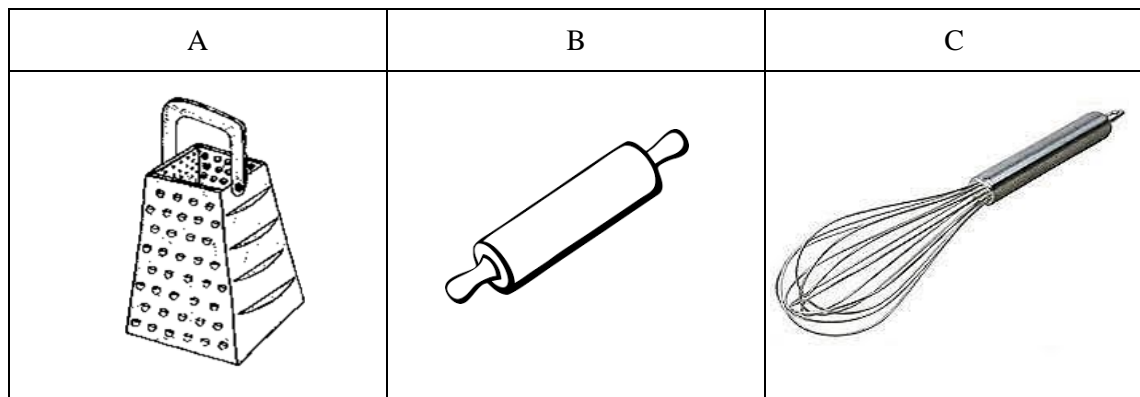
Pergerakan fizikal atau pemindahan bakteria berbahaya daripada seseorang, objek atau tempat ke tempat lain.

Apakah istilah itu ?

.....

(1 markah)

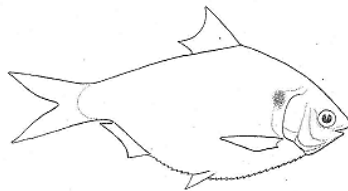
16. Namakan alatan di Rajah 6 yang digunakan dalam penyediaan makanan.



Rajah 6

A	
B	
C	

17. Rajah 7 menunjukkan sejenis ikan.



Rajah 7

Berdasarkan Rajah 7, nyatakan **tiga** cara memilih ikan yang berkualiti.

- i. ....
- ii. ....
- iii. ....

[ 3 markah ]



18. Rajah 8 menunjukkan sejenis bijirin.





Rajah 8

Berdasarkan Rajah 8, nyatakan penyediaan *Mise en Place* bagi bijirin itu.

- i.....
- ii.....
- iii .....

[ 3 markah ]

19. Nyatakan keadah memasak bagi desert berikut pada ruang yang disediakan.

Desert	Kaedah memasak
	
	

[2 markah]

20. Maklumat berikut adalah kos bahan, kos upah dan kos sampingan untuk menghasilkan satu pinggan Spageti Bolognese.

<b>Bil</b>	<b>Perkara</b>	<b>Kos (RM)</b>
1.	Kos Bahan	RM9.50
2.	Kos Upah	RM 3.00
3.	Kos Sampingan	RM 2.50

Berdasarkan Jadual 2,

i. Kirakan kos sajian untuk satu pinggan Spageti Bolognese.

[1 markah]

ii. Kira harga jualan sekiranya ingin mendapat keuntungan sebanyak 10 peratus bagi sepinggan Spageti Bolognese.

[2 markah]

**Bahagian B**

(50 markah)

*Jawab semua soalan.*

- 1 Salina akan mengikuti kursus jangka pendek selama enam bulan di salah sebuah universiti perubatan di Korea.

Maklumat berikut adalah tentang diri Salina dan keadaan di Korea.

- Merupakan seorang pengurus pemasaran di salah sebuah syarikat terkenal di Malaysia.
- Mempunyai masalah alahan kepada suhu yang terlampau sejuk.
- Suka memakai pakaian mengikut fesyen terkini.
- Suhu di Korea adalah antara 4°C hingga 8°C.

- (a) Berdasarkan maklumat tersebut, terangkan faktor yang mempengaruhi pemilihan pakaian Salina semasa berada di Korea.

.....

.....

.....

.....

.....

.....

.....

.....

.....

.....

.....

.....

.....

.....

.....

.....

.....

.....

.....

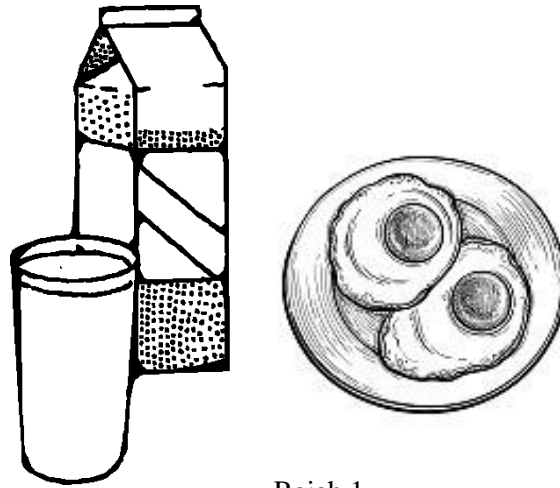
.....

.....

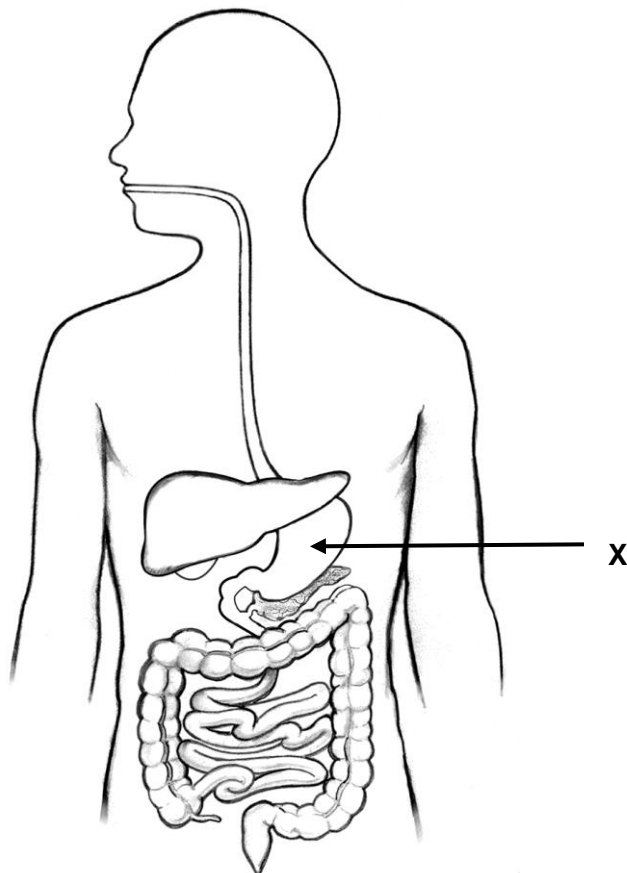
.....



- 2 Rajah 1 menunjukkan makanan yang di makan oleh Zahim untuk sarapan pagi manakala Rajah 2 menunjukkan sistem pencernaan manusia.



Rajah 1



Rajah 2

(a) Huraikan proses pencernaan makanan tersebut di X.

.....

.....

.....

.....

.....

.....

.....

.....

.....

.....

.....

.....

.....

.....

.....

[6 markah]

(b) Cadangkan **empat** cara untuk mengekalkan sistem pencernaan yang sihat.

.....

.....

.....

.....

.....

.....

.....

.....

.....

.....

[4 markah]

- 3 Anak sulung Encik Rahim di dapati lari dari rumah dan kembali semula setelah tiga hari. Guru cuba mencari punca kejadian tersebut dengan menyiasat latar belakang Keluarga Encik Rahim.

Maklumat berikut adalah tentang keluarga Encik Rahim.

- Bekerja sebagai operator kilang dan berpendapatan RM2500.00 sebulan
- Isteri tidak bekerja
- Mempunyai 6 orang anak yang masih bersekolah.
- Sering bertengkar dengan isteri
- Anak-anak sering bercakap kasar dan tidak menghormati isteri serta Encik Rahim.
- Anak-anak sering tidak ke sekolah kerana keperluan belajar yang tidak mencukupi.

- a) Kenal pasti punca berlakunya konflik tersebut.

.....

.....

.....

.....

.....

.....

.....

.....

.....

.....

.....

.....

.....

.....

.....

.....

.....

.....

.....

.....

.....

.....

.....

.....

.....

.....

.....

.....

.....

.....

.....

.....

.....

.....

.....

.....

.....

[9 *markah*]

b) Terangkan **tiga** kesan konflik yang negatif kepada ank-anaknya.

.....

.....

.....

.....

.....

.....

.....

.....

.....

.....

.....

.....

.....

.....

.....

[6 *markah*]



- 4 Puan Saroja pengusaha kek lapis sarawak dari rumah ingin membeli mesin pengadun yang baru bagi menggantikan mesinnya yang rosak.

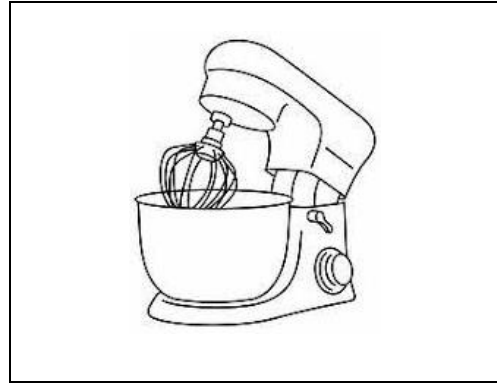
Maklumat berikut didapati oleh Puan Saroja setelah dibuat carian dalam laman sesawang.

**Produk A**



- Diperbuat daripada keluli lembut dan keluli tahan karat
- Isi padu maksimum 10 liter
- Alat ganti mudah diperolehi
- Harga RM699.00

**Produk B**



- Diperbuat daripada plastik dan keluli
- Isi padu 8 liter
- Alat ganti sukar diperolehi
- Harga RM599.00

a) Berdasarkan maklumat tersebut,

- i. Terangkan dari segi aspek penilaian produk bagi kegunaan Puan Saroja dengan membandingkan kedua-dua produk itu.

.....

.....

.....

.....

.....

.....

.....

