

**Bahagian A**

**(50 markah)**

*Jawab semua soalan*



1. Nyatakan **tiga** kepentingan semangat kerja sepasukan.

- i. ....
- ii. ....
- iii. ....

(3 markah)

2. Jadual 1 menunjukkan contoh sumber keluarga.

Nyatakan jenis sumber keluarga berdasarkan contoh sumber tersebut.

Contoh sumber	Jenis sumber
	
	

Jadual 1

(2 markah)

3. Pernyataan berikut merupakan konflik yang berlaku dalam keluarga Hanim.

Hanim telah lari dari rumah kerana ibu dan bapanya sering bertengkar.

Nyatakan **dua** kesan negatif kepada Hanim.

- i. ....
- ii. ....

(2 markah)

4. Maklumat berikut adalah tentang Encik Mukmin

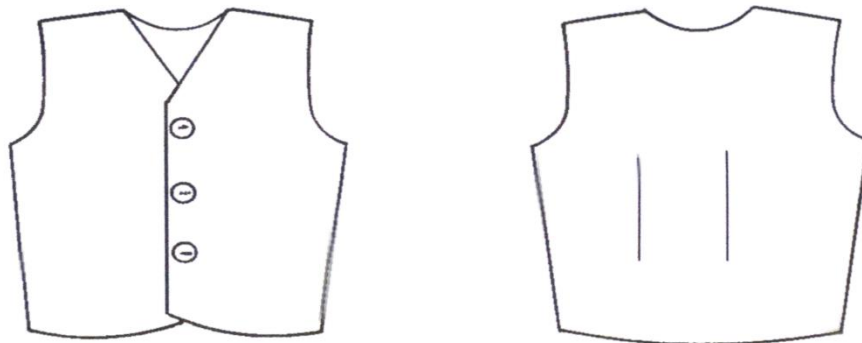
- Encik Mukmin seorang jurutera syarikat automobil ditugaskan untuk menghadiri kursus automotif di Jepun
- Sekarang suhu di Jepun adalah bawah  $-2^{\circ}\text{C}$
- Encik Mukmin mempunyai masalah alahan kepada suhu yang terlalu sejuk

Nyatakan faktor yang mempengaruhi pemilihan pakaian Encik Mukmin semasa beliau berada di Jepun.

- i. ....
- ii. ....


(2 markah)

5. Rajah 1 menunjukkan pandangan hadapan dan pandangan belakang sehelai rompi



Rajah 1

Berdasarkan Rajah 1, lukis **tiga** tanda pola yang **betul** pada pola belakang rompi tersebut.



(3 markah)


6. Berikut adalah langkah menjahit sehelai rompi yang tidak mengikut urutan.

Susun langkah itu mengikut urutan yang betul dengan menulis **2, 3, 4, dan 5** pada ruang yang disediakan. Langkah **1, 6 dan 7** diberi.

Proses Jahitan	Langkah
Jahit lisu cekung badan belakang	1
Jahit lapik ke garis leher dan siapkan belah berlapik	
Cantumkan lapik lengan pada garis lubang lengan rompi	
Jahit kelim rusuk	
Sediakan lapik hadapan dan lapik belakang	
Trim basi kelim	6
Tetapkan lapik lengan	7

(4 markah)

7. Rajah 2 menunjukkan sumber makanan sejenis nutrien.



Rajah 2

Nyatakan kesan kekurangan pengambilan nutrien tersebut

- i. ....
- .....
- ii. ....
- .....

(2 markah)

8. Jadual 2 merupakan maksud bagi istilah dalam bidang makanan dan pemakanan.

Nyatakan istilah tersebut pada ruang yang disediakan.

Maksud	Istilah
Proses serapan unit ringkas nutrien melalui vilus ke dalam aliran darah dan sistem limfa untuk dihantar ke sel tubuh	i. ....
Pemangkin organik yang mengawal atau mempercepat tindak balas kimia dalam organisma hidup.	ii. ....

Jadual 2

(2 markah)

9. Berikut adalah kos projek untuk menyiapkan 20 helai pakaian.

Kos bahan	RM 525.30
Kos upah	RM 145.00
Kos overhead	RM 55.70

a) Hitung kos sehelai pakaian tersebut.

(2 markah)

b) Hitung harga jualan sehelai pakaian itu dengan keuntungan 30%.

(2 markah)

10. Nyatakan **dua** tujuan menyediakan rancangan perniagaan.

- i. ....
- ii. ....

(2 markah)

11. Jadual 3 merupakan pernyataan Seksyen yang terkandung dalam Peraturan Keselamatan dan Kesihatan di Tempat Kerja Mengikut Akta Keselamatan dan Kesihatan Pekerjaan 1994 (Akta 514).

Nyatakan seksyen tersebut pada ruang yang disediakan.

Pernyataan	Seksyen
a) Pekerja turut bertanggungjawab dalam memberi perhatian yang munasabah bagi memelihara keselamatan dan kesihatan dirinya dan orang lain semasa bekerja.	
b) Menghasilkan budaya kerja yang selamat dan sihat dalam kalangan semua pekerja dan majikan	

Jadual 3

(2 markah)

12. Rajah 3 menunjukkan barang-barang yang akan diangkat masuk ke rumah baru.



Rajah 3

Nyatakan aspek pergerakan sebelum mengangkat dan memindahkan barang-barang itu.

- i. ....
- ii. ....

(2 markah)

13. Maklumat berikut merupakan enunjukan amalan pengendali makanan dalam pengendalian dan penyediaan makanan. Setiap pengendali makanan mesti mematuhi Peraturan-peraturan Kebersihan Makanan 2009 (PPKM).

- |   |
|---|
| <ul style="list-style-type: none"> <li>• Latihan pengendali makanan</li> <li>• Pemeriksaan kesihatan</li> <li>• Amalan Kebersihan diri</li> </ul> |
|---|

Senaraikan **dua** amalan selain daripada amalan di atas.

- i. ....
- ii. ....

(2 markah)

14. Jadual 4 menunjukkan situasi yang boleh menyebabkan pencemaran makanan. Nyatakan jenis pencemaran makanan pada ruang yang disediakan.

Situasi	Jenis pencemaran Makanan
Terdapat kulit telur di dalam mee goreng semasa memasak	a)
Penggunaan asid borik yang berlebihan dalam pembuatan bebola ikan	b)

Jadual 4

(2 markah)

15. Puan Ani ingin menjalankan perniagaan dalam bidang bakeri. Beliau perlu mendapatkan maklumat tentang peralatan membakar kek untuk perniagaannya.





Nyatakan **tiga** aspek yang perlu dititik beratkan semasa membuat pembelian peralatan tersebut.

- i. ....
- ii. ....
- iii. ....

(3 markah)

16. Jadual 5 merupakan dua peralatan memasak makanan

Nyatakan ciri hasil masakan ikan dengan menggunakan peralatan tersebut pada ruang yang disediakan.

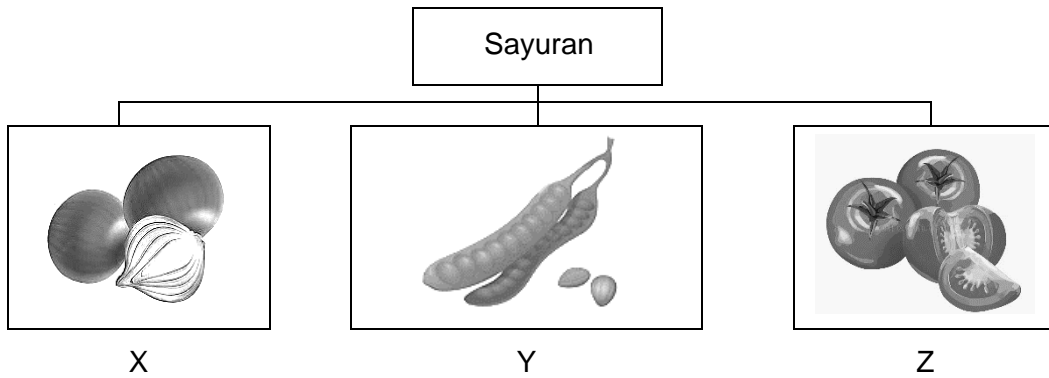
Peralatan	Ciri hasil masakan
	
	

Jadual 5

(2 Markah)

17. Rajah 5 menunjukkan klasifikasi sayuran.

Nyatakan klasifikasi sayuran itu



Rajah 5

Nyatakan klasifikasi sayuran itu :

X: .....

Y: .....

Z: .....

(3 markah)

18. Pemilihan ikan yang segar adalah penting bagi memastikan ikan selamat dimakan. Terangkan **tiga** cara pemilihan ikan segar.

i. ....

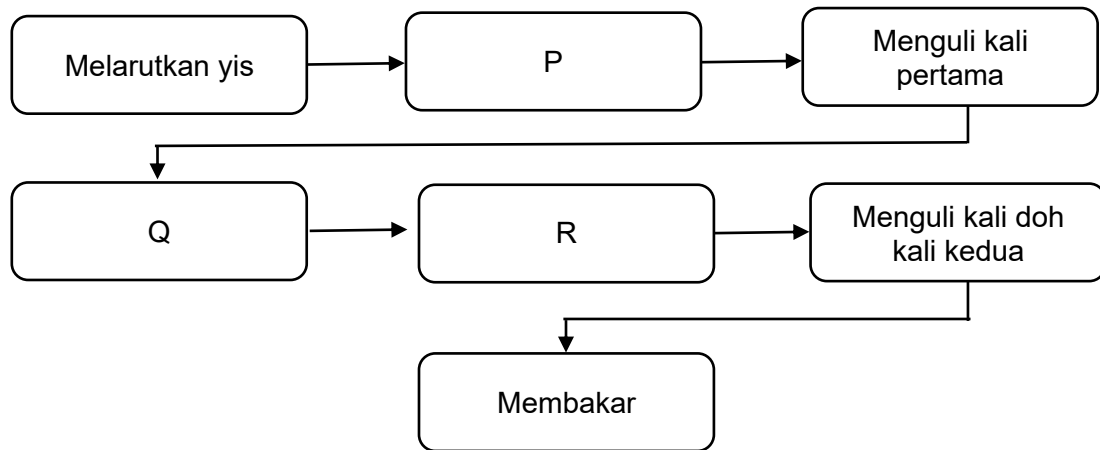
ii. ....

iii. ....

(3 markah)

19. Rajah 6 menunjukkan langkah asas dalam penyediaan roti.





Rajah 6

Nyatakan langkah P, Q, dan R.


P: .....

Q: .....

R: .....

(3 markah)

20. Rajah 7 menunjukkan sejenis pasta.



Rajah 7

Nyatakan cara penyimpanan pasta itu.

i. ....


ii. ....

(2 markah)

(50 markah)

Jawab semua soalan

1. Rajah 8 di bawah menunjukkan satu ruang yang ada di dalam tempat kediaman Puan Mariam.



Rajah 8

- a) Huraikan faktor-faktor yang mempengaruhi keselesaan ruang tempat kediaman rumah Puan Mariam.

.....

.....

.....

.....

.....

.....

.....

.....

.....

.....

.....

.....

.....

.....

.....

.....

.....

.....

.....

.....

.....

.....

.....

.....

.....

.....

.....

.....

.....

.....

.....

.....

.....

.....

.....

.....

.....

.....

.....

.....

.....

.....

.....

.....

.....

.....

(8 markah)

b) Cadangkan **dua** alat teknologi yang dapat memberi pengudaraan yang lebih baik pada ruang itu.

- i. ....
- ii. ....

(2 markah)

2 Rajah 9 menunjukkan situasi sebuah dapur restoran.



Rajah 9

a) Berdasarkan Rajah 9,

i. Kenal pasti kemungkinan punca berlakunya kemalangan di dapur tersebut.

.....

.....

.....

.....

.....

.....

.....

.....

.....

.....

.....

.....

.....

.....

.....

.....

.....

.....

.....

.....

.....

.....

.....

.....

.....

.....

.....

.....

.....

.....

.....

.....

.....

.....

.....

.....

.....

.....

.....

.....

.....

.....

(8 markah)

ii. Cadangkan cara untuk mengelakkan dari berlakunya kemalangan itu.

.....

.....

.....

.....

.....

.....

.....

.....

.....

.....

(4 markah)

b) Nyatakan **tiga** kepentingan persekitaran tempat kerja yang selamat.

.....

.....

.....

.....

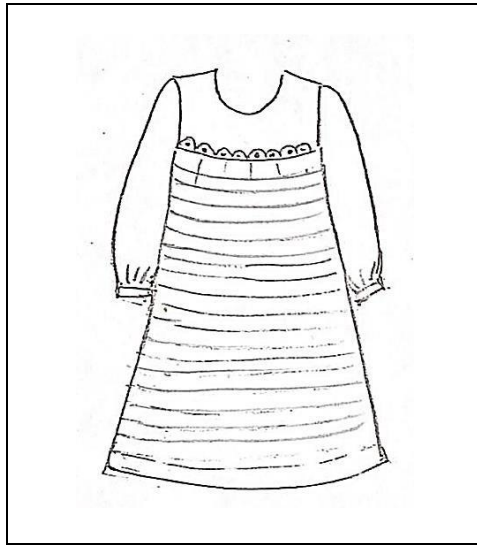
.....

.....

.....

(3 *markah*)

3. Rajah 10 menunjukkan lakaran stail pakaian yang dibeli secara dalam talian oleh Ayesha yang mempunyai bentuk badan Rendah dan Kurus. Dia ingin membeli sehelai blaus dengan pesanan secara atas talian.



Rajah 10

Berdasarkan Rajah 10

- a) Terangkan kesesuaian stail pakaian itu pada Ayesha.

.....

.....

.....

.....

.....

.....

.....

.....

.....

.....

.....

.....

.....

.....

.....

.....

.....

.....

.....

.....

.....

.....

.....

.....  
.....  
.....  
.....  
.....  
.....  
.....  
.....  
.....  
.....  
.....  
.....

(8 markah)

b) Cadangkan **dua** hiasan yang sesuai untuk blaus pilihan Ayesha

.....  
.....

(2 markah)



4. Jadual 6 merupakan hasil masakan dua peserta pertandingan memasak krim puff. Sebagai juri, anda diminta untuk menilai hasil masakan tersebut berdasarkan kriteria yang ditetapkan.

Peserta A	Peserta B
Hasil masakan: <ul style="list-style-type: none"><li>• Bentuk sekata</li><li>• Tidak berongga</li><li>• Manis</li><li>• Kulit coklat keperangan</li><li>• Kulit <i>puff</i> keras</li></ul>	Hasil masakan: <ul style="list-style-type: none"><li>• Bentuk sekata</li><li>• berongga</li><li>• Manis berkrim</li><li>• Kulit coklat cerah</li><li>• Kulit <i>puff</i> lembut</li></ul>

Jadual 6

- a) Huraikan kriteria masakan peserta tersebut dengan membandingkan kedua-dua hasil masakan itu.

.....

.....

.....

.....

.....

.....

.....

.....

.....

.....

.....

.....

.....

.....

.....

.....

.....

.....

.....

.....

.....

.....

.....

.....

.....

.....  
.....  
.....  
.....  
.....  
.....  
.....  
.....  
.....  
.....  
.....  
.....  
.....  
.....  
.....  
.....  
.....  
.....  
.....  
.....  
.....  
.....

(12 markah)

b) Tentukan hasil masakan yang mengikut kriteria dengan baik.

.....

(1 markah)

c) Nyatakan dua *dessert* menggunakan pastri selain pastri di atas.

i. ....

ii. ....

(2 markah)

**KERTAS SOALAN TAMAT**