

Bahagian A
[50 markah]

1. Pernyataan di bawah adalah mengenai satu istilah semangat kerja sepasukan.

Penglibatan individu yang saling bekerjasama antara satu sama lain, berkongsi matlamat serta visi dan misi yang sama

Apakah istilah itu ?

.....

[1 markah]

2. Pernyataan berikut adalah tentang keluarga Encik Ahmad

Bekerja sebagai pembantu makmal di sebuah sekolah dan berpendapatan RM1800.00 sebulan. Pada waktu malam beliau berniaga burger di hadapan rumahnya. Isterinya pula mengambil upah menjahit pakaian

Berdasarkan pernyataan itu, nyatakan sumber pendapatan Encik Ahmad

- a) Sumber utama :.....
b) Sumber pendapatan alternatif :.....

[2 markah]

3. Jadual 1 menunjukkan jenis pencahayaan dan keterangan tentang jenis pencahayaan.

Jenis Pencahayaan	Keterangan
a) X	Memancar terus ke sasaran
b) Y	Cahaya pemalikan dari siling atau dinding
c) Z	Cahaya yang menyeluruh untuk sesuatu ruang

Jadual 1

Nyatakan X, Y dan Z


X :

Y :

Z :

[3 markah]

4. Rajah 1 menunjukkan, atlet memanah berkuda menjalani latihan.



Rajah 1

- a) Nyatakan satu contoh fabrik yang sesuai dipakai oleh atlet itu.

.....

[1 markah]

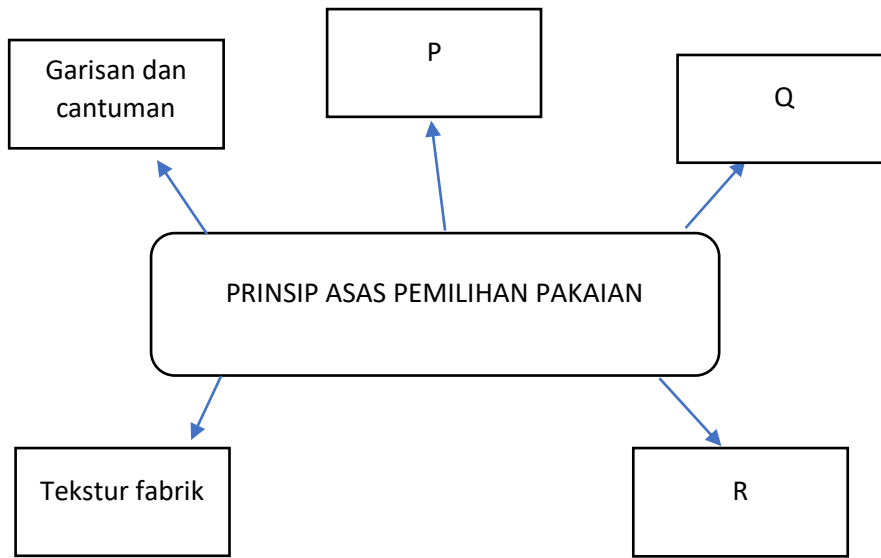
- b) Nyatakan 2 ciri fabrik di (a)

i.

ii.

[2 markah]

5. Rajah 2 menunjukkan prinsip asas pemilihan pakaian.



Rajah 2

Lengkapkan P, Q, dan R


P :

Q :

R :

[3 markah]

6. Rajah 3 menunjukkan satu aktiviti dalam jahitan yang dilakukan oleh Puan Anis.



Rajah 3

Nyatakan 2 alatan yang digunakan bagi melaksanakan aktiviti itu.

- i)
- ii)

[2 markah]

7. Jadual 2 menunjukkan aktiviti mengenal fabrik yang dibeli boleh dikenali dengan beberapa cara.

Cara	Huraian
X	Melihat tepi fabrik
Y	Memerhati tenunan, warna dan corak fabrik

Jadual 2

Berdasarkan huraian, nyatakan cara X dan Y.

X :

Y :

[2 markah]




8. Anemia boleh berlaku disebabkan oleh kekurangan pengambilan beberapa jenis nutrien. Nyatakan dua nutrien itu.

i)

ii)

[2 markah]

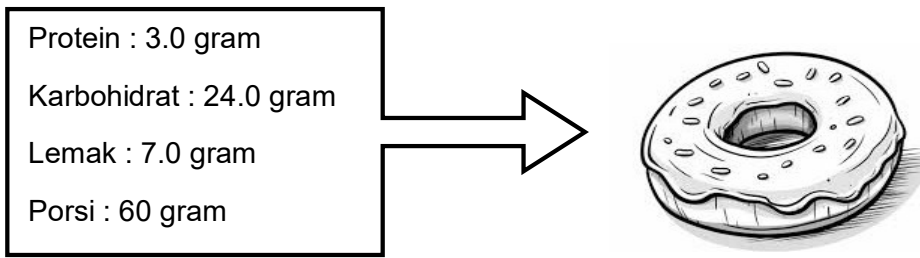
9. Rajah 4 menunjukkan jenis kumpulan makanan.

Makanan	Jenis Kumpulan Makanan
	<p>i.....</p>
	<p>ii.....</p>
	<p>iii.....</p>

Rajah 4

[3 markah]

10. Berikut adalah maklumat tentang komposisi nutrien dalam setiap 100g Donut.



Hitung nilai tenaga lemak jika EP ialah 100%.

[2 markah]

11. Berikut adalah maksud bagi satu istilah dalam perniagaan.

Individu yang melakukan kegiatan membeli, menghasilkan barang Baharu, atau membuat pengubahsuaian dan memasarkannya untuk mendapat keuntungan.

Apakah istilah yang berkaitan dengan maksud itu?

.....

[1 markah]

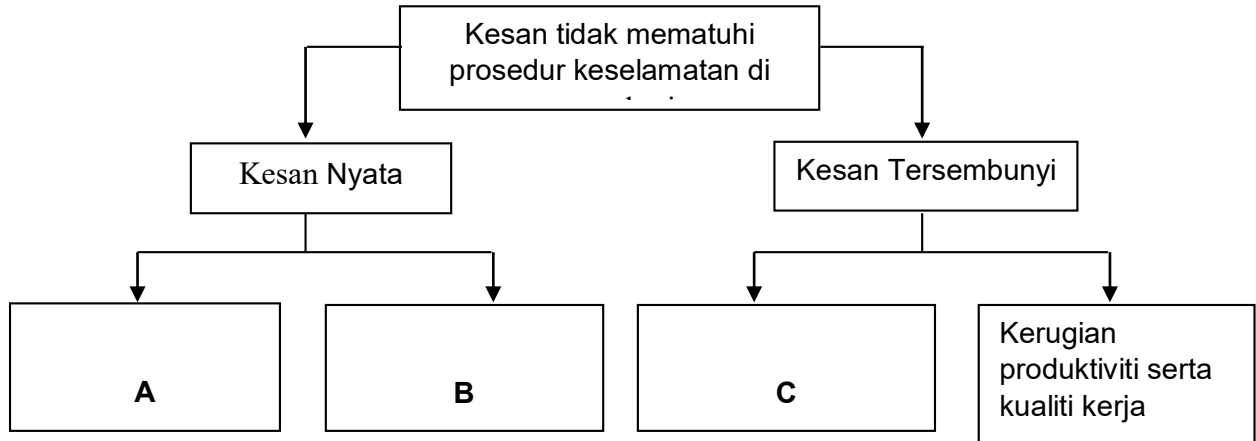
12. Jadual 3 adalah tentang bentuk dan ciri organisasi perniagaan. Nyatakan jenis milikan perniagaan itu.

Pernyataan	Jenis Milikan
Modal diperolehi daripada simpanan sendiri atau pinjaman daripada saudara-mara atau bank.	
Modal disumbangkan oleh rakan kongsi mengikut kadar yang dipersetujui dalam perjanjian.	
Modal diperolehi melalui jualan saham kepada orang persendirian yang bilangannya tidak melebihi 50 orang.	

Jadual 3

[3 markah]

13. Jadual 4 menunjukkan kesan tidak mematuhi prosedur keselamatan di tempat kerja dalam industri hospitaliti.



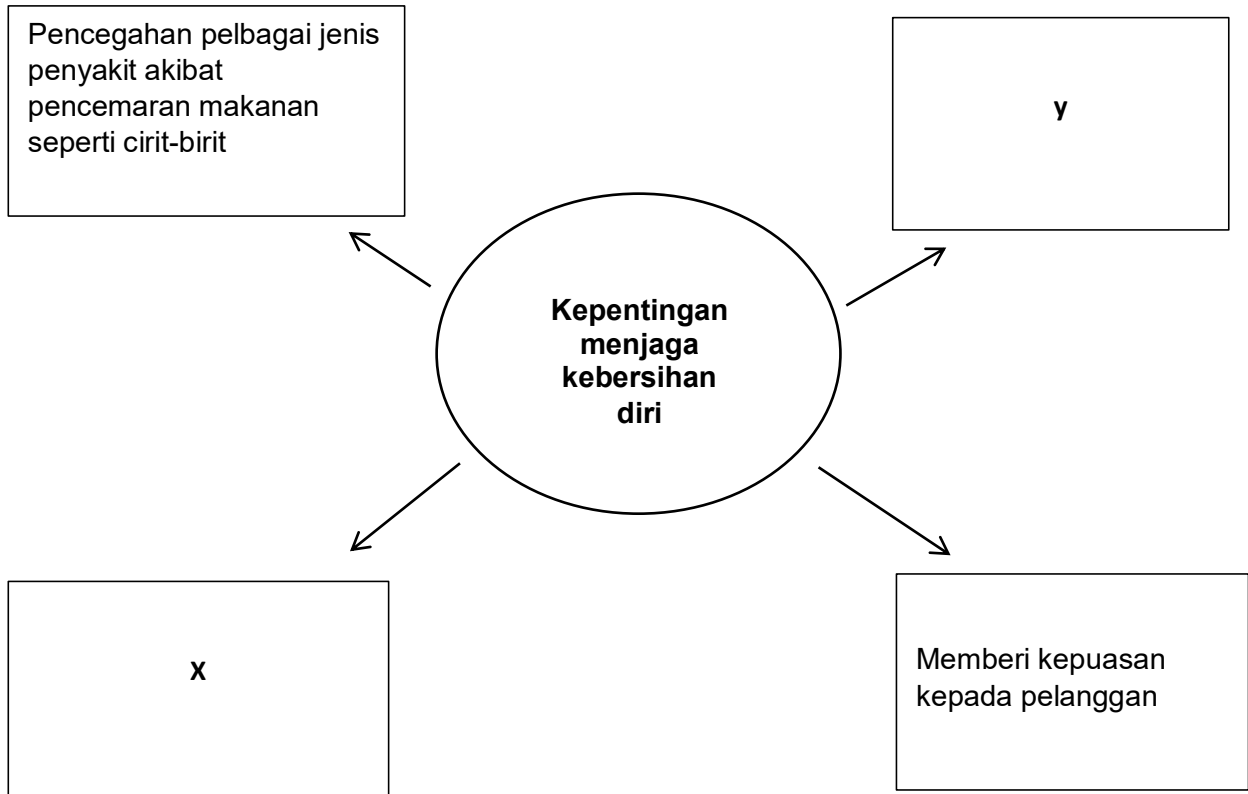
Jadual 4

Berdasarkan Jadual 4, lengkapkan contoh bagi kesan nyata dan kesan tersembunyi di A, B dan C :

- A :
- B :
- C :

[3 markah]

14. Rajah 5 menunjukkan peta buih tentang kepentingan menjaga kebersihan diri dalam bidang penyediaan makanan.



Rajah 5

Nyatakan X dan Y:

X :

Y :

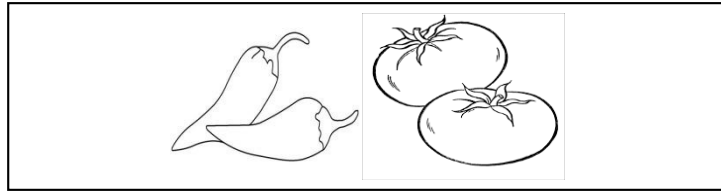
[2 markah]

15. Nyatakan tiga kepentingan menjaga keselamatan di tempat kerja.

- i.
- ii.
- iii.

[3 markah]

16. Rajah 6 menunjukkan sejenis sayur-sayuran.




Rajah 6

Nyatakan **TIGA** prosedur penyimpanan sayuran itu.

- i.
- ii.
- iii.

[3 markah]

17. Rajah 8 menunjukkan bahagian potongan utama ayam.



Rajah 8

Berdasarkan rajah 8, nyatakan bahagian potongan W, X, Y dan Z.

- W :
- X :
- Y :
- Z :

[4 markah]

18. Pernyataan di bawah merujuk kepada kriteria pemilihan sos.

Kriteria Pemilihan Sos	Ciri Pemilihan sos
Snek	<ul style="list-style-type: none"> • Pemilihan sos savouri sangat sesuai dengan hidangan ini • Bahan utama berasaskan ikan dan kerang – kerangan seperti keropok lekor
X	<ul style="list-style-type: none"> • Pemilihan sos berdasarkan padanan pudding caramel atau puding roti • Sos manis merupakan pilhan utama
Y	<ul style="list-style-type: none"> • Sos manis lebih sesuai dihidangkan sekiranya bahan utama hidangan terdiri daripada sayur-sayuran

Berdasarkan pernyataan, apakah kriteria X dan Y.

X :

Y :

[2 markah]

19. Rajah 9 di bawah adalah merupakan sajian desert.



Rajah 9

Nyatakan dua bahan utama menyediakan sajian desert itu.

i)

ii)

[2 markah]

20. Jadual 5 menunjukkan senarai kos untuk menyediakan sebiji *Brownies*.

Bil	Diskripsi	Kos (RM)
1	Kos bahan	25.00
2	Kos upah	6.00
3	Kos sampingan	2.00

Jadual 5

- a) Hitung kos projek dan kos jualan sekiranya keuntungan adalah sebanyak 40%?

[4 markah]

Bahagian B

[50 markah]


1. Ibu anda bercadang untuk memasarkan produk mini pizza dingin bekunya. Berikut adalah sebahagian daripada maklumat utama makanan itu.

Perkara	Maklumat
Jenis makanan	Mini Pizza Sayur – sayuran
Alamat	Selera Tok Ibu 48, Jalan Seroja , Kampung Bayu Aman, 13050 Butterworth, Pulau Pinang
Harga	RM15.00

Berdasarkan maklumat itu, lakar dan labelkan label makanan yang kreatif untuk mini pizza itu mengikut peraturan – peraturan makanan 1985.

[10 markah]

2. Puan Susan sekeluarga telah mengalami keracunan makanan setelah makan tengah hari di sebuah kedai makan. Rajah 1 menunjukkan ruang dapur di kedai makan pada hari kejadian.



Rajah 1

a) Berdasarkan rajah 1 di atas, terangkan **tiga** punca pencemaran makanan dan cadangkan cara untuk mengatasi masalah itu.

.....

.....

.....

.....

.....

.....

.....

.....

.....

.....

.....

.....

.....

[9 markah]

b) Nyatakan **tiga** bakteria yang menyebabkan pencemaran makanan itu.

i.....

ii.....

iii.....

[3 markah]

c) Senaraikan **tiga** jenis pencemaran makanan

i.....

ii.....

iii.....

[3 markah]

3. Anda diminta oleh guru SRT kelas anda untuk membuat satu pemerhatian ke atas ikan dengan menggunakan empat kaedah memasak. Bincangkan ciri hasil masakan dan kelebihan setiap kaedah tersebut.

.....

.....

.....

.....

.....

.....

.....

.....

.....

.....

.....

.....

.....

.....

.....

.....

.....

.....

.....

.....

.....

[12 markah]

b. Berikan tiga cara haba dipindahkan

- i.
- ii.
- iii.

[3 markah]

4.

Nama Perniagaan : : Harum Laundry
Alamat Perniagaan : No 2 Jalan Anggerik Mokara , Kota Kemuning Seksyen 31, 40460 Shah Alam Selangor
Bentuk Perniagaan : Milikan Tunggal
Aktiviti Utama : Perkhidmatan Mendobi

Rajah 2

Berdasarkan pernyataan rajah 2 di atas;

a) Terangkan prosedur memulakan perniagaan

.....
.....
.....
.....
.....
.....
.....
.....
.....
.....
.....
.....
.....
.....
.....
.....
.....
.....
.....

[8 markah]

b) Namakan 2 agensi yang membantu usahawan dari segi pembiayaan

i).....

ii).....

[2 markah]

KERTAS PEPERIKSAAN TAMAT

